

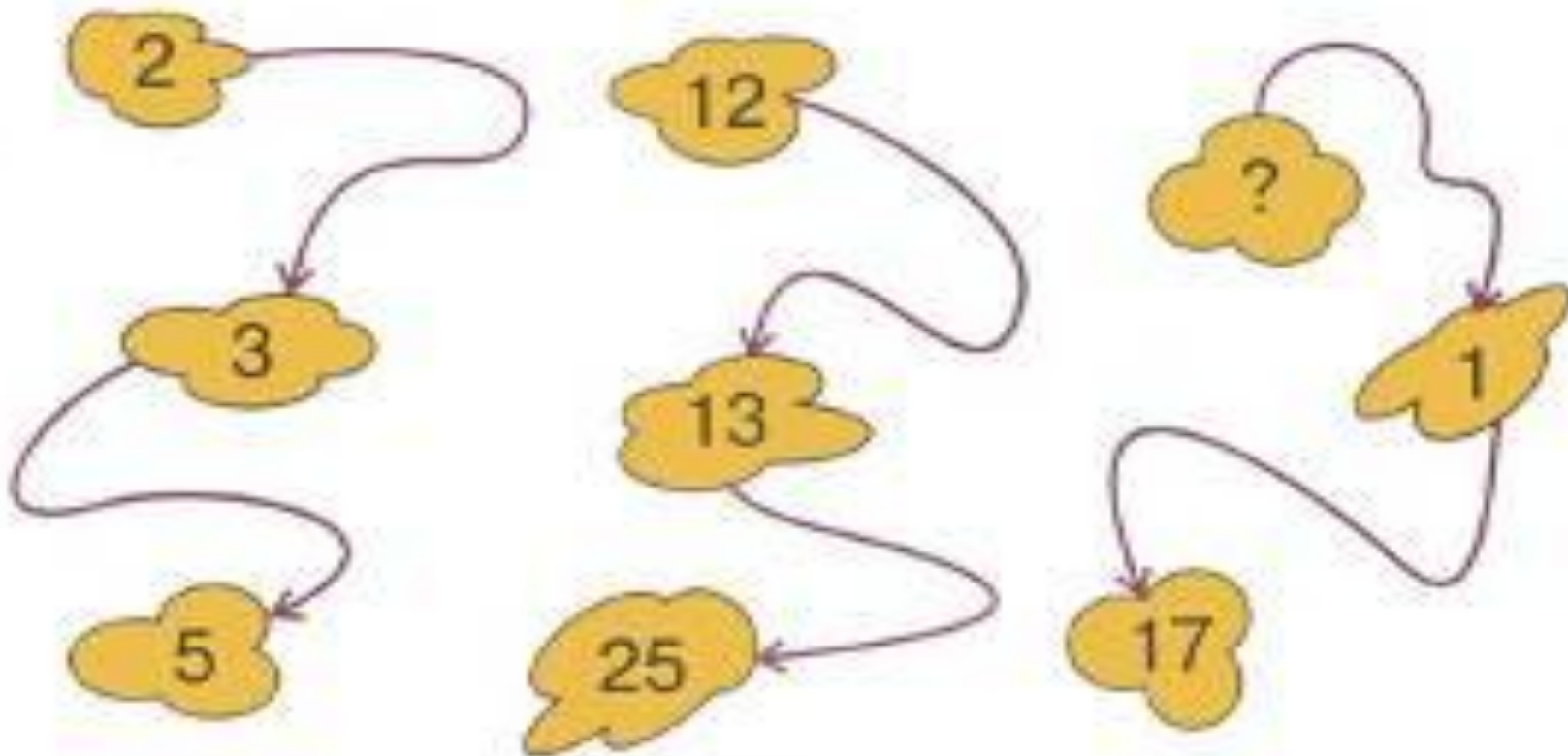



Математическая разминка

Подготовила: учитель математики
МКОУ «СОШ с. Макарово»
Потапова Галина Сергеевна




Определи закономерность и найди неизвестное число








**Какая буква должна быть следующей
в этой последовательности**

О Д Т Ч П Ш С...



**Посмотрите на рисунок и скажите,
какая фигура здесь лишняя**





**В шестнадцати клетках каждой таблицы
записаны вразнобой числа от 1 до 20.**

**Это означает, что какие-то четыре числа в каждой таблице
пропущены. Без помощи ручки или карандаша, только глазами
отследите все числа и выпишите недостающие.**

Ответ: 3,6,11, 17

1	16	8	13
12	9	19	2
20	4	14	18
7	15	10	5

Ответ: 1, 9, 12, 19

2	11	3	8
20	6	14	16
18	17	7	5
10	4	15	13



Разгадайте внешне похожие ребусы

1ОЧКА

одиночка

1БОР

разбор

Ш1А

школа

Ф1А


фраза

2Д

парад

ПО2Л

подвал



**проанализировать взаимосвязи между
имеющимися элементами правой и левой
половинок канона, выявить их и по аналогии
выстроить недостающую цепочку**

Утро	з
День	о
Вечер	?

80	о
90	п
100	?

Буква У

Буква Т