


Потепалов Д.В.

Смутное время (1598-1613

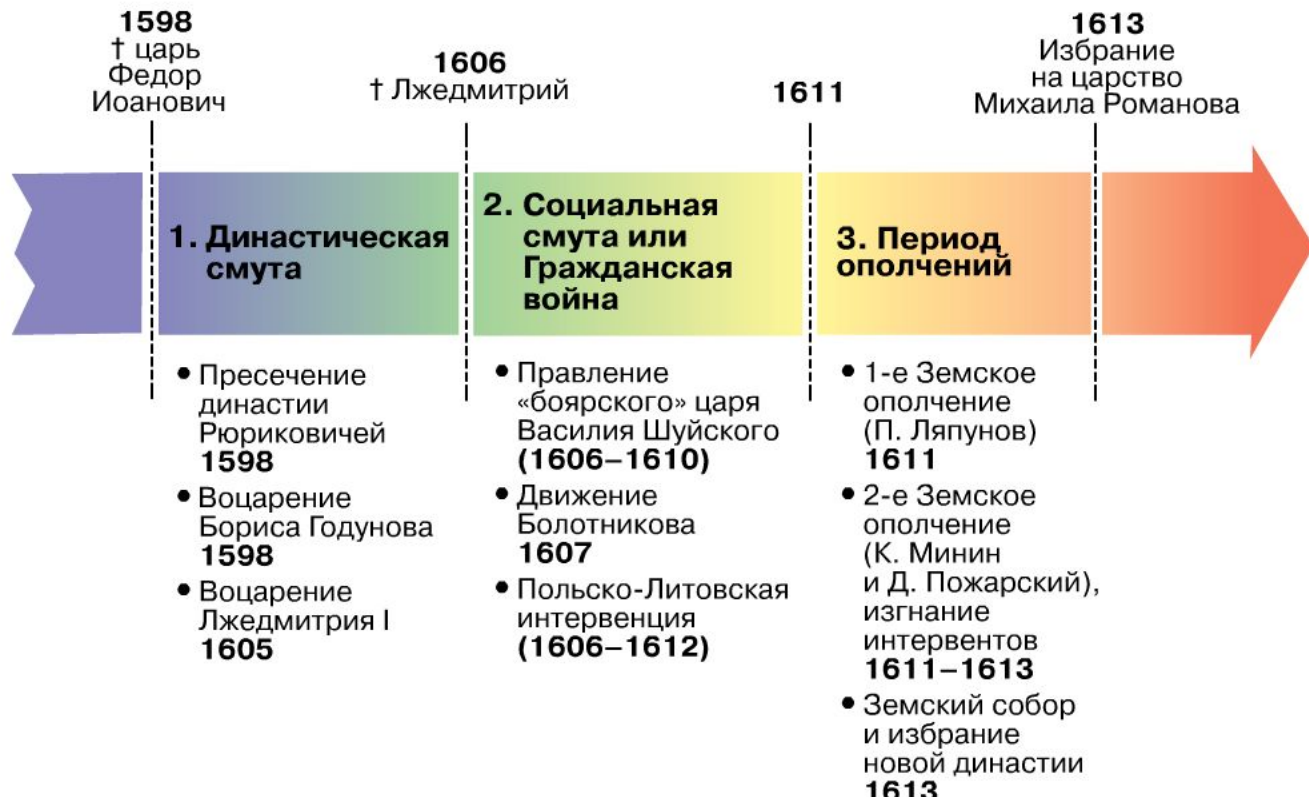
гг.)



ХРОНИКА СОБЫТИЙ:

Борис Годунов (1598-1605) → Лжедмитрий I (Григорий (Юрий) Отрепьев) (1605-1606) → Василий Шуйский, боярский царь (1606-1610) → Лжедмитрий II (1607-1610) "Тушинский вор" (местечко Тушино) → Семибоярщина (1610-1612) → воцарение Романовых в 1613. Михаил Федорович Романов (внучатый племянник первой жены Ивана IV), его отец — патриарх Филарет.

Смутное время (по С.Ф. Платонову)



Борис Годунов (1598 -1605)

Русский царь. В **1598** году - избран на Земском соборе.

После смерти Бориса Годунова в России начался период **Смутного времени (1605-1613)** – соперничества боярских семейств в борьбе за престол.

1602 г. - голод, организовал государственные работы, раздавал хлеб, разрешил холопам уходить от хозяев, чтобы прокормиться.

1603-1604 гг. - восстание под предводительством **Хлопка Косолапого**.

в **1604** г. - вторжение, предпринятое королем Польши. Хотел основать новую династию.

Федор Годунов (1589 - 10.06.1605 гг.)

При приближении к Москве Лжедмитрия I свергнут и убит вместе с матерью.



Борис Годунов
1598-1605

Василий Шуйский (1606 - 1610)


Русский, боярский царь, сын князя Шуйского И.А. Обязался сохранить привилегии бояр.

1606-1607 гг. - восстание **Ивана Болотникова**, (был связан с Лжедмитрием II). Разгромили восставших в Туле.

1607 г. - "Уложение о крестьянах« (беглых искать 15 лет).

1609 г. - договор со **Швецией**. Россия отказывалась претензий на Балтийское побережье, а шведы дали войска на борьбу с Лжедмитрием II. **1609** г. - **Речь Посполитая** объявила войну России→ интервенция.

Василий Шуйский (1606-1610)



Лжедмитрий I (1605-1606)

Русский царь. Самозванец, выдававший себя за спасшегося царевича Дмитрия - младшего сына Ивана Грозного. Обещал ввести **католичество**, отдать русские земли полякам.

Лжедмитрий II (1607-1610) (Михаил Молчанов?)

В войске Лжедмитрия II поляки если не преобладали численно, то играли ведущую роль. Марина Мнишек признала его своим мужем. Обещал распространить католичество. По названию своей резиденции Лжедмитрий II получил закрепившееся за ним имя **Тушинского Вора**.



Лжедмитрий I.
1605-1606



Лжедмитрий II
1607-1610

Семибоярщина (1610-1612)

Боярское правление, состоящее из семи бояр (во главе с Ф.И. Мстиславским).

Летом **1610** гг. – переворот. Василия Шуйского постригли в монахи (умер в 1612 г. польском плену).

Август **1610** г. - призвали на русский трон сына польского короля - **Владислава**. 27 августа **1610** г. Москва присягнула **Владиславу**. Патриарх **Гермоген** призвал к борьбе против захватчиков. Последовали два с половиной года польской оккупации и правления «семибоярщины». Наконец, в **1613** г. собрался Земский собор, избравший на царствование **Михаила Романова**.



В.Потепалов, 2020

**Михаил
Романов
(1613-1645)**

Избран царем на
Земском
соборе.

Первый царь
новой династии



Примечания.

Борис Годунов (1598-1605). В 1584 г., после смерти Ивана IV, его наследником стал сын **Федор I** (правил в 1584–1598), который препоручил государственные дела и повседневные тяготы правления в России своему шурину, опричнику **Борису Годунову** (1552–1605), женившемуся на дочери **Малюты Скуратова-Бельского** **Марии** в 1571 году. В 1576 году - кравчий, между 1578 - 1580 годами пожалован в бояре. В 1580 году царевич **Фёдор Иванович** женился на сестре Бориса **Ирине**. В 1584 году - конюший, ближний боярин и наместник Рязанский и Астраханский. В ходе борьбы с членами регентского совета, назначенного **Иваном Грозным** для опеки над слабоумным **Фёдором**, стал фактически правителем государства при нём.

Борис, как опекун **Федора**, имел свой отдельный двор, и многое сделал для учреждения **патриаршества** в Русской православной церкви (1589). У **Федора I** не было детей, и когда в 1591 при невыясненных обстоятельствах погиб его младший брат **Дмитрий**, династия **Рюриковичей** пресеклась.

Примечания.

Борис оставался опекуном до смерти Федора в 1598 г., а затем специально созванный Земский собор избрал на царствование Бориса.

Царствование Бориса (1598–1605) было омрачено неурожаями, голодом и эпидемиями, в чем народу виделись признаки Божьего гнева на узурпацию Годуновым царской власти. После удаления от власти бояр, которых он считал заговорщиками, Борис вынужден был отражать вторжение, предпринятое в 1604 г. королем Польши и спровоцированное самозванцем, который объявил себя спасшимся царевичем Дмитрием. Вскоре к полякам присоединились казаки Малороссии и Дона. Царь внезапно скончался в 1605 г., а его войска перешли на сторону самозванца. Недовольные правлением Бориса бояре убили жену и сына царя, Федора II, и после взятия в июне 1605 г. поляками Москвы возвели на престол Лжедмитрия.

Федор Годунов (1589 - 10.06.1605)

*По воспоминаниям современников, **Федор** был полный телом, очень сильный, румяный и черноглазый юноша, от природы одаренный умом и способностями. Борис Годунов, сам не имевший почти никакого образования, постарался дать сыну совсем не то воспитание, которое по обычаю получали дети московских государей. Он выписал для сына иностранных учителей и рано приучал юношу к пониманию правительственных дел. Федор известен, как составитель «Чертежа земли Московской» - крупнейшей карты России начала XVII в. Судя по сохранившимся официальным документам, отец ничем не пренебрегал, чтобы укрепить за ним престол, и еще при жизни именовал Федора "великим государем".*

*Годунов **Фёдор Борисович** был задушен, так же была убита его мать, а сестру-красавицу, обещанную самозванцем, заточили в монастырь.*

Лжедмитрий I (1605-1606) Его происхождение неясно, есть только версии. Был женат на польской пане, католичке - **Мнишек Марине Юрьевне**. Правительство Годунова официально утверждало, что самозванец был **Григорием Отрепьевым**, беглым дьяконом Чудова монастыря.
17 мая 1606 г. **Лжедмитрий I** был убит заговорщиками.

Лжедмитрий II (1607-1610) В мае 1607 г. **Лжедмитрий II**, объявился в Стародубе и был признан многими дворянами и горожанами. В июне **Лжедмитрий II** появился под Москвой и обосновался в селе **Тушине**. По названию своей резиденции **Лжедмитрий II** получил закрепившееся за ним имя **Тушинского Вора**. Происхождение **Тушинского Вора** неясно.

С появлением **Лжедмитрия II** у стен столицы наступил длительный период противостояния и **двоевластия**. И в **Москве**, и в **Тушине** сидели царь, царица (**Марина Мнишек**, освобожденная из ярославской ссылки согласно русско-польскому договору, переехала в лагерь самозванца в сентябре 1607г.), **патриарх** (в Тушино был увезен захваченный в плен в Ростове митрополит **Филарет Романов**). У обоих царей были **Боярская дума, приказы, войско**, оба жаловали своим сторонникам поместья и мобилизовали ратных людей.

Василий Шуйский (1606 – 1610) В 1591 году возглавлял следствие о гибели царевича Дмитрия. Организовал заговор против Лжедмитрия I, вскоре после вступления войск самозванца в Москву. После раскрытия заговора был приговорён к смерти, но помилован. Новый заговор, возглавленный им же, привел к гибели Лжедмитрия I в 1606 году и воцарению самого **Василия Шуйского**.

Семибоярщина (1610-1612) (боярское правительство из 7 человек). В эти годы на престол был возведён польский королевич Владислав - IV Ваза (1610-1612), но с условием принятия христианства, что позволяло "завязать ему руки" в случае вреда Руси.

Первое и второе Ополчения.

1611 г. в Рязанской земле создано первое ополчение, которое возглавил Ляпунов.

Весна 1611 г. — восстание в Москве. Д.М. Пожарский руководил передовыми отрядами, сражавшимися на подступах Кремлю. Ляпунов был убит казаками в июле 1611 г. Первое ополчение распалось. **Шведы захватили Новгород, поляки - Смоленск.**

Осенью 1611г. - посадский староста Нижнего Новгорода Козьма Минин обратился с призывом о создании второго ополчения. Население собрало средства. Во главе ополчения - Козьма Минин и князь Дмитрий Пожарский.

Весна 1612 г. - двинулись к Ярославлю, летом 1612 г. — под стенами Москвы.

Подвиг костромского крестьянина Ивана Сусанина.

Октябрь 1612 г. - сдался польский гарнизон Кремля.

На средства Пожарского на Красной площади возведен храм в честь иконы Казанской богородицы.

Первый скульптурный памятник в Москве - Минину и Пожарскому (на Красной площади, скульптор И.П. Мартос 1818 г.)

Словарь

Патриарх - в церковной иерархии высшее звание, присваивавшееся у евреев главе синедриона. В христианской церкви принадлежало сначала всем епископам, затем римскому, константинопольскому, александрийскому, антиохийскому, иерусалимскому. В современном православии высший духовный сан, обычно глава самостоятельной (автокефальной) церкви. Избирается церковным собором. В Русской православной церкви в 1589-1703 гг., восстановлен 5(18) ноября 1917.

Холоп - в России в 10 - нач. 18 вв. категория населения, по правовому положению близкая к рабам. Изначально не имели собственного хозяйства и исполняли различные работы для своих хозяев. Холопами становились в результате пленения, продажи за долги, брака с холопом или холопкой. С 17 века холопы получали в пользование землю и облагались повинностями. С введением в 1722 г. подушной подати холопы превратились в крепостных крестьян.

Речь Посполитая - традиционное наименование Польского государства в конце XV и до XVIII века. Со времени Люблинской унии 1569 и до 1795 года – официальное название польско-литовского государства. Польско-литовским королем был избран Стефан Баторий.

Тест по теме «Смутное время». Закрепление.

1. Что из ниже перечисленного не выступает как предпосылка наступления Смутного времени?

- а) разорение страны из-за Ливонской войны и опричнины;
- б) усиление эксплуатации народа, бегство крестьян на окраины страны;
- в) закрепощение крестьян, стремление власти пресечь их бегство;
- г) установление патриаршества;
- д) пресечение династии Рюриковичей.

в)

2. Каковы хронологические рамки Смутного времени:

- а) период с 1598 по 1613 год;
- б) период с 1591 по 1617 год;
- в) период с 1598 по 1612 год;
- г) период с 1598-1599 гг.

а)

3. В какое время произошло восстание И.И. Болотникова?

- а) 1606-1607 гг.;
- б) 1605-1606 гг.;
- в) 1604-1603 гг.;
- г) 1601-1602 гг.

а)

4. Этого человека Б.Ф. Годунов приказал насильно постричь в монахи под именем Филарет?

- а) Ф.Н. Романов;
- б) Д.Т. Трубецкой;
- в) П.П. Ляпунов;
- г) М.Ф. Романов.

а)

5. Назовите три исторических деятеля, проявивших себя во время Смуты как патриоты и защитники родной земли от интервенции

- а) Кузьма Минин;
- б) Лжедмитрий I;
- в) Василий Шуйский;
- г) Дмитрий Пожарский;
- д) Иван Сусанин;
- е) Иван Болотников;
- ж) Григорий Отрепьев.

а), г), д)

6. Какое обязательное условие было поставлено Владиславу, сын Сигизмунда 3, как будущему Московскому царю?

- а) правление совместно с Сигизмундом 3;
- б) переход Владислава в православие;
- в) Женильба на Марине Мнишек;
- г) вхождение Московского царства в состав Речи Посполитой.

б)

7. У кого появился покровитель в лице воеводы С.Ю. Мнишека, после того как этот человек договорился, что женится на его дочери Марине Мнишек?

- а) Лжедмитрий 1;
- б) Б.Годунов;
- в) Г.Г. Пушкин;
- г) М.Скуратов.

а)
8.Соедините соответствия:

- а) Лжедмитрий 1;
- б) Лжедмитрий 2;
- в) В.Шуйский;
- г) Б.Годунов;

д) междуцарствие;

- 1) 1610-1613 гг.
- 2) 1607-1610 гг.
- 3) 1606-1610 гг.
- 4) 1605-1606 гг.
- 5) 1598-1605 гг.

а)-4); б)-2); в)-3); г)-5; д)-1)

9.В какой период было неурожайное время?

- а) 1590-1600 гг.;
- б) 1597-1600 гг.;
- в) 1601-1603 гг.;
- г) 1591-1592 гг.

в)

10. В каком году произошла завершающая победа второго ополчения, которая предопределила исход освобождения Москвы?

- а) апрель 1610 г.;
- б) май 1611 г.;
- в) 23-24 августа 1612 года;
- г) июль 1613.

г)

11. Кто из бояр был главным в комиссии по расследованию беды, которая произошла в Угличе 15 мая 1591 года?

- а) В.И.Шуйский;
- б) А.Курбский;
- в) А.И.Старицкий;
- г) М.И.Воротынский.

а)

12. Характерной чертой Смутного времени было

- а) бездействие казачества;
- б) высокий международный авторитет страны;
- в) отсутствие социальной напряженности;
- г) самозванство.

13. Что из ниже перечисленного не является причиной свержения Лжедмитрия 1?

- а) неурожайные лета;
- б) Невыполнение обещаний, как полякам, так и различным слоям населения в России;
- в) Пренебрежительное отношение к русским обычаям и этикету;
- г) Неприятие народом того, что у власти находится католик;
- д) Потеря поддержки со стороны почти всех слоёв населения.

а)

14. Лжедмитрий II был прозван в народе

- а) «истинным царем»;
- б) «царевичем Петром»;
- в) «царем Дмитрием»;
- г) «тушинским вором»;
- д) М. Скуратов.

г)

15. В борьбе с Лжедмитрием 2 В. Шуйский обратился к:

- а) Англии;
- б) Польше;
- в) Швеции;
- г) Франции.

в)

16. Кто сказал следующие слова во время церемонии венчания на царство: « Бог свидетель сему! Никто не будет в моем царствии нищ или беден», а потом, взявшись за ворот сорочки, сказал: « И сию последнюю разделю со всеми»?

- а) Федор Иванович;
- б) Б.Ф.Годунов;
- в) Лжедмитрий 1;
- г) Лжедмитрий 2.

б)

17. Какое название получил военный лагерь Лжедмитрия II?

- а) тушинский лагерь;
- б) смоленский лагерь;
- в) московский двор;
- г) смоленский двор.

а)

18. Кто был главой первого всенародного ополчения для освобождения Москвы?

- а) Д.Т.Трубецкой;
- б) П.П.Ляпунов;
- в) атаман Заруцкий;
- г) В.Шуйский.

б)

19. Какое событие случилось в 1613 году?

- а) восстание под руководством И.Болотникова;
- б) избрание на царство Михаила Романова;
- в) начало польской интервенции;
- г) воцарение Лжедмитрия II.

б)

20. Когда был избран новый московский царь М.Ф. Романов?

- а) 21 февраля 1613 г.;
- б) 29 марта 1613 г.;
- в) 31 мая 1613 г.;
- г) 5 сентября 1613.

а)

Подготовка к ЕГЭ. Тест по теме «Смутное время»

Расположите в хронологической последовательности исторические события. Запишите цифры, которыми обозначены исторические события, в правильной последовательности в таблицу.

1) Царствование Лжедмитрия I

2) Освобождение Москвы от поляков

3) Царствование Бориса Годунова.

3, 1, 2

1. Установите соответствие между событиями и годами: к каждой позиции первого столбца подберите соответствующую позицию из второго столбца.

События	Годы
а) начало вторжения иностранных войск в Россию	1) 1589г.
б) создание Второго ополчения	2) 1597г.
в) избрание на царство Михаила Романова	3) 1609г.
г) введение патриаршества	4) 1612г.
д) указ об «урочных годах»	5) 1613г.

а- 3; б- 4; в- 5; г- 1; д- 2.

3. Ниже приведен ряд имен. Все они, за исключением двух, являлись участниками Смуты.

1) Борис Годунов, 2) Василий Шуйский, 3) Иван Болотников, 4) Степан Разин, 5) Иван Заруцкий. 6) Патриарх Никон.

4, 6

4. Запишите термин, о котором идет речь.

Боярское правительство (7 человек) в России в 1610 г., номинально до 1612 г. Передало фактически власть польским интервентам, ликвидировано Вторым ополчением под руководством К. Минина и Д. Пожарского в октябре 1612 г. СЕМИБОЯРЩИНА .

5. Установите соответствие между процессами (явлениями, событиями) и фактами, относящимися к этим процессам (явлениям, событиям): к каждой позиции первого столбца подберите соответствующую позицию из второго столбца.

Процессы (явления, события)

- А) пресечение династии Рюриковичей
- Б) повышение авторитета России
- В) возвращение Балтийского побережья
- Г) укрепление хозяйства
- Д) повышение обороноспособности страны

Факты

- 1) введение патриаршества
- 2) война со Швецией
- 3) строительство крепостей
- 4) указ об «урочных летах»
- 5) гибель царевича Дмитрия

А- 5; Б- 1; В- 2; Г- 4; Д- 3.

6. Установите соответствие между фрагментами исторических источников и их краткими характеристиками: к каждому фрагменту, обозначенному буквой, подберите по две соответствующие характеристики, обозначенные цифрами.

ФРАГМЕНТЫ ИСТОЧНИКОВ

А «Злосчастный мятеж, для которого изменники уже давно объединились... Их предводителем в том деле был нынешний царь — Василий Иванович Шуйский, обещавший поделить между ними крепости и государства и назначить их на высокие должности. Эти войска выпустили против той “москвы”, которая могла стать на сторону Дмитрия. Сперва утром в субботу подавали друг другу на улицах такой сигнал: “В город! В город! Горит город!” — а делалось это для наших, чтобы подумали, что в крепости загорелось. Сразу же окружили все польские квартиры, чтобы находившиеся там не могли дать отпор. Очень быстро взяли крепость. Потом ударили во все колокола, отовсюду неисчислимая толпа стекалась к крепости. Сперва рассеяли алебардщиков, потом ворвались во дворец. Сам Шуйский с помощниками вошёл в первые покои.»

Б «В это же время поднялся на православную христианскую веру нечестивый литовский король... Пришёл он в пределы Московского государства под град Смоленск и многие города и сёла разорил, церкви и монастыри разрушил. И захвачен был город нечестивым королём. Когда же польский и литовский король был под градом Смоленском, тогда враг креста Христова, который царём Димитрием себя называл, стоял под царствующим градом Москвой с проклятыми литовцами. Многие и из русских людей из-за малодушия своего, ради лихоимства и грабежей, к нему присоединились».

ХАРАКТЕРИСТИКИ

- 1) Подмосковный лагерь Лжедмитрия II находился в Тушине.
- 2) После описанных событий Василий Шуйский стал царём.
- 3) «Польский и литовский король» — это Сигизмунд III.
- 4) Описанные события произошли в 1606 г.
- 5) Автором документа является Дмитрий Пожарский.
- 6) События происходили в Угличе.

Ответ:

Фрагмент А		Фрагмент Б	

А- 2, 4; Б - 1, 3.

7. Что из перечисленного относится к событиям периода Смуты (1598-1613гг)? Выберите три ответа и запишите в таблицу цифры, под которыми они указаны.

- 1) «Крестоцеловальная запись»
- 2) отмена местничества
- 3) борьба с поляками
- 4) борьба со шведами
- 5) опричнина
- 6) полки «нового строя»

1, 3, 4

8. Заполните пропуски в данных предложениях, используя приведённый ниже список пропущенных элементов: для каждого предложения, обозначенного буквой и содержащего пропуск, выберите номер нужного элемента.

А) В июне А) _____ года к власти пришло правительство, состоящее из знатных 7 бояр, во главе с князем Б) _____.

В) В январе 1613 года в Москве был созван В) _____, который сыграл важную роль в избрании законного нового царя Г) _____

В) Героический подвиг совершил костромской крестьянин, заведя в болото польский отряд интервентов, хотя и сам погиб. Имя героя – Д) _____

Пропущенные элементы:

1) Михаил Федорович Романов

2) Иван Сусанин

3) 1610 г.

4) Земский собор

5) Федор Мстиславский

6) 1612 г.

7) Борис Годунов

А	Б	В	Г	Д
3	5	4	1	2

9. Установите соответствие между событиями (процессами, явлениями) и участниками этих событий (процессов, явлений): к каждой позиции первого столбца подберите соответствующую позицию из второго столбца.

СОБЫТИЯ

- А) Восстание в Путивле в 1606 г.
- Б) первое ополчение
- В) второе ополчение
- Г) избрание царя в 1613 г.

УЧАСТНИКИ

- 1) П.Ляпунов
- 2) Кузьма Минин
- 3) Михаил Федоров
- 4) Иван Болотников
- 5) Лжедмитрий I
- 6) Федор Мстиславский

А	Б	В	Г
4	1	2	3

10. Прочтите отрывок из сочинения историка С.Ф. Платонова и назовите самозванца, о котором идет речь.

«...Весной 1606 г. В.И. Шуйский вместе с Голицыным начал действовать гораздо осторожнее; они успели привлечь на свою сторону войска, стоящие около Москвы; в ночь с 16 на 17 мая отряд их был введен в Москву, а там у Шуйского было уже достаточно сочувствующих. Однако заговорщики, зная, что далеко не все в Москве непримиримо настроены против самозванца, сочли нужным обмануть народ и бунт подняли якобы за царя против поляков, его обижавших. Но дело скоро выяснилось. Царь был объявлен самозванцем и убит 17 мая утром. «Истинный царевич», которого еще так недавно трогательно встречали и спасению которого так радовались, сделался «расстригой», «еретиком» и «польским свистуном».

Ответ: Лжедмитрий I (Г. Отрепьев).

11. Заполните пустые ячейки таблицы, используя представленные в приведённом ниже списке данные: для каждой ячейки, обозначенной буквой, выберите номер нужного элемента.

Событие	Месяц, год	Участники
Борьба с «тушинским вором»	_____ (А)	_____ (Б)
_____ (В)	1611 год	_____ (Г)
Второе ополчение	_____ (Д)	_____ (Е)

Пропущенные элементы:

1) М.В. Скопин-Шуйский; 2) Д. Пожарский; 3) Василий Шуйский; 4) 1598—1613 гг.; 5) 1609 г.; 6) 1612 г.; 7) П. Ляпунов; 8) первое ополчение; 9) убийство Дмитрия Углического

А	Б	В	Г	Д	Е
5	1	8	7	6	2

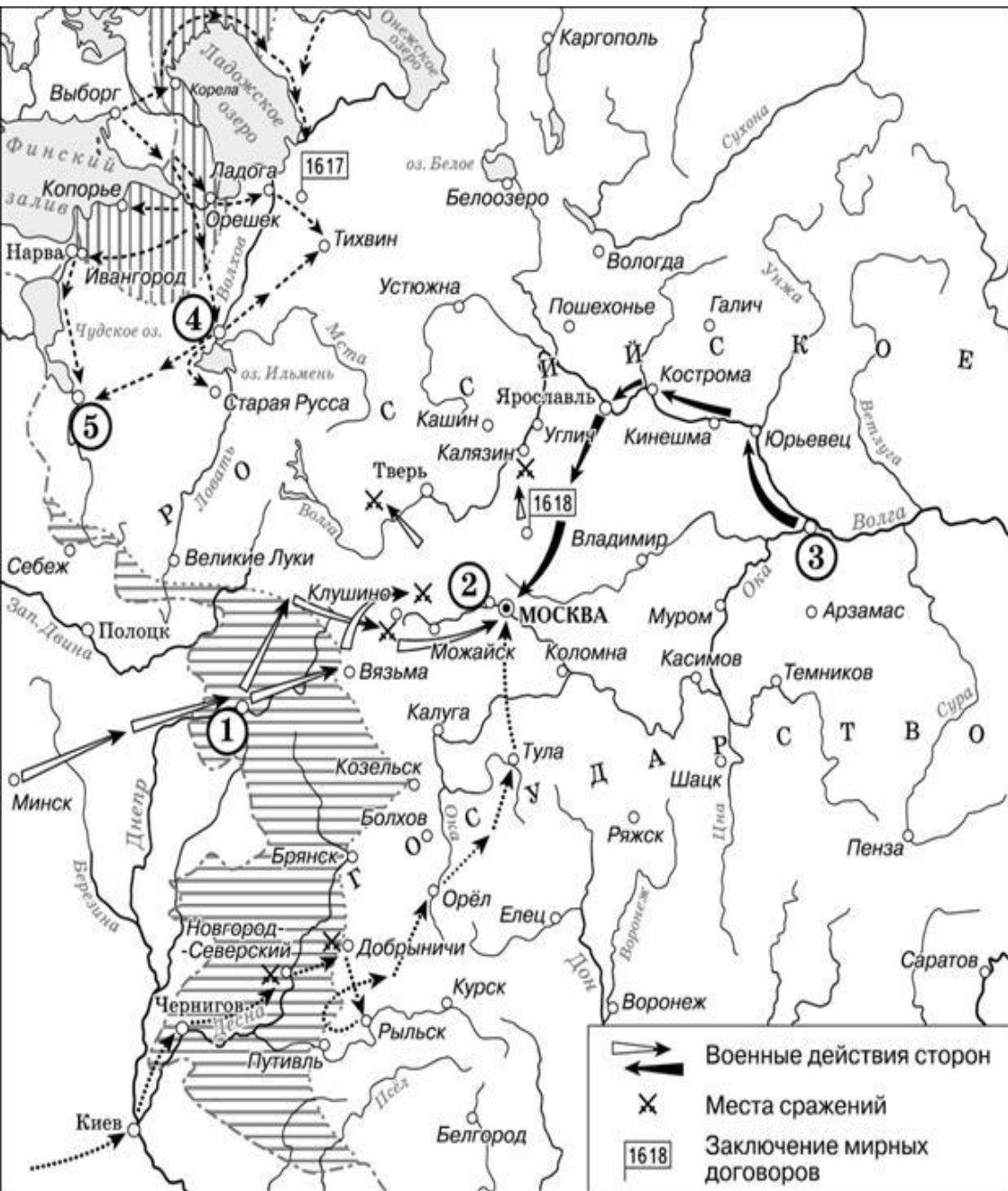
12. 1 Прочтите отрывок из статьи Ю.П.Швеца

«Сменивший Годунова на русском троне Лжедмитрий I (1605–1606 гг.) не только не внес принципиальных изменений в проевропейский курс российской политики, но сделал его в еще большей степени нацеленным на сближение с Европой. Так, к примеру, Н.М. Карамзин сообщает о том, что Самозванец, убежденный в превосходстве Европы над Россией, убеждал русских людей ездить на учебу в Европу, перестроил деятельность Боярской думы по примеру польского сейма и обещал, что он будет править Россией не самодержавно, т.е. с помощью тирании, а по-европейски, путем милосердия. С.М. Соловьев утверждает, что Лжедмитрием I было издано два указа, облегчавших положение холопов и крепостных крестьян»

Используя отрывок и знания по истории, выберите в приведённом списке три верных суждения. Запишите в таблицу цифры, под которыми они указаны

- 1) описываемые в статье события произошли в 1613 году
- 2) политик, о котором идет речь, унаследовал царский престол по праву
- 3) автор текста — сторонник правления Лжедмитрия I
- 4) Лжедмитрий I правил Россией более 5 лет
- 5) Борис Годунов разгромил войска Лжедмитрия I
- 6) женой Лжедмитрия I стала польская пани

Рассмотрите схему и выполните задания 13–16.



13. Напишите название периода, описанного на карте

Ответ: Смута

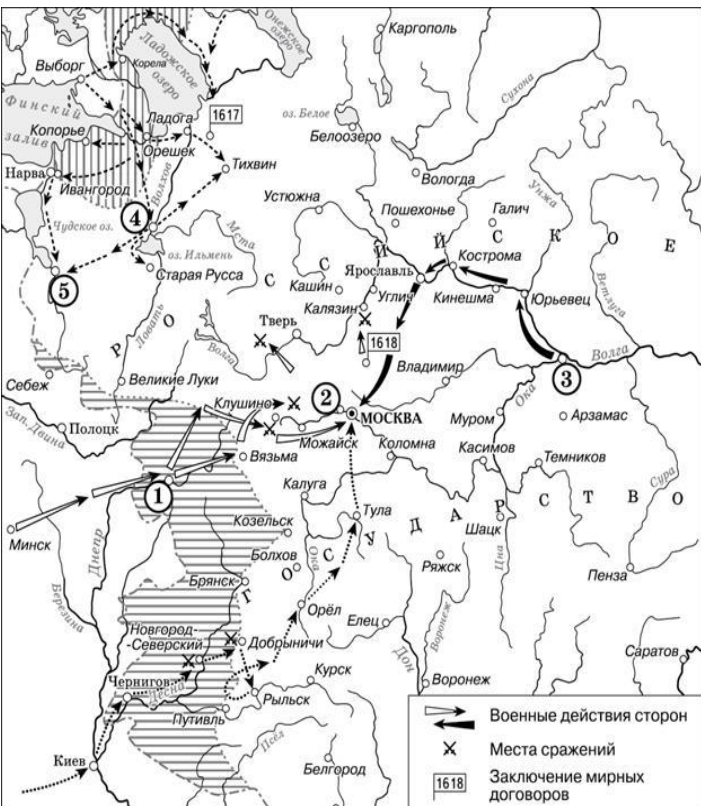
14. Назовите русского царя, в правление которого разразился страшный голод, ставший одной из причин событий, изображённых на схеме.

Ответ: Б. Годунов

15. Напишите прозвище самозванца, которое он получил из-за того, что расположил свой лагерь в подмосковном селе, обозначенном цифрой «2».

Ответ: Тушинский вор

Рассмотрите схему и выполните задания 13–16.



16. Какие суждения, относящиеся к событиям, обозначенным на карте, являются верными? Выберите три суждения из шести предложенных. Запишите в таблицу цифры, под которыми они указаны.

- 1) Участниками событий, изображённых на схеме, были К. Булавин и протопоп Аввакум.
- 2) Поход на Москву, обозначенный на схеме точечными стрелками, возглавлял самозванец, известный как Григорий Отрепьев.
- 3) Староста посада обратился с призывом к сбору средств на борьбу с интервентами в городе, обозначенном на схеме цифрой «4».
- 4) Следствием событий, изображённых на схеме, стала утрата Россией заштрихованных на схеме территорий.
- 5) Одной из причин событий, изображённых на схеме, стало пресечение царствующей династии Рюриковичей.
- 6) Древний русский город, обозначенный на схеме цифрой «1», отбил все попытки интервентов захватить его.

2 4 5

17. Установите соответствие между памятниками культуры и их краткими характеристиками: к каждой позиции первого столбца подберите соответствующую позицию из второго столбца.

ПАМЯТНИКИ КУЛЬТУРЫ

ХАРАКТЕРИСТИКА

А) «Апостол»

1) авторы - Барма и Постник

Б) памятник Минину и
Пожарскому в Москве

2) место сбора первого ополчения

В) Рязань

3) первая печатная книга

Г) «Жизнь за царя»

4) автор - И.Мартос

5) вотчинное владение бояр Романовых

6) автор - М.Глинка

3 4 2 6



18. Какие суждения о памятнике, изображённом на фотографии, являются верными? Выберите два суждения из пяти предложенных.

1. Памятник был создан в начале XVII в. в честь освобождения Москвы от поляков.

2. Скульптором памятника является И.П. Мартос.

3. Памятник стал первым сооружением подобного типа в Москве.

4. Памятник был установлен перед Успенским собором Московского Кремля.

5. Создание памятника шло на деньги, которые Россия получила от Речи Посполитой по Деулинскому перемирию.

2, 3

19. Какое из сооружений, представленных ниже, располагается ближе других к памятнику Минину и Пожарскому?



1

Прочтите отрывок из исторического источника и кратко ответьте на вопросы 20–22. Ответы предполагают использование информации из источника, а также применение исторических знаний по курсу истории соответствующего периода.

Прочтите отрывок из грамоты.

«От царя и великого князя Владислава Жигимонтовича всея Руси, в Московское государство, боярам нашим... и всяким людям Московского государства.

Ведомо вам, как судьбами Божиими в Московском государстве прироженный корень великих государей Росийских извёлся... И Московского государства патриарх, архиепископы и весь духовный чин, по тому ж бояре и вы все всяких чинов люди всего Московского государства, уразумев то, что не от царского корня государю быть трудно, земля вся будет в междуусобице, целовали меж себя крест, что вперёд из московских родов на государство не избирать, а выбрать бы из иных государств от царского корня, ...и выбрали на Московское государство нас, великого государя... и крест нам, великому государю, целовали всею землёю, и с гетманом Желковским, воеводою Киевским... укрепились, что быть нам государем царём и великим князем... всея Руси и послали бить челом к великому Жигимонту королю послов своих, от всей земли, Филарета митрополита Ростовского и Ярославского, да князя Василья Васильевича Голицына с товарищи, ...и Филарет митрополит начал делать не по тому наказу, каков дан был им от вас, прочил и замышлял на Московское государство сына своего Михаила.

И ...государь король прошения всего Московского государства не отверг и дать нас, великого государя, на Московское царство обещал; и замешкался наш поход в Московское государство... И ныне мы, великий государь... пришли в совершенный возраст к скипетродержанию... И вам бы, всяким людям Московского государства... вспомнить своё крестное целование, нам, великому государю, добить вскоре челом и служить с радостью...

А вера христианская стародавнего закона греческого отнюдь ни в чём не будет нарушена... а вотчины, и поместья, и денежное жалованье, всем будет так, как и прежде, а наипаче от нас, великого государя, по заслугам своим все будут пожалованы, и детям боярским будет в службе вольность... по договору гетмана Желковского. А о Михаиле, Филаретове сыне, как даст Бог будем на царском своём престоле, на Москве, и в те поры наше царское милосердие будет по прошению всей земли...»

20. Укажите, кем (по своему социальному происхождению) являлся человек, который назван в грамоте «царём и великим князем». Укажите время (с точностью до десятилетия), когда этот человек вышел в задержавшийся поход на Москву и издал данную грамоту. Укажите, кем стал ко времени написания этой грамоты названный в ней «Михаил, Филаретов сын».

1) Польский королевич. 2) 1610-е гг. 3) русским царем.

21. В чём составитель грамоты обвинял Филарета? Укажите не менее двух обязательств, которые в этой грамоте даются московским людям, чтобы они признали царём Владислава Жигимонтовича.

Составитель грамоты обвинил Филарета в том, что тот самовольно планировал сделать московским царем своего сына Михаила. Могут быть названы следующие обязательства: -сохранение вотчин и поместий бояр и дворян -сохранение прежнего размера жалования -не притеснять православную веру.

22. Укажите год, когда был заключён договор, который упоминается в грамоте. Укажите, по какой причине он не был исполнен. Назовите войну, завершившуюся миром, по которому автор этой грамоты отказался от своих претензий на московский трон.

1) 1613 г. 2) Договор не был исполнен по причине изгнания из Москвы поляков войсками Второго ополчения и избрания на царство Михаила Романова 3) Смоленская война.

23. Рассмотрите историческую ситуацию и ответьте на вопросы.

В январе 1613 года открылся Земский собор, в котором приняли участие представители духовенства, бояр, дворян, городских посадков, казаков и даже выборные от черносошных крестьян. Собор постановил, что не будет искать царя среди иноземцев, а также отклонил кандидатуру Марины Мнишек и «ворёнка» - сына Мнишек и Лжедмитрия II. Царем был избран Михаил Романов. Назовите не менее двух причин избрания Михаила Романова на российский престол. Какое значение для дальнейшего развития страны имело это событие? Укажите не менее трех положений.

1. Он был молод и неопытен; 2. Отец был духовного звания; 3. Двоюродный племянник последнего из династии Рюриковичей
Значение: возвышение новой династии Романовых, конец Смуты, заключение мирных договоров с Польшей и Швецией, проведение экономических реформ.

24.1 В исторической науке существуют дискуссионные проблемы, по которым высказываются различные, часто противоположные точки зрения. Ниже приведена одна из спорных точек зрения, существующих в исторической науке.

«Смута являлась проявлением глубокого внутреннего кризиса, одним из отдаленных последствий oprичнины и поражения в Ливонской войне, повлекших за собой разорение экономики, рост социального брожения, широкое недовольство, к тому же кризис был усилен вмешательством внешних сил».

Используя исторические знания, приведите два аргумента, которыми можно подтвердить данную точку зрения, и два аргумента, которыми можно опровергнуть её. При изложении аргументов обязательно используйте исторические факты.

Ответ запишите в следующем виде.

Аргументы в подтверждение:

1) ...

2) ...

Аргументы в опровержение:

1) ...

2) ...

В подтверждение: 1) После опричнины и разорительной Ливонской войны (1558-1583 гг.) страна, действительно, находилась в состоянии экономического кризиса. Измученность русского народа, который устал терпеть лишения, произвол, стала результатов тех отдалённых событий, вылившихся в Смутном времени; 2) Опричнина стала причиной недоверия народа к правительству. Именно поэтому, даже когда они пытались что-то сделать, чтобы решить проблему (например, начали выдавать хлеб в голодные годы из царских закромов), крестьяне и другие социальные группы продолжали восставать. Раны прошлых лет ещё давали о себе знать.

В опровержение: 1) Смута - это закономерный процесс, который является результатом кризиса династии. В этих условиях народные волнения и хаос - явления, вскрывающие дестабилизацию политического аппарата, вызванного отсутствием законного наследника - представителя Бога на земле; 2) В какой-то степени, Смута усилилась в результате естественных условий - годы неурожая, в условиях которых правительству было сложно решить экономические проблемы. Восстание Хлопка Косолапа - это одно из начальных звеньев цепи, которая составляет Смутное время. Экономические предпосылки привели к недоверию политической верхушке во главе с Борисом Годуновым.

24.2 В исторической науке существуют дискуссионные проблемы, по которым высказываются различные, часто противоречивые точки зрения. Ниже приведена одна из спорных точек зрения, существующих в исторической науке.

«Главной причиной Смуты было нарастание социальных конфликтов в русском обществе».

Используя исторические знания, приведите два аргумента, которыми можно подтвердить данную точку зрения, и два аргумента, которыми можно опровергнуть её. При изложении аргументов обязательно используйте исторические факты.

Ответ запишите в следующем виде.

Аргументы в подтверждение:

1) ...

2) ...

Аргументы в опровержение:

1) ...

2) ...

Аргументы:

1) в подтверждение, например:

- Смуте предшествовал опричный террор, в котором многие историки видели конфликт между боярством и дворянами, этот конфликт из-за участия во власти и из-за земельных владений продолжался и в Смуту (движение против «боярского царя» Шуйского, в котором большую роль играли провинциальные дворяне);
- в Смуте активно участвовали крестьяне, недовольные процессом закрепощения (восстание Ивана Болотникова);
- в период Смуты против центральной власти выступили горожане и крестьяне, недовольные ростом повинностей;

2) в опровержение, например:

- Смута была результатом династического кризиса, пресечения династии Рюриковичей на московском престоле;
- Смута началась в результате действий внешних сил – Польши и папы римского, без поддержки которых самозванец не смог бы добиться успеха.

25. Вам необходимо написать историческое сочинение об **ОДНОМ** из исторических деятелей Смуты:

1) Лжедмитрий I; 2) Василий Шуйский; 3) К. Минин.

В сочинении необходимо:

– указать не менее двух значимых событий (явлений, процессов), в которых участвовал выбранный Вами исторический деятель;

– назвать ещё одну историческую личность, чья деятельность связана с любым из указанных событий (явлений, процессов), в которых участвовала выбранная историческая личность; охарактеризовать роли этих личностей в названных событиях (явлениях, процессах);

В н и м а н и е!

При характеристике роли каждой названной Вами личности необходимо указать конкретные действия этой личности, в значительной степени повлиявшие на ход и (или) результат указанных событий (процессов, явлений).

– указать не менее двух причинно-следственных связей, характеризующих причины возникновения указанных Вами событий (явлений, процессов), которые происходили в период жизни исторических личностей (указанной в задании и (или) названной Вами);

– используя знание исторических фактов и (или) мнений историков, оценить влияние любого из указанных Вами событий (явлений, процессов), в которых участвовал выбранный исторический деятель, на события (явления, процессы), произошедшие после его смерти.

В ходе изложения постарайтесь не допускать фактических ошибок.

**Спасибо за
внимание!**