

МАУ «Центр психолого-педагогической, медицинской и социальной помощи
Советского района г. Челябинска»



Играем и учимся дома вместе

Подготовила для вас:
учитель-дефектолог
Елисеичева Екатерина
Игоревна



Формирование элементарных математических представлений - это исключительно важная часть интеллектуального и личностного развития **ребенка**. В соответствии с ФГОС **дошкольное** образовательное является первой образовательной ступенью и детский сад выполняет важную функцию подготовки **детей к школе**. И от того, насколько качественно и своевременно будет подготовлен ребенок к школе, во многом зависит успешность его дальнейшего обучения.

Предлагаю заниматься математикой, играя. Выполните с ребенком несколько заданий вместе.



Цель:



Закрепить счет от 1 до 10;

Повторить написание цифр.


Ход выполнения задания:

Рассмотри картинку. Скажи, что на ней нарисовано. А теперь пусть ребенок посчитает количество заданных предметов.

Когда задание выполнено, нажав на картинку, можно узнать правильный ответ.



Рассмотри картинки и реши примеры.



$$2+3=$$




$$3-1=$$



$$4+4=$$



$$5-2=$$



$$3+3=$$



$$7-4=$$



$$5+2=$$



$$6-2=$$



$$7+1=$$



$$7-3=$$

Цель:

















Закреплять навык решения задач на сложение и вычитание

Ход выполнения задания:

Рассмотри картинку. Скажи, что на ней нарисовано. реши задачи.

Когда задание выполнено, нажав на картинку, можно узнать правильный ответ.

Найди машинки по их адресу

	1	2	3	4
А				
Б				
В				
Г				

Адрес

А2	Б2	В1	Г4

Цель:

Закреплять навык пространственной ориентировки

Ход выполнения задания:

Рассмотри картинку. Скажи, что на ней нарисовано. Найди те машинки, адрес которых написан в нижней таблице.

Когда задание выполнено, нажав на картинку, можно узнать правильный ответ.



1

						1	3
			1				
	4						

Цель:

Повторить цифру 1 и всевозможные варианты ее написания и обозначения.
Закреплять навык пространственной ориентировки

Ход выполнения задания:

Рассмотри картинку. Гном может добраться до своего дома только по клеткам, где написана цифра 1. Помоги ему добежать до дома.