

РАБОТА С КАРТАМИ

18 век

Азовские походы 1695, 1696



1695

1696

Территория отошедшая к России в 1696 году

Северная война 1700-1721



Северная война
1700-1721 гг.
Морские баталии

Действия
русского флота
1700 - 1721 гг.

СЕВЕРНОЕ
МОРЕ

НОРВЕГИЯ

ШВЕЦИЯ


Стокгольм

БАЛТИ
МОРЕ

Копенгаген

ДАНИЯ

Действия шведского
флота 1700 - 1721 гг.



Земли, присоединенные к России
по Ништадскому договору 1721 г.

Умео

Сундсвалль

ФИНЛЯНДИЯ
(Швед.)

Васа

Бьернеборг

Ништадт

1720

1714

Выборг

Нарва

Шлиссельбург

С.-Петербург (столица
с 1712 г.)

Таллин

Тарту

Рига

Новгород

Псков

РОССИЯ

Либава

Полоцк

Великие Луки

МОСКВА

Каунас

Минск

Смоленск

Горки

Гродно

Могилев

Лесная

Новгород
Северский

Варшава

РЕЧЬ
ПОСПОЛИТАЯ

Батулин

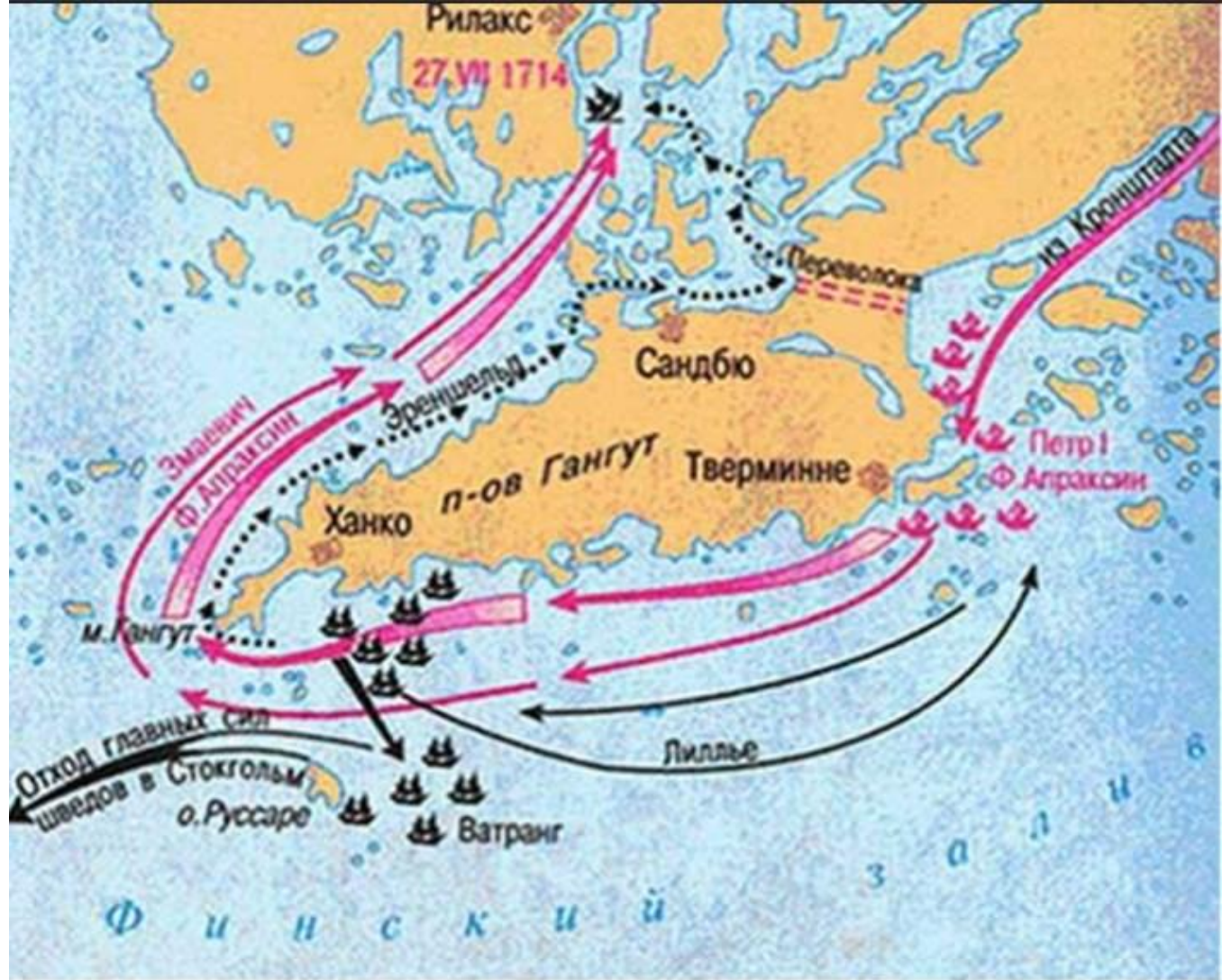
Полтава

статья

СПИСОК



Северная война 1700-1721



- | | | | |
|---|------------------------------------|---|---|
|  | Русский гребной флот |  | Прорыв передового отряда русского флота |
|  | Шведский флот |  | Движение отряда Эреншельда |
|  | Прорыв главных сил русского флота |  | Движение отряда Лиллье |
|  | Перегруппировка главных сил шведов |  | Место боя 27 VII 1714 г |

Восстание Булавина 1707-1708



Восстание Булавина 1707-1708



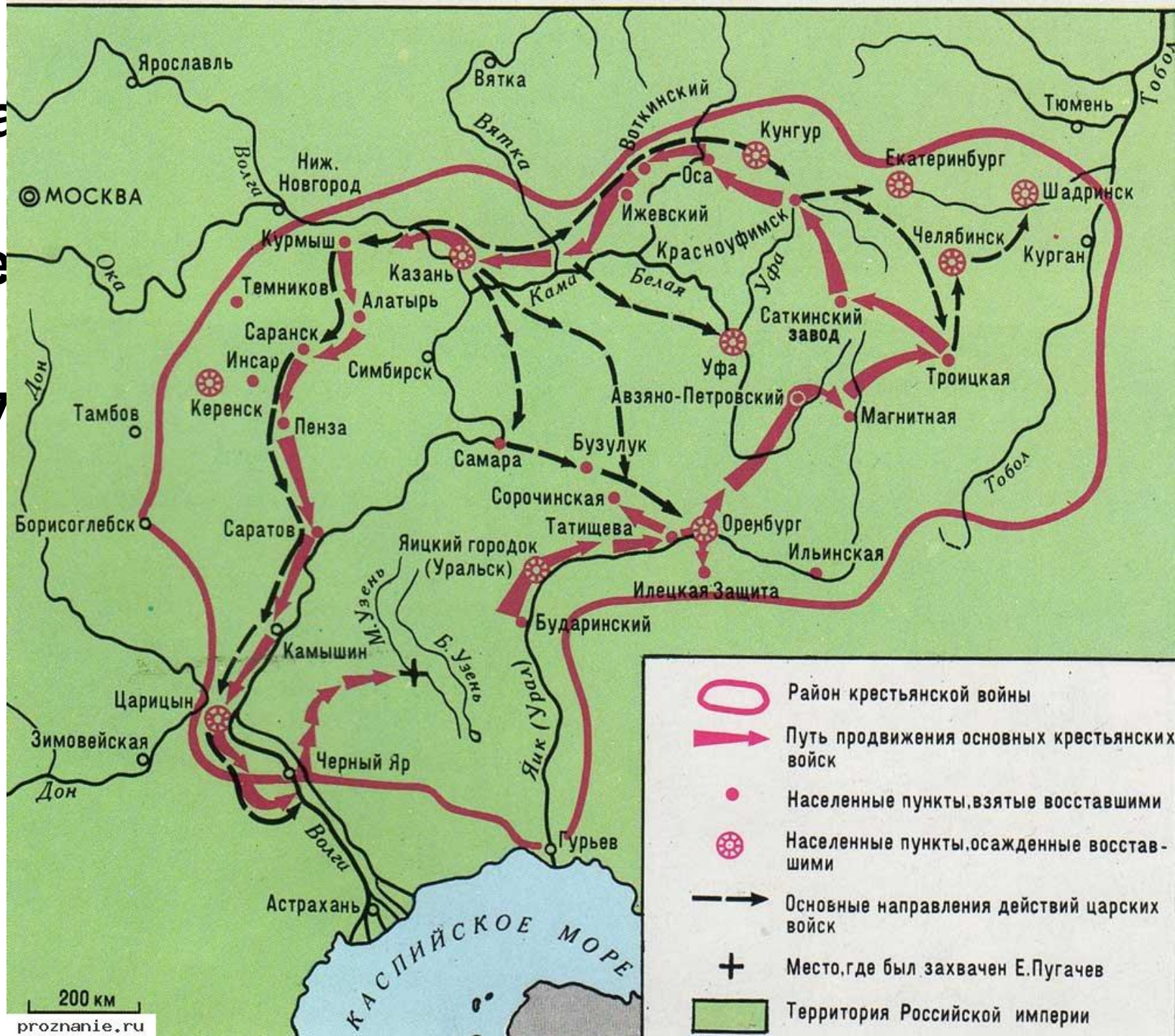
Восстание К. Булавина

-  Район охваченный восстанием
-  Опорные пункты восставших
-  Основные направления походов К. Булавина
-  Опорные пункты царских войск
-  Основные направления движения царских войск

Семилетняя война 1756 - 1763



Восста- -ние Пугаче ва 1773-17 75



Русско-турецкая война 1768-1774

lesson-history.narod.ru



- Боевые действия русской армии и флота
- Боевые действия турецкой армии и флота
- 1774 Места и даты важнейших сражений
- Территории, отошедшие к России по Кючук-Кайнарджийскому миру в 1774 г.

Русско-турецкая война 1787-1791



- >> Действия русской армии и флота
- >> Действия турецкой армии и флота
- X1787** Места и годы важнейших сражений
- Территория, отошедшая к Российской империи в 1783 г.
- Территория, отошедшая к Российской империи по Ясскому мирному договору в 1791 г.

Итальянски и швейцарски походы Суворова 1799



• Укажите век, когда в состав России впервые вошел населенный пункт, обозначенный на карте цифрой «1». Ответ запишите словом.

• Укажите название города, обозначенного



«

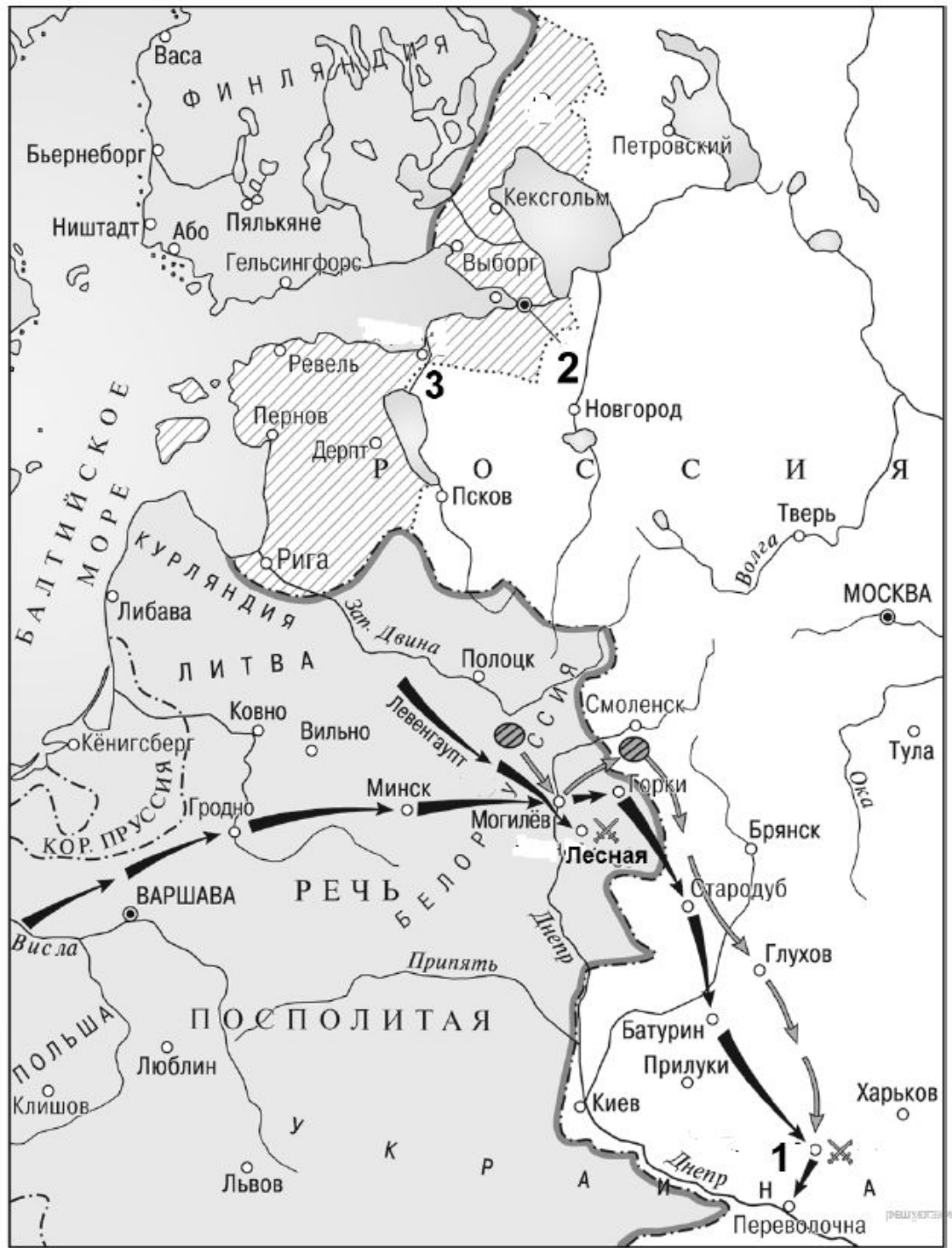
— одна из немногих рек, изменившая свое название в наше время. До восстания Емельяна Пугачева эта река называлась Яиком. Чтобы стереть всякую память о произошедшем, императрица Екатерина II повелела переименовать реку, с которой начался кровопролитный мятеж. Так Яик превратился в



- Укажите век, когда произошли события, изображенные на схеме.
- Укажите название города, обозначенного на карте цифрой «2».
- Укажите название города, обозначенного на карте цифрой «1».



- «В результате _____ битвы армия короля Карла XII была настолько обескровлена, что уже не могла вести активных наступательных действий. Военное могущество Швеции было подорвано, и в Северной войне произошёл перелом в пользу России. На встрече с саксонским курфюрстом Августом II в Торуня был вновь заключён военный союз Саксонии с Россией. Датский король также вновь выступил против





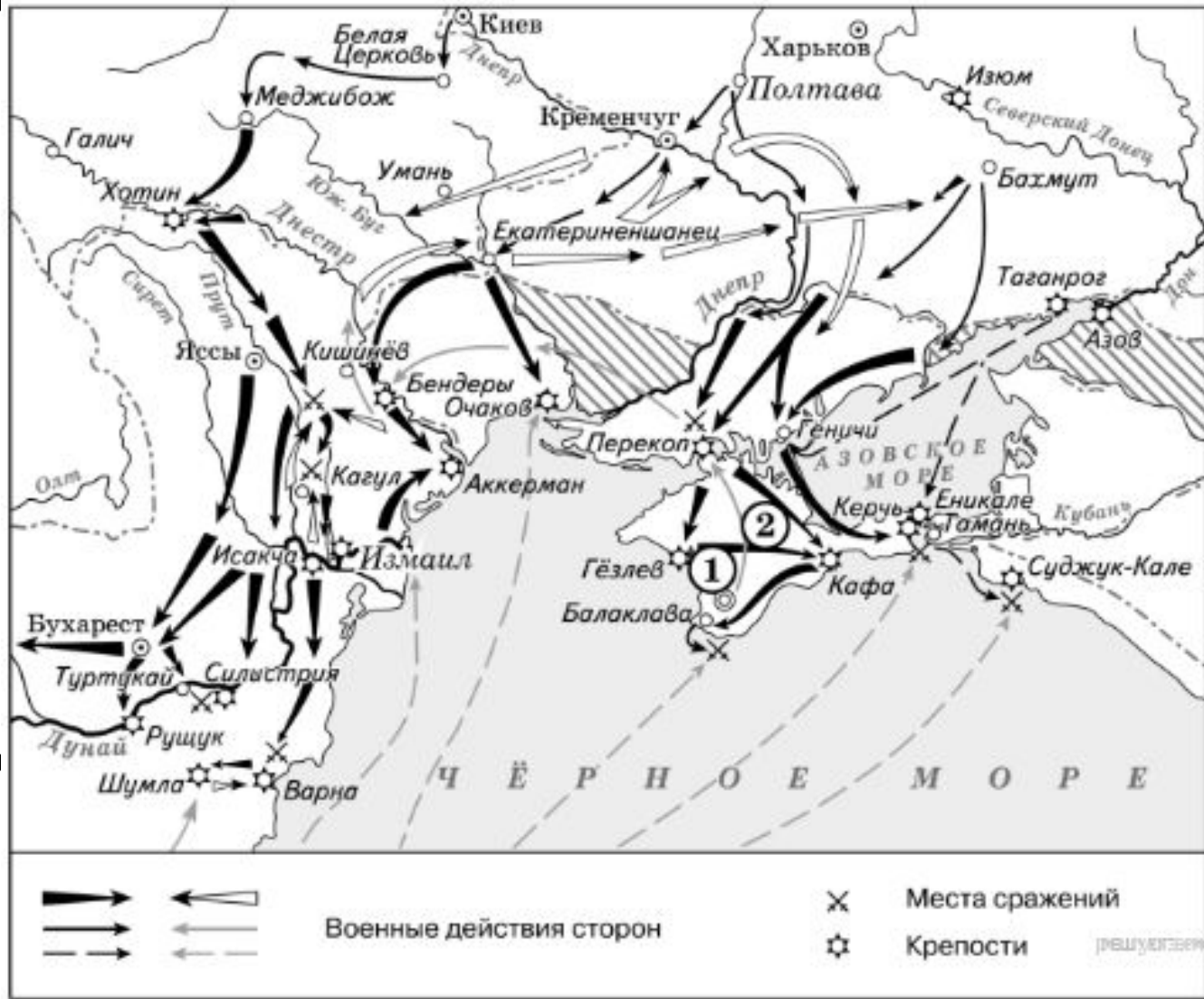
- Укажите век, когда произошли события, изображенные на схеме.
- Укажите название города, обозначенного на карте цифрой «3».

«В 3 часа ночи 11 (22) декабря взвилась первая сигнальная ракета, по которой войска оставили лагерь и, перестроившись в колонны, выступили к назначенным по дистанции местам... Особенно ожесточенное сопротивление продолжалось до 11



часов утра. Почти каждый дом приходилось брать с боем. Около полудня Ласси, первым взошедший на крепостной вал, первым же достиг и середины города. Здесь он встретил тысячу татар под начальством Максуда Гирея, князя чингисхановой крови. Максуд Гирей защищался упорно, и только когда большая часть его отряда была перебита, сдался в плен с 300 воинами. Для поддержки пехоты и обеспечения успеха Суворов приказал ввести в город 20 лёгких орудий, чтобы картечью очистить улицы от турок. В час дня, в сущности, победа была одержана. В два часа дня все колонны проникли в центр города. К 16 часам последние защитники были убиты, некоторая часть измождённых и израненных турок сдалась. Шум битвы

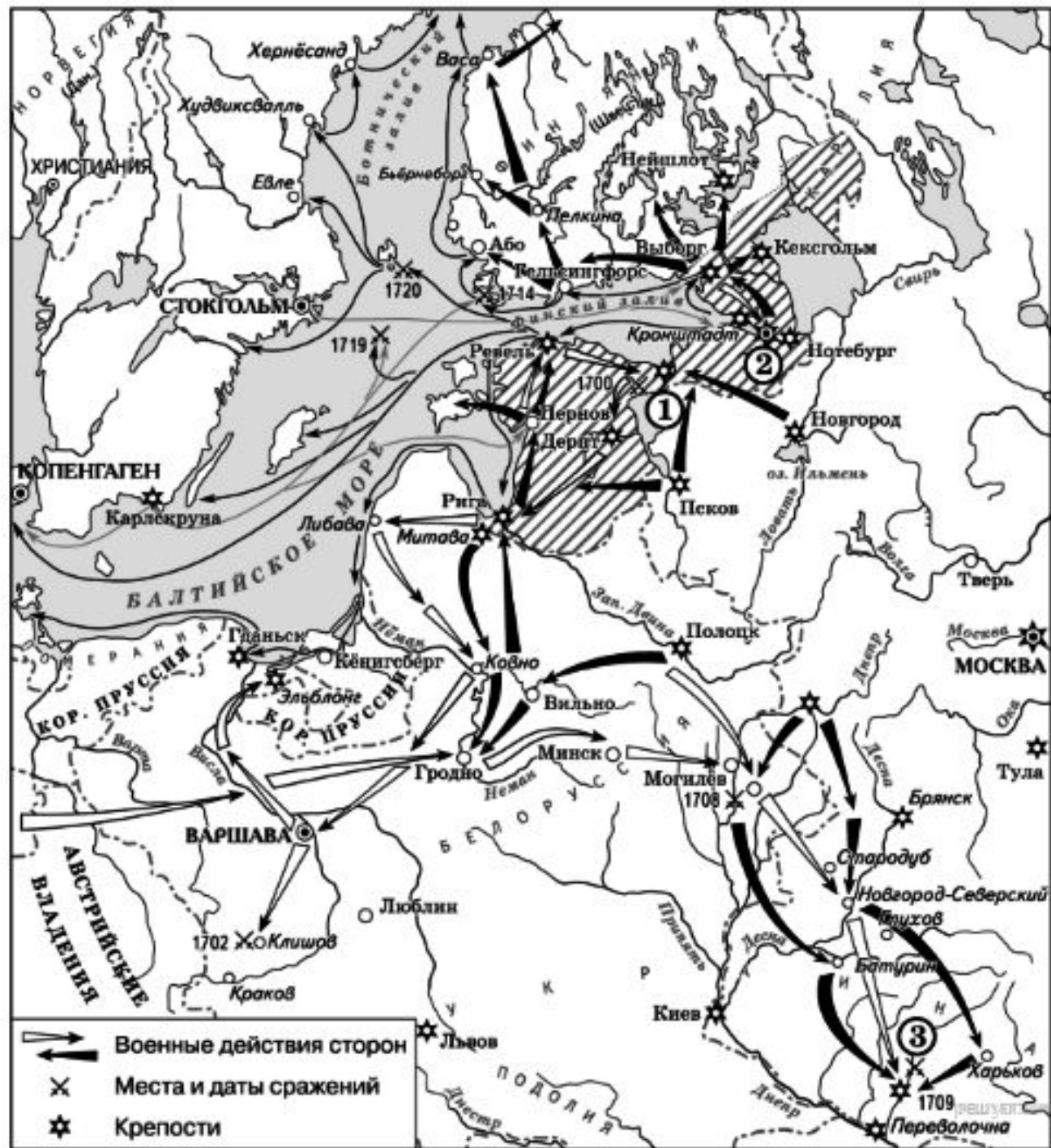
- Укажите век, когда произошли события, изображенные на схеме
- Укажите название государства, обозначенного на карте цифрой «2».



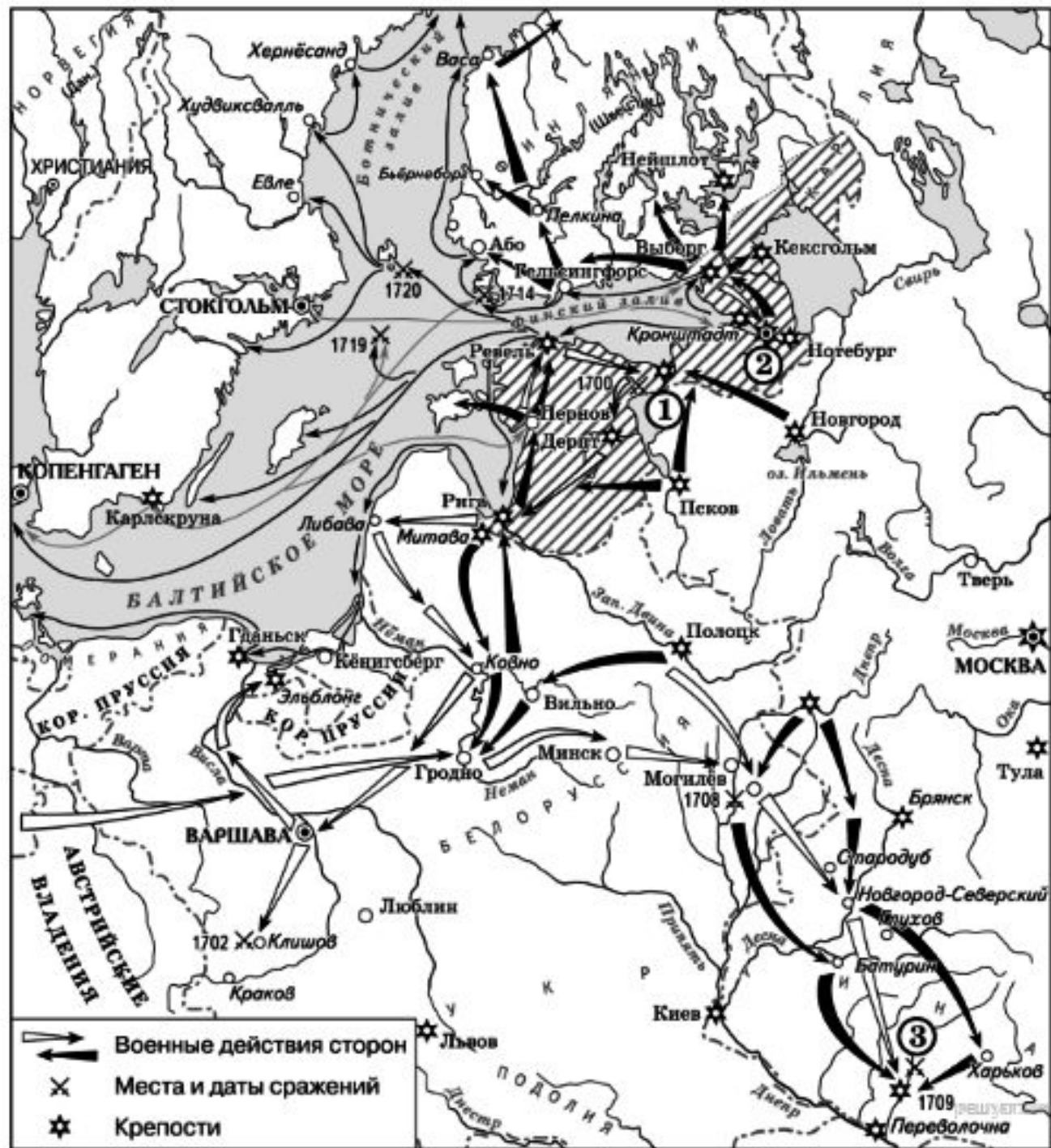
«По итогам войны Крым был объявлен независимым от _____ . Россия получила Большую и Малую Кабарду, Азов, Керчь и Еникале, Кинбурн с округой и прилежавшей к нему степью между Днепром и Бугом. Русские корабли могли свободно ходить по [...] водам; _____ признала титул русских императоров и обязалась называть их падишахами, даровала амнистию и свободу вероисповедания балканским христианам»



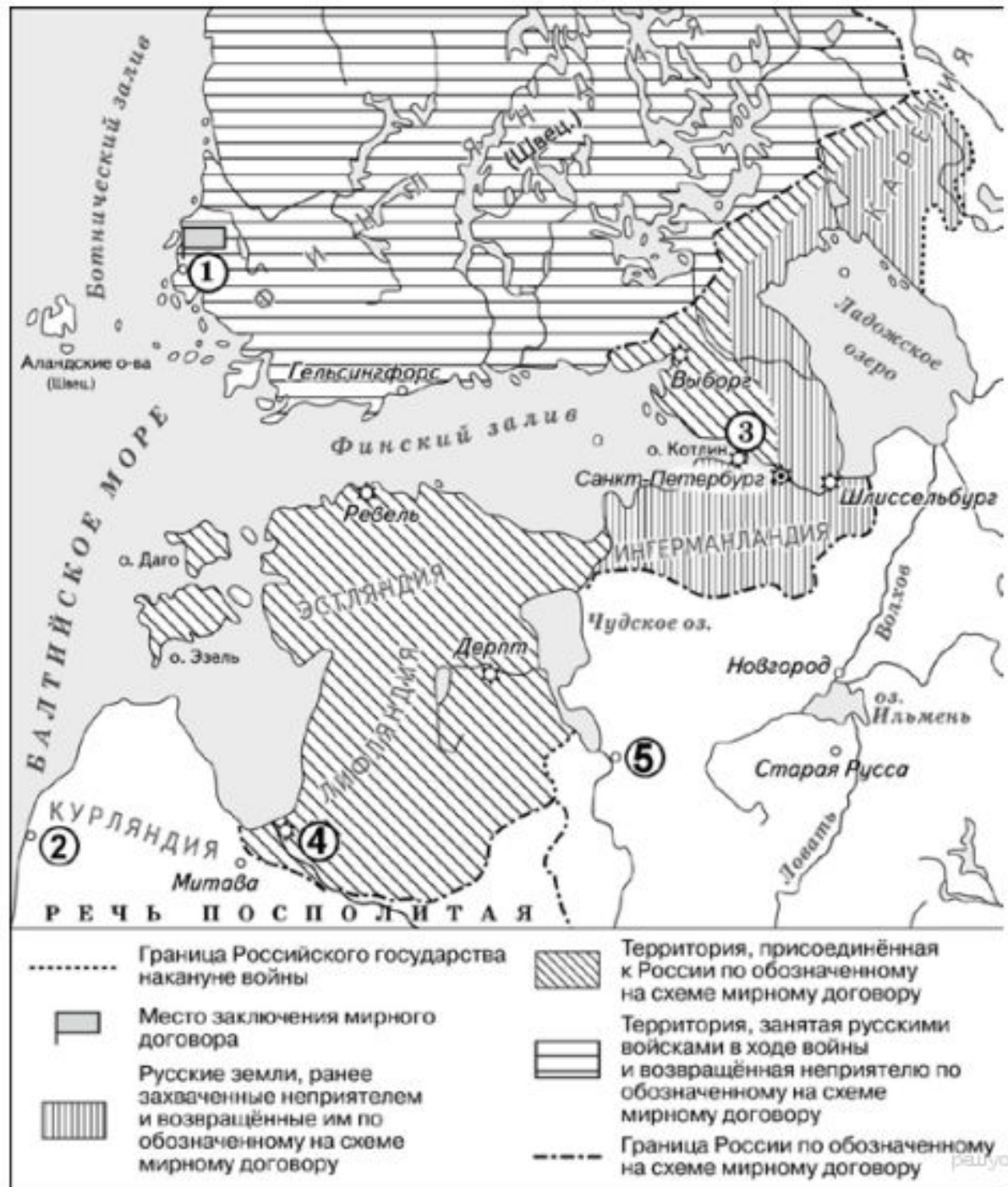
- Укажите век, когда произошли события, изображенные на схеме.
- Укажите название государства, которое было противником России в боевых действиях, обозначенных на схеме.



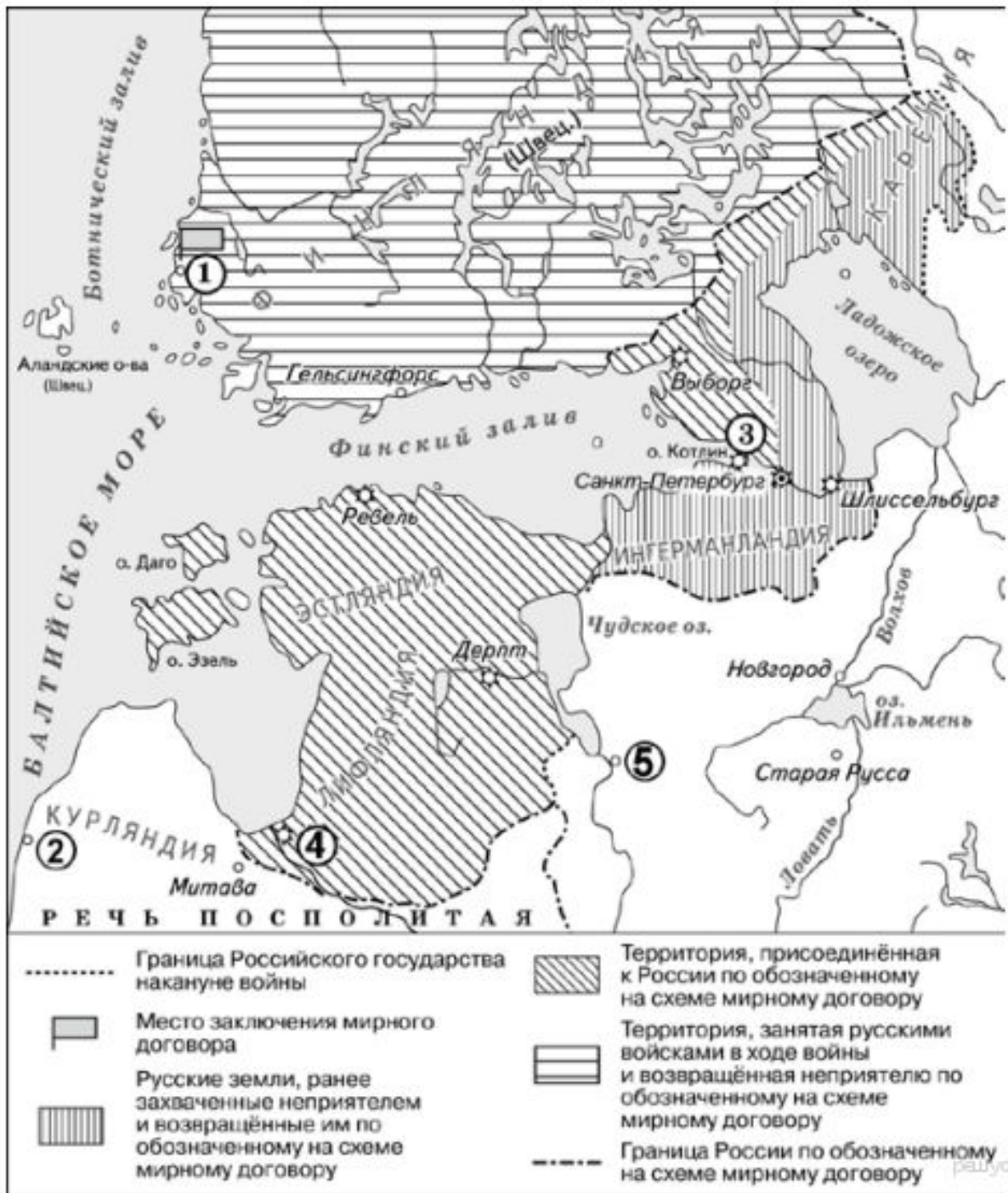
«Русская армия потерпела тяжёлое поражение: было потеряно значительное количество артиллерии, понесены тяжёлые людские потери, сильно пострадал командный состав. В Европе русскую армию на несколько лет перестали воспринимать как серьёзную силу, а Карл XII получил славу великого полководца. С другой стороны, эта тактическая победа посеяла семя будущего поражения Швеции — Карл XII поверил, что разбил русских надолго и сильно недооценивал их вплоть до Полтавы. Пётр I, напротив, после поражения под _____, осознал необходимость



- Назовите российского императора, в годы правления которого был заключён мирный договор, место подписания которого обозначено на схеме. В ответ запишите имя и порядковый номер императора. Например, Александр Первый)

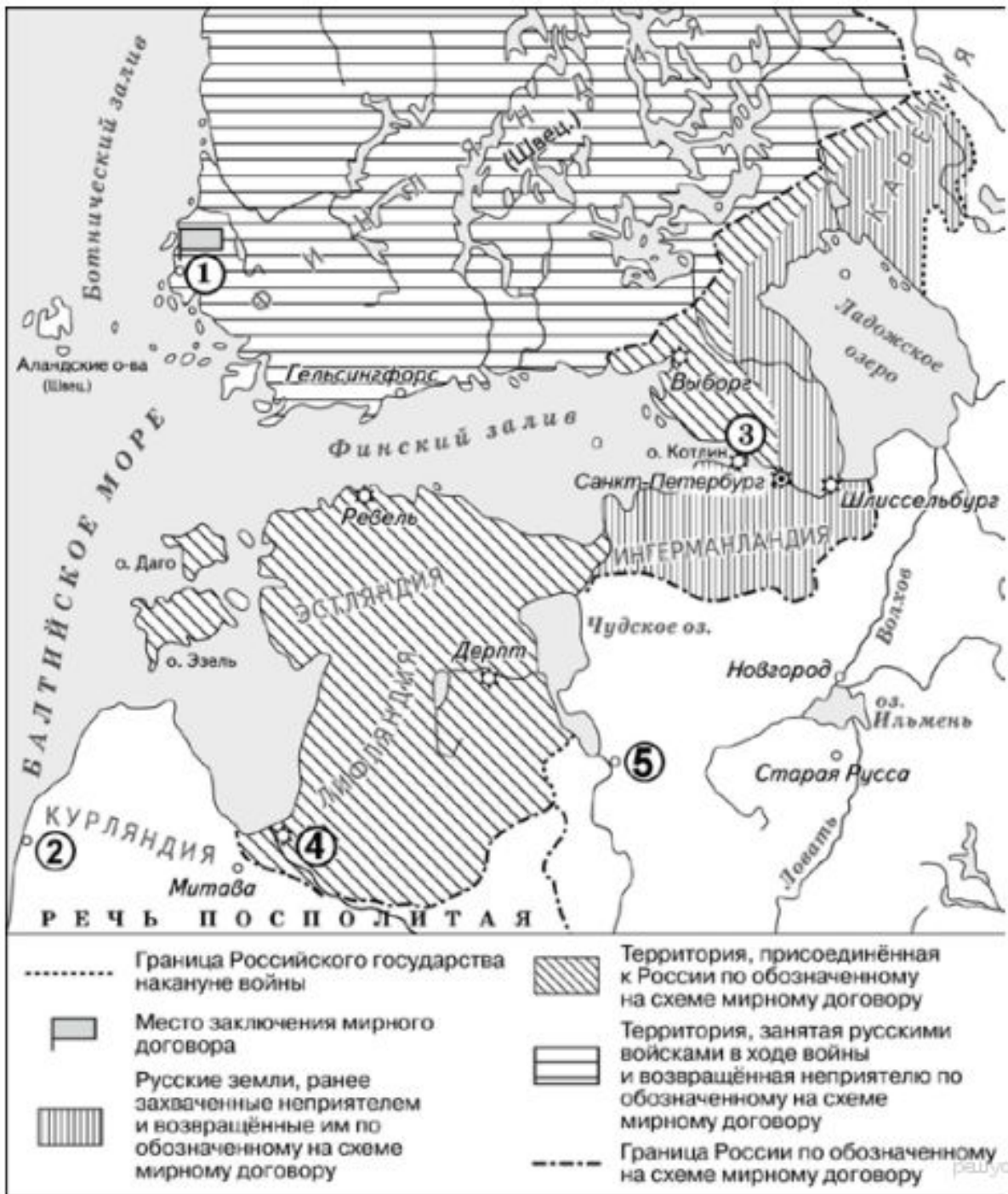


- Назовите морскую крепость, обозначенную на схеме цифрой «3».
- Назовите город, в котором был заключен мирный договор (цифра «1»)



«30 августа состоялось подписание мирного договора. За Россией закреплялось Балтийское побережье от Выборга до _____, т. е.

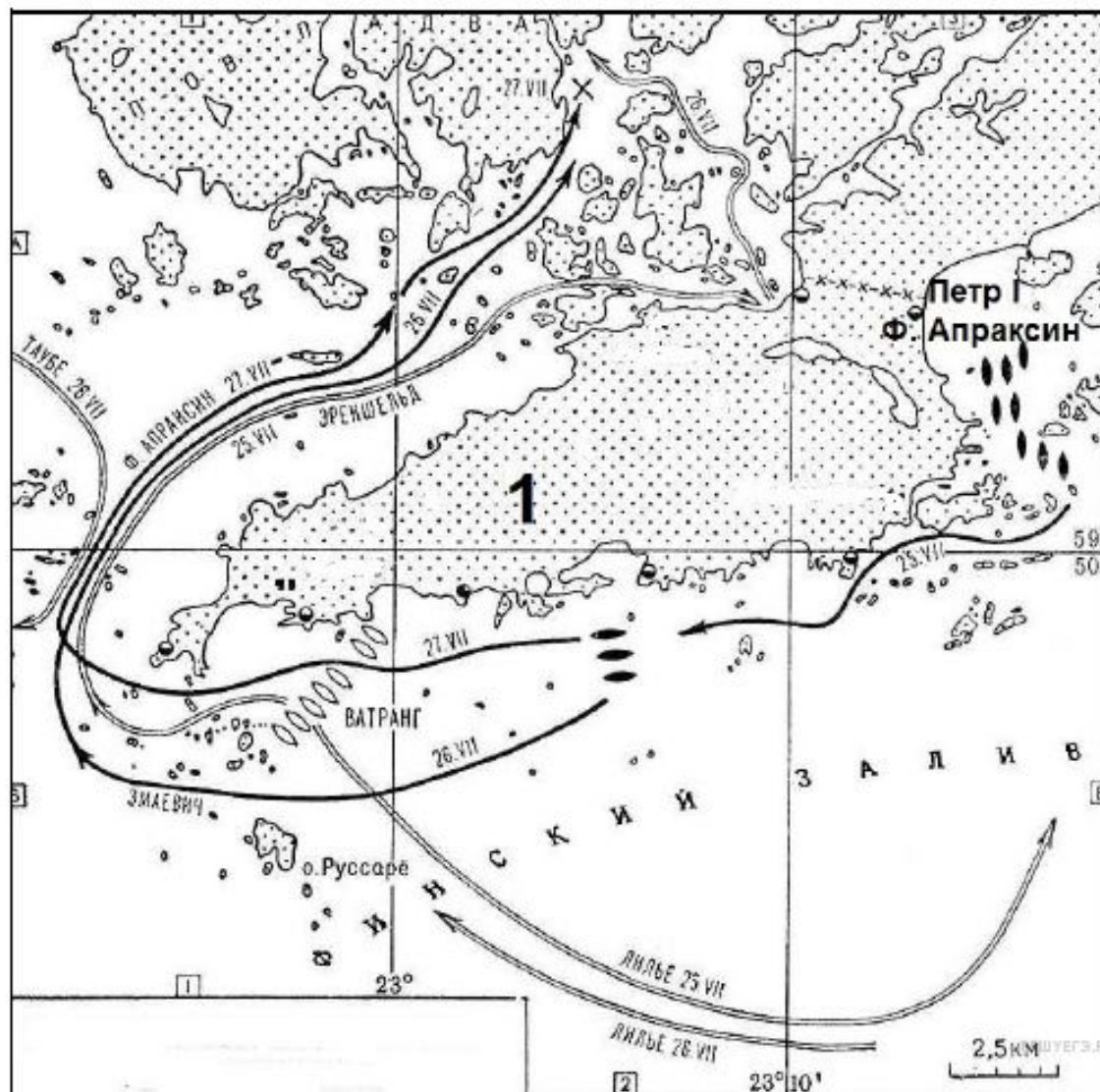
Ингерманландия, Эстляндия и Лифляндия со всеми их городами, с островами Эзель, Даго и Мен и часть Карелии. Финляндия возвращалась Швеции. Россия выплачивала Швеции 2 млн. ефимков (около 1,5 млн. руб.) и соглашалась разрешить шведам закупать и вывозить беспошлинно из _____ и Ревеля на 50 тыс. руб. хлеба



- Укажите название государства, в результате разделов которого в состав России вошли территории, обозначенные в легенде карты цифрой «1».
- Назовите монарха, в период правления которого в



- Напишите название войны, одно из сражений которой изображено на схеме.
- Напишите название места обозначенного на схеме сражения.



- Кто был правителем России в период войны, события которой обозначены на схеме?
- Напишите название города, обозначенного на схеме цифрой «2» и построенного в период войны, события которой обозначены на



- Укажите фамилию предводителя восстания, территория распространения которого обозначена в легенде карты цифрой «1».
- Назовите монарха, который правил в России в период, когда произошло восстание, обозначенное в легенде карты



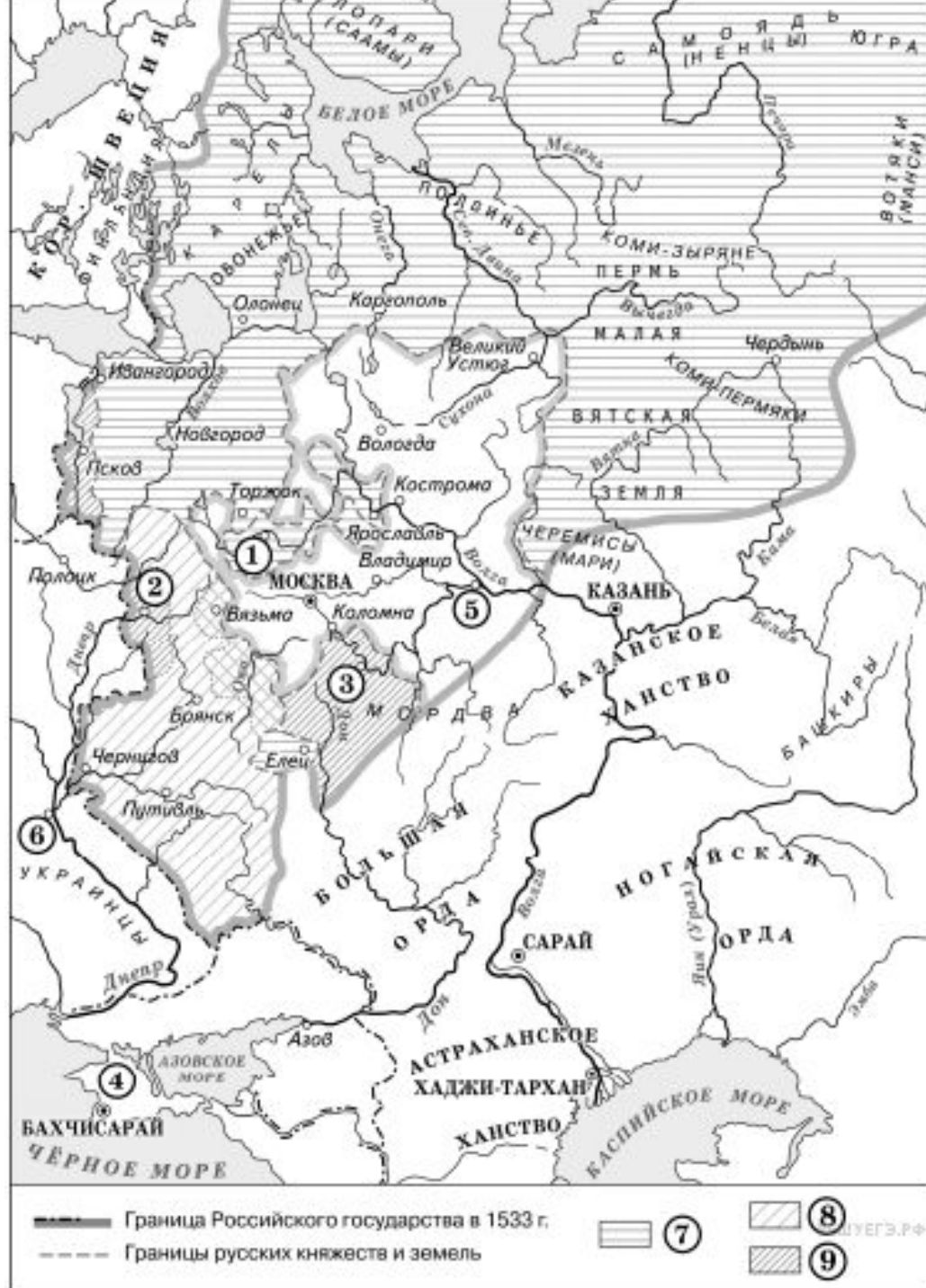
- Напишите название страны – противника России в войне, событиям которой посвящена схема.



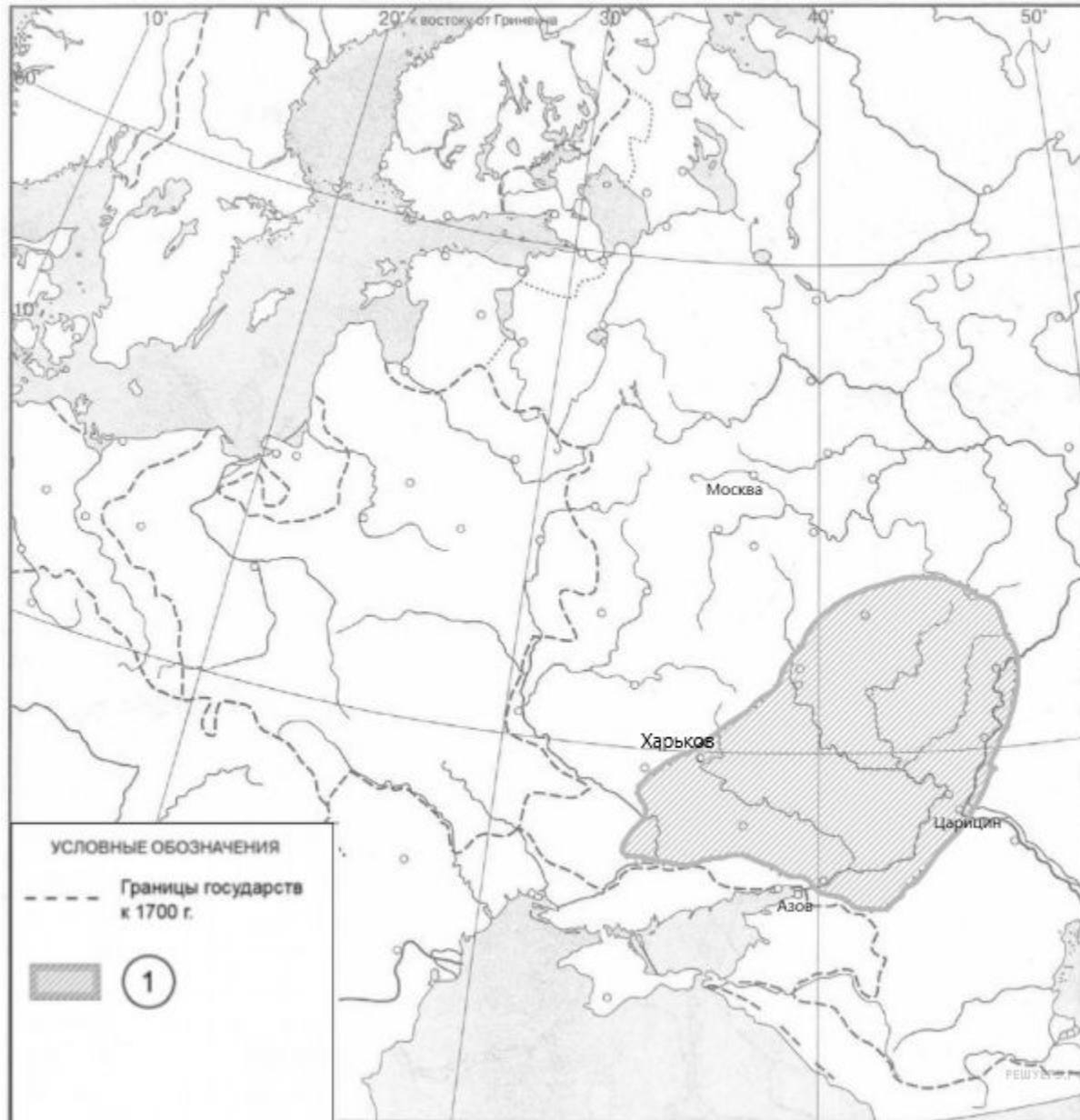
- Кто правил Россией в период этой войны?

Напишите фамилию полководца, возглавлявшего российские войска в сражении, обозначенном на схеме цифрой

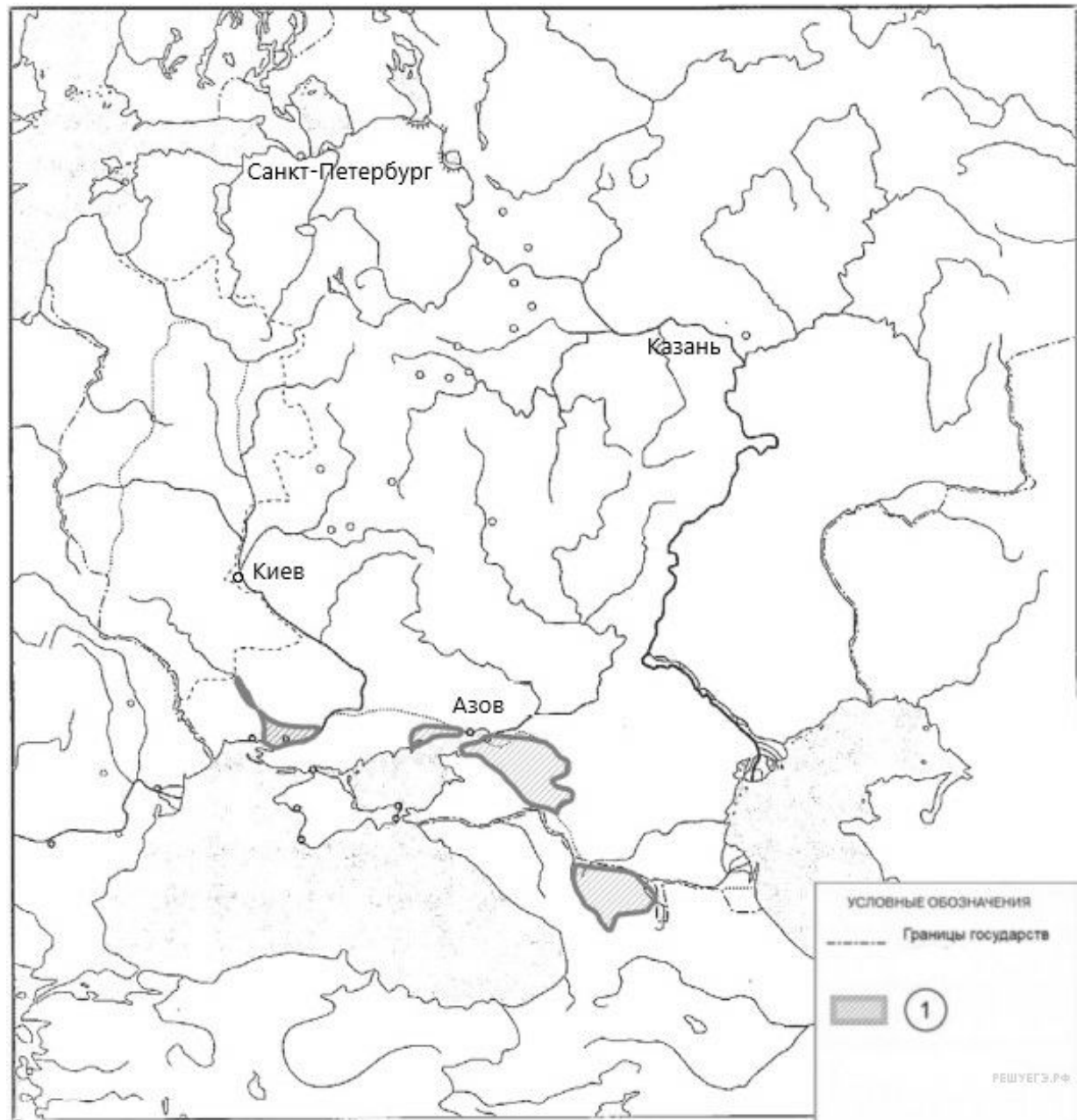
- Укажите век, когда к Российской империи впервые была присоединена территория, обозначенная на схеме цифрой «4».
- Заполните пропуск в предложении: «Вхождение в состав Российского государства города, обозначенного на схеме цифрой «6», было окончательно закреплено условиями _____ мира» с Речью Посполитой».



- Укажите название войны, в ходе которой вспыхнуло восстание, обозначенное в легенде карты цифрой «1».
- Укажите фамилию предводителя восстания.



- Укажите название государства, в результате войны с которым в состав России вошли территории, обозначенные в легенде карты цифрой «1».
- Назовите монарха в период правления которого произошла война, в результате которой в состав России вошли



- Укажите век, в котором в состав России вошли территории, обозначенные на карте цифрой «1».
- Укажите название государства, которое стало независимым в результате этой войны.

