



Устный счёт

Математика 1 класс
Сложение и вычитание
в пределах 10





Сосчитай

$$8 - 2 = 6$$

$$3 + 3 = 6$$

$$6 + 2 = 8$$

$$4 - 2 = 2$$

$$5 + 3 = 8$$

$$9 - 1 = 8$$





Вставь знаки «-» или

$$6 + 4 - \overset{\langle \pm \rangle}{2} = 8$$


$$6 - 4 - 2 = 0$$

$$6 - 4 + 2 = 4$$





Разгадай ритм и продолжи



КТО ЕСТЬ КТО?

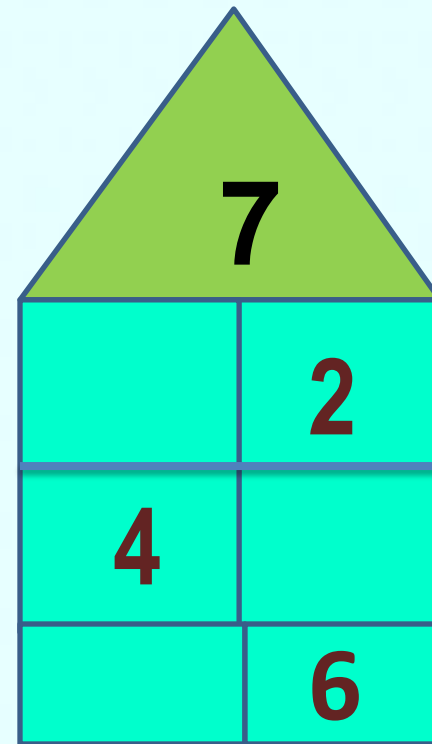
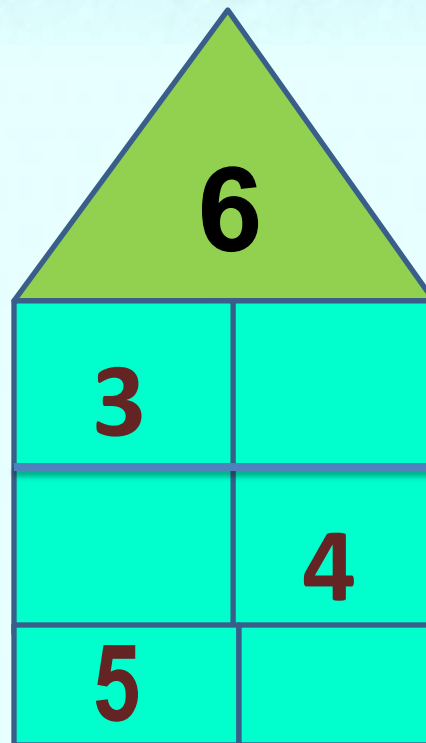
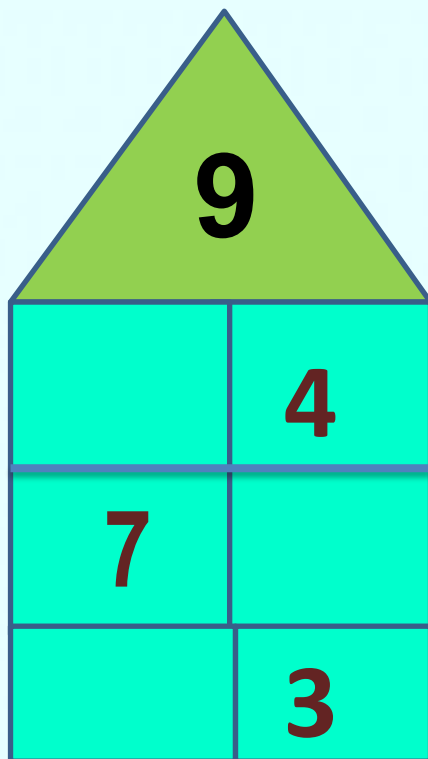
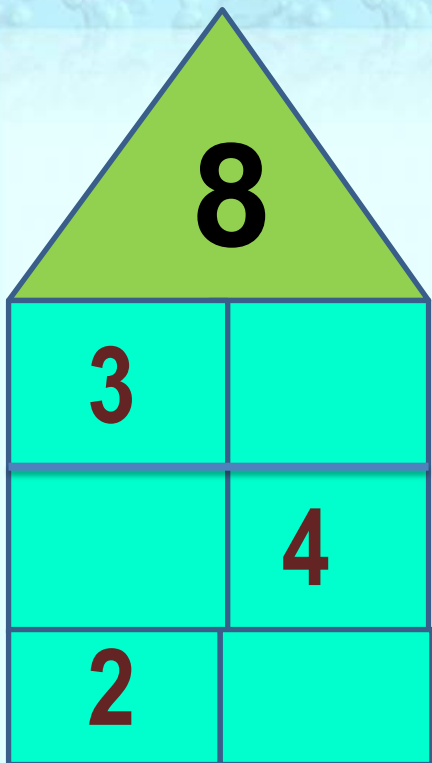


Шари Тузи Боби

Трёх щенков назвали Бобик, Шарик и Тузик.
У Бобика длинные уши. У Шарика длинный
хвост. А Тузик сидит в середине.



«Засели» ДОМИКИ





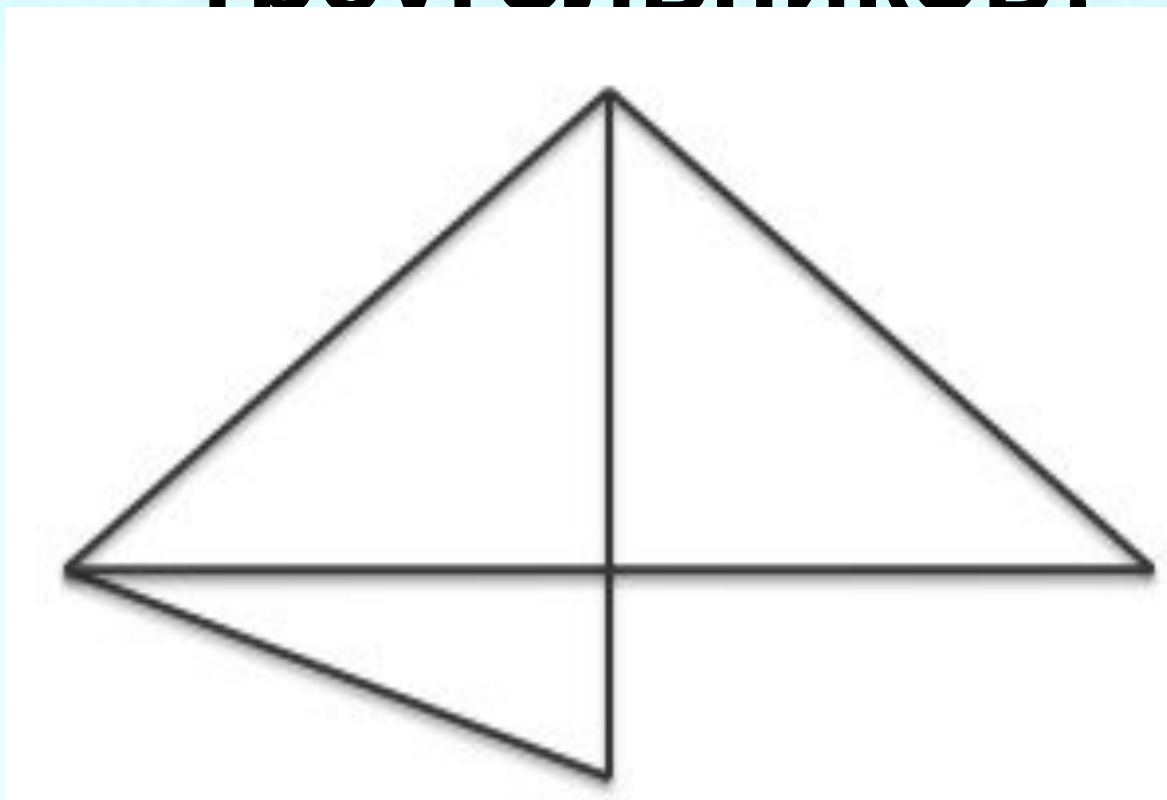
**Составь задачу и
реши её**





**Сколько здесь
треугольников?**

5





Задача на смекалку



Лежали конфеты в кучке.

Две матери, две дочери да бабушка с внучкой взяли конфет по одной штучке, и не стало этой кучки.

Сколько конфет было в кучке?



3





Задача в стихах

Группа малышей- утят
Плывать и нырять хотят.
6 – уплыли далеко,
2 – нырнули глубоко.
Сколько же утят в пруду?
Сосчитать я не могу.





**МОЛОДЦ
Ы!**