



5



7



3



# Тема урока: "Умножение и деление на 2"



# 1. Реши примеры и задачу письменно

$$9 \cdot 3 = 27$$

$$3 : 3 = 1$$

$$10 \cdot 2 = 20$$

$$27 : 3 = 9$$

$$3 \cdot 7 = 21$$

$$18 : 2 = 9$$

$$5 \cdot 3 = 15$$

$$16 : 2 = 8$$

$$9 \cdot 2 = 18$$

$$6 : 3 = 2$$

2.

На арене цирка выступали 7 клоунов, а акробатов в 3 раза больше. Сколько всего артистов выступало на арене цирка?

$$7 \cdot 3 + 7 = 28$$



*Сколько слив?*

$$3 \cdot 5 = 15$$

*А клубники?*

$$3 \cdot 6 = 18$$



*Между сколькими детьми можно разделить сливы? А клубнику?*


$$15 : 3 = 5$$

$$18 : 3 = 6$$

$$15 : 5 = 3$$

$$18 : 6 = 3$$



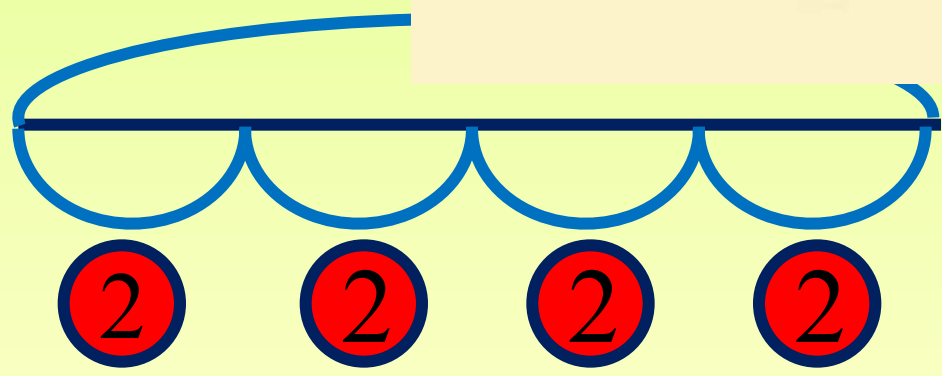



*Реши письменно*

*8 вишен разложили на  
4 пирожных поровну.*

*По сколько вишен будет  
на каждом пирожном?*





0.4-2 (B.)

*Ответ: по 2 вишни*

*Какие равенства верны, а какие нет?*

*Реши письменно*

$$5 + 8 = 8 + 5$$

$$5 \cdot 3 = 3 \cdot 5$$

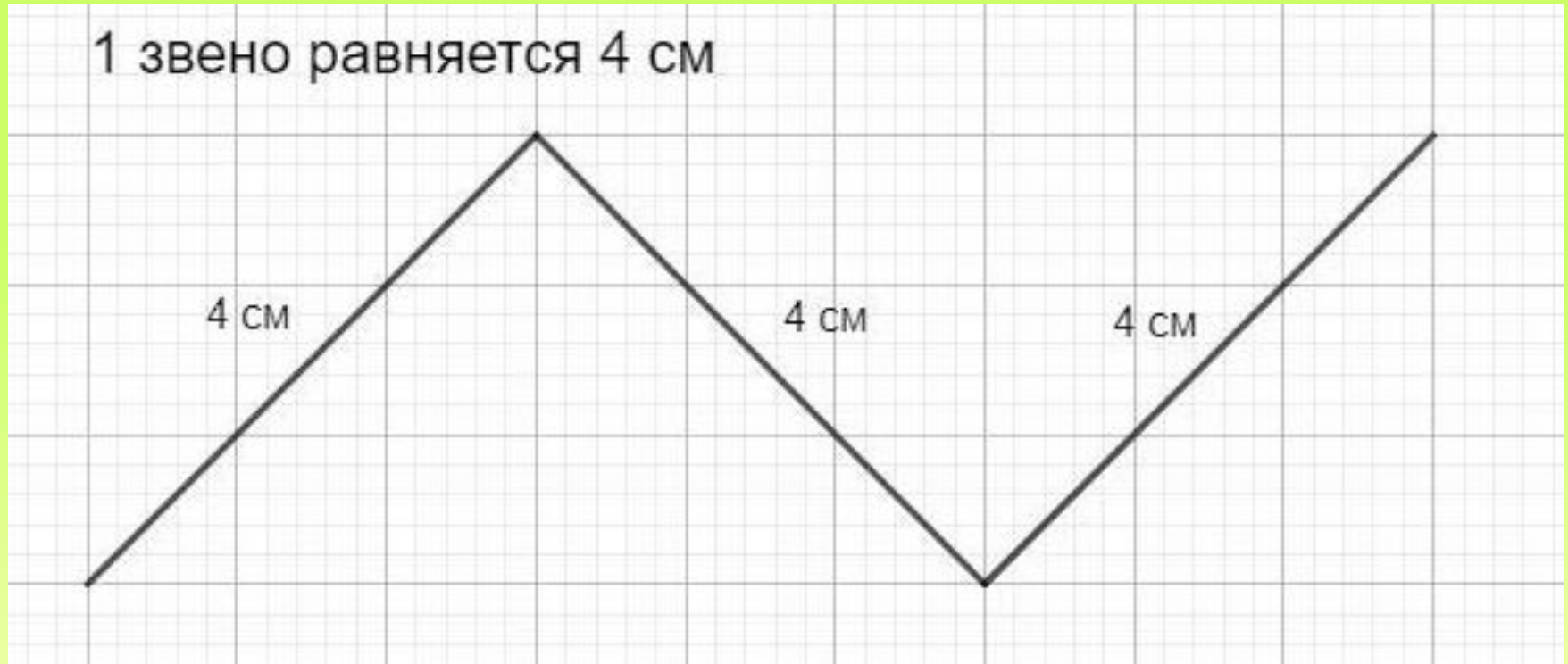
$$3 + 7 = 7 \cdot 3$$

$$2 \cdot 4 = 4 + 2$$




# Найди длину ломаной линии

## Выполни письменно



$$4 \cdot 3 = 12 \text{ см}$$



$$3 \cdot 2 + 9 \cdot 2 = 24 \text{ cm}$$



# Реши уравнения письменно:

$$27 : x = 9$$

$$x = 3$$

$$y \cdot 5 = 15$$

$$y = 3$$

$$20 : y = 2$$

$$y = 10$$

$$2 \cdot x = 14$$

$$x = 7$$

$$8 : x = 4$$

$$x = 2$$

$$3 \cdot y = 30$$

$$y = 10$$