



# **ПРОВЕРОЧНАЯ РАБОТА**

## **1 КЛАСС**

# 1. В СЕПТИМЕ

- а) 6 ступеней
- б) 7 ступеней
- в) 1 ступень

## 2. 8 ступеней в

- а) **приме**
- б) **октаве**
- в) **сексте**

### 3. Секста обозначается цифрой

а) 1

б) 4

в) 6



**4. В секунде**

**а) 2 ступени**

**б) 3 ступени**

**в) 4 ступени**



## 5. Как обозначается терция

а) 3

б) 5


в) I

# 6. Найди секунду




# 7. Выбери верный интервал

а)




2

б)



3

в)



5



# 8. Найди кварту

