


Вегет а Віта



1 клас

3. Круть і Верть склали приклади. Хто з них уважніший? Що ти порадиш повторити Крутю? А що Вертю?

	Сума 2 і 1	Різниця 6 і 1	Сума 8 і 1	Різниця 9 і 1
Круть	$2 + 1 = 3$	$6 + 1 = 7$	$8 + 1 = 9$	$9 + 1 = 10$
Верть	$2 + 1 = 3$	$6 - 1 = 4$	$8 + 1 = 10$	$9 - 1 = 7$

1

Розгляньте діаграму зросту звірів . Дайте відповіді на

• *Скільки всього звірів зображено
запитання*
?

• *Який з звірів найвищий ?*

• *Який з звірів найнижчий ?*

• *Підскажіть, як вишикуватись
звірам за зростом*



2

Назвіть числа пропущені в таблиці. Поясніть, як знайти невідомі числа

Доданок	5			7	9		6	
Доданок		7	9			8		8
Сума	10	15	11	14	17	16	15	17

Зменшуване	17			17	14		18	
Від'ємник		8	9			8		8
Різниця	10	8	6	8	5	6	9	7

3

Розглянь діаграму, на якій показано, як учні 3 класу

дістаються до школи. Дай відповіді

- Скільки учнів ідуть до школи пішки ?
- Скільки учнів їдуть машиною ?
- Скільки учнів ідуть шкільним автобусом ?
- Скільки всього учнів у класі ?
- Чим більшість учнів 3 класу дістається до школи ? Чим найменше ?



2

Іван, Орест, Олесь, Тихін, Павло метали м'яч у корзину. На діаграмі показано, скільки раз попав у корзину кожний. Розгляньте діаграму і дайте відповіді на наступні запитання



- Скільки всього дітей брало участь у змаганні ?
- Хто з дітей є переможцем змагання?
- Хто з дітей програв у змаганні ?
- У кого з учнів

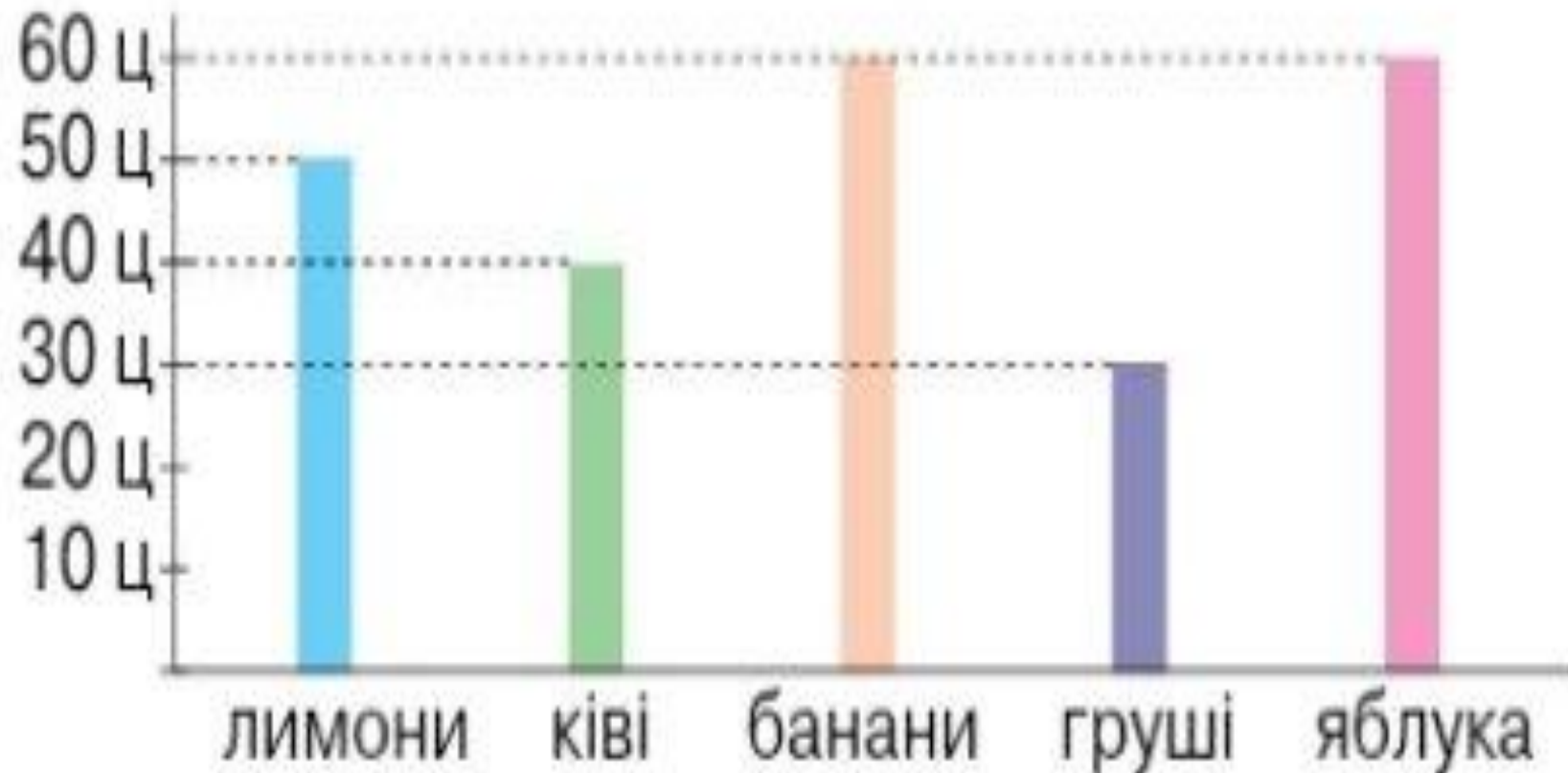
**Галайч
ук
Дарина**



2

клас

Розглянь діаграму продажу фруктів у супермаркеті та дай відповіді на запитання:



БЕСІД

А:

- 1) У яких одиницях вимірювали масу фруктів?
- 2) Яких фруктів продали найменше?
- 3) Яких фруктів продали однаково?
- 4) Чого продали більше — лимонів чи яблук?

Касянчи к Ірина

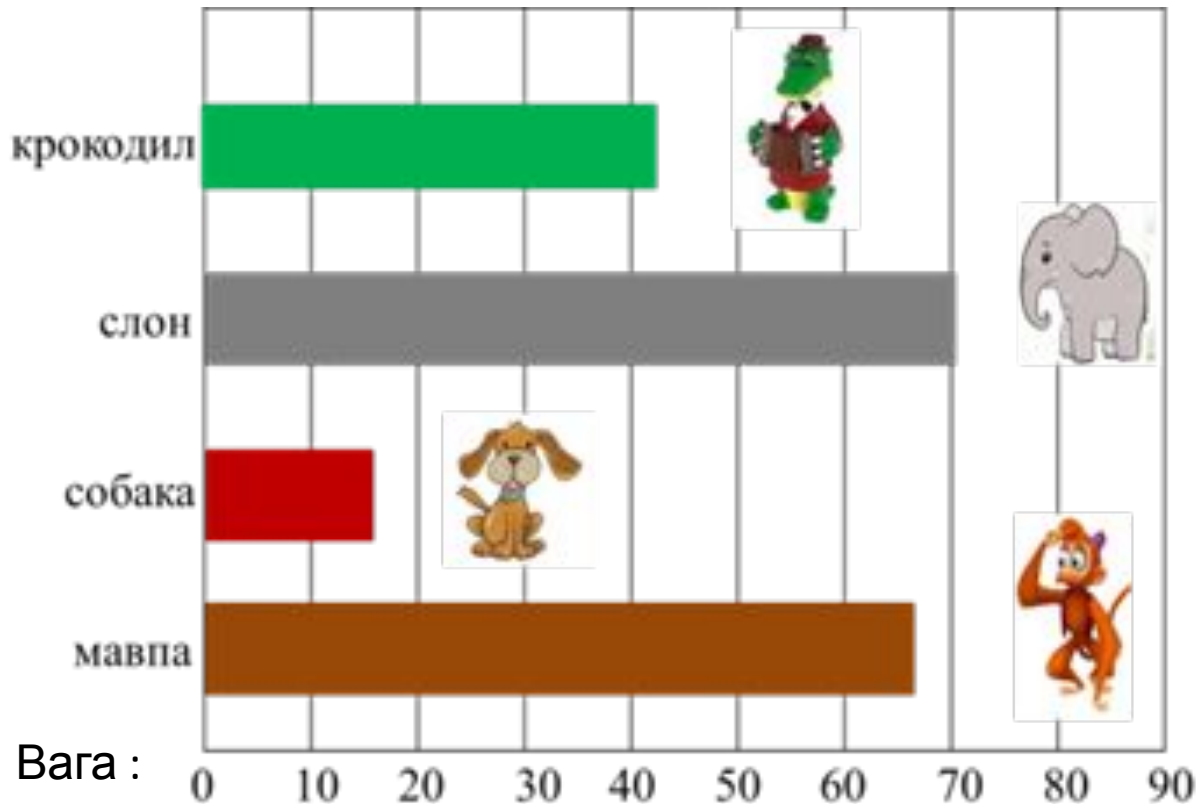


«Робота з даними» 3 клас

Касянчик Іра А-32

Завдання 1. В зоопарку провели зважування тварин, результати подали у вигляді діаграми. Розгляньте діаграму , дайте відповідь на запитання :

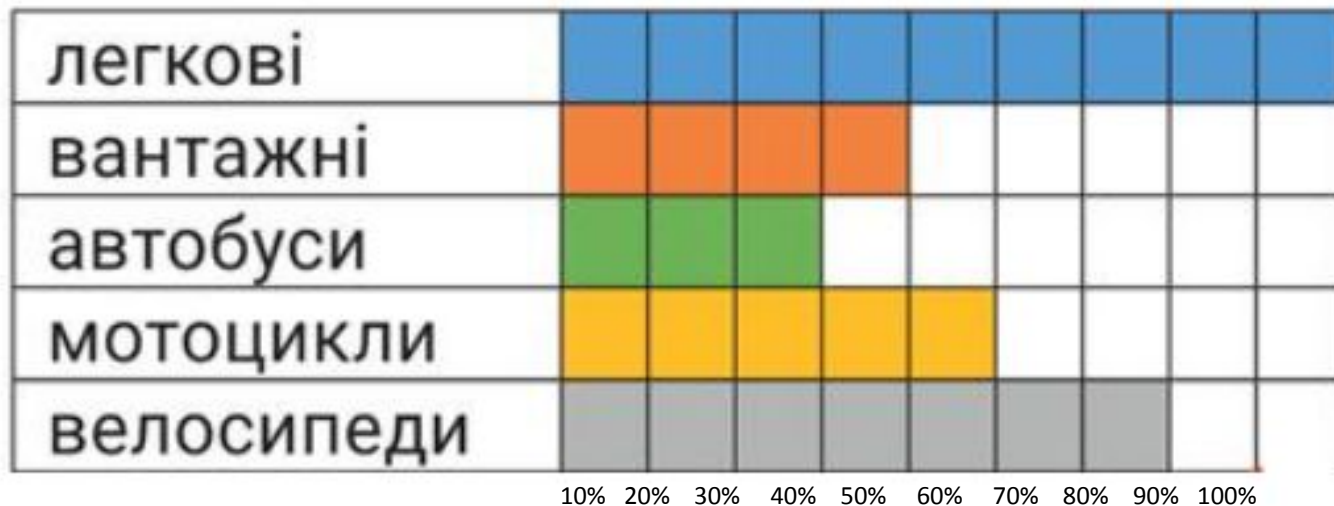
На скільки кілограм мавпа важча за крокодила ? На скільки кілограм більше важить найважча тварина за тварину яка заважила найменше ? На скільки кілограм крокодил важчий за собаку ? Яка вага у слона , крокодила і мавпи?



Завдання 2 .

У хлопчиків провели опитування “Мій улюблений транспорт , результати подали у вигляді діаграми . Розгляньте діаграму , дайте відповідь на запитання :

- Скільки відсотків хлопчиків люблять вантажні автомобілі ?
- У скільки відсотків більше прихильників легкових автомобілів ніж автобусів?
- На скільки відсотків любителів велосипедів більше за любителів мотоциклів ?



Завдання 3 Розглянь діаграму дай відповіді на питання :

- На скільки яблук більше за ківі ?
- У скільки разів винограду більше з лимони ?
- Яка вага ананаса , яблука і груші ?
- Чи правильне твердження що вага ананаса і яблука однакова ?
- На скільки вага груш і яблук більша за вагу ківі ?



Завдання 4 . Визнач і запиши вагу тварин . Яка вага жирафи , зебри і зайця разом ? Яка тварина важить найменше ? На скільки кілограм вага зебри менша від ваги жирафи ?

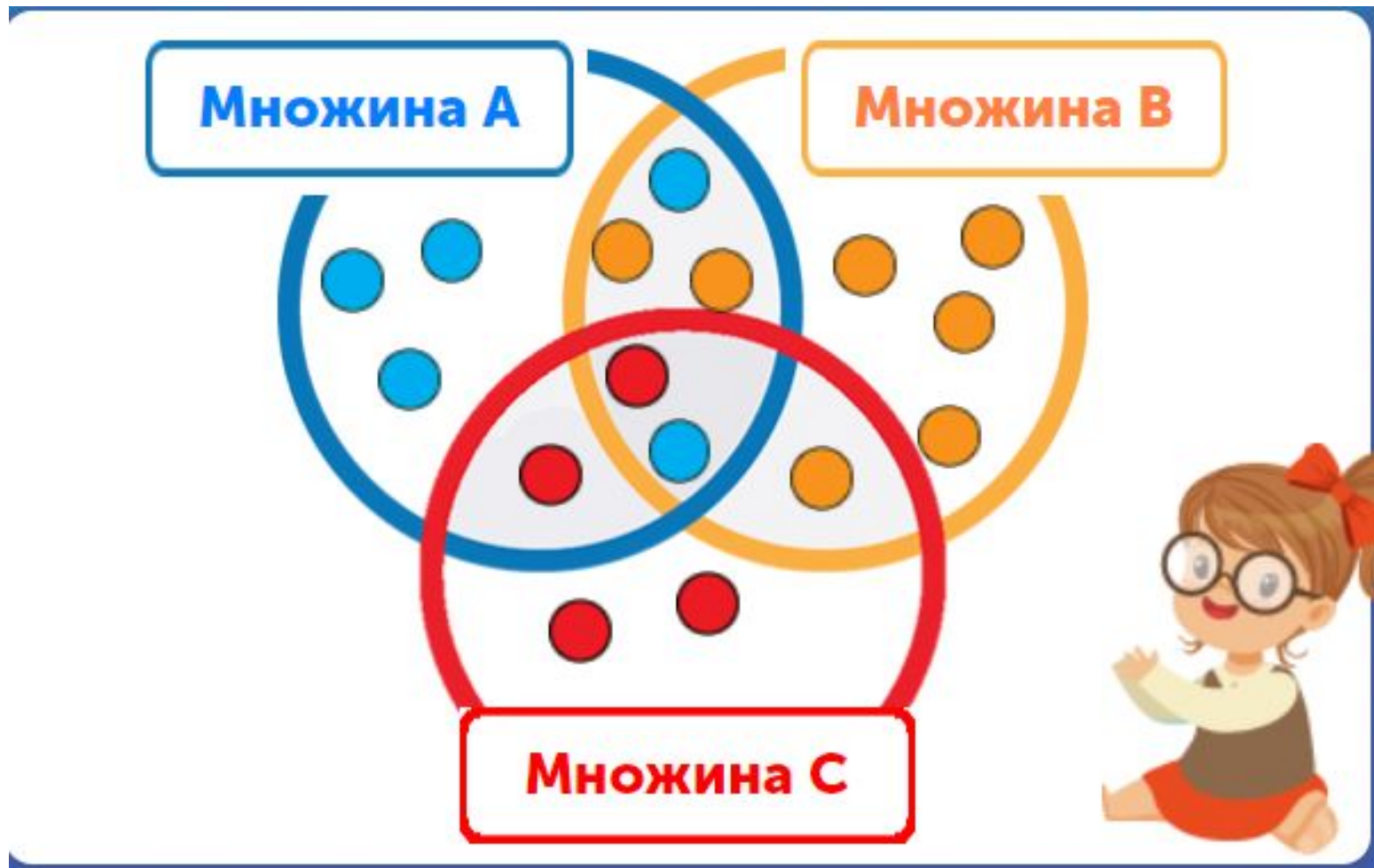


Завдання 5 .

Яка множина містить найбільше елементів ?

Скільки елементів містить множина С і В ?

На скільки елементів більше містить множина В за множину А ?



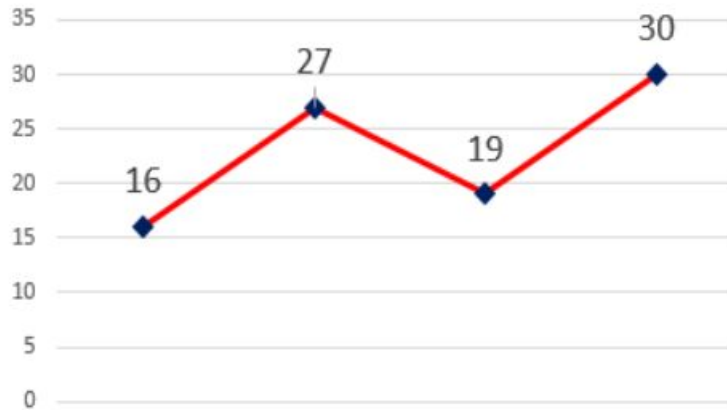
Завдання 6 . Розглянь графік , дай відповіді на питання .

Яких овочів найменше ?

На скільки картоплин більше за помідори ?

Скільки перцю , капусти і помідор разом ?

На скільки картоплі і перцю більше за капусту ?



Four empty rectangular boxes for writing answers.



= 27



= 30



= 19



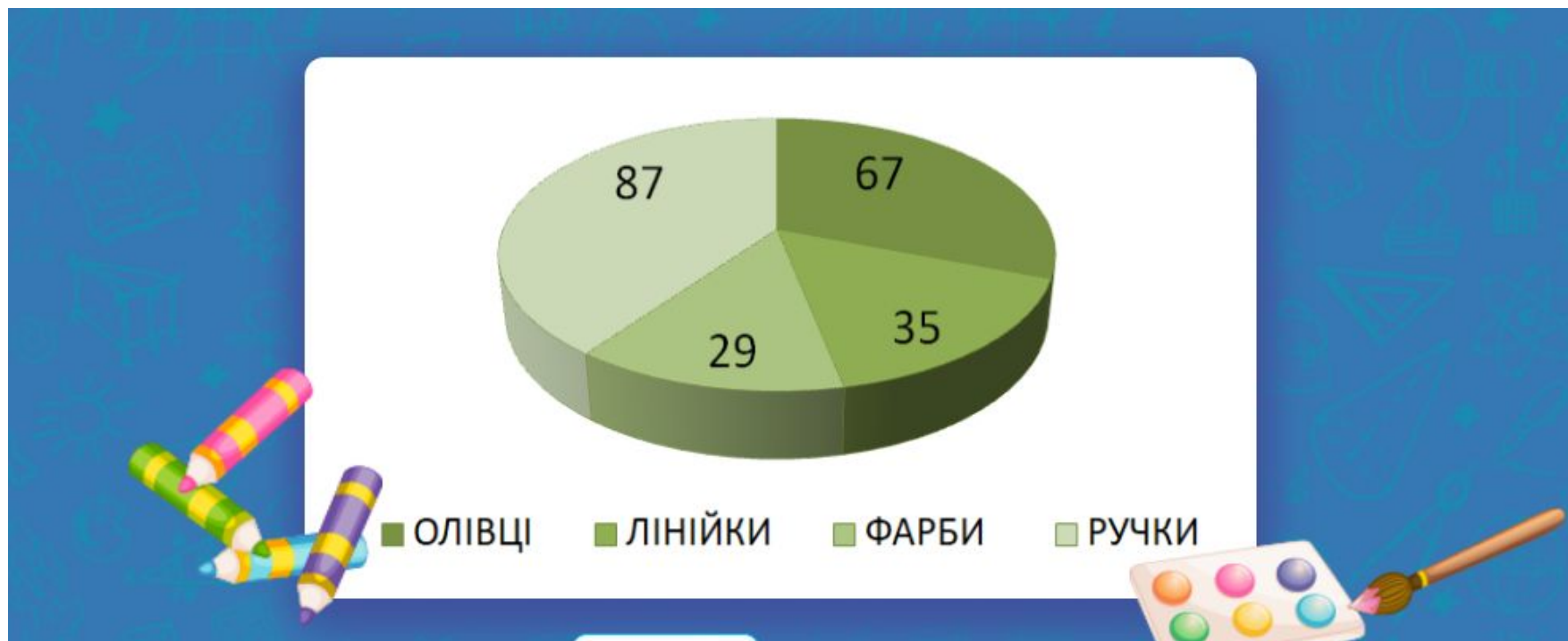
= 16

Завдання 7. До магазину завезли канцелярію , кількість подали у вигляді кругової діаграми . Розглянь діаграму ,дай відповіді на питання :

На скільки більше олівців за фарб завезли до магазину ?

Скільки до магазину завезли лінійок , олівців і фарб ?

На скільки ручок менше за олівці та лінійки разом ?



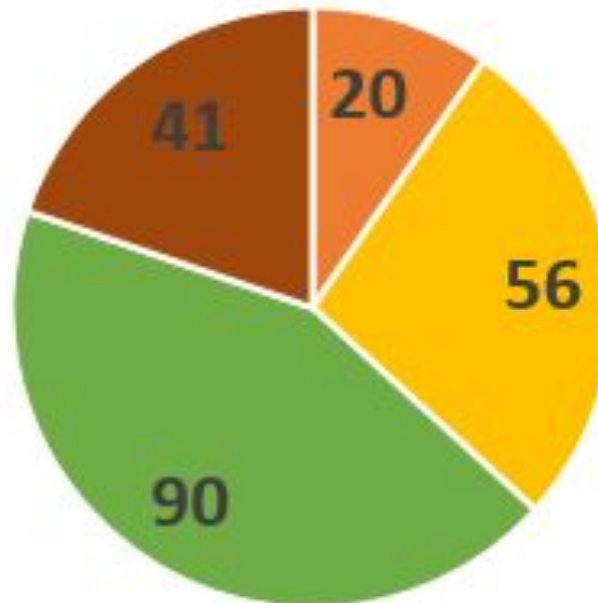
Розглянь діаграму, дай відповіді на питання :

На скільки слив більше абрикоси ?

Скільки груш і яблук разом ?

На скільки яблук і груш більше за абрикоси ?

Скільки слив і груш разом ?



■ яблука ■ груші ■ сливи ■ абрикоси

Завдання 8 .Розглянь малюнок , дай відповідь на запитання :

Скільки дітей обрали біг ?

Чи правильне твердження : “ Волейбол і Футбол обрала однакова кількість дітей ?”

На скільки більше дітей обрали волейбол ніж біг ?



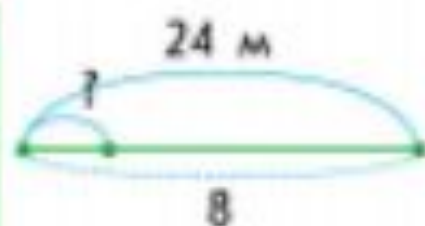
- 2) Кравчиня пошила 8 однакових костюмів, витративши на них 24 м тканини. Скільки метрів тканини витратила кравчиня на один костюм?

I множник

II множник

Добуток

	Кількість	Загальна
I		



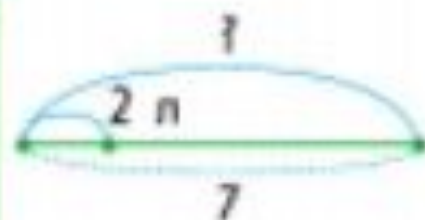
- 3) Скільки літрів варення у 7 дволітрових банках?

I множник

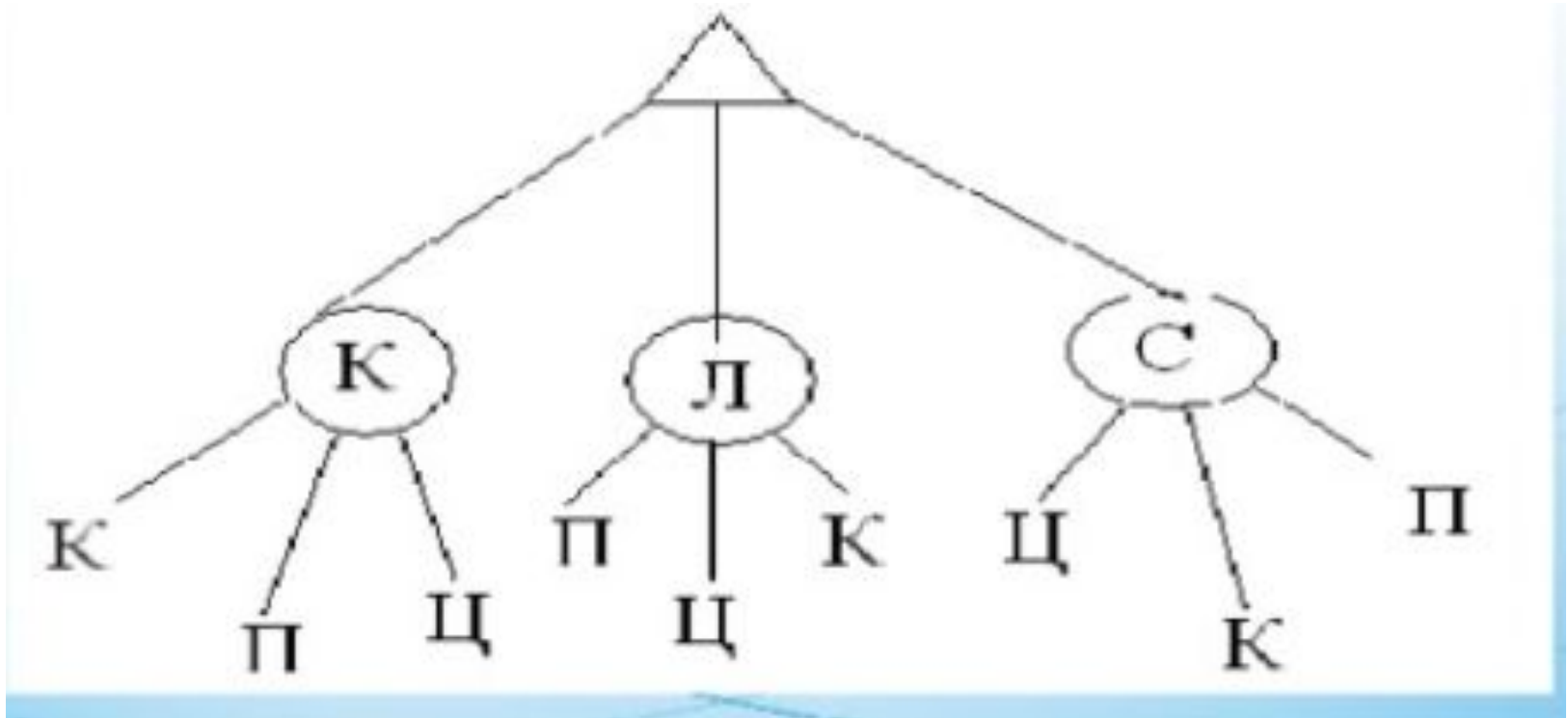
II множник

Добуток

	Кількість	Загальна
I		



Катя , Леся і Саша отримали нові завдання : К- розставити книги , П- витерти пил , Ц- покормити цуцення.
Скількома способами вони можуть розподілити обов'язки?



Заповнити ланцюжок обчислень



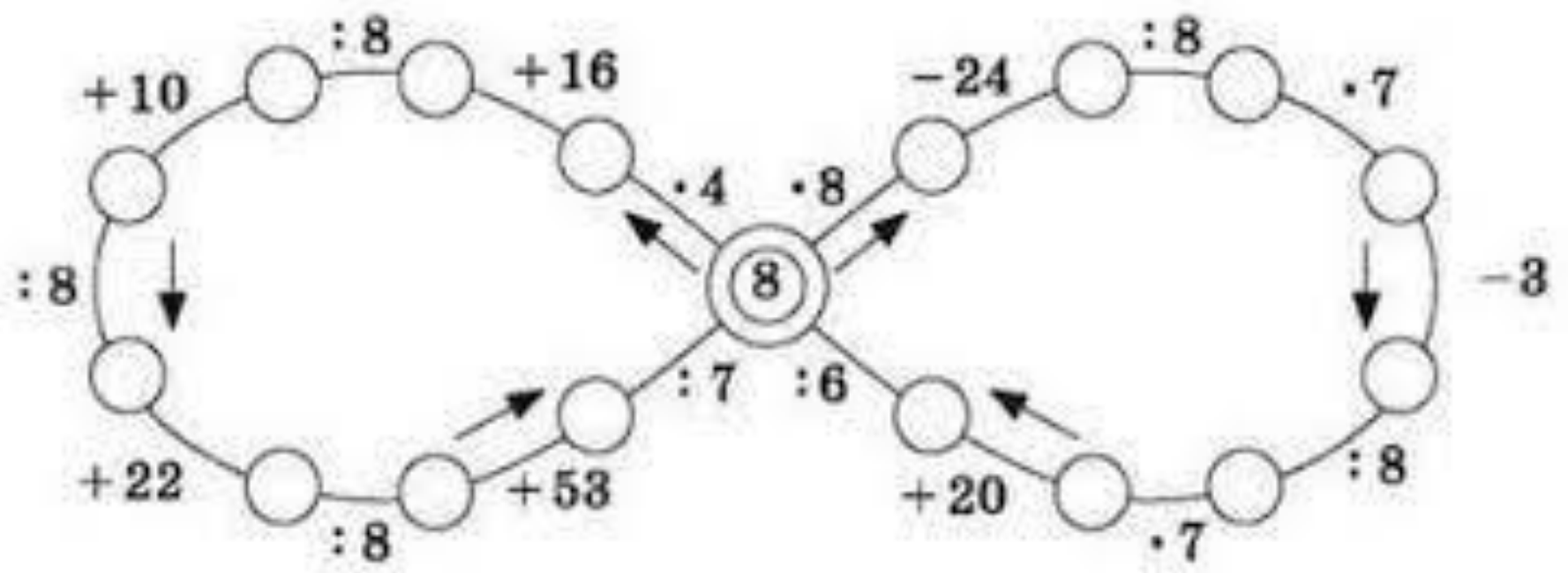
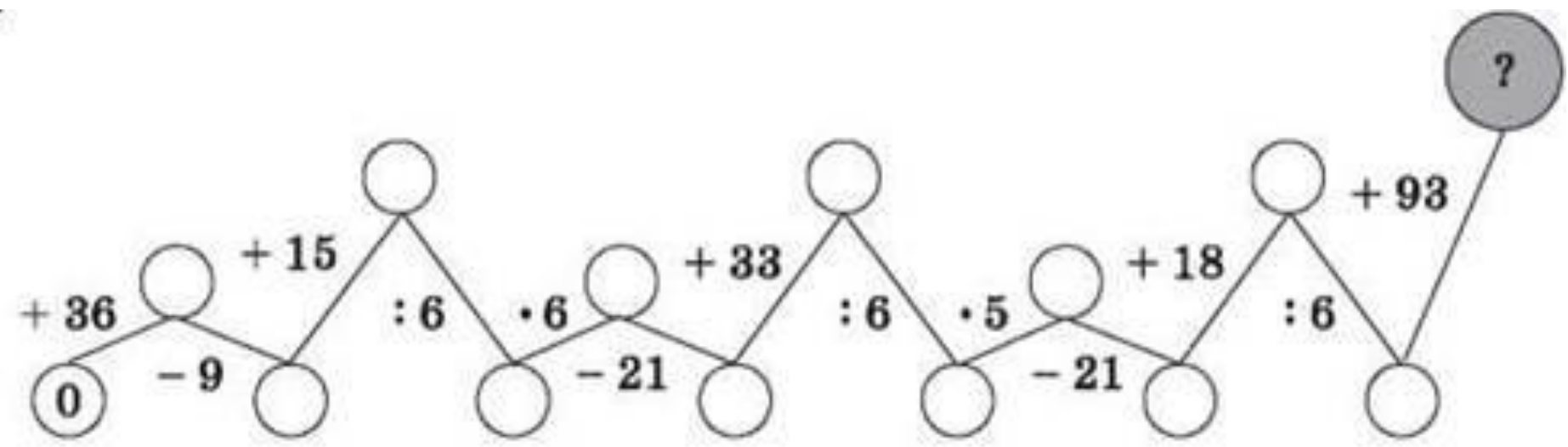
40 $\div 5$ \rightarrow $\cdot 3$ \rightarrow $\div 6$ \rightarrow $+ 46$ \rightarrow

72 $\div 8$ \rightarrow $+ 11$ \rightarrow $\div 5$ \rightarrow $\cdot 9$ \rightarrow

28 $\div 7$ \rightarrow $\cdot 8$ \rightarrow $+ 8$ \rightarrow $\div 10$ \rightarrow

56 $\div 8$ \rightarrow $+ 13$ \rightarrow $\div 4$ \rightarrow $\cdot 8$ \rightarrow





**Куришко
Анастасі
я**



Завдання 1

Овочевий

салат

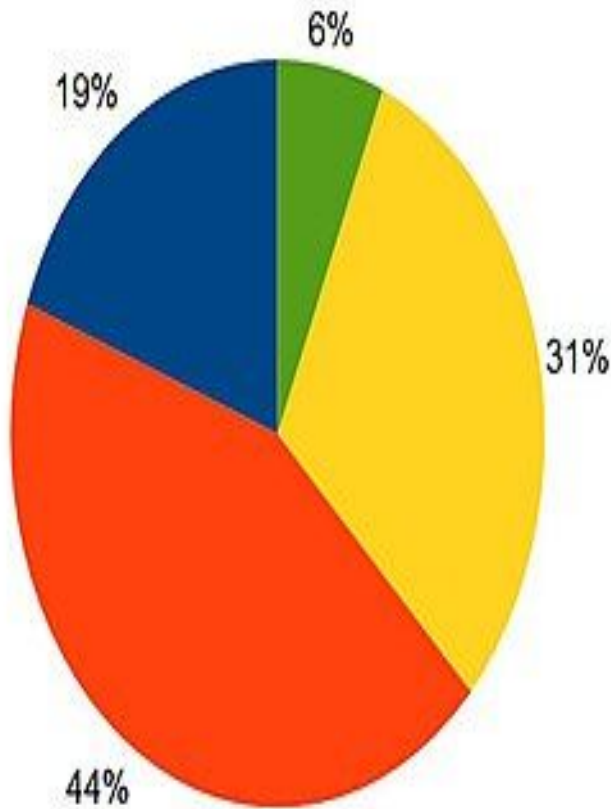
- Яких овочів у салаті найбільше?

- Яких найменше?

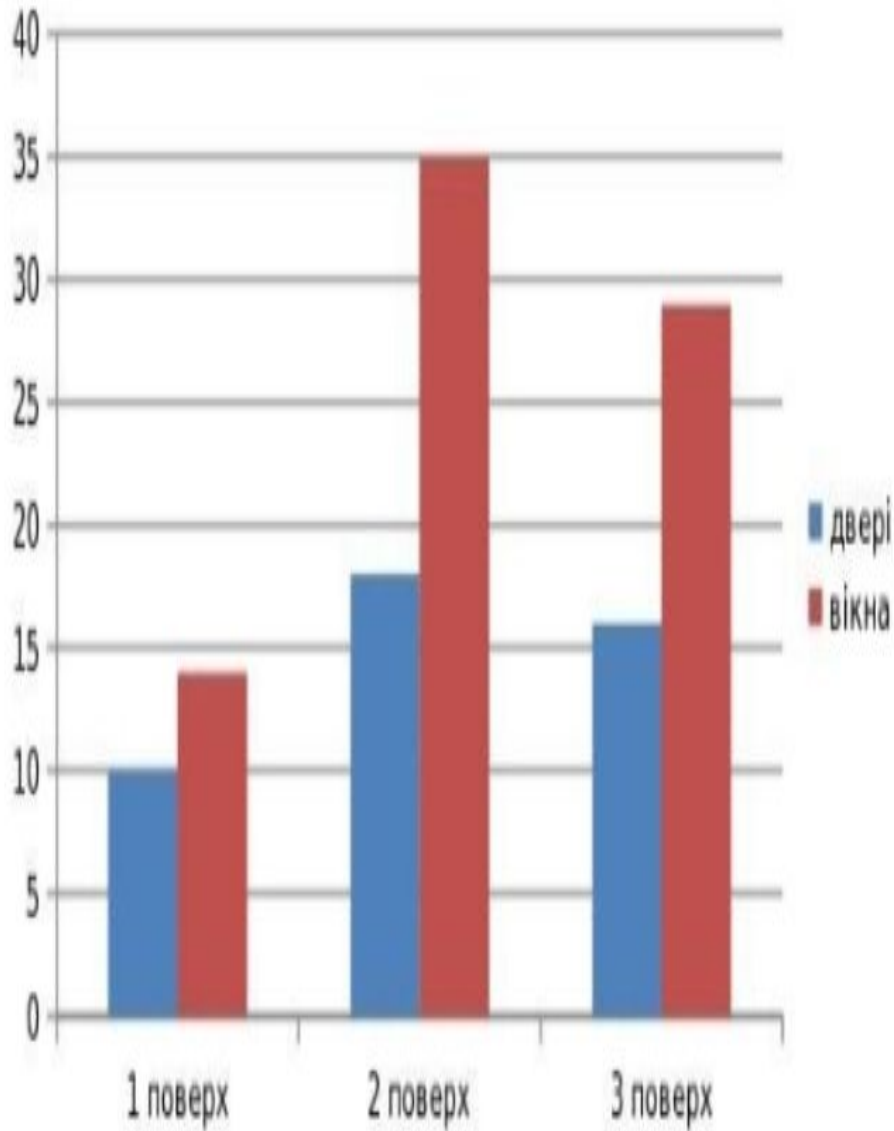
- Чого у салаті більше огірків чи помідор?

- Чого менше капусти чи цибулі?

- Чого більше цибулі та капусти разом чи помідор та огірків?



Завдання 2



- Діти діляться на 3 групи. Кожна група отримає завдання порахувати двері і вікна у своїй школі. 1 група на першому поверсі, 2 група на другому, 3 на третьому.
- Двері позначенні синім кольором, вікна червоним.
- **Завдання:**
 - На якому поверсі дверей найбільше?
 - На якому поверсі найбільше вікон?
 - Порівняйте кількість вікон на 1 і 3 поверсі; 2 і 3; 1 і 2.
 - Порівняйте кількість дверей на 1 і 2 поверсі; 2 і 3; 1 і 2.

Завдання 3

У шкільній їдальні для приготування обідів використали овочі.

Першого дня- картоплі-45, моркви-15, буряка-30

Другого дня- картоплі -50, моркви-15, буряка-20

Третього дня- картоплі- 40, моркви-20, буряка-10

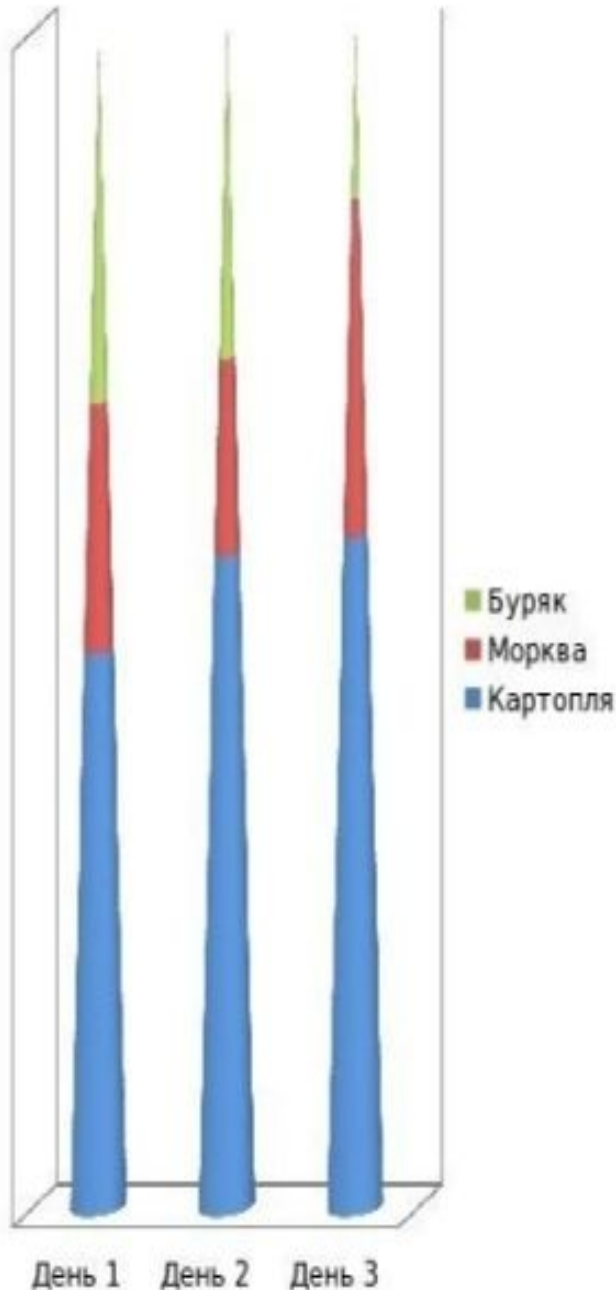
Завдання:

-Яких овочів використали найбільше за три дні?

-Яких найменше?

-Якого дня буряка використали найменше?

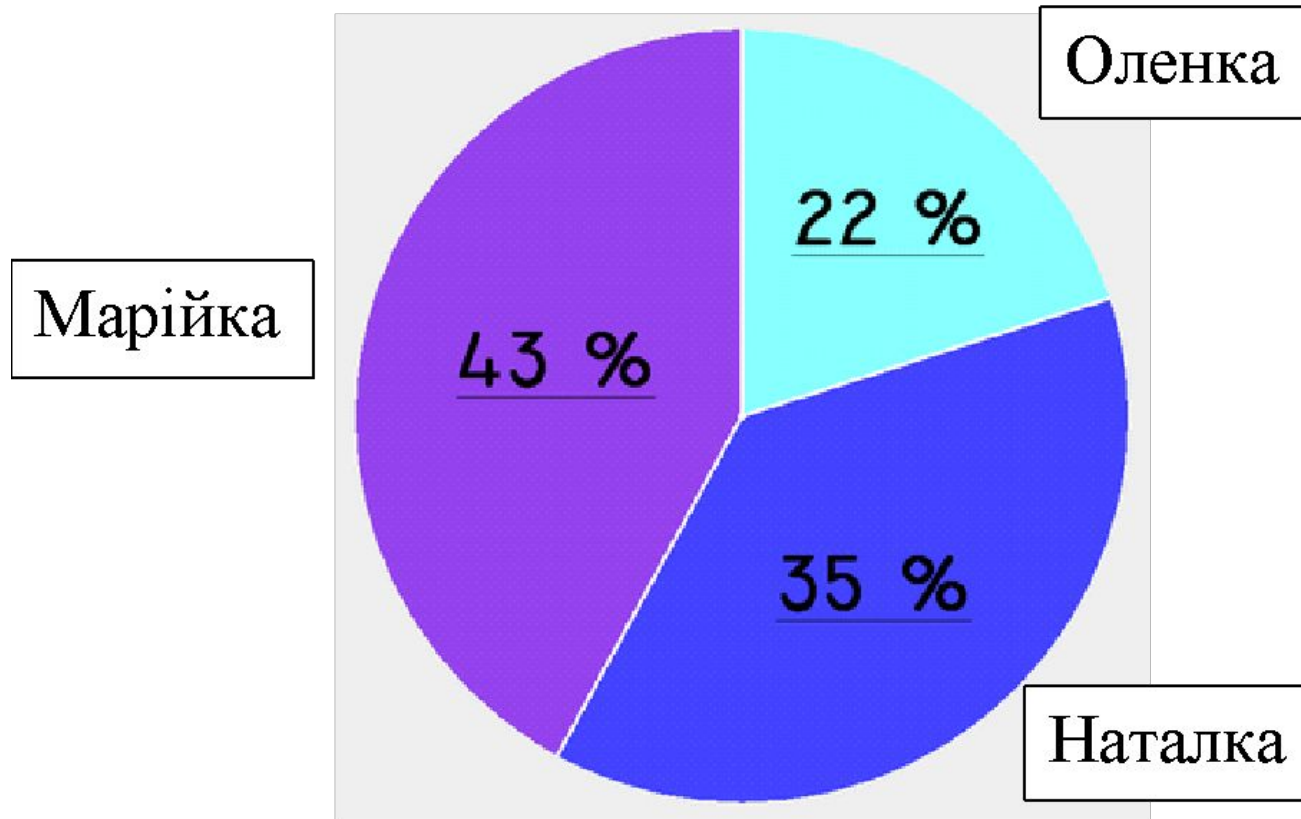
- Яких овочів найменше приготували



Кухарчу к Надія



1. Роздивись діаграму «Виконана робота» і дай відповіді на запитання.



1) Назви який відсоток роботи зробила кожна з дівчат.

2) Яка з дівчат зробила найбільше роботи? Найменше?

3) Знайди, на скільки більше роботи зробила Марійка, ніж Оленка.

Поміркуй, які числа пропущено. Склади вирази за схемою й обчисли їх значення.

6	12		24		36	42		54	: 6
---	----	--	----	--	----	----	--	----	-----

$6 : 6 =$

$12 : 6 =$

Далі - ?

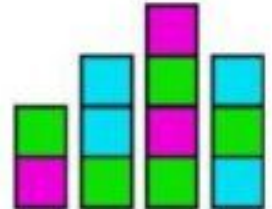
**Місюр
а
Оксана**



Підручник “ Математика “,1 клас, А.М.Заїка



- Чи є зелені клітинки? Скільки їх? Який зі стовпчиків найвищий; найнижчий?



3. За таблицею склади й запиши вирази. Обчисли їх.

Зменшуване	4	5	6	7	8	9	10
Від’ємник	3	3	3	3	3	3	3
Різниця							

Досліди, на скільки збільшується зменшуване. На скільки збільшується відповідна різниця?

2. Розглянь таблицю. Обчисли суми. Досліди, як змінюється сума від зміни першого доданка.

Доданок	2	4	5	8
Доданок	2	2	2	2
Сума				



Підручник " Математика " ,2 клас, А.М.Заїка

3. Заповни таблицю, виконавши дії за зразком.

$$20 + 5 = 25$$

$$40 - 30 = 10$$

Доданок	20	15	30	9	30	30	40			13
Доданок	5	5	8	50	15			13		
Сума						40	50	33		13

- Розглянь і поясни за малюнком.
 Скільки місяців має 1 рік?
 Назви всі місяці року.
 Назви пори року.
 Які місяці літні? Зимові? Весняні?
 Осінні?
 У якому місяці твій день народження?



3. Простеж, як змінюються значення від'ємника й різниці.

Зменшуване	20	20	20	20	20	20	20
Від'ємник	10	9	8	7	6	5	4
Різниця	10						

Зроби власний висновок.



Підручник “ Математика “,3 клас, А.М.Заїка

115. На діаграмі позначено класи й кількість зроблених ними новорічних прикрас для дитсадка.



За діаграмою дізнайся, скільки всього новорічних прикрас зробили учні трьох класів.



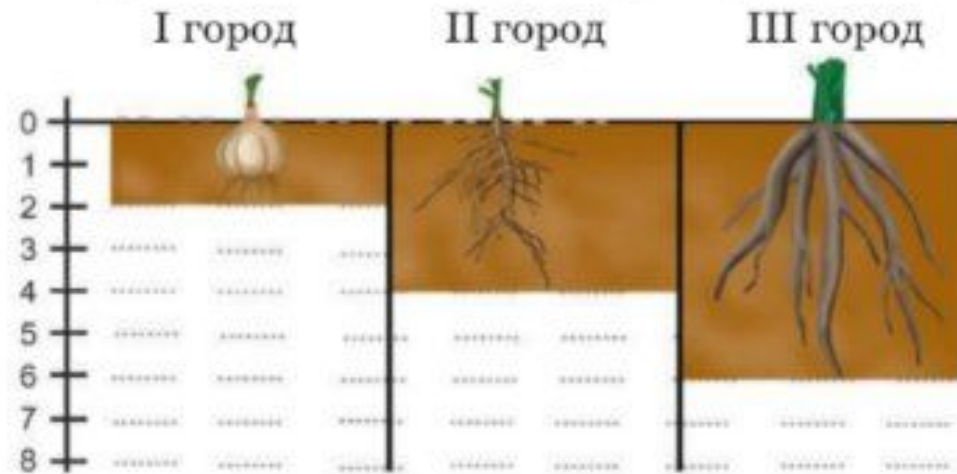
Для розв'язання завдання працюй за планом.

- 1) Розглянь схему. Прочитай позначення на ній.*
- 2) За шкалою визнач, скільки прикрас зробили учні кожного класу.*
- 3) Виконай обчислення, щоб відповісти на запитання.*





32. За схемою визнач товщину ґрунту (в дециметрах).
Одна поділка на шкалі відповідає 1 дм.




100. За таблицями склади й запиши вирази. Обчисли.

Множник	4	7	5
Множник	5	3	6
Добуток			

Ділене	16	25	32
Дільник	2	5	4
Частка			




33. За діаграмою визнач довжину морських ссавців: косатки, кашалота й синього кита. Хто з них найдовший? На скільки метрів синій кит довший від косатки?

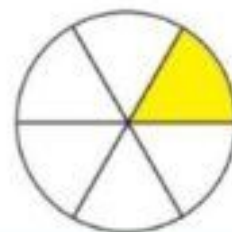


Підручник “ Математика “4 клас, А.М.Заїка

209. Для приготування компоту в шкільній їдальні використали груші, яблука і цукор. Яблук узяли в 3 рази більше, а цукру — у 2 рази більше, ніж груш. Усього взяли 12 кг продуктів. Скільки кілограмів груш, яблук і цукру використали? Доповни схему і розв'яжи задачу.



77. Запиши дробовими числами виділені кольором частини круга.

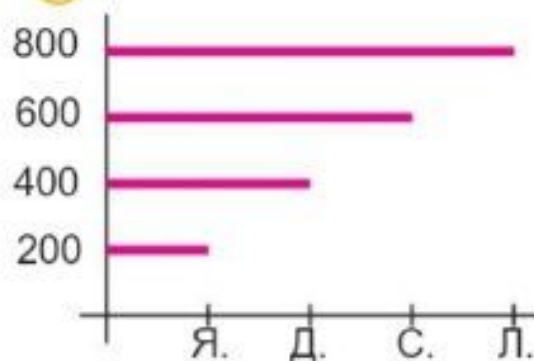


Назві незафарбовані частини круга.



139. Яблуня може рости 200 років, що в 5 разів менше, ніж дуб. Сосна може рости у 2 рази довше, а липа — у 3 рази довше, ніж яблуня. На якій діаграмі позначено вік цих рослин?

а)



б)



Склади 2 прості задачі за цими даними.



Орешко Марина



**Завдання
для
2 класу
у вигляді**

”

Розглянь діаграму та вибери, якого
кольору найбільше



зеленого

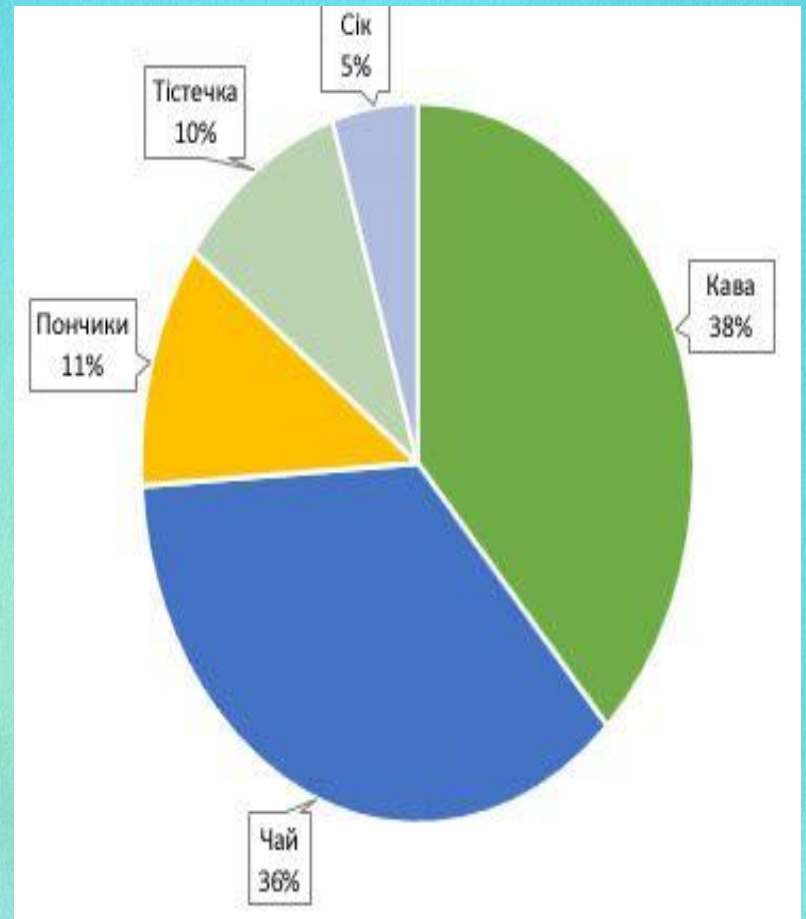
червого

блакитного

Розглянь діаграму та з'ясуй скільки часу ти проводиш в інтернеті



Розглянь
діаграму та
з'ясуй
рівні
ранкових
продажів

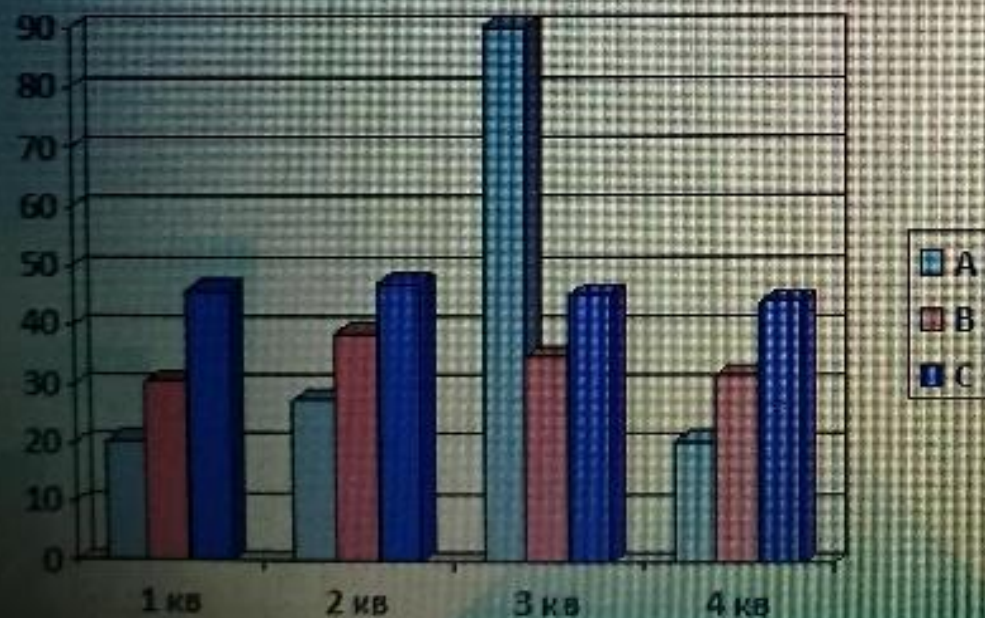


Покотил о Надія



Робота з даними

Покотило Надія



3 клас,
діаграма

Вік

100

90

80

70

60

50

40

30

20

10

Аркадій

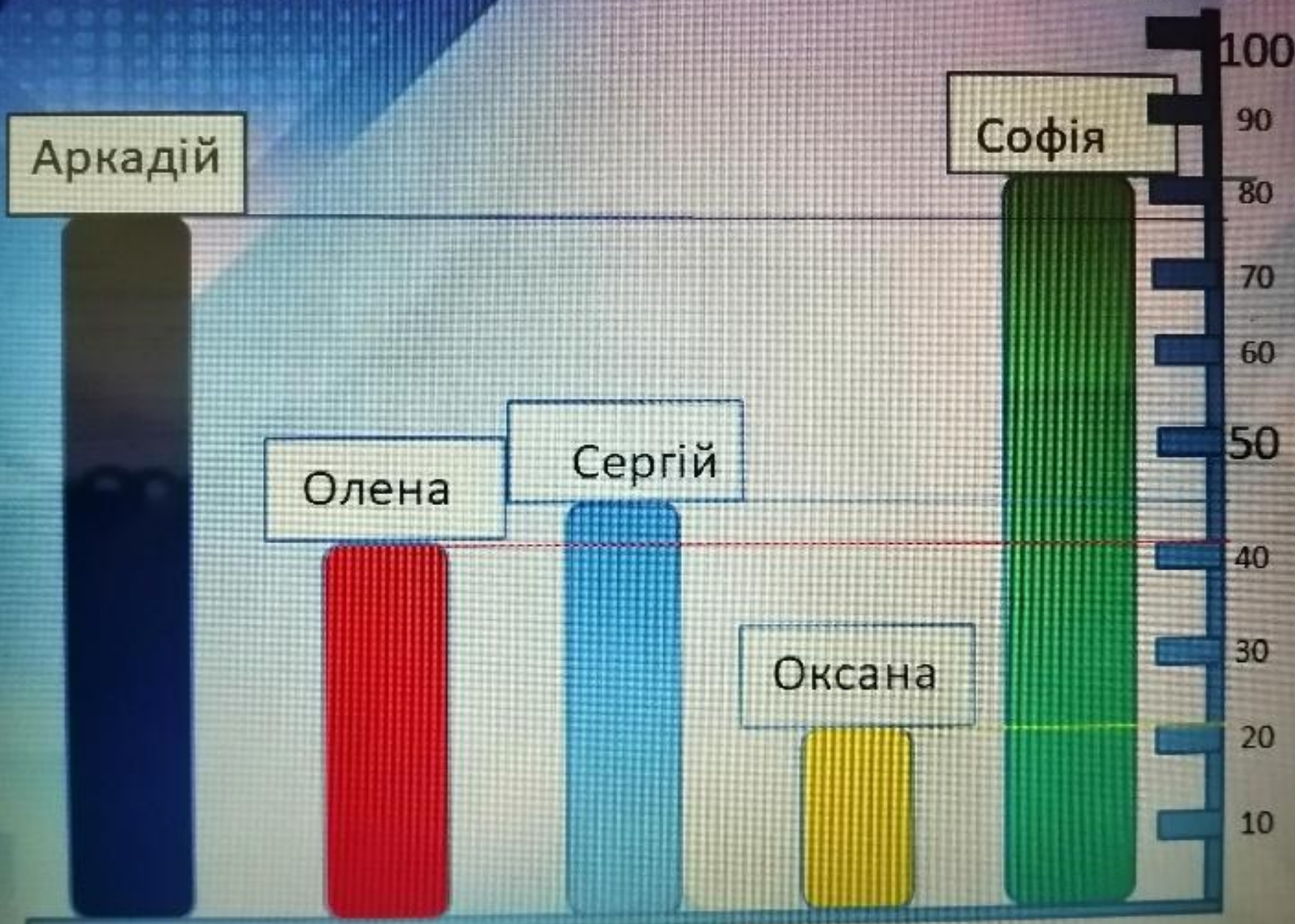
Софія

Олена

Сергій

Оксана

Учасники



Ознайомся з діаграмою і визнач вік кожного з учасників акції: Аркадій, Олена, Сергій, Оксана, Софія.

- Хто з них найстарший?
- Хто наймолодший?
- На скільки років Сергій старший на Оксану?
- У скільки років Олена молодша за Софію?
- За діаграмою дізнайся, загальний вік всіх учасників акції?



Полюхов

ич

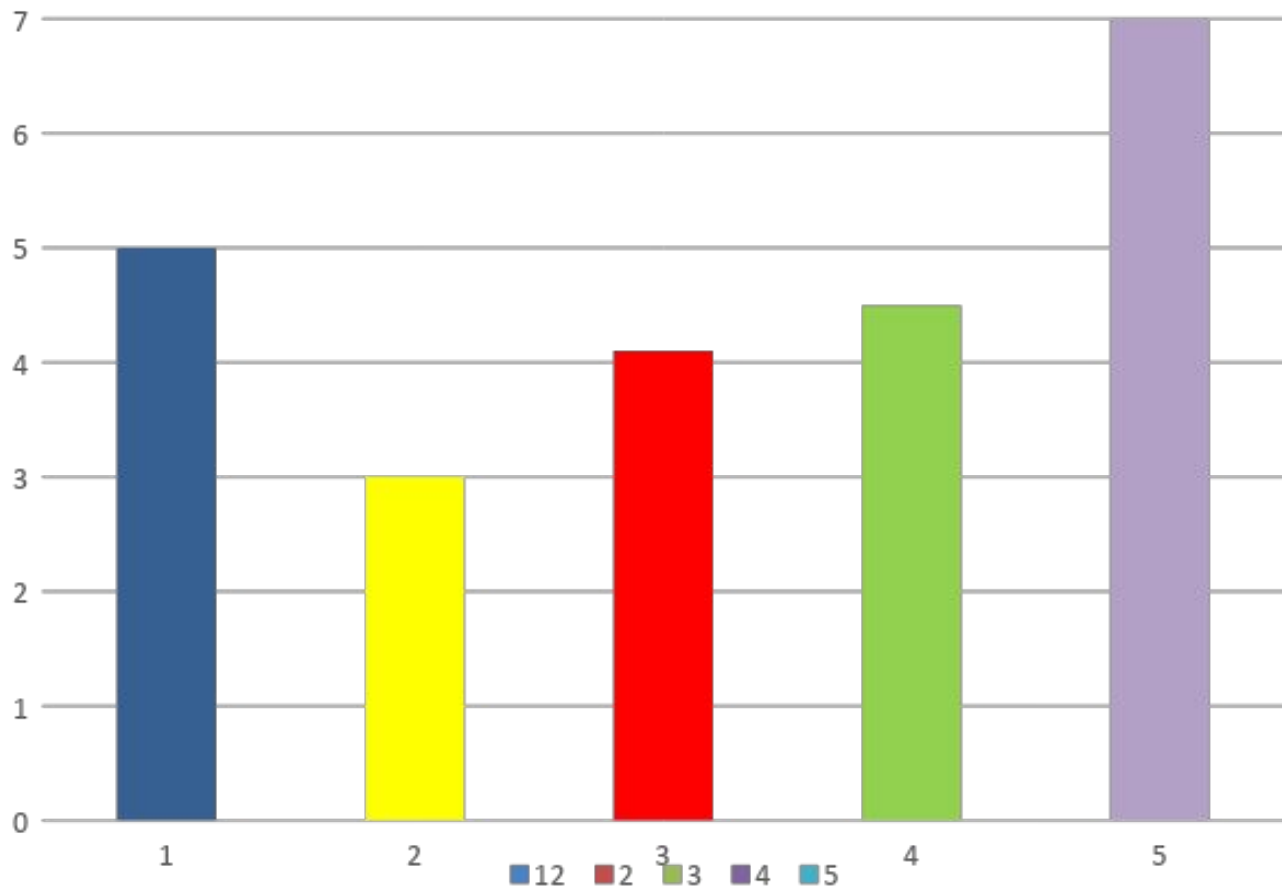
Наталія



ПОЛЮХОВИЧ НАТАЛІЇ А-32

Завдання для 2 –го класу

Оксанка щодня розв'язувала задачі. Скільки задач вона розв'язала 5-го дня ?



**Рокунь
Анастасі
я**



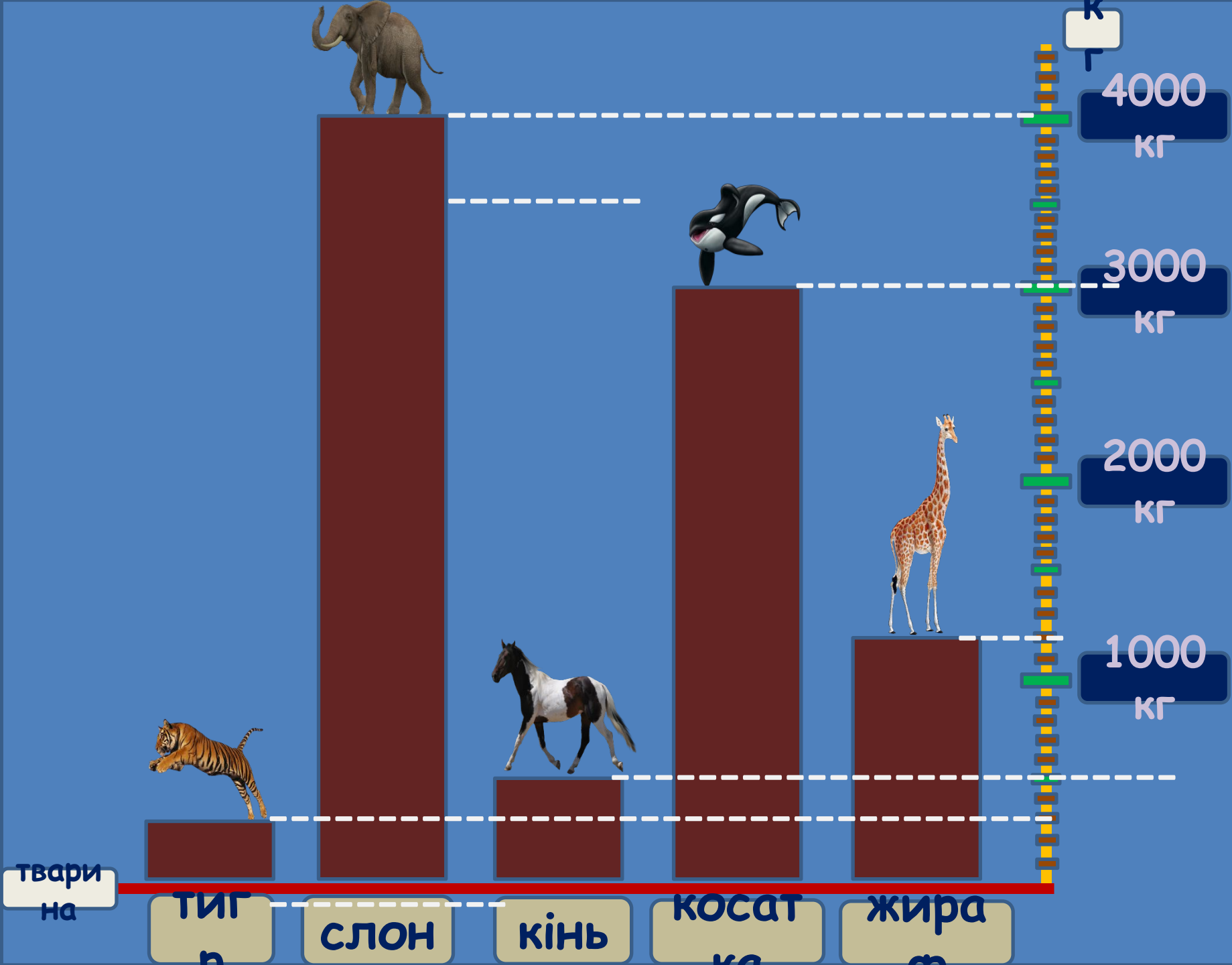
Завдання для

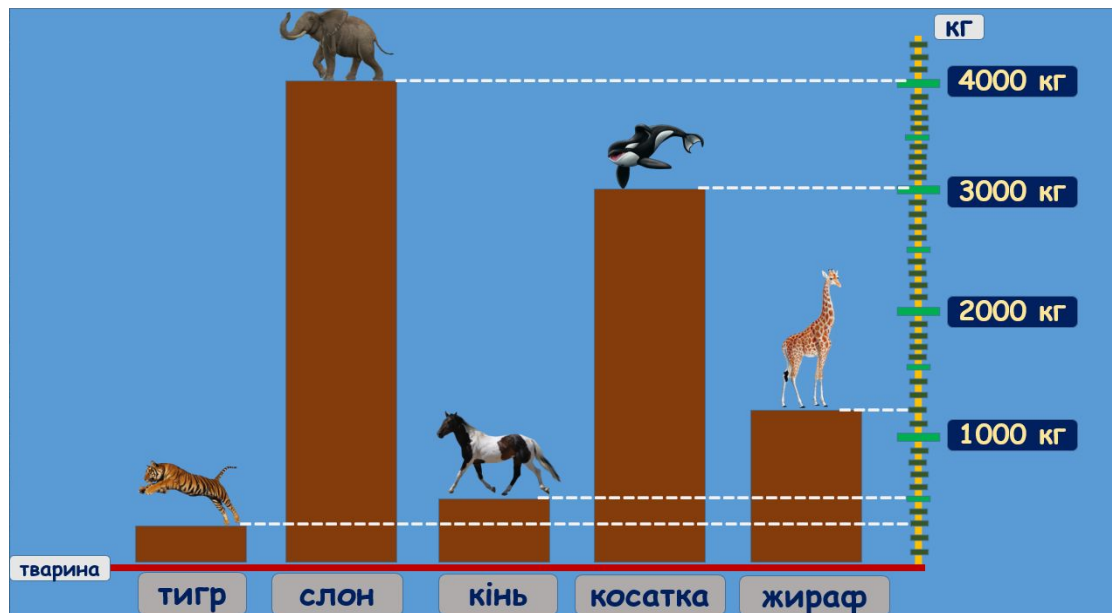
3 класу

у вигляді

стовпчастої

діаграми





За **стовпчастою діаграмою** визнач масу кожної тварини: тигра, слона, коня, косатки та жирафи.

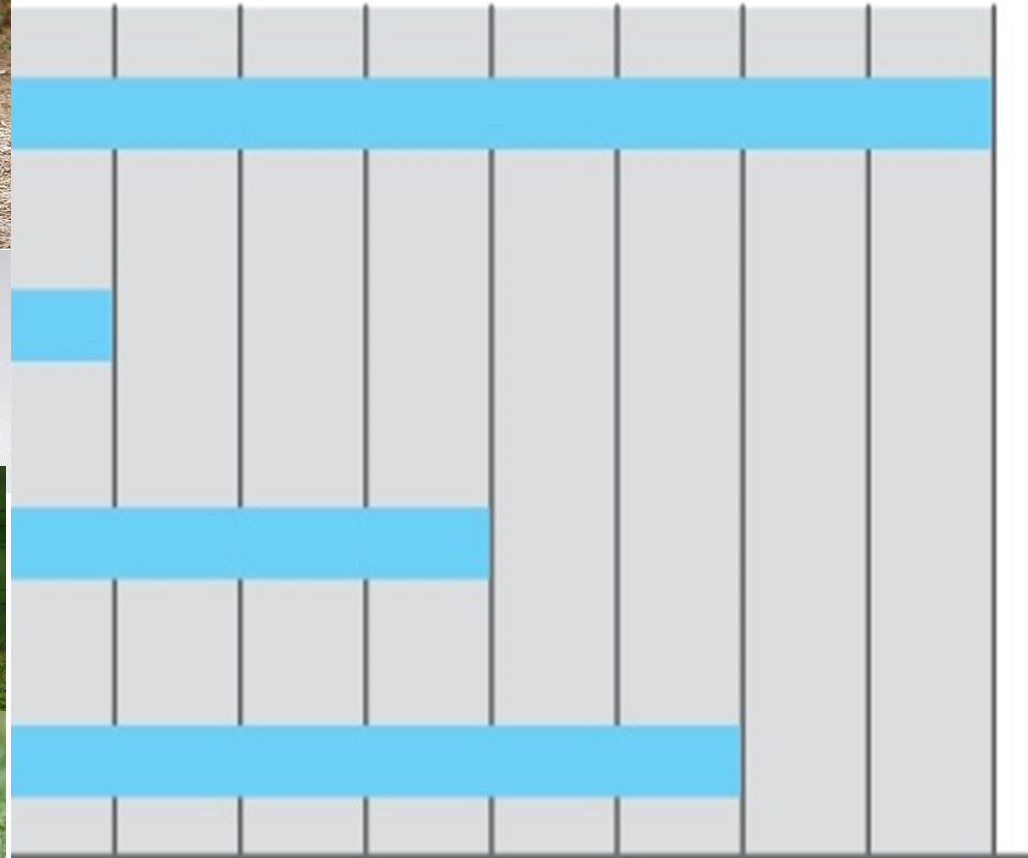
- Хто з них найважчий?
- Хто найлегший?
- На скільки кілограмів маса слона більша, ніж маса жирафи?
- У скільки разів маса коня менша, ніж маса косатки?
- За діаграмою дізнайся, яка маса всіх тварин?

**Романенк
о
Анастасія**



1 клас

1. Роздивись діаграму «Маса тварин». Дай відповіді на запитання.



Маса тварин

1кг

2кг

3кг

4кг

5кг

6кг

7 кг

8кг

1. Назви тварину та її масу

2. Яка тварина найважча? Найлегша?

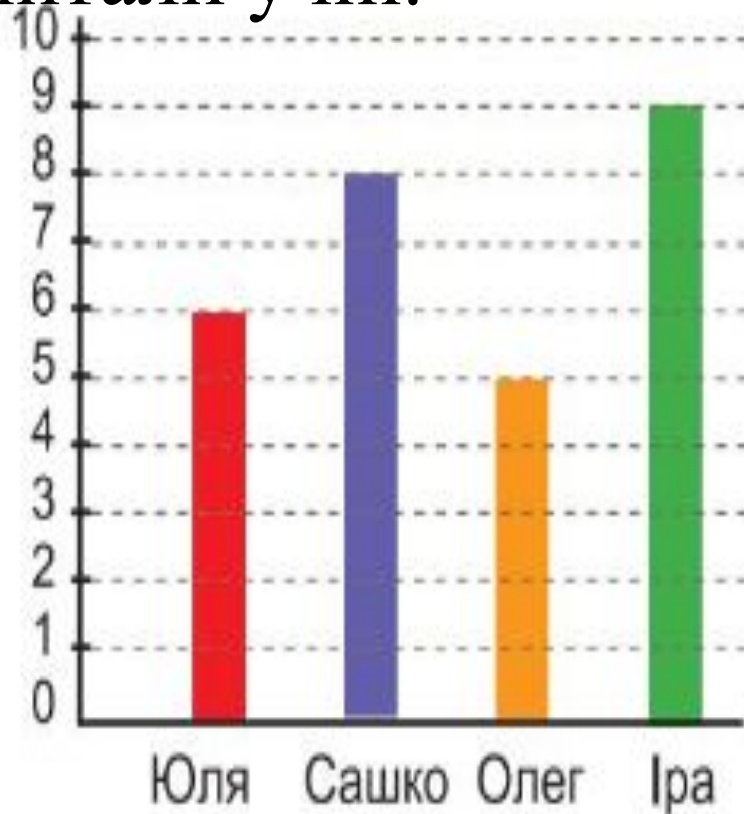
3. Знайди різницю між масами найважчої та найлегшої тварини

2.3'ясуј які числа пропушені в таблиці

Перший	10	7		10	9		8	
Другий доданок	4		3	3		5	4	6
Сума		5	4		4	3		3

2 клас

1. За діаграмою визнач скільки книжок прочитали учні.



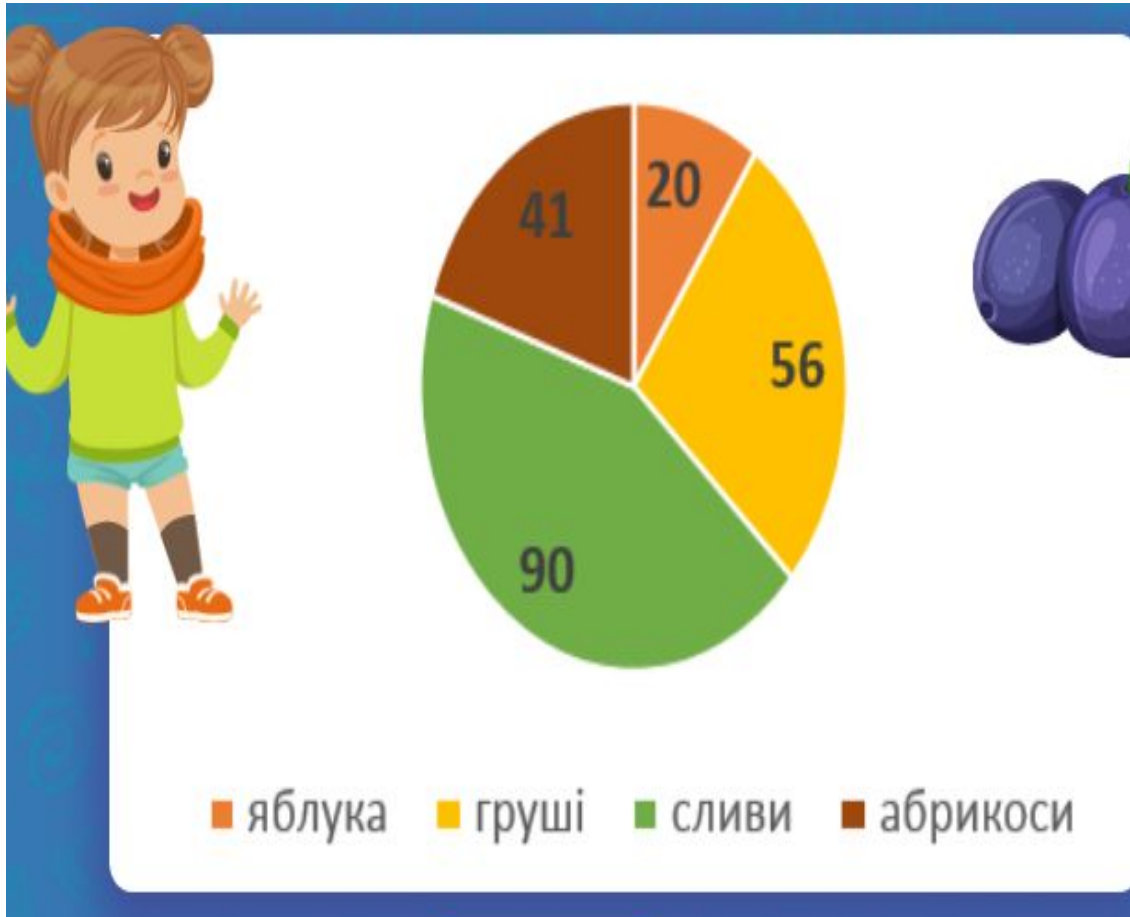
- Хто найбільше прочитав книжок? Найменше?
- Скільки книжок прочитав Сашко?
- На скільки більше книжок прочитала Юля, ніж Олег?

2. На Великдень учні приготували крашанки. Прочитай з діаграми скільки учні приготували жовтих, синіх, зелених та оранжевих крашанок.



- Скільки всього крашанок приготували учні?
- Яких крашанок більше? Менше?
- Склади задачу.

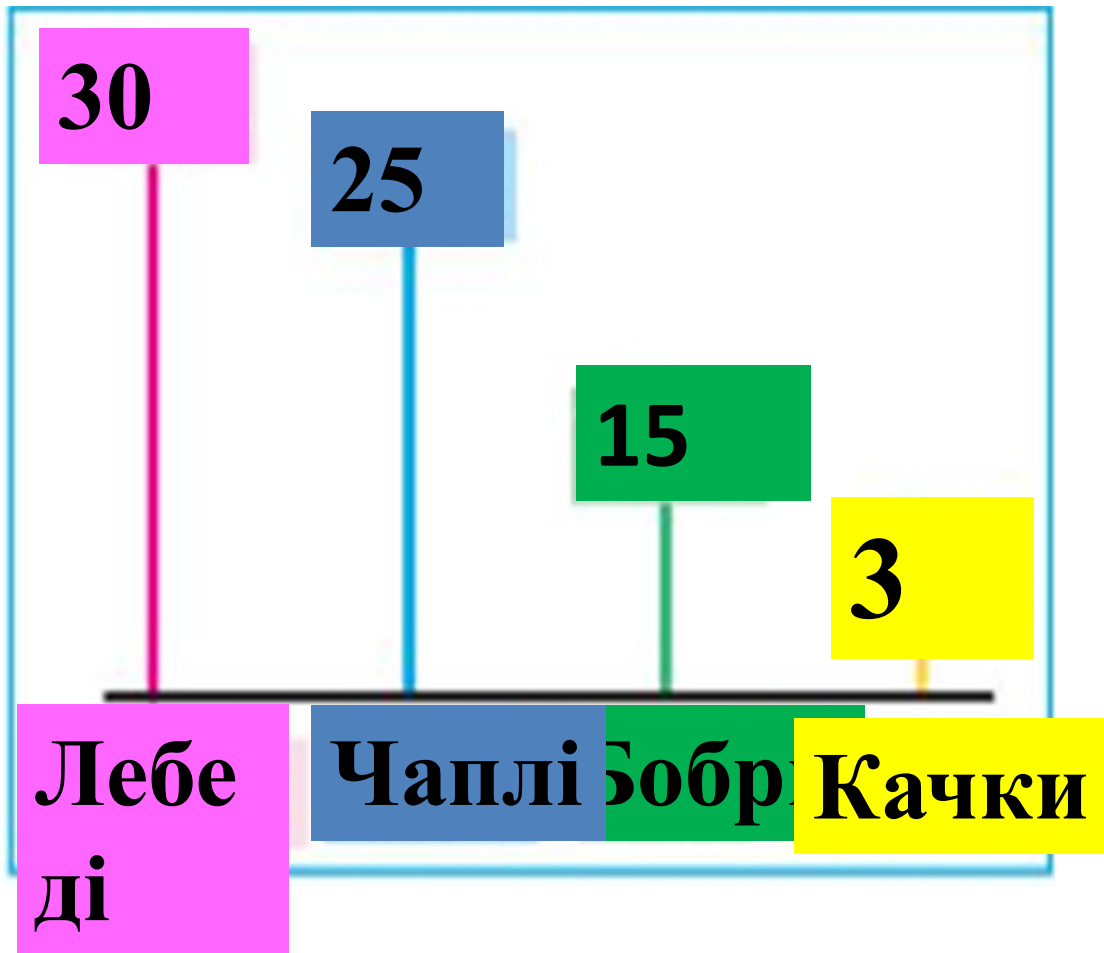
3 клас



1. Розглянь діаграму і скажи які фрукти привезли в магазин.

- Яких фруктів привезли найбільше? Найменше?
- На скільки більше привезли слив, ніж яблук?
- На скільки менше привезли абрикосів, ніж

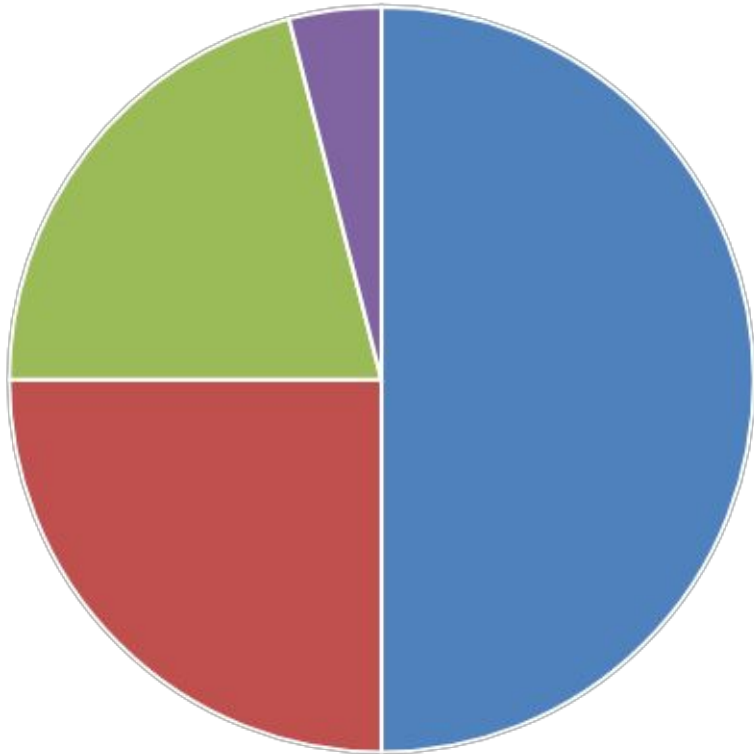
2. За даними лінійної діаграми дізнайся, скільки всього тварин жило на озері. Дай відповіді на запитання



- Яких тварин в озері найбільше? Найменше?
- У скільки разів більше на озері жило лебедів, ніж бобрів?
- На скільки більше жило бобрів, ніж

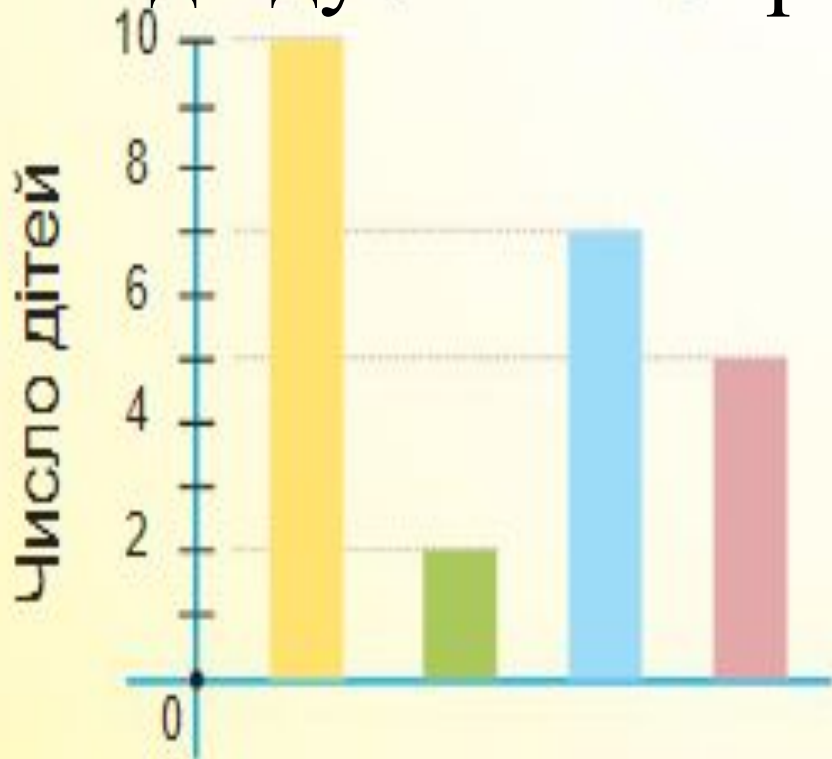
4 клас

1. На діаграмі зображено площі океанів світу.



- Який океан найбільший? Найменший?
- Який океан більший за Індійський?
- Який океан менший за Атлантичний?
- Який океан більший Атлантичний чи Індійський?

2. На стовпчиковій діаграмі зображена інформація про те які спортивні секції відвідують четвертокласники.



- Скільки всього учнів у класі?
- Скільки учнів відвідують секцію волейболу?
- Скільки учнів відвідують секцію шахів?

Футбо Баскетбол
Волейбол Шахи

Склади нерівності



Семеню

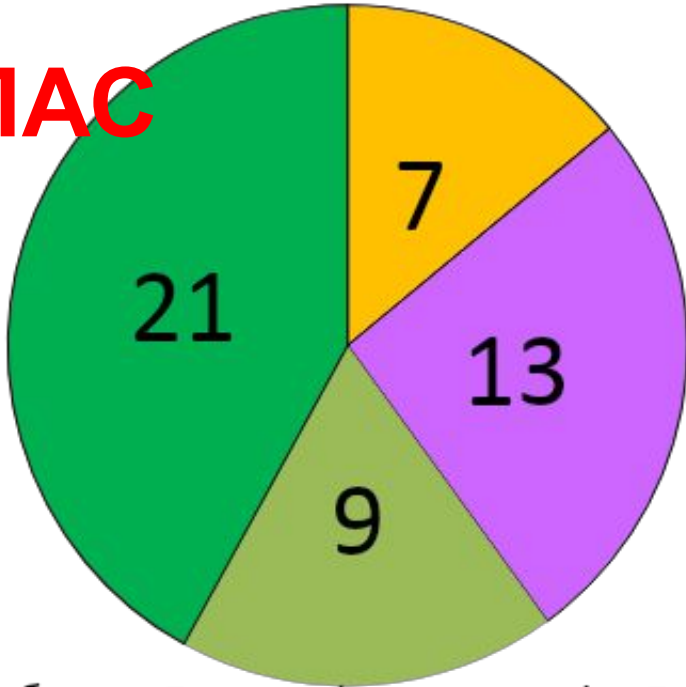
к

Альона



4

КЛАС



■ автотбуси ■ вантажівки ■ таксі ■ легкові

На діаграмі позначено транспорт і його кількість в автопарку. За даними кругової діаграми дайте відповідь на такі запитання.

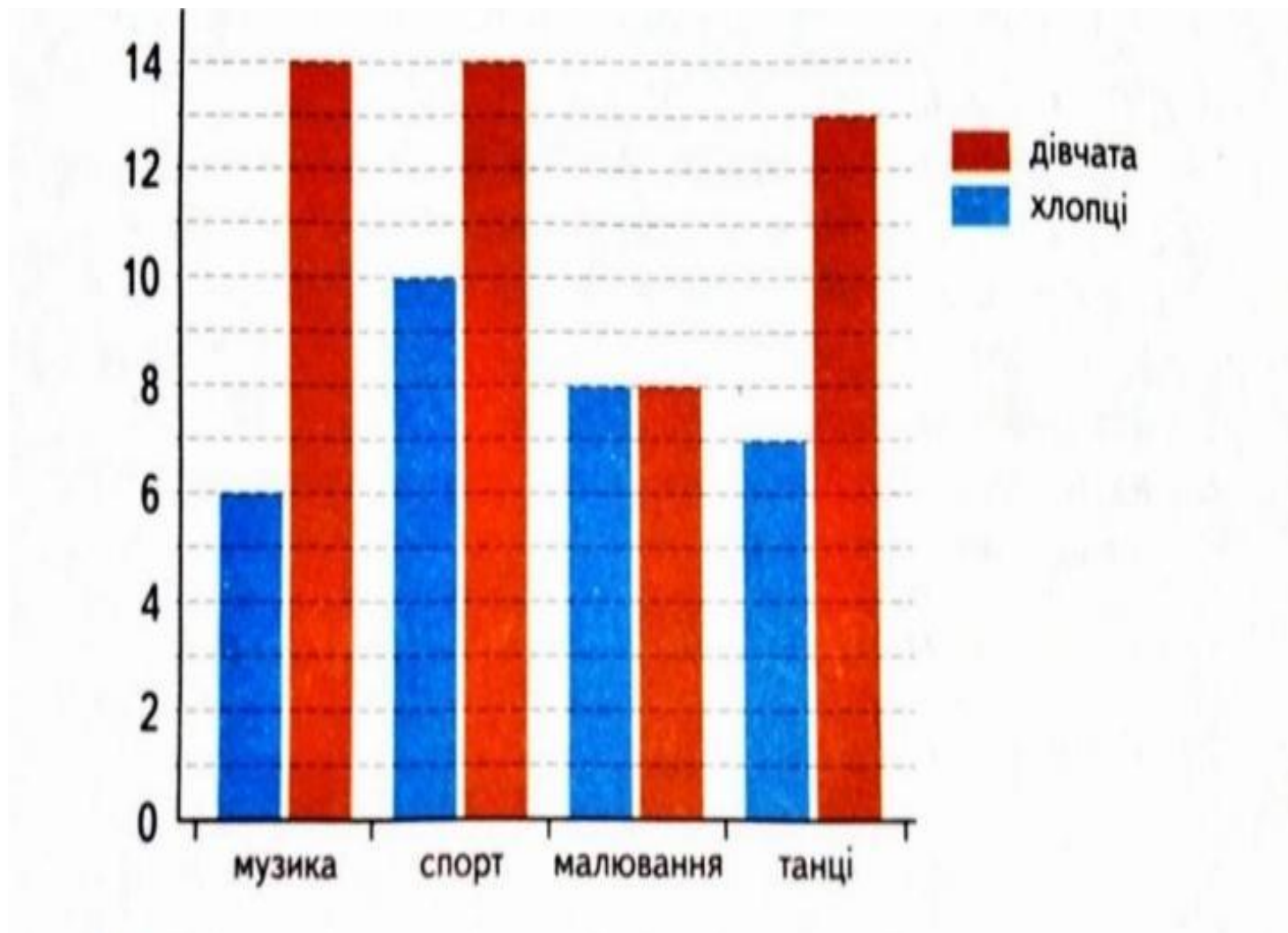
1. Скільки в автопарку автобусів, вантажівок, таксі та легкових автомобілів?
2. Якого транспорту в автопарку найбільше? Найменше?
3. Скільки всього транспорту стоїть в автопарку?
4. Скільки автобусів та вантажівок разом стоїть у автопарку?
5. На скільки менше таксі в автопарку, ніж легкових автомобілів?
6. На скільки більше вантажівок в автопарку, ніж автобусів?

**Тишковец
ь
Валентин
а**



**Хомич
Ярослав
а**





Скільки всього дівчат відвідують гуртки ?

Скільки всього хлопців відвідують гуртки?

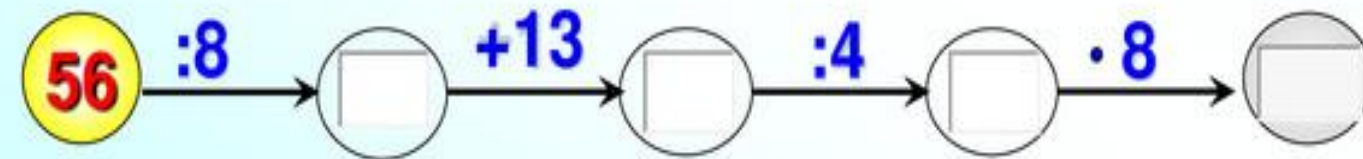
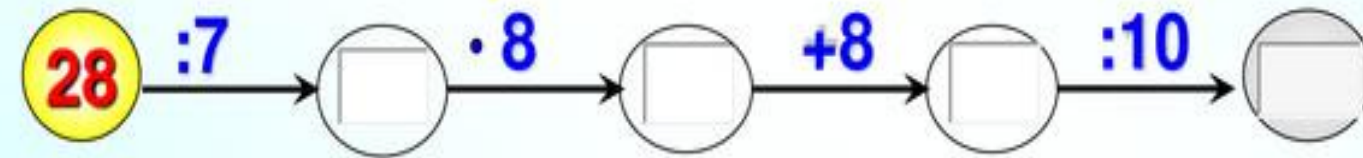
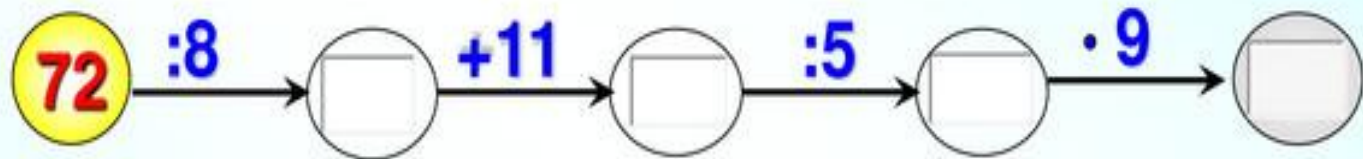
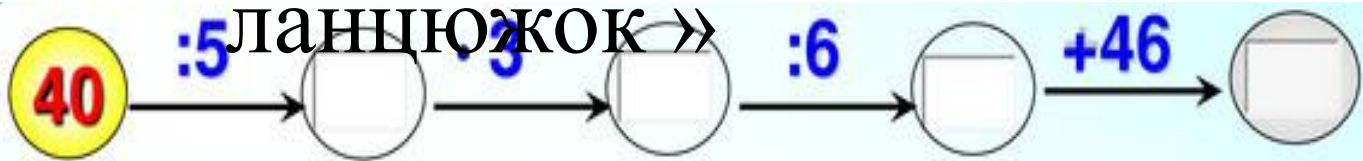
Скільки всього дівчат займаються музикою ?

Записати відстані від Києва до інших міст у порядку **ЗРОСТАННЯ**



« Математичний

ланцюжок »



Відтворіть ланцюжок

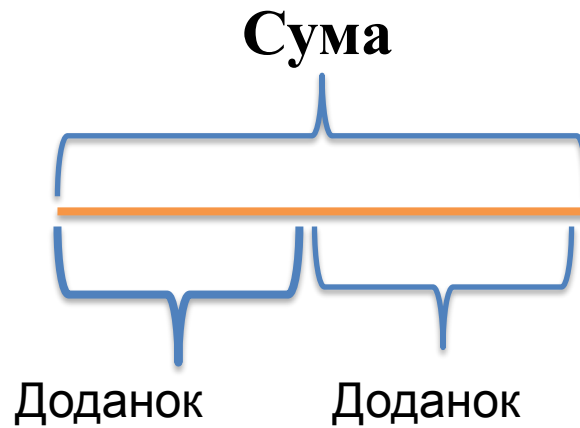
**Черньон
а
Кристина**



1 клас

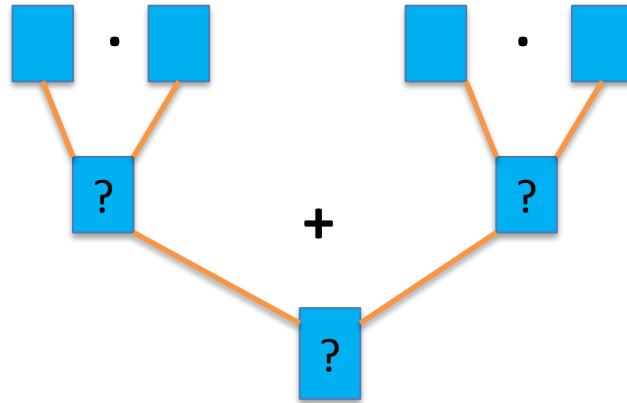
З'ясуй, які числа пропущено в таблиці

Доданок	5	?	3	10	?	4
Доданок	2	7	?	?	5	?
Сума	?	8	3	10	9	7



2 клас

Склади й розв'яжи задачу за малюнком і схемою



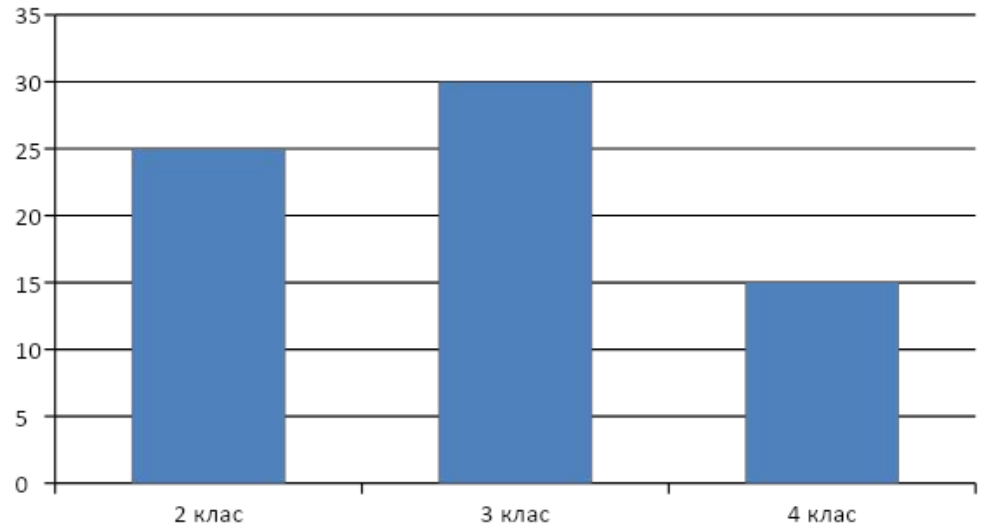
3 клас

На діаграмі позначено класи і кількість учнів в кожному класі.
Дайте відповідь на запитання

1. Скільки всіх учнів навчається в трьох класах?

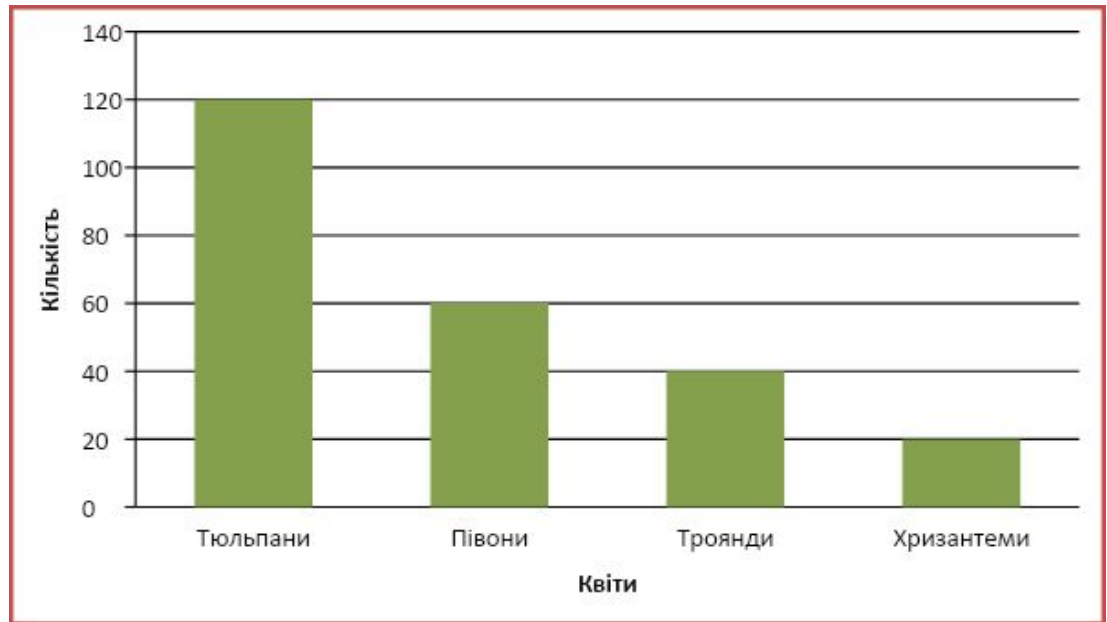
2. В якому класі учнів найбільше? Найменше?

3. На скільки більше учнів навчається в 3 класі, ніж в 4 класі?



4 клас

До магазину завезли квіти. За даними діаграми дай відповідь на запитання



1. Скільки разом завезли всіх квітів?
2. У скільки разів більше завезли тюльпанів ніж троянд?
3. Половина півонів рожевого кольору. Скільки їх?
4. Третя частина тюльпанів білого кольору. Скільки їх?

**Шереме
Т
Сніжана**





5
5 ГРН



7
7 ГРН



10
10 ГРН



=

ВСЬОГО	РЕШТА
_____	_____
ГРН	ГРН



=

ВСЬОГО	РЕШТА
_____	_____
ГРН	ГРН



=

ВСЬОГО	РЕШТА
_____	_____
ГРН	ГРН



=

ВСЬОГО	РЕШТА
_____	_____
ГРН	ГРН



=

ВСЬОГО	РЕШТА
_____	_____
ГРН	ГРН

Лесик має 30 грн. Допоможи хлопчику зясувати, скільки смаколиків він зможе на них придбати. Порахуй і запиши скільки решти має залишитися в хлопчика

1

клас

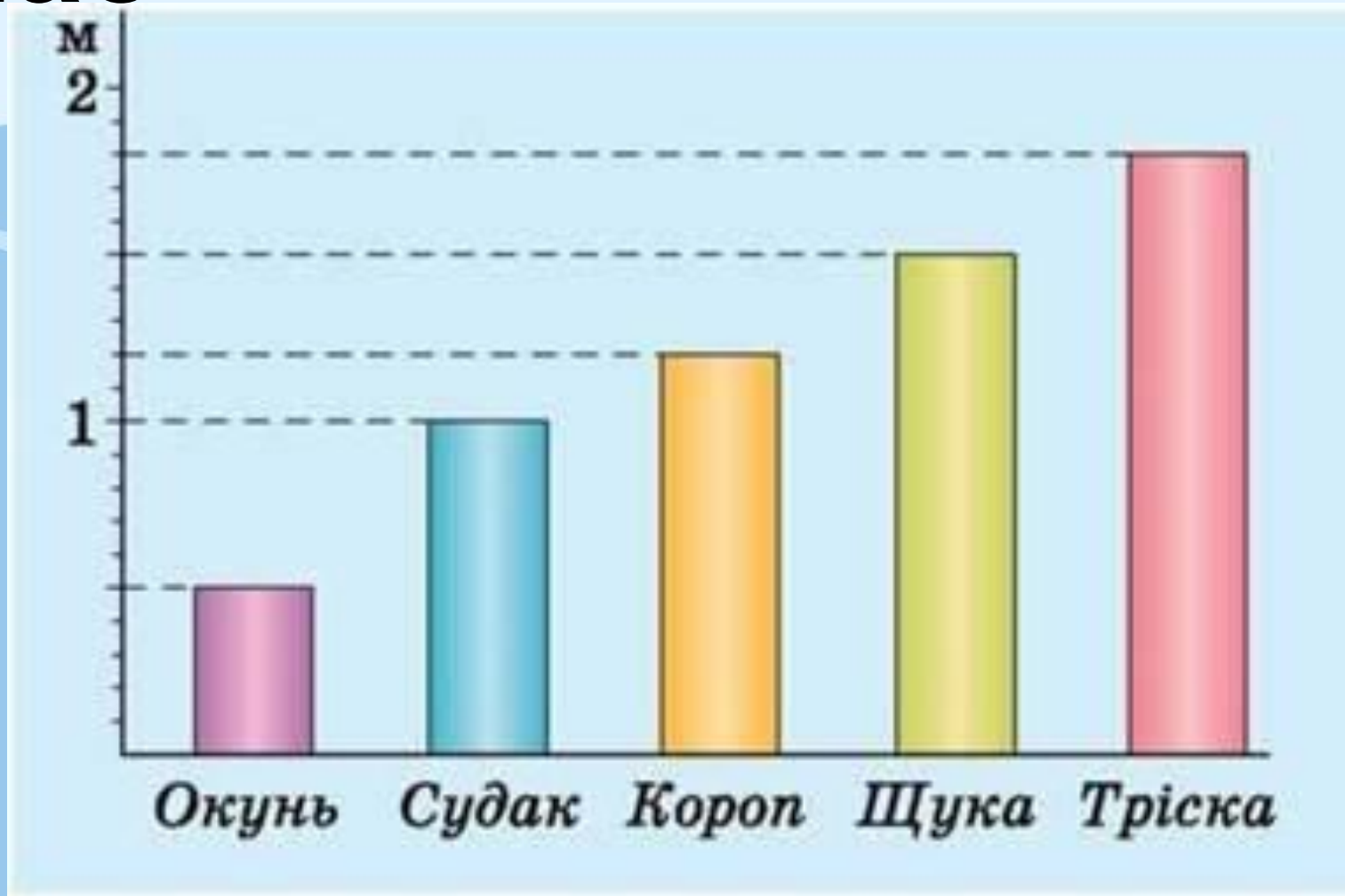
Кругова діаграма показує розподіл денної норми харчування людини. Поясни, як розподіляється денна норма харчування людини.



3

клас

Користуючись стовпчастою діаграмою , назви максимальну довжину зазначених на діаграмі риб.





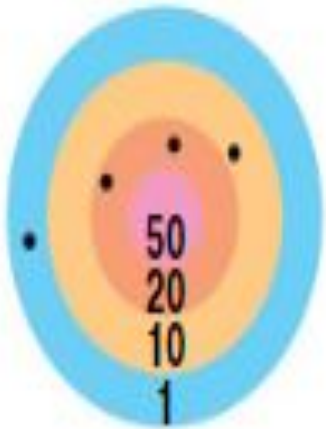
Шпаковськ а Валентина



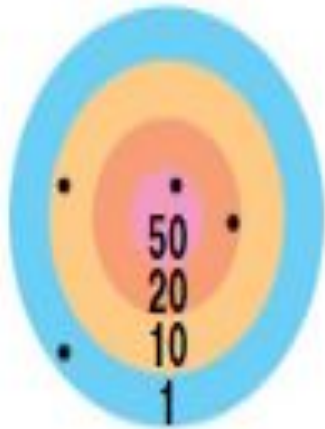
1 клас

*Скільки осок набрав
кожний учасник змагань?
Визнач ім'я переможця*


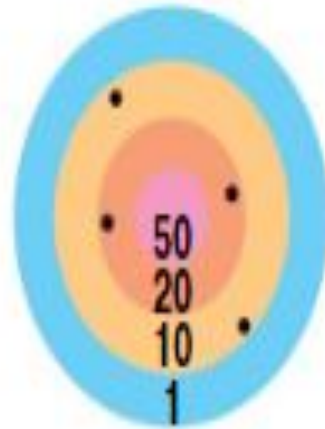
Сергій



Артем



Юрко




1 клас



Назви числа, пропущені в таблиці



Доданок	35	2		55		50	24		6	12		3
Доданок	40		30	4	4		60	50		7	40	
Сума		64	73		37	86		64	28		52	85



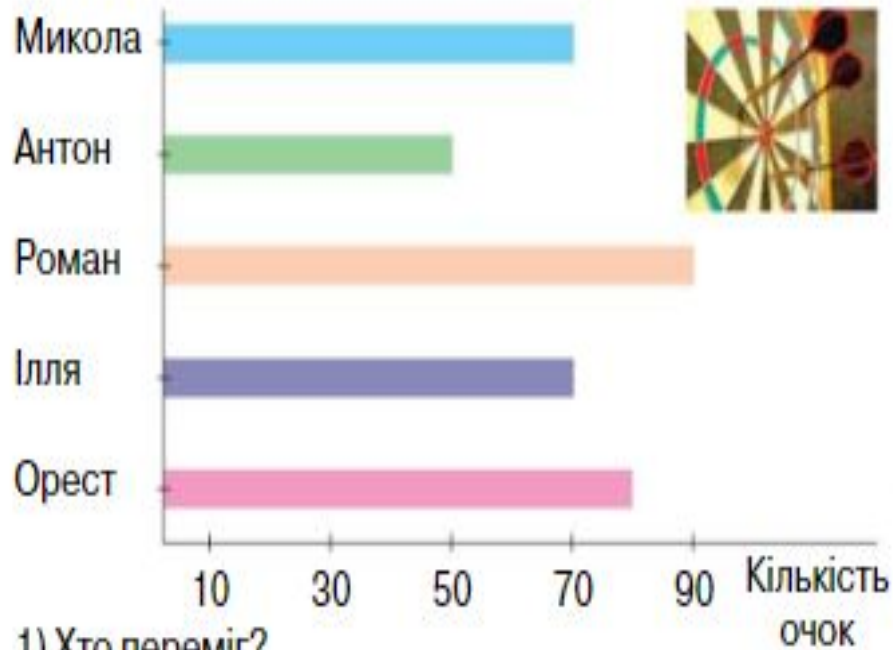
Зменшуване	56	73		64	46		78	86		65		97
Від'ємник	33		45	12		52	56		45	44	32	
Різниця		21	33		34	32		75	24		56	36

2 клас



Результати змагання з метання дротиків хлопці відобразили на діаграмі.

Розглянь діаграму та дай відповіді на запитання.



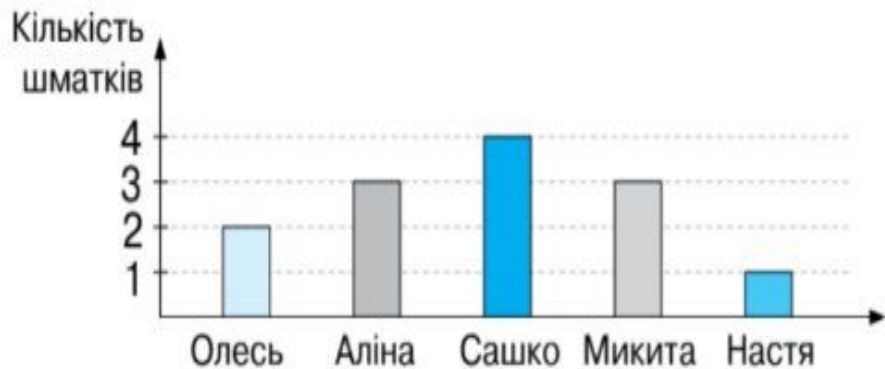
- 1) Хто переміг?
- 2) У кого другий результат?
- 3) Хто з хлопців набрав однакову кількість очок?

Поставте одне одному ще кілька запитань за поданою діаграмою.



* 2 клас


Олесь, Аліна, Сашко, Микита й Настя пішли в піцерію. На діаграмі показано, скільки шматків піци з'їв кожний з їх. Розглянь діаграму і дай відповіді на запитання.



1. Хто з дітей з'їв найбільше шматків піци?
2. Хто з дітей з'їв найменше шматків піци?
3. Скільки всього шматків з'їли діти?
4. Хто з дітей з'їв однакову кількість шматків?



2 клас



Перший множник	3	4		5	7			7	
Другий множник			7			7	3		5
Добуток	21	32	14	25	21	49	9	35	35




Ділене	7	5	9	10			4	4	8
Дільник		5			1	9		4	
Частка	7		3	1	2	9	2		4

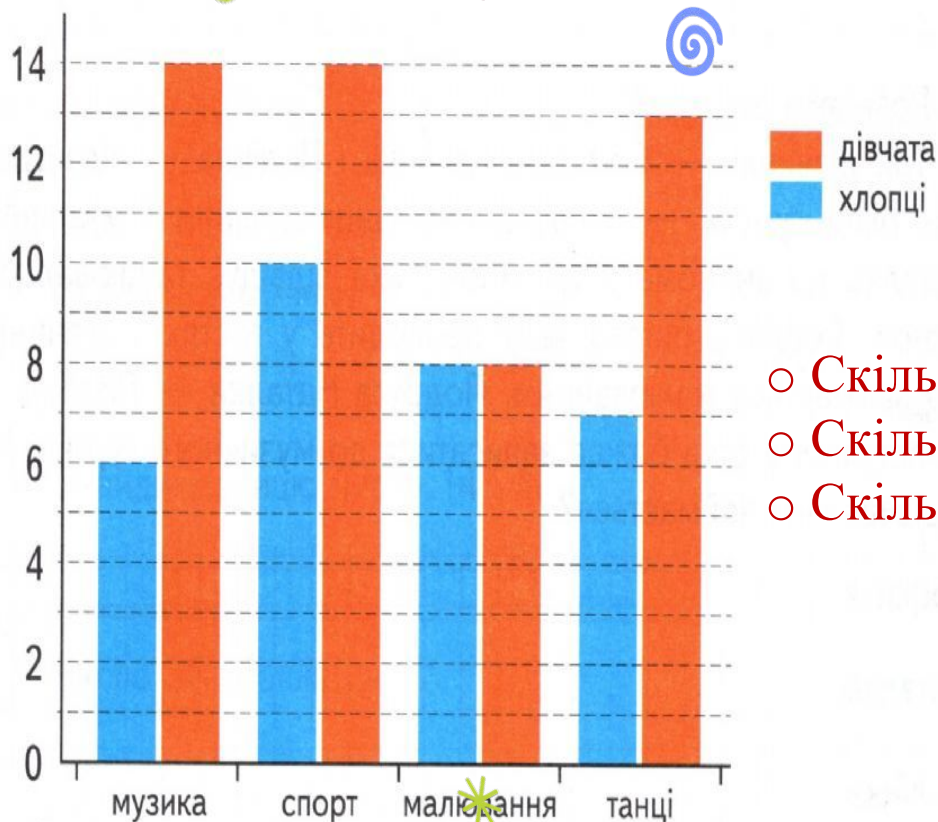
Назви числа, пропущені в таблиці



3 клас




*Розгляньте діаграму
зайнятості
третьокласників у
різних гуртках однієї зі
шкіл. Дай відповідь на
запитання*



- Скільки всього дівчат відвідують гуртки?
- Скільки всього хлопців відвідують гуртки?
- Скільки всього займаються музикою?



4 клас



*Білосніжка пече для
гномів тістечка.
Розглянь діаграму дай
відповіді на запитання*

1. Скільки всього тістечок спекла Білосніжка за ці дні?
2. У скільки разів менше тістечок вона спекла у п'ятницю, ніж у середу?
3. На скільки більше вона спекла у середу, ніж у понеділок?



ЯНКОВСЬК

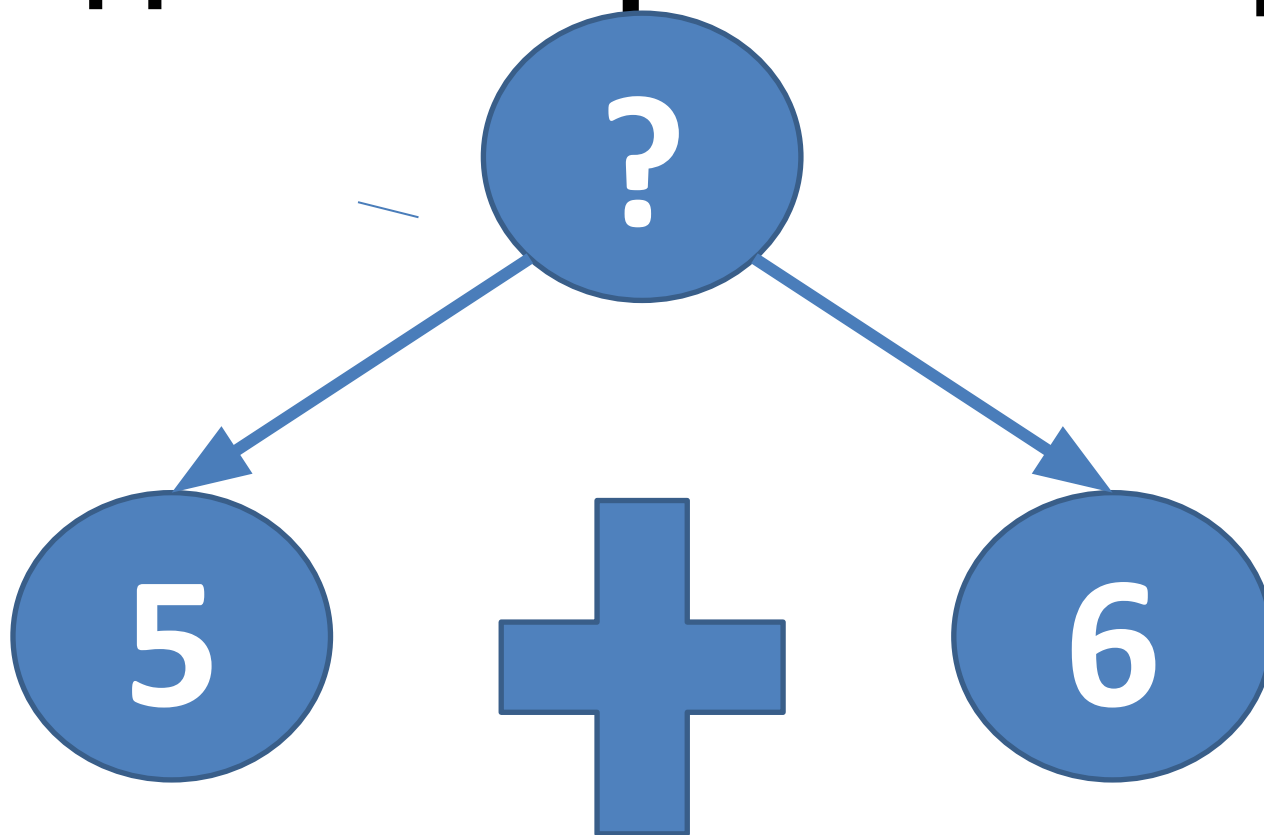
а

Людмила

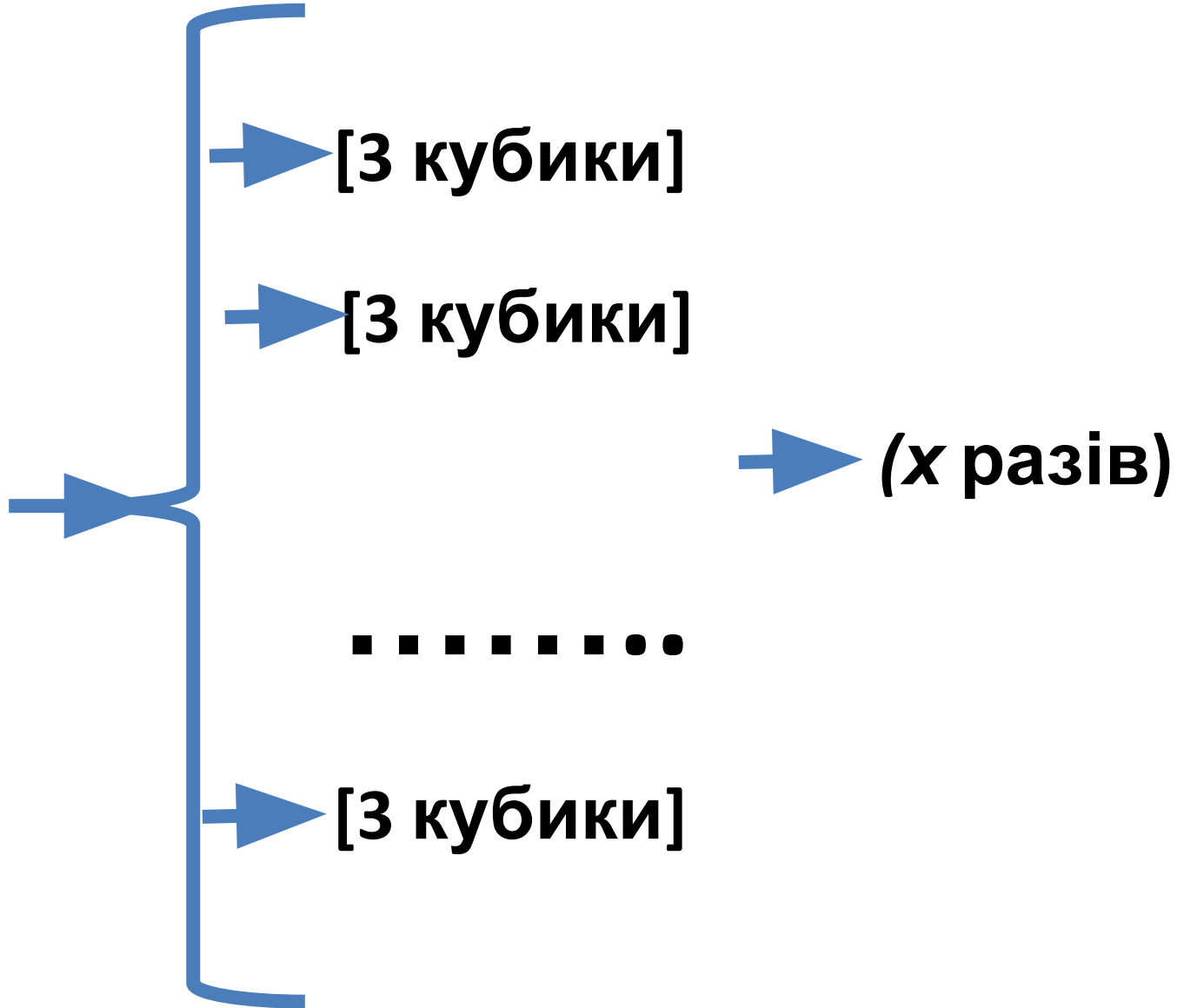


Змістовою лінією «*Робота з даними*» в першому класі передбачено ознайомлення учнів на практичному рівні зі способами зчитування даних зі схематичних рисунків, із таблиць; внесення даних до схем. Матеріал розглядається в контексті аналізу життєвих ситуацій із використанням міжпредметної змістової інформації.

**Задача: Петро посадив 5 дерев,
а Сашко 6 дерев. Скільки дерев
посадили Петро і Сашко разом?**



[15
кубиків]



Задача: Мама купила синові 7 повітряних кульок синього і червоного кольору. Скільки червоних і скільки синіх кульок купила мама, якщо відомо, що синіх було більше ніж червоних. (таблиця всіх

можливих варіантів)

Разом	7	7	7	7	7	7
Червоні	6	5	4	3	2	1
Сині	1	2	3	4	5	6

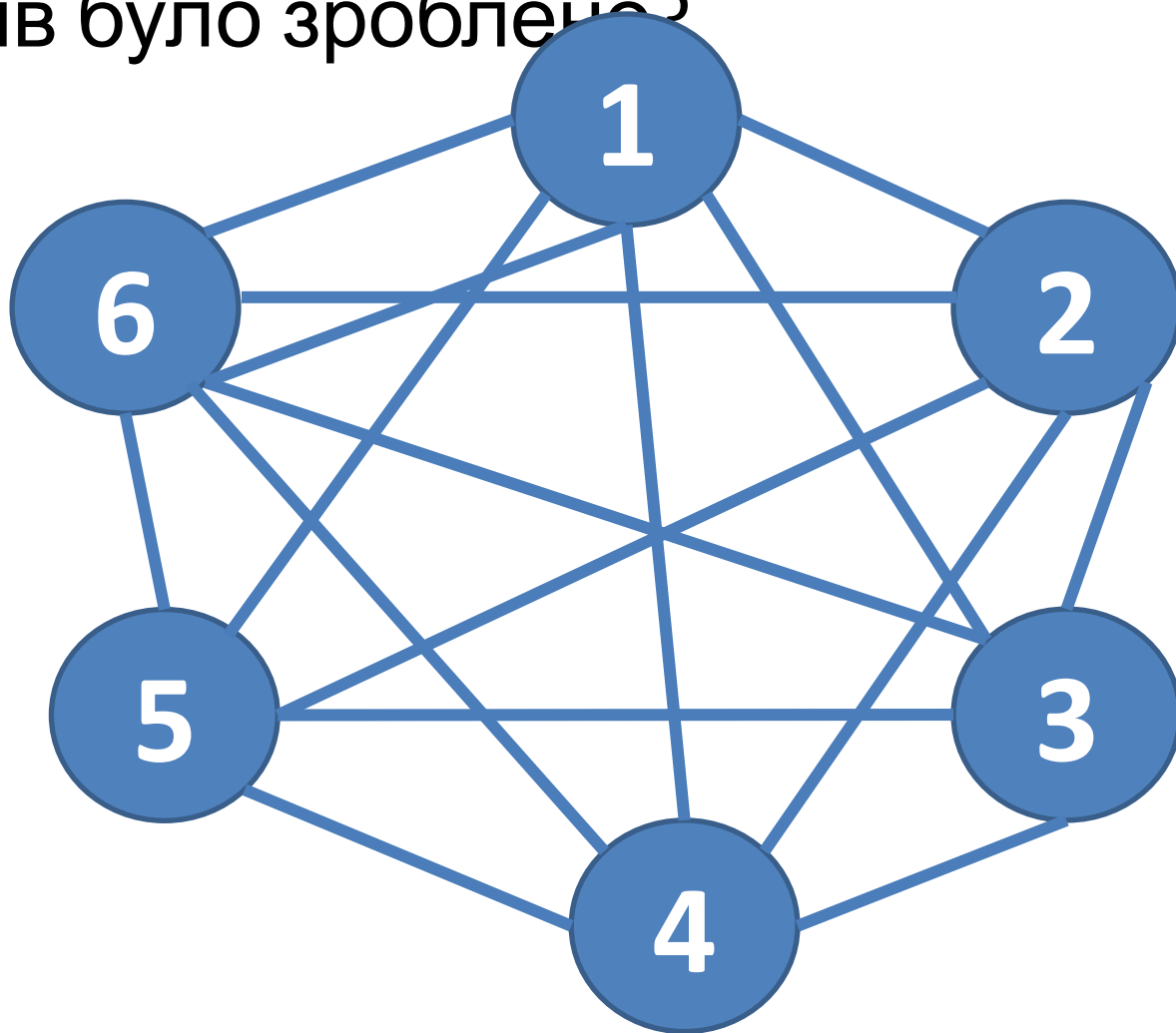
Звертаємо увагу дітей на додаткову умову і таблиця матиме такий вигляд:

Разом	7	7	7
Червоні	6	5	4
Сині	1	2	3

Звертаємо увагу дітей на додаткову умову і таблиця матиме такий вигляд:

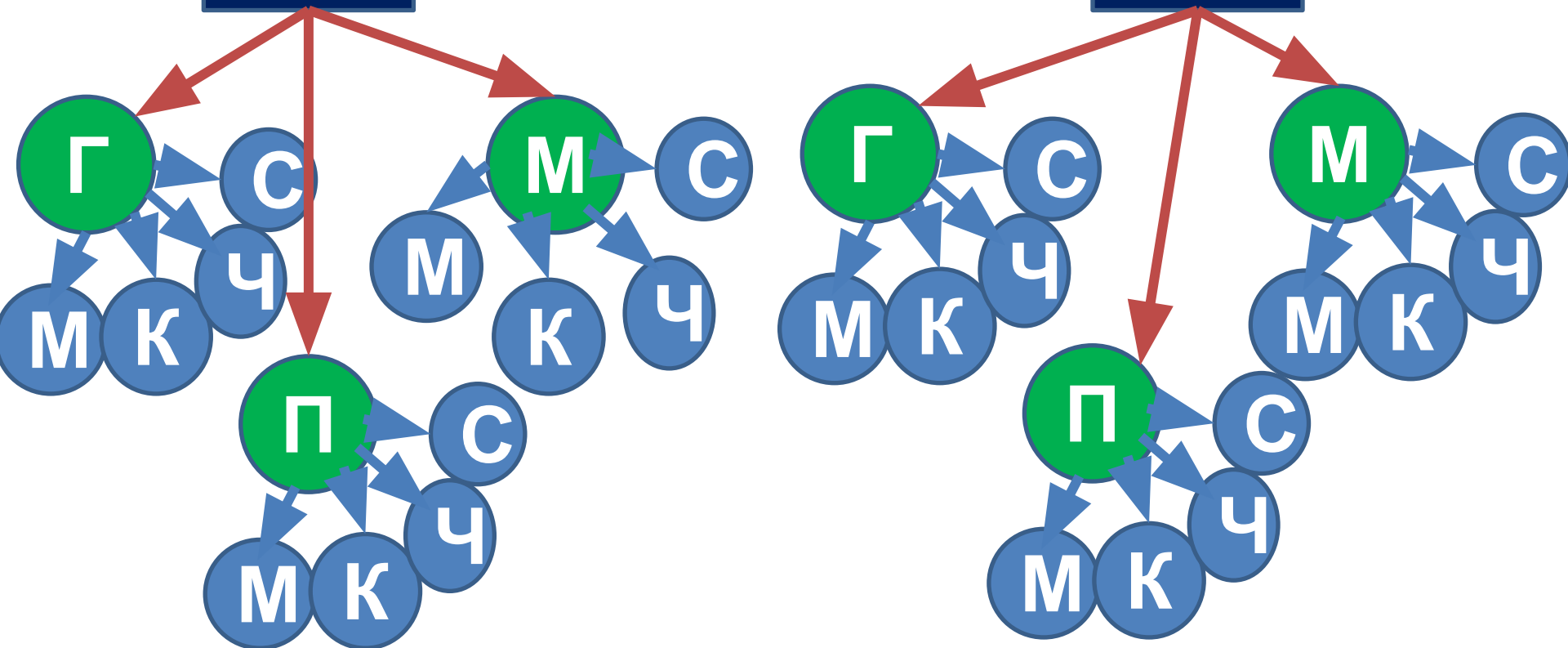
Разом	7	7	7
Червоні	6	5	4
Сині	1	2	3

Задача: Після канікул шестеро друзів обмінялися телефонними дзвінками. Скільки дзвінків було зроблено?



Задача: У шкільній їдальні на обід було приготовлено дві перші страви – суп(С) і борщ(Б); три других страви - голубці(Г), плов(П) і млинці(М), і чотири третіх – чай(Ч), сік(С), компот(К), молоко(М). Склади всі

С можливі варіанти обіду **Б**

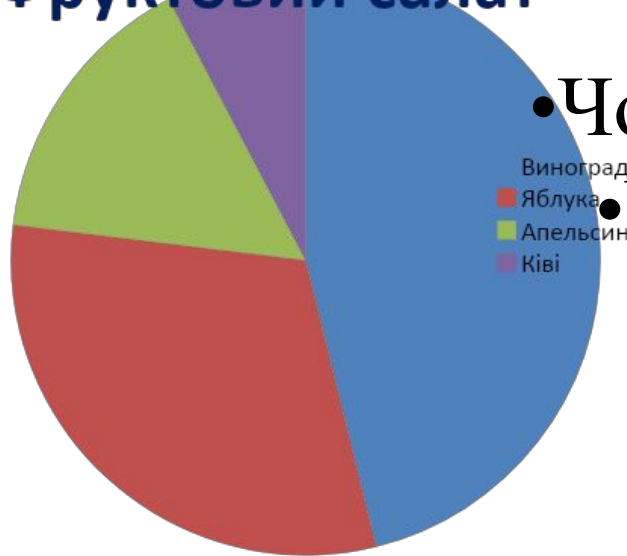


На діаграмі виноград позначено синім
кольором, яблука- червоним,
апельсини-зеленим, а ківі - фіолетовим.

Завдання:

- Яких фруктів у салаті найбільше?
- Яких найменше?

Фруктовий салат



- Чого у салаті більше яблук чи ківі?
- Чого менше винограду чи яблук?

2 клас Листопад

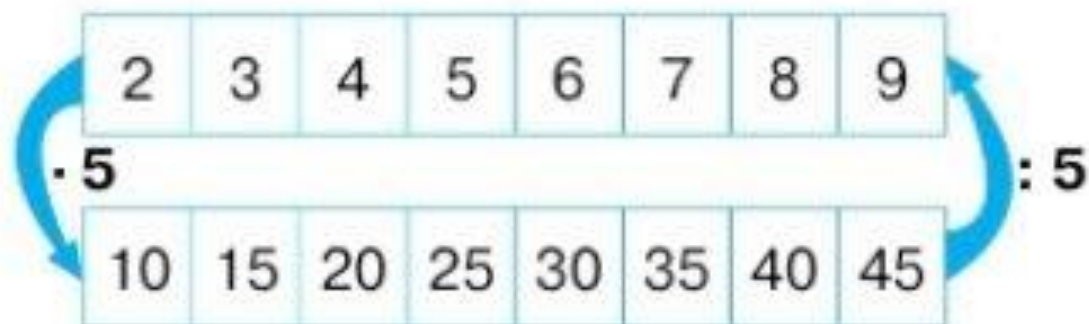
891. Назви числа, пропущені в таблиці. Як знайти невідомий дільник?

Ділене	32	48	40	56	72	24	56	16
Дільник								
Частка	4	8	5	8	8	3	7	8

Щоб знайти невідомий дільник, треба ділене поділити на частку.

2 клас Листопад

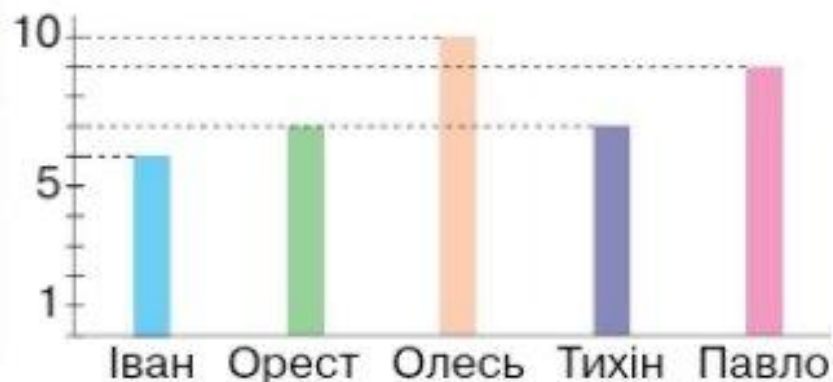
768. За схемою склади добутки з множником 5 і частки з дільником 5. Запиши їх у два стовпчики.



2 клас Листопад

531. Учитель записав у таблицю результати метання м'яча в корзину. На уроці математики діти за цими даними побудували діаграму.

Ім'я	Кількість влучень
Іван	6
Орест	7
Олесь	10
Тихін	7
Павло	9



Діаграма показує співвідношення між величинами, що порівнюються.

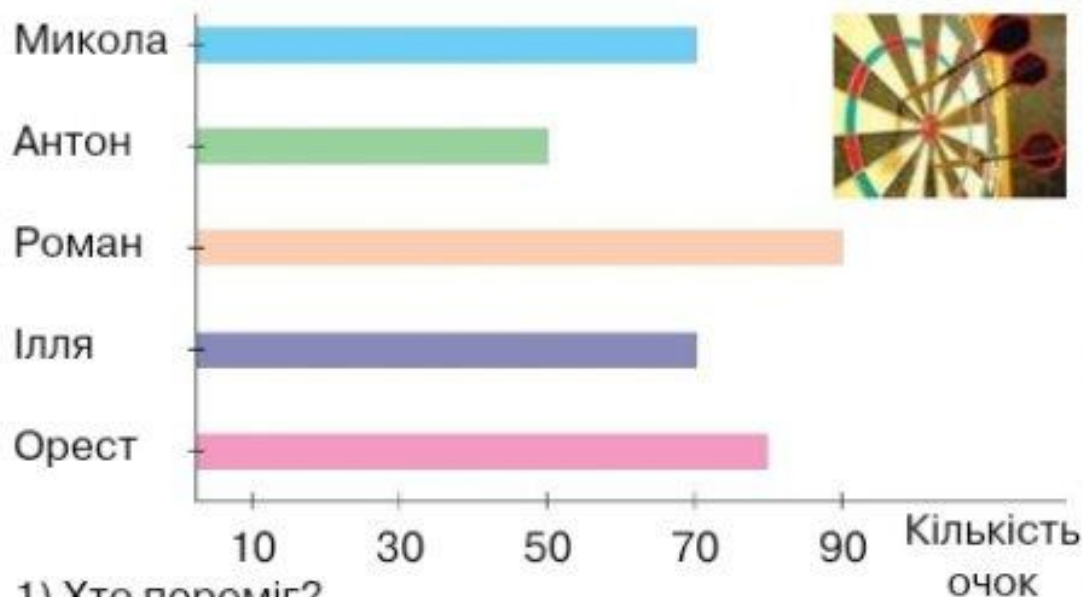
Розглянь діаграму й дай відповіді на запитання:

- 1) Хто переможець змагань?
- 2) У кого з учнів однакова кількість влучень у корзину?

2 клас Листопад

922. Результати змагання з метання дротиків хлопці відобразили на діаграмі.

Розглянь діаграму та дай відповіді на запитання.



1) Хто переміг?

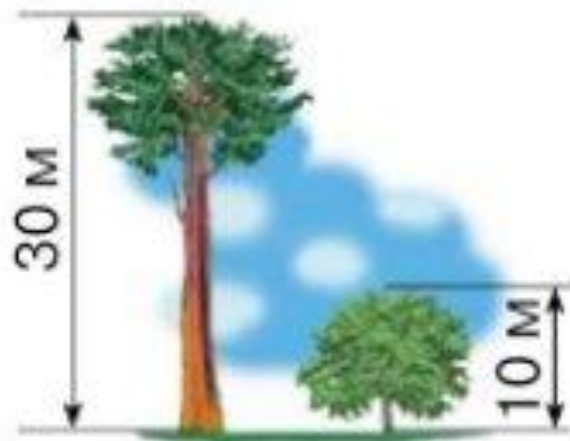
2) У кого другий результат?

3) Хто з хлопців набрав однакову кількість очок?

Поставте одне одному ще кілька запитань за поданою діаграмою.

2 клас Листопад

1001. За малюнком склади та розв'яжи задачу із запитанням «На скільки метрів сосна вища за клен?» і задачу із запитанням «У скільки разів сосна вища за клен?»



2 клас Листопад

436. Вибери ті солодощі, які можна купити за 80 грн.
Запиши кілька варіантів покупок.



437. Склади задачу про покупку солодощів.

2 клас Листопад

952. Назви числа, пропущені в таблиці.

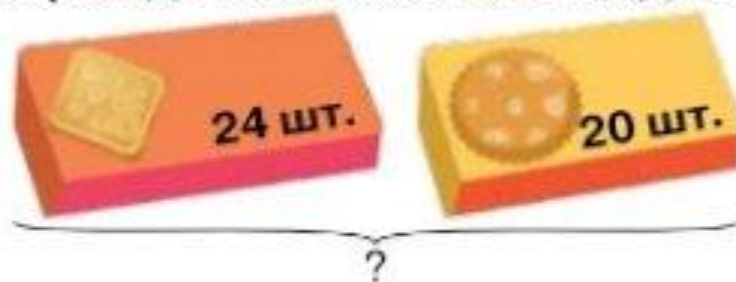
Ділене	7	5	9	10			4	4	8
Дільник		5			1	9		4	
Частка	7		3	1	2	9	2		4

97. Визнач масу товару на кожних вагах. Які ваги показують більшу масу?





2 клас Листопад

296. Склади вираз до малюнка та знайди його значення.



813. 1) Склади задачу за таблицею.

Продукт	Ціна	Кількість	Вартість покупки
	6 грн	3 шт.	?
	5 грн	2 шт.	

4 клас Листопад 1

680. Яка маса кожної тварини? На скільки білий носоріг важчий, ніж чорний носоріг? Яка маса цих двох тварин разом?



2 т 995 кг



1770 кг

681. У зоопарку народилося четверо левенят. Щоб їх зважити, доглядальник помістив їх по черзі в корзину, що на вагах. Яка маса кожного левеняти, якщо маса корзини — 500 г?




	Маса левеняти з корзиною
Ромео	1 кг 900 г
Нессі	1 кг 800 г
Ліа	2 кг 500 г
Аббас	2 кг 200 г

3 клас Листопад 2

частина

370. Знайди зріст дівчинки й собачки, скориставшись малюнком і числовими даними.



3 клас Листопад 2

451. У забігу брало участь 5 спортсменів. Прочитай їхні результати.



- 1) Хто став переможцем змагань?
- 2) Запиши імена дітей у порядку їх фінішування.
- 3) Хто з дітей прибіг до фінішу після Олега?
- 4) У кого з дітей у результаті забігу різниця в часі з Романом становить 10 с?

3 клас Листопад 2

частина

247. Знайди окремо масу зебри, поні й антилопи.

448 кг

375 кг



705 кг

3 клас Листопад 2

частина

111. Розглянь малюнки. Прочитай масу кожного смаколика. Дай відповіді на запитання.



- 1) Яка маса кекса й морозива разом?
- 2) Яка маса двох круасанів і шоколаду?
- 3) Що важче: кекс чи круасан? На скільки грамів важче?
- 4) Яка маса цукерок, шоколаду й шматка торта?

3 клас Листопад 2

531. Уляна, Олеся, Марта, Іван і Денис пішли в піцерію. На діаграмі показано скільки шматків піци з'їв кожний із них. Розглянь діаграму і дай відповіді на запитання.




- 1) Скільки всього шматків піци з'їли діти?
- 2) Хто з дітей з'їв найбільше шматків піци?
- 3) Хто з дітей з'їв найменше шматків піци?
- 4) Хто з дітей з'їв однакову кількість шматків піци?

3 клас Листопад 2

частина

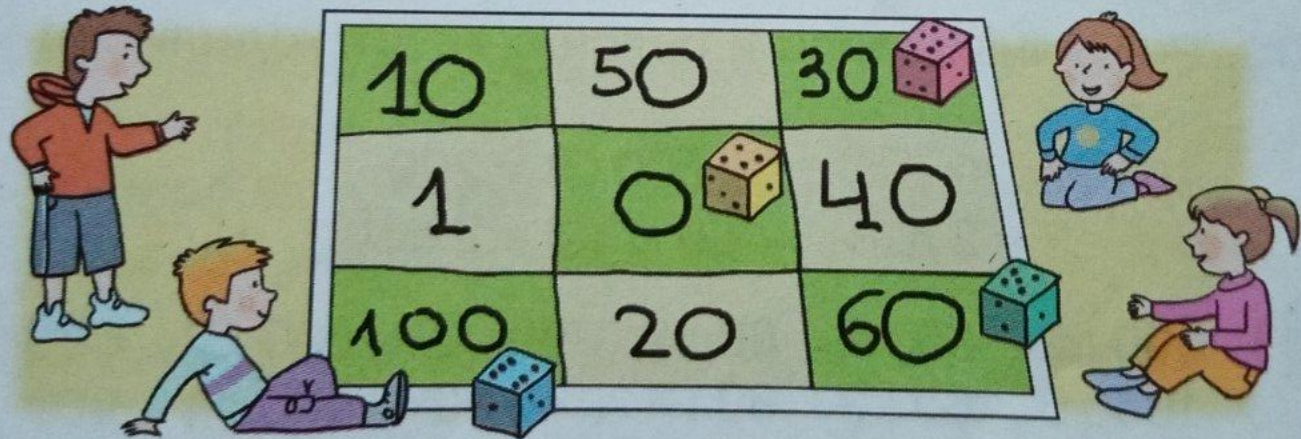
123. Розглянь таблицю. Як знайти невідомі величини? Запиши розв'язання в зошит.

	Маса вмісту банки	Маса порожньої банки	Маса банки та її вмісту разом
	570 г	240 г	?
	320 г	?	410 г
	720 г	260 г	?
	?	260 г	950 г
	350 г	?	470 г
	?	220 г	940 г

3 клас Листопад 2

частина

- 293.** Діти грають у математичну гру, підкидаючи кубик. Кількість очок визначається добутком числа, що випадає на кубику, і числа, що записане в клітинці, на яку падає кубик. Скільки очок отримав власник рожевого кубика? А блакитного? Яке найбільше число отримали в цій грі? Яке найменше?



3 клас Листопад 2

частина

7. Визнач масу хлопчика.

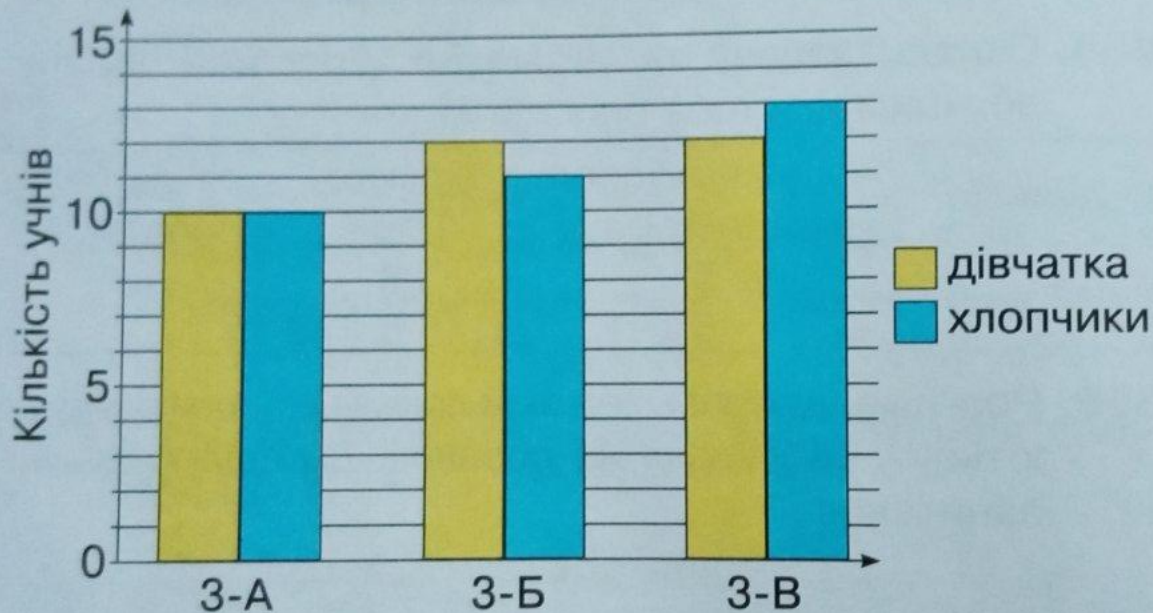
Дмитро — 33 кг
Михайло — 27 кг



Моя маса відрізняється від маси кожного з хлопців на 3 кг.

3 клас Листопад 2

361. Розглянь діаграму, на якій показано кількість дівчаток і хлопчиків у третіх класах. Дай відповіді на запитання.



- 1) Скільки всього дівчаток у 3-х класах?
- 2) Скільки всього хлопчиків у 3-х класах?
- 3) Скільки всього учнів у третіх класах?

3 клас Листопад 2

359. Розглянь діаграму, на якій показано, чим займаються учні 3 класу на дозвіллі. Дай відповіді на запитання.



- 1) Чим займається більшість учнів на дозвіллі?
- 2) Скільки учнів читають?
- 3) Чи правда, що учнів, які люблять переглядати відеоролики більше, ніж учнів, які займаються спортом?
- 4) Скільки всього учнів у класі?

3 клас Листопад 2

348. Розглянь діаграму, на якій показано, як учні 3 класу дістаються до школи. Дай відповіді на запитання.




- 1) Скільки учнів ідуть до школи пішки?
- 2) Скільки учнів їдуть машиною?
- 3) Скільки учнів їдуть шкільним автобусом?
- 4) Скільки всього учнів у класі?

3 клас Листопад 2


Частина 2

657. 1) Обчисли загальну масу трьох ящиків.
2) Вантажник хоче помістити ще один ящик масою 90 кг, але на візку не можна перевозити понад 800 кг. Чи можна покласти на візок цей ящик?




4 клас Листопад 1

частина

 **291.** Склади задачу за таблицею і розв'яжи її.

Приладдя	Ціна	Кількість	Вартість
Циркуль	23 грн	2	?
Лінійка	11 грн	3	

544. Склади вирази за схемами й обчисли їх значення.



4 клас Листопад 1

частина

724. Розгляньте діаграму кількості дерев за видами, що ростуть на пришкільній території.

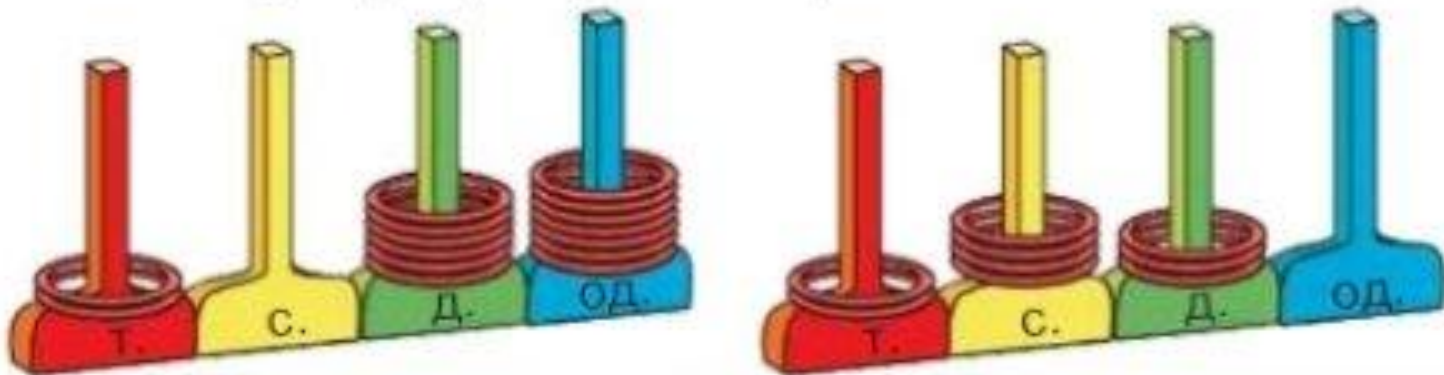


- 1) Скільки всього дерев росте на пришкільній території?
 - 2) Яких дерев росте найбільше?
 - 3) Яких дерев однакова кількість?
 - 4) Яких дерев більше, ніж кленів?
- З'ясуйте, які дерева та в якій кількості ростуть на вашій пришкільній території. Побудуйте діаграму.

4 клас Листопад 1

частина

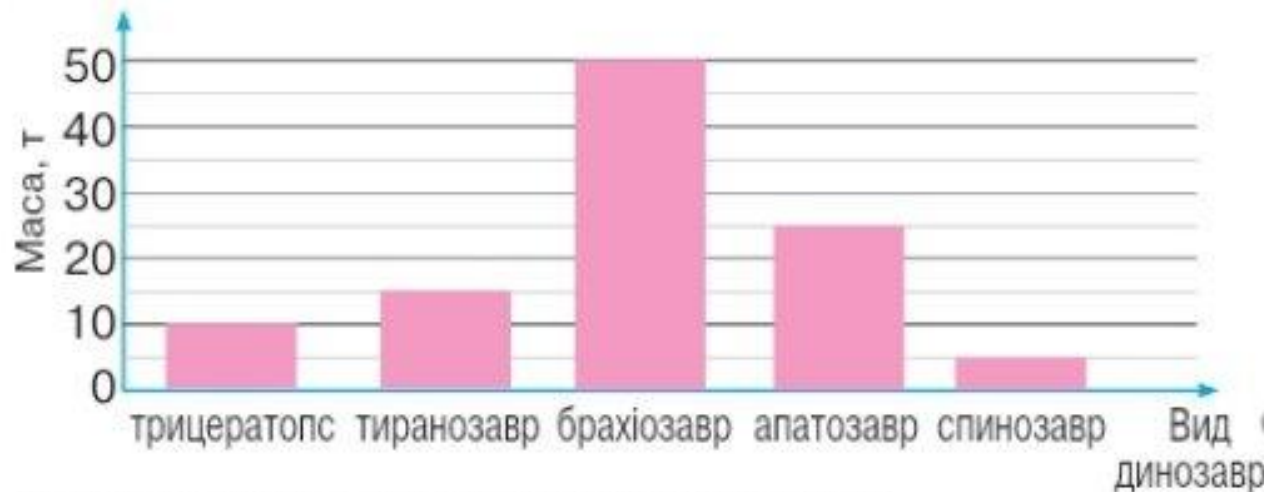
242. Які числа зображені на моделях? Запиши ці числа в нумераційну таблицю.



4 клас Листопад 1

частина

201. Розглянь діаграму і дай відповіді на запитання.

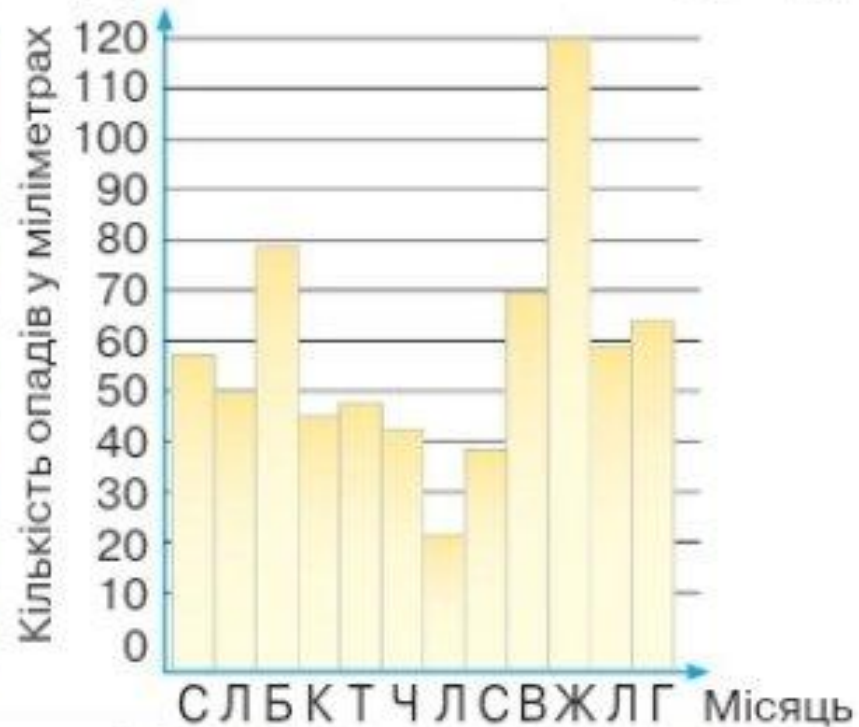


- 1) Який динозавр мав найбільшу масу?
 - 2) Хто з динозаврів мав меншу масу, ніж апатозавр?
 - 3) На скільки тонн трицератопс легший, ніж брахіозавр?
 - 4) Які динозаври легші від тиранозавра?
- Поставте за даними діаграми ще кілька запитань.

4 клас Листопад 1

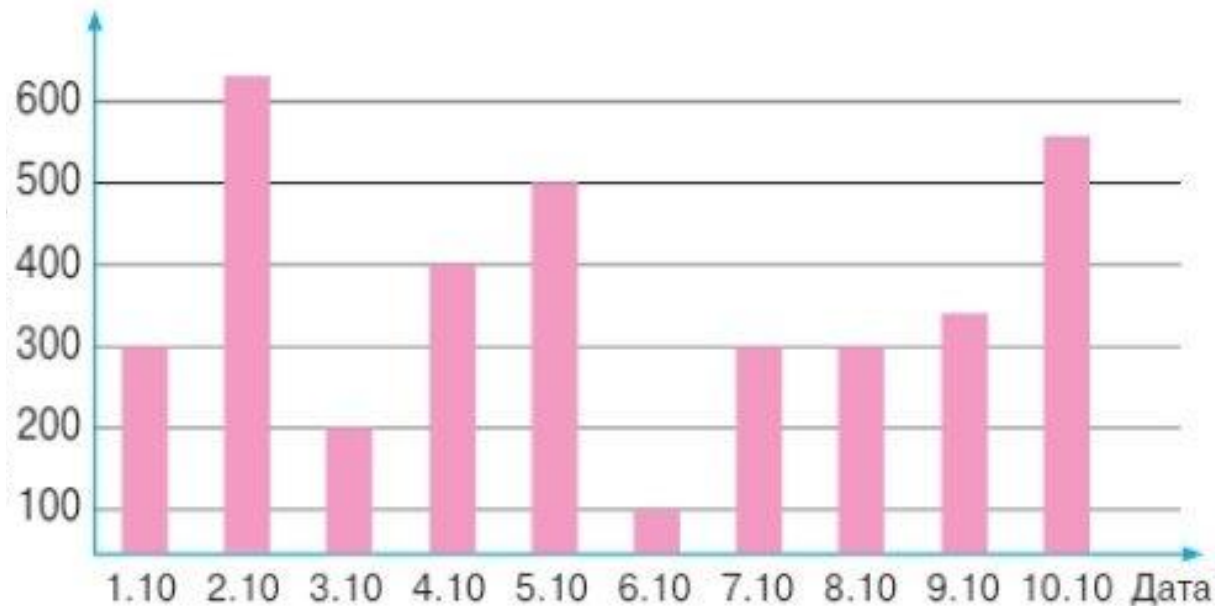
частина

317. Розглянь світлину, на якій зображено прилад для вимірювання опадів. Розглянь діаграму опадів за рік по місяцях (буквами позначені місяці року).



4 клас Листопад 1

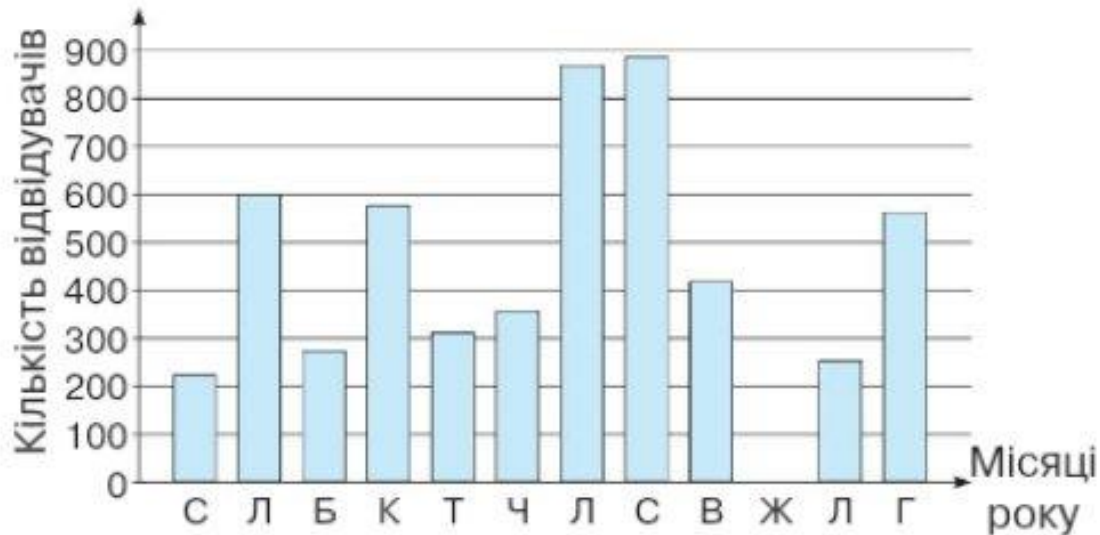
235. Розглянь діаграму відвідування кінотеатру в першу декаду жовтня. Дай відповіді на запитання.



- 1) У який день у кінотеатрі було найбільше глядачів?
- 2) Скільки глядачів відвідало кінотеатр 5 жовтня?
- 3) Скільки всього глядачів було в кінотеатрі 7-го й 8-го жовтня?
- 4) У які дні в кінотеатрі було понад 350 глядачів?

4 клас Листопад 1

323. Розглянь діаграму, на якій показано кількість відвідувачів готелю впродовж року. Дай відповіді на запитання.



- 1) Скільки відвідувачів було в готелі в лютому?
- 2) Скільки відвідувачів було в готелі в листопаді? (Дай наближену відповідь у формі: «від ... до ...».)
- 3) У якому місяці готель був зачинений?
- 4) У яких місяцях у готелі зупинилося більше 200 і менше 400 відвідувачів?
- 5) У яких двох місяцях відвідувачів було найбільше? Як ти думаєш, чому?

4 клас Листопад 1

частина

486. За планом шкільної дослідної ділянки обчисли площі, відведені для жита й картоплі.

