

КОНТРОЛЬНАЯ РАБОТА ПО ТЕМЕ: «КОНТИНЕНТ ЮЖНАЯ АМЕРИКА»



КАКОЕ ГОСУДАРСТВО ОБОЗНАЧЕНО
НА КАРТИНКЕ?



КАКИМ МОРЕМ ОМЫВАЕТСЯ ГОСУДАРСТВО БЕЛИЗ?



НА КАКОМ ЯЗЫКЕ ГОВОРЯТ В БРАЗИЛИИ?



ЧЕМУ ПОСВЯЩЕНЫ ЭТИ КАРТИНКИ?



КАК РАНЬШЕ НАЗЫВАЛАСЬ СТРАНА БРАЗИЛИЯ?



Бразилия

КАКОЕ ГОСУДАРСТВО ОБОЗНАЧЕНО
НА КАРТИНКЕ?




КОЛОНИЕЙ КАКОГО ГОСУДАРСТВА, В ПРОШЛОМ,
БЫЛО ГОСУДАРСТВО – СУРИНАМ?



КАКОЙ РЕГИОН ВЫДЕЛЕН НА ЭТОЙ
КАРТИНКЕ?



ЧЕЙ ФЛАГ ТЫ ВИДИШЬ НА КАРТИНКЕ?



МАНАГУА - СТОЛИЦА КАКОГО ГОСУДАРСТВА?



В КАКОЙ СТРАНЕ НАХОДИТСЯ ЭТА
ДОСТОПРИМЕЧАТЕЛЬНОСТЬ?



КАКАЯ СТРАНА ЧЕРЕЗ ЗАЛИВ ФОНСЕКА ИМЕЕТ ВЫХОД К ТИХОМУ ОКЕАНУ?



В КАКОМ ГОРОДЕ РАСПОЛОЖЕН
МОНАСТЫРЬ САО БЕНТО?



ЧЕЙ ФЛАГ ИЗОБРАЖЕН НА КАРТИНКЕ?



КАКАЯ ИЗ СТРАН ЮЖНОЙ АМЕРИКИ НЕ ИМЕЮТ ВЫХОДА К МОРЮ?

а) Чили; б) Венесуэла; в) Парагвай; г) Уругвай




КАК НАЗЫВАЕТСЯ ЭТО ИНДЕЙСКОЕ ПЛЕМЯ, ПРОЖИВАЮЩЕЕ В БОЛИВИИ И ПЕРУ



КАКУЮ ДОСТОПРИМЕЧАТЕЛЬНОСТЬ
ТЫ ВИДИШЬ НА КАРТИНКЕ?



КАКОМУ ДРЕВНЕМУ ПЛЕМЕНИ ПРИНАДЛЕЖАТ ЭТИ ПАМЯТНИКИ?

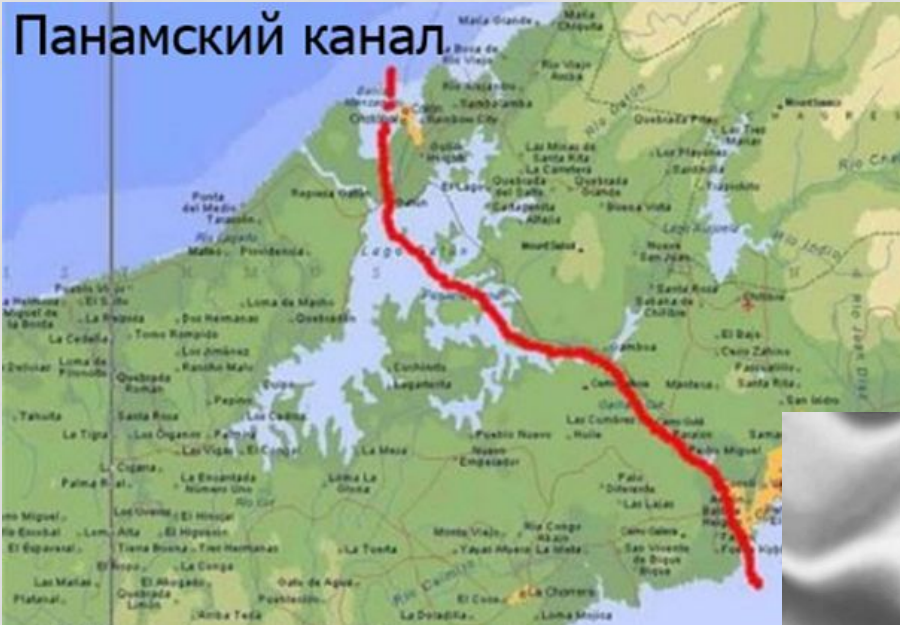


КАКАЯ СТОЛИЦА У ПУЭРТО-РИКО?

а) Виллемстад; б) Гамильтон; в) Стэнли; г) Сан - Хуан



КАКОМУ ГОСУДАРСТВУ ПРИНАДЛЕЖИТ ПАНАМСКИЙ КАНАЛ?



КАКОЕ ГОСУДАРСТВО ОБОЗНАЧЕНО
НА КАРТИНКЕ?



ГАВАНА, СТОЛИЦА КАКОГО ГОСУДАРСТВА?



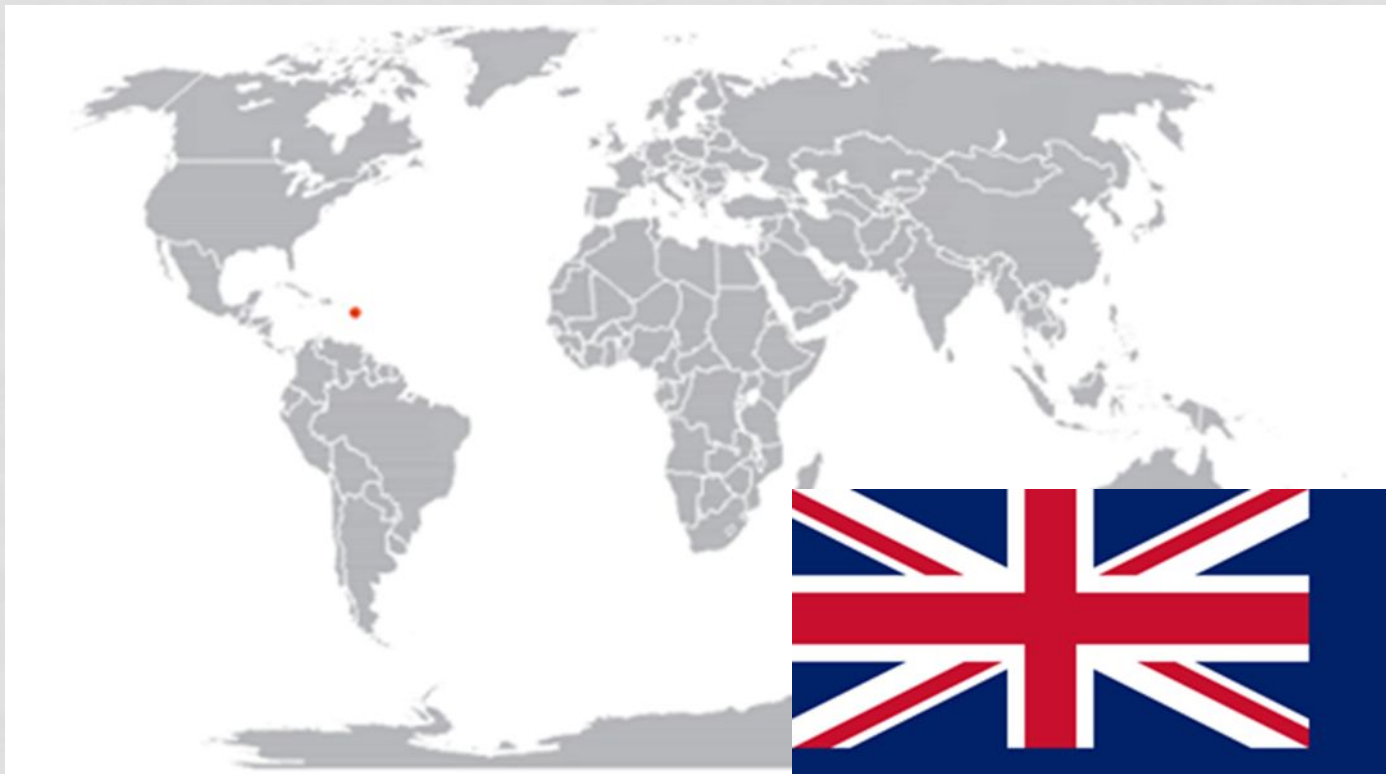
КАКОЕ ГОСУДАРСТВО ОБОЗНАЧЕНО
НА КАРТИНКЕ?




КАКАЯ ТЕРРИТОРИЯ ОТМЕЧЕНА НА КАРТИНКЕ?



ЕГО НАЗЫВАЮТ «ИЗУМРУДНЫЙ ОСТРОВ КАРИБСКОГО МОРЯ»



КАКОМУ ГОСУДАРСТВУ ПРИНАДЛЕЖАТ КАЙМАНОВЫ ОСТРОВА?



КАКОЕ ГОСУДАРСТВО ОБОЗНАЧЕНО НА КАРТИНКЕ?



КАКОЕ ГОСУДАРСТВО ОТНОСИТЬСЯ К СЕВЕРНОЙ АМЕРИКЕ?

а) Аргентина; б) Мексика; в) Чили; г) Бразилия



МОЛОДЕЦ!

