

# Шаблон тренажера

## ЕГЭ -2014 География. Тест

**Правила работы с тестом. Если Microsoft Office 2003 года, то при работе с тестом в окне нажмите на надпись «Макросы не отключать».**

**Если Microsoft Office поздней версии, нажмите курсор на надпись «Включить содержимое».**

**Начать тест**

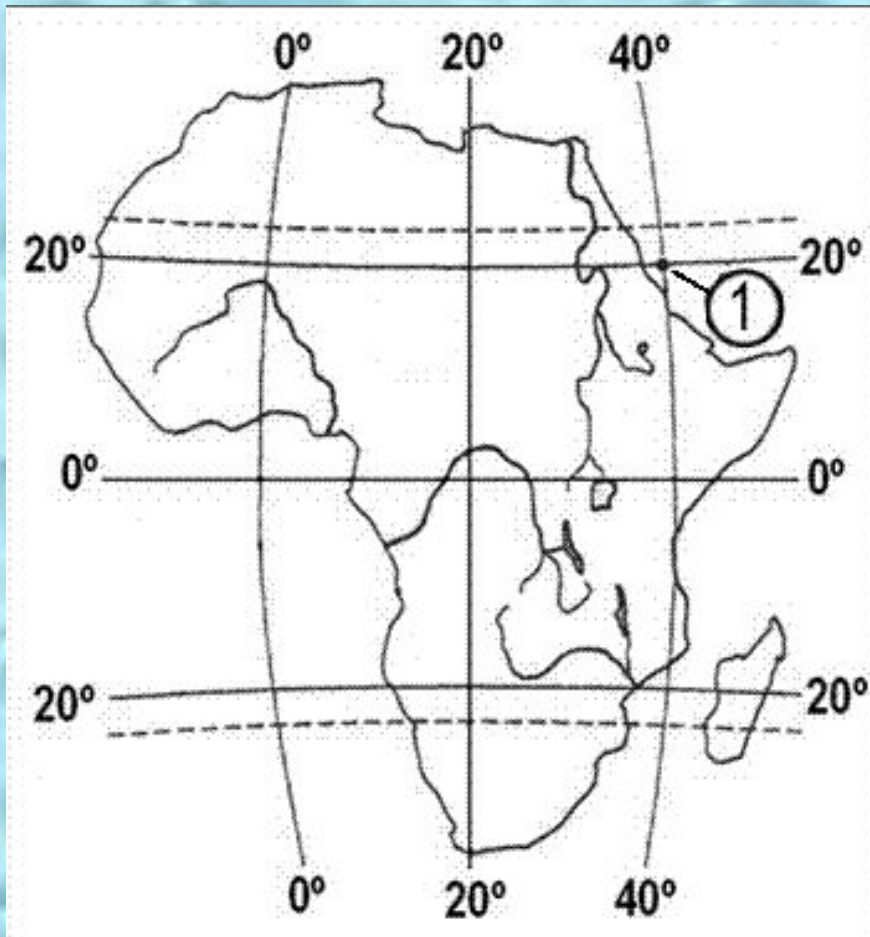
# Результат теста

Время: 3 мин. 34 сек.

[исправить](#)

[ещё](#)

**Какие географические координаты имеет точка, обозначенная на цифрой 1?**



**20° с.ш. и 40° з.д**

**40° с.ш. и 20° з.д**

**20° с.ш. и 40° в.д.**

**40° с.ш. и 20° в.д**



**Какая из перечисленных горных пород по происхождению является магматической?**

**мрамор**

**гранит**

**песчаник**

**известняк**

# **Примером рационального устойчивого природопользования является:**

**строительство автомагистрали через  
Химкинский лес**

**строительство каскада ГЭС на Волге**

**захоронение ядерных отходов на дне  
Мирового океана**

**создание системы замкнутого водооборота  
на Байкальском ЦБК**

Для какой природной зоны характерны черноземные почвы?

**тайги**

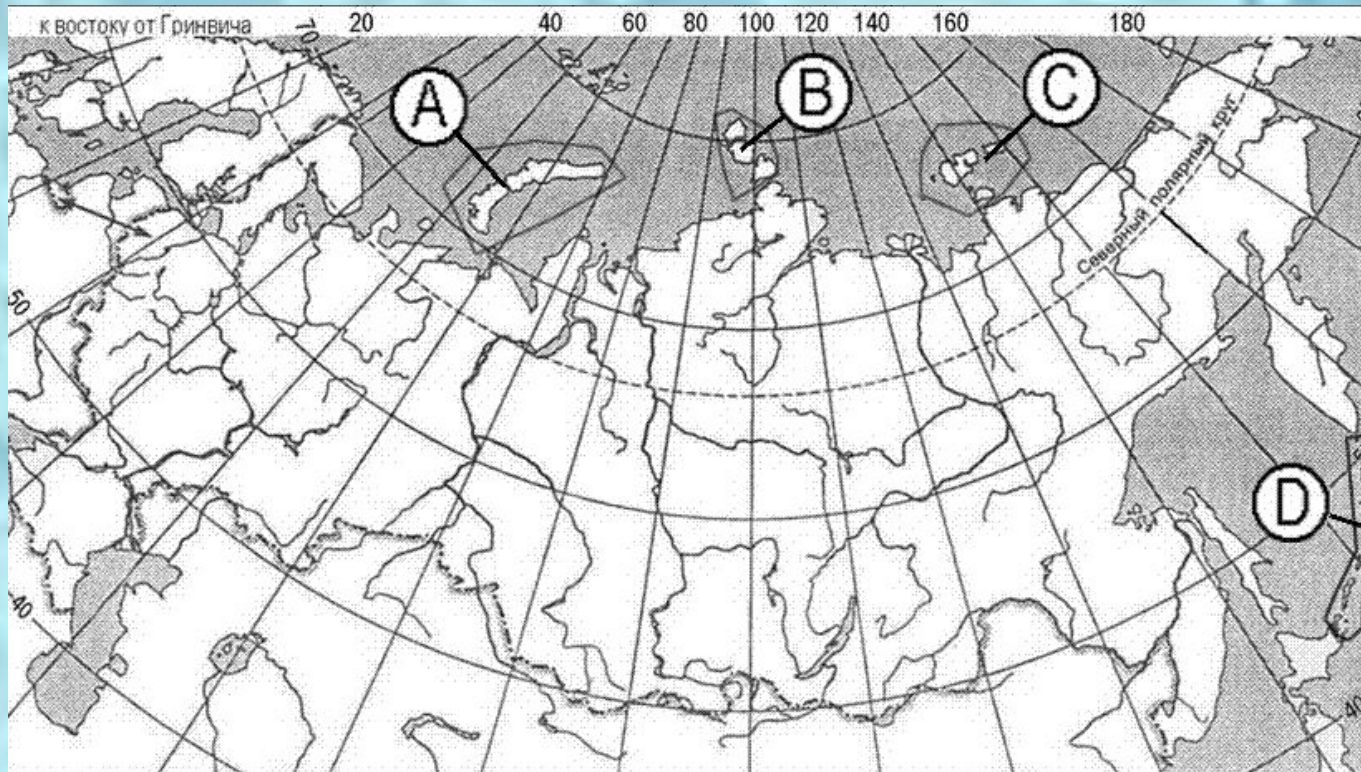
**степей**

**смешанных лесов**

**широколиственных  
лесов**



Какой буквой на карте России обозначены острова, на которых имеются действующие вулканы?



**A**

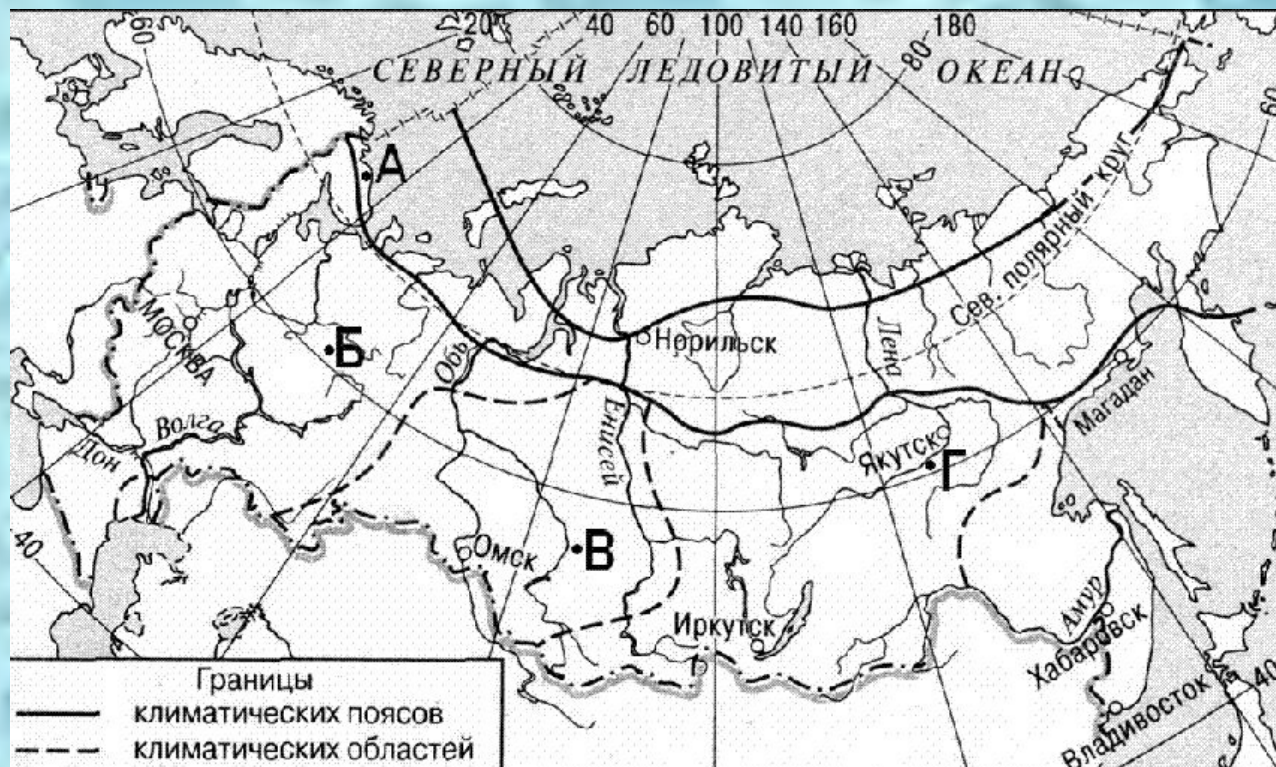
**B**

**C**

**D**



В каком из пунктов, обозначенных буквами на карте России, средние температуры воздуха в январе наиболее высокие?



**А**

**Б**

**В**

**Г**



**В какой день на всей Земле продолжительность дня  
равна продолжительности ночи?**

**23 ноября**

**22 декабря**

**21 марта**

**22 января**

**В какой из перечисленных стран доля детей в общей численности населения наибольшая?**

**Австралия**

**Нигер**

**Польша**

**Германия**

**В какой из перечисленных стран доля городского населения в общей численности населения наибольшая?**

**Алжир**

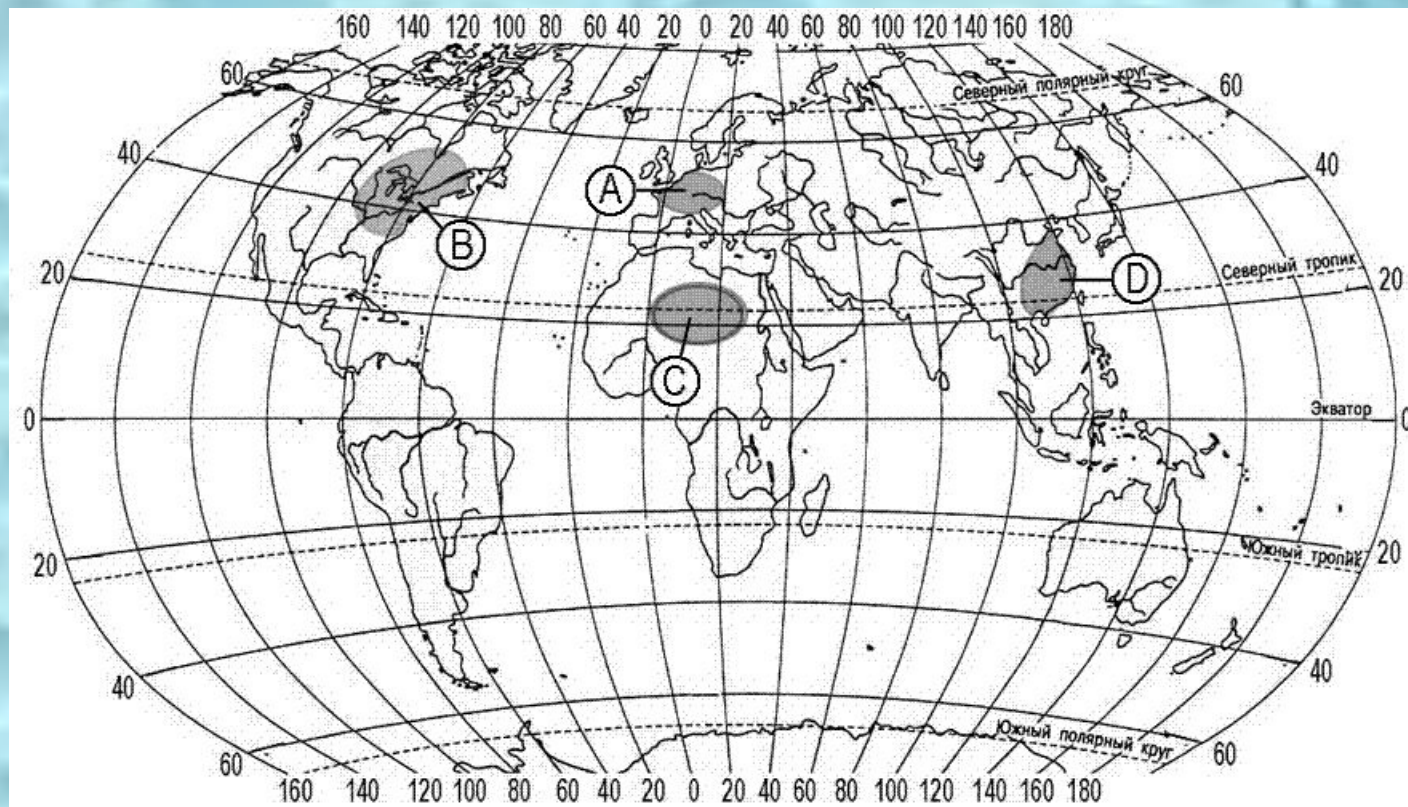
**Бангладеш**

**Швеция**

**Кения**



На какой из территорий, обозначенных буквами на карте мира, средняя плотность населения наименьшая?



**A**

**B**

**C**

**D**

**В какой из перечисленных стран средняя продолжительность жизни населения наименьшая?**

**Бразилия**

**Судан**

**Италия**

**Германия**

**В какой из перечисленных стран большая часть экономически активного населения занята в сельском хозяйстве?**

**Франция**

**Италия**

**Камбоджа**

**Испания**



**Какая из перечисленных стран является наиболее крупным мировым производителем и экспортером хлопка?**

**Канада**

**Норвегия**

**Швеция**

**США**

Какое из перечисленных государств расположено в Азии?

**Уругвай**

**Камбоджа**

**Судан**

**Албания**

## Какое из следующих утверждений об Индии верно?

**Большая часть территории страны расположена в субэкваториальном климатическом поясе.**

**На территории страны расположено множество действующие вулканов.**

**Большая часть верующего населению исповедует ислам**

**Страна является членом политико-экономической организации АСЕАН**



**Самая южная точка территории России расположена на территории:**

**Республики Алтай**

**Приморского края**

**Республики Дагестан**

**Красноярского края**

Какой из регионов, обозначенных буквами на карте России, имеет наибольшую среднюю плотность населения?



A

B

C

D

**Какой из перечисленных городов является наибольшим по численности населения?**

**Самара**

**Пенза**

**Смоленск**

**Брянск**



**В каком из перечисленных регионов густота автомобильных дорог (км на 1000 км<sup>2</sup>) наибольшая?**

**Красноярский край**

**Мурманская область**

**Республика Якутия**

**Тверская область**

## Какая особенность характерна для населения Европейского Севера?

**Размещение большого числа жителей в городах-миллионерах.**

**Низкая плотность населения.**

**Высокий миграционный прирост населения.**

**Среди коренного населения преобладание представителей алтайской языковой семьи.**

**В каком из следующих высказываний содержится информация о проявлении международной экономической интеграции?**

**Германия, Италия и Китай относятся к числу главных торговых партнеров России**

**В рамках Таможенного союза с 2010 года в Беларуси, Казахстане и России к товарам из третьих стран применяются единые ставки ввозных таможенных пошлин.**

**В странах Северной Америки и Западной Европы темпы экономического роста в конце XX в. сильно замедлились.**

**В мире ежегодно миллионы людей переезжают из стран Азии и Африки в развитые страны Европы и Америки.**



**Основная часть российского экспорта приходится на:**

**кожевенное сырье,  
пушнину**

**продовольствие**

**минеральные продукты**

**машины и оборудование**

**Большинство верующих какого из перечисленных народов исповедует буддизм?**

**башкиры**

**казахи**

**буряты**

**узбеки**

**Верны ли следующие выводы об изменении динамики ВВП отдельных стран, сделанные на основе анализа данных приведённой таблицы?**

**ДИНАМИКА ВВП ОТДЕЛЬНЫХ СТРАН МИРА  
(в процентах к предыдущему году)**

	2005	2006	2007	2008
Россия	106	108	108	105
Германия	100	103	103	101

- А) В период с 2005 до 2008 год ВВП России постоянно рос.  
Б) В 2008 году ВВП Германии несколько снизилась по сравнению с 2007 годом.**

**1. Верен только А**

**3. Верен только Б**

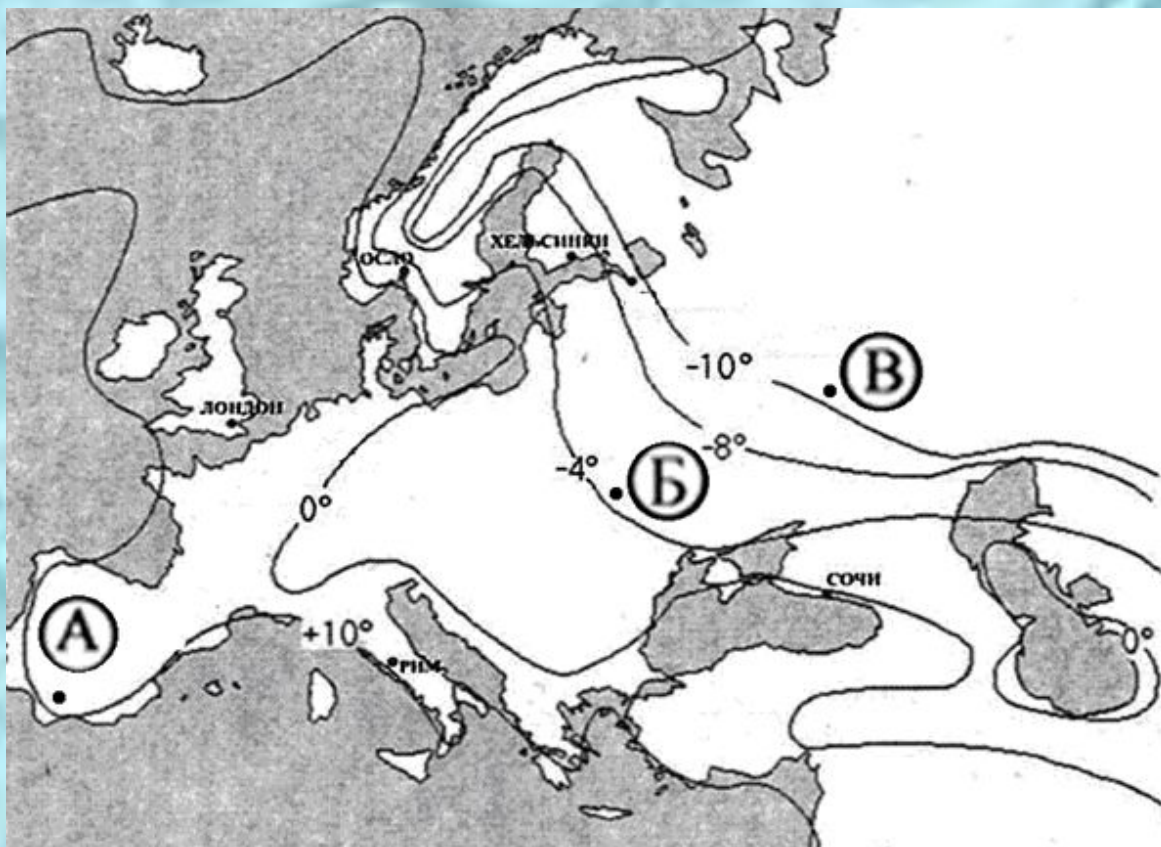
**3. Оба вывода верны**

**4. Оба вывода не верны**



С помощью приведенной ниже карты сравните средние температуры января в точках, обозначенных на карте буквами А, Б, В. Расположите эти точки в порядке увеличения средней температуры января в данных точках.

Средние температуры января на территории Европы



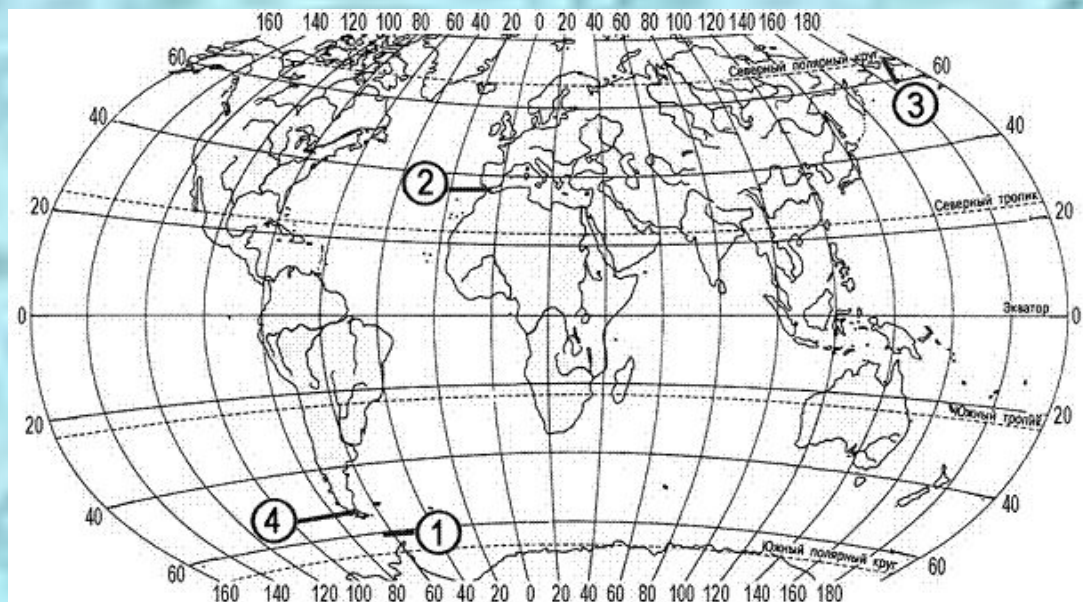
АБВ

АВБ

БВА

ВБА

Установите соответствие между проливом и его расположением на карте, обозначенным цифрой: к каждому элементу первого столбца подберите соответствующий элемент из второго и внесите в строку ответов выбранные цифры под соответствующими буквами.



123

234

134

143

**ПРОЛИВ            РАСПОЛОЖЕНИЕ НА КАРТЕ**

- |                      |          |          |
|----------------------|----------|----------|
| <b>А) Дрейка</b>     | <b>1</b> |          |
| <b>Б) Магелланов</b> | <b>2</b> |          |
| <b>В) Берингов</b>   |          | <b>3</b> |
|                      | <b>4</b> |          |



## СУБЪЕКТ РФ

## АДМИНИСТРАТИВНЫЙ ЦЕНТР

- А) Республика Калмыкия
- Б) Удмуртская Республика
- В) Чукотский АО

- 1) Элиста
- 2) Улан-Удэ
- 3) Ижевск
- 4) Анадырь

Установите соответствие между субъектом РФ и его административным центром: к каждому элементу первого столбца подберите соответствующий элемент из второго.

123

124

134

234



■ В каких трех регионах России имеются атомные электростанции.

1.Архангельская область

2.Воронежская область

3.Тверская область

4.Ивановская область

5.Краснодарский край

6.Ростовская область

**135**

**236**

**136**

**246**

Расположите перечисленные периоды геологической истории Земли в хронологическом порядке начиная с самого раннего. Укажите ответ в виде последовательности буквенных обозначений выбранных элементов.

А. каменноугольный

Б. палеогеновый

В. меловой

**АВБ**

**АБВ**

**ВАБ**

**ВБА**

**Определите страну по ее краткому описанию.**

**Эта страна относится к числу экономически высокоразвитых. Ее территория полностью расположена в восточном полушарии и омывается водами двух океанов. Значительную часть территории занимают пустыни и полупустыни. В мировом географическом разделении труда страна играет роль крупного поставщика железной руды, каменного угля, сжиженного природного газа и овечьей шерсти.**

**Австралия**

**ЮАР**

**Египет**

**Саудовская Аравия**



## Определите регион России по его краткому описанию.

Эта область, расположенная в северной части нашей страны, граничит с двумя странами мира. В ее пределах работают несколько крупных морских портов. В области располагается месторождение бокситов, фосфатных руд, горючих сланцев и др. Среди отраслей промышленности развиты добывающие, обрабатывающие, электроэнергетика. Имеется центр алюминиевой промышленности (производство глинозема), нефтеперерабатывающие предприятия, достаточно развитая мебельная промышленность, целлюлозно-бумажная и пищевая промышленности. Сельское хозяйство области имеет ярко выраженную пригородную специализацию, ведущие отрасли — молочно-мясное животноводство, картофелеводство и овощеводство. Транспортная сеть региона хорошо развита, что обусловлено соседством с одним из крупнейших в России транспортных узлов.

**Мурманская область**

**Архангельская область**

**Ленинградская область**

**Вологодская область**