

Разминка!



Истина и ложь



3D-мышление



Взвешивания





Четвёртый
лишний

Учебник стр.79 №8

Работаем устно!

8) Измерь стороны фигур и найди их периметры. У какой фигуры периметр больше?



Учебник стр.79 №6

Работаем устно!


- 6 а) Когда из мешка отсыпали 3 кг крупы, в нём осталось 6 кг. Сколько крупы было в мешке?
- б) У Юры 12 значков, а у Пети 16 значков. У кого из мальчиков значков меньше и на сколько?
- в) В первом бидоне 4 л молока, а во втором – на 2 л больше. Сколько литров молока в двух бидонах?
- г) Ире 5 лет, а её брат на 4 года старше. Сколько лет брату? Сколько лет будет Ире и брату через 3 года?



Учебник стр.79 №10

Работаем письменно!

- 10* Девочки бегали наперегонки. Таня прибежала раньше Светы, но позже Иры, Лена прибежала раньше Иры, а Оксана – позже Светы. Кто из них прибежал раньше всех? Кто позже всех? В каком порядке они прибежали?



л. о. и.

Рабочая тетрадь стр.48 №1

Работаем письменно!

3 Заполни таблицы.

+	7	8	9
5			
6			
7			

+	7	14	20
4		18	
42			62
50	57		

15 13 12 16
13 15 14 14

64 56 49 70 11
24