




# *В стране математики*



ПРЕЗЕНТАЦИЮ ПРИГОТОВИЛА  
ВОСПИТАТЕЛЬ  
ДЕТСКОГО САДА №1  
Г. ЛИПЕЦКА ВЛАСОВА В.А.

# Веселые задачи



## Белки и орех

Белки для потехи  
Щёлкали орехи.  
Как расколется орех,  
Слышен белок звонкий  
смех!

Сосчитать бы только  
Раскололи сколько?  
Посчитай ещё и те,  
Что остались в скорлупе.

Три зайчонка, пять ежат  
Ходят вместе в детский сад.  
Посчитать вас попрошу,  
Сколько малышей в саду?



8

9

7




# Яблочки

Яблоки в саду поспели,  
Мы отведать их успели  
Пять румяных, наливных,  
Два с кислинкой.  
Сколько их?

7

8

3



Таня в лукошко грибы  
собрала.

В подарок друзьям своим  
принесла

Два Сережке, два Антошке,  
И еще два брату Лёшке?

Ты сиди, не зевай!

Все грибы пересчитай!

# 6



# Белка-мастерица



Ай да белка-мастерица!  
Вяжет деткам рукавицы.  
Извязала три клубка,  
Два лежат ещё пока.  
У кого ответ готов,  
Сколько у неё клубков?



4

1

5



My



Во дворе играли дети.  
Всех их вместе было десять.  
Семь мальчишек среди них.  
А девчонок?

Сколько их?

3





# Физминутка



Сколько ёлочек зелёных,  
Столько сделаем наклонов.

Приседаем столько раз,  
Сколько бабочек у нас.

А притопнем столько раз,  
Сколько ёжиков у нас.

А прихлопнем столько раз,  
Сколько белочек у нас.







## В ГОСТЯХ У ПЧЕЛЫ

Пролетела сорока по лесу и сообщила, что пчелы будут зверей медом угощать. Первым к улью прибежал медведь с бочонком. Второй прискакала белочка с кружкой. Третьим примчался заяц с миской. Четвертой пришла лиса с кувшином. Пятым приковылял волк.

### Вопросы.

Каким по счету примчался к улью заяц?  
У кого была самая маленькая посуда?  
У кого была самая большая посуда?



## КТО БУДЕТ ПОЧТАЛЬОНОМ

Собрались звери на поляне, чтобы почтальона выбрать. Объявили соревнование: кто прибежит первым к финишу, тот и будет почтальоном. Первым прибежал заяц. Второй была лиса. Третьей прискакала белка. Четвертым домчался лось. Пятым добежал волк. Шестым прикатился еж. Седьмым приковылял медведь.

### Вопросы

Кто в лесу будет почтальоном?

Каким по счету прибежали к финишу: лиса? (лось? еж? и т.д.)





## Зайцы в огороде



Проголодались зайцы и решили залезть в огород полакомиться. В огороде овощей видимо-невидимо. Один заяц сорвал капусту, другой – свеклу, третий – морковь и репу. Четвертый – огурец и кабачок. Самый маленький зайчонок сорвал лук и чеснок. Вдруг увидели зайцы сторожа и бросились наутек. Добежали до пригорка, стали овощи раскладывать. А старый заяц посмотрел на них и как рассмеется: «Зайчонок, зачем ты лук и чеснок – рвал? Почему зайцы его не едят?»



### Вопросы

- Сколько зайцев собралось в огород?
- Сколько всего овощей сорвали зайцы?



## Волк и Лиса на Рыбалке

Собрались лиса и волк на рыбалку. Лиса взяла маленькую удочку с короткой леской, а волк-жадина подумал: «Возьму-ка я самую большую удочку с длинной-предлинной леской – больше рыбы наловлю». Сели ловить рыбу. Лиса только успевает рыбу вытягивать: то карася, то леща, то сома, то щуку. А волк поймал одну плотвичку, стал ее из реки тянуть, да в длинной леске и запутался. Пока распутался, уже и домой пора идти.

### Вопросы

Кто больше наловил рыбы, почему?

Сколько всего рыб наловили волк и лиса?



Придумай задачи по картинкам и запиши решения.



--	--	--	--	--

--	--	--	--	--



--	--	--	--	--


--	--	--	--	--



--	--	--	--	--

**РАБОТАЕМ В ТЕТРАДЯХ**

Нарисуй в тетради синих кругов на один меньше, чем лимонов



Нарисуй в тетради красные квадраты так, чтобы их было на один больше, чем груш





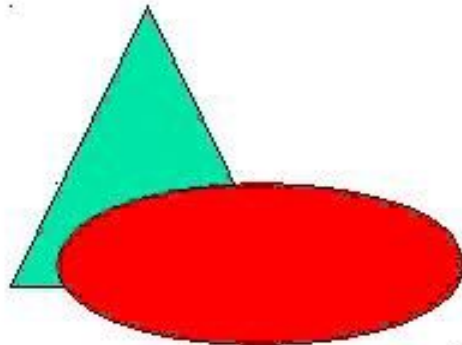
Нарисуй в тетради столько же зеленых  
треугольников, сколько грибов







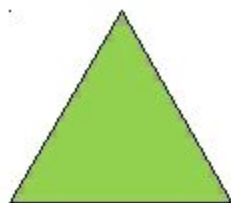

# Ориентировка в пространстве.

---



- Сказать, что слева от треугольника, что справа, что впереди.

Назови фигуры, которые находятся  
слева и справа от овала


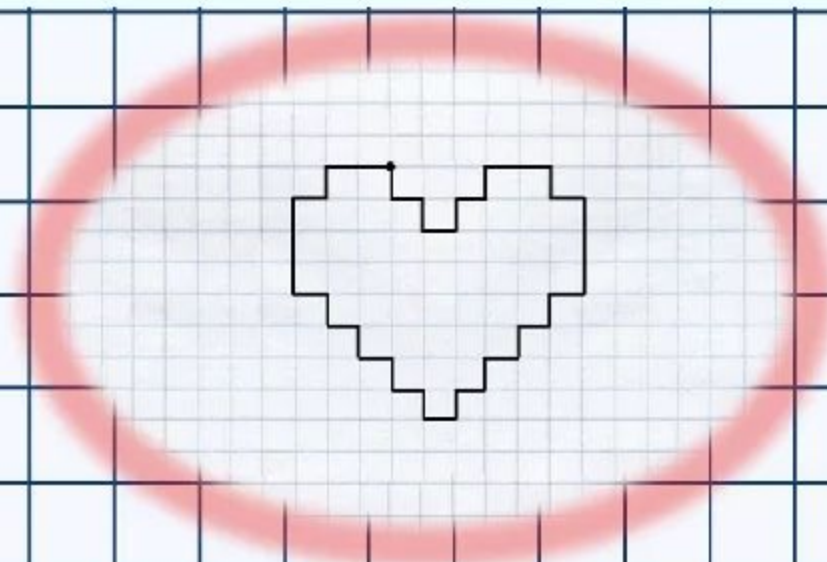


# Графический диктант

Отступи 4 клетки сверху и 5 клеток от левого края.

Поставь точку и начинай рисовать.

1 ↓		1 →		1 ↓		1 →		1 ↑		1 →
1 ↑		2 →		1 ↓		1 →		3 ↓		1 ←
1 ↓		1 ←		1 ↓		1 ←		1 ↓		1 ←
1 ↓		1 ←		1 ↑		1 ←		1 ↑		1 ←
1 ↑		1 ←		1 ↑		1 ←		3 ↑		1 →
1 ↑		2 →								



**МОЛОДЦЫ!**