

Экономика. 10 класс. Спрос. Сдвиг кривой спроса



Нимерницкая И.А.

Москва

2020

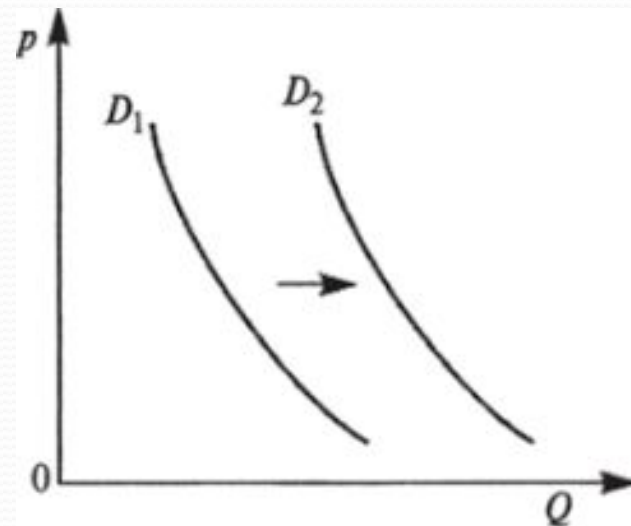




Задание 1

Какие ситуации из предложенных ниже могут быть отражены следующим графиком спроса на теплые варежки?

1. Увеличение пенсий у малоимущих.
2. Наступление сезона холодов
3. Снижение рождаемости
4. Мода на шерстяные изделия
5. Реклама обогревателей.

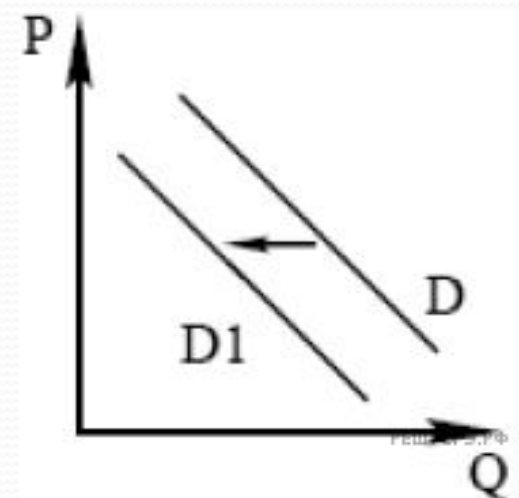


Задание 2



Какие ситуации из предложенных ниже могут быть отражены следующим графиком спроса на детские товары?

1. Рост рождаемости
2. Увеличение пособий на детей
3. Удачная реклама корма для кошек
4. Падение доходов населения
5. Снижение цен на кока-колу.

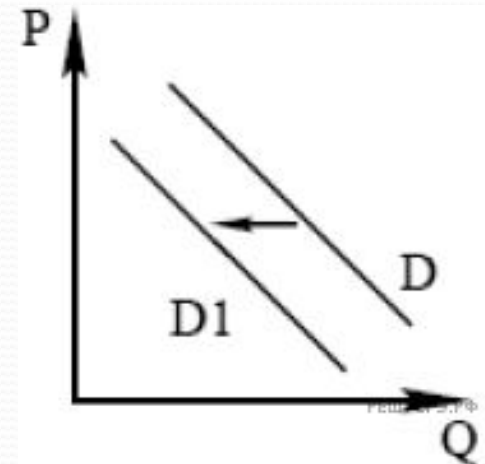




Задание 3

На рисунке отражено изменение спроса на моторные яхты. **Какие из перечисленных факторов могут вызвать такое изменение?**

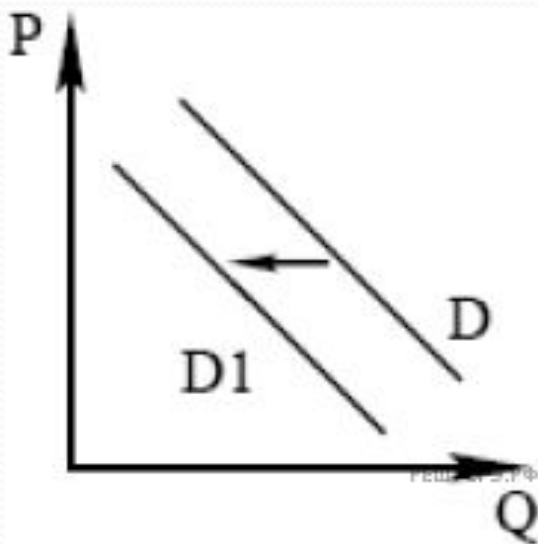
1. Серия несчастных случаев с моторными яхтами;
2. Снижение издержек на производство яхт;
3. Увеличение количества производителей яхт;
4. Проведение удачной рекламной кампании;
5. Падение доходов населения.





Задание 4

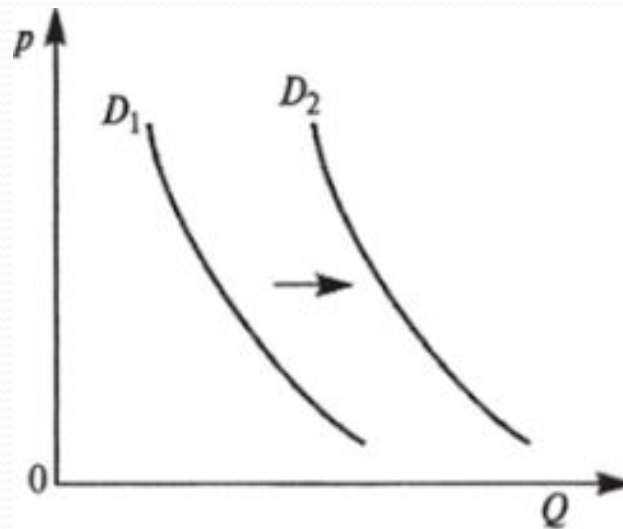
Придумайте три примера ситуаций, которые могут быть отражены графиком, приведенным ниже.



Задание 5



Придумайте три примера ситуаций, которые могут быть отражены графиком, приведенным ниже.



ИСТОЧНИК

Собственная разработка

