



5



7



3



Порядок выполнения действий. Скобки.

12 октября.
Классная работа.





5



7



3



Сравните числа и выражения

$$39 \gt 29$$

$$80 \lt 100$$

$$64 \gt 63$$

$$49 \lt 94$$

$$40 \lt 41$$

$$20 \lt 40$$

$$83 \gt 82$$

$$77 \lt 88$$



5



7



3



$$1. \quad 8 - (5 + 3)$$

$$2. \quad 8 - (5 - 3)$$

$$3. \quad 8 + (5 + 3)$$

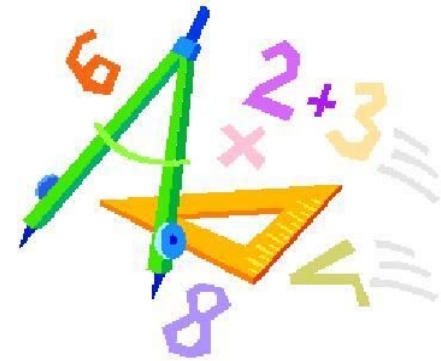
$$4. \quad 8 + (5 - 3)$$

Обсудим

$$9 - (10 - 7) = ?$$



Учебник: стр. 38 правило



Прочитайте записи и выполните действия.

Стр.38, №1.

$$6 + (3 + 1) =$$

$$(6 + 3) + 1 =$$

$$8 - (2 + 3) =$$

$$(8 - 2) + 3 =$$

$$(4 + 6) - 3 =$$

$$4 + (6 - 3) =$$



Спишите, расставляя скобки так,
чтобы равенства стали верными.

Стр. 38, №2.


$$4 - 1 + 2 = 1$$

$$6 - 3 - 2 = 5$$


$$8 - 5 + 1 = 2$$

$$10 - 4 + 5 = 1$$

Запиши и вычисли.



Стр.38, №3.



Спишите, расставляя скобки так,
чтобы равенства стали верными.

Стр. 38, №2.


$$4 - 1 + 2 = 1$$

$$6 - 3 - 2 = 5$$

$$8 - 5 + 1 = 2$$

$$10 - 4 + 5 = 1$$




Запиши и вычисли.



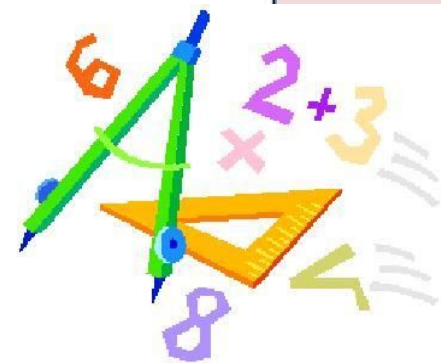
Стр.38, №3.

$$6 + (14 - 5) = 15$$


$$18 - (2 + 6) = 10$$



Учебник: стр. 39 под чертой





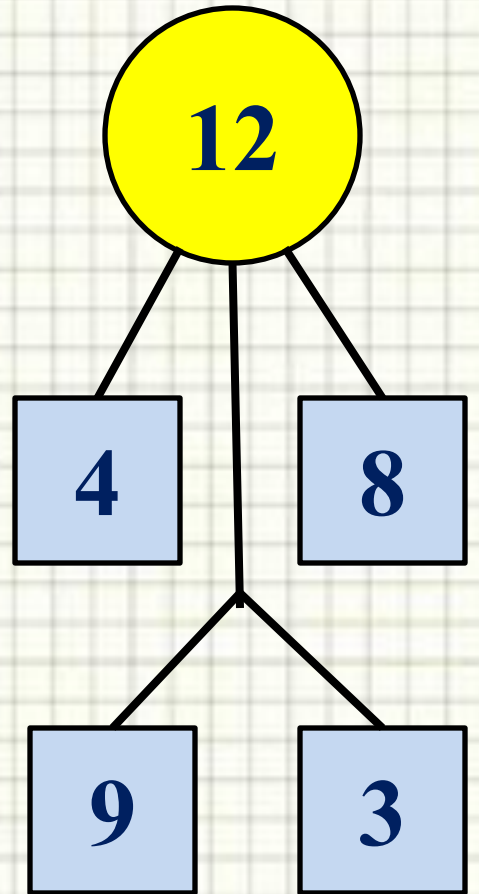
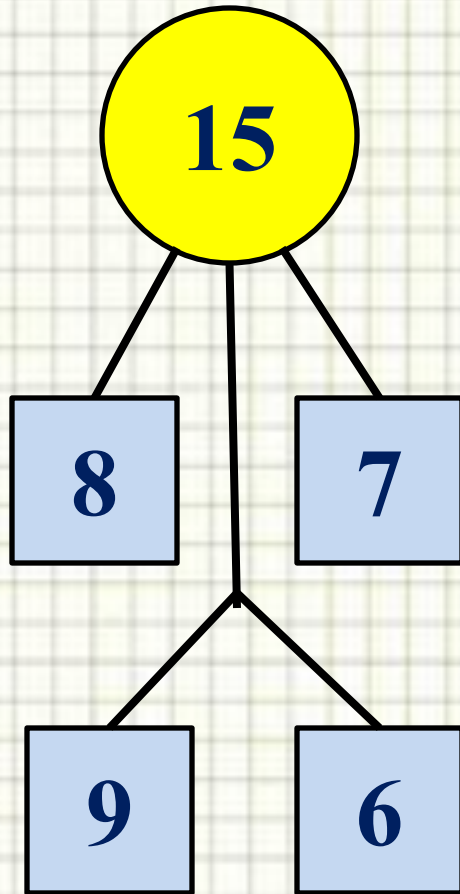
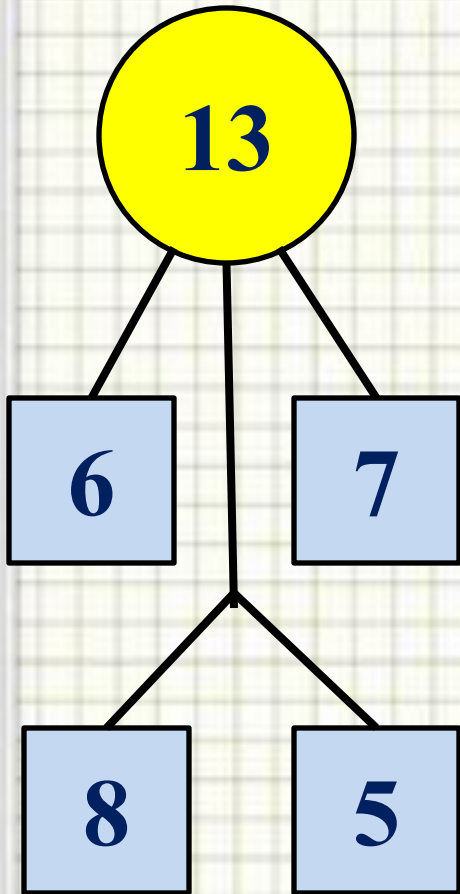
5



7



3



Домашнее задание: учебник: стр. 39, №5.

РТ, стр. 34.

