

# Состав чисел в пределах 10. Закрепление.



Урок № 70

# УСТНЫЙ СЧЁТ

$$2 + 2 =$$


$$6 - 4 =$$





1. Закрась красным цветом число, которое больше числа 6 на 4
2. Закрась синим цветом число, соседи которого 8 и 10
3. Закрась зелёным цветом число, которое получится, если из 7 вычесть 4
4. Закрась жёлтым цветом число, которое получится, если 5 увеличить на 3
5. Закрась голубым цветом число, которое на 2 меньше 6
6. Подчеркни одной чертой число, предшествующее 3





**4 яблoка**

**На столе лежали 4 яблoка. Одно из них разрезали  
Пoпoлам и положили на стол. Сколько стало яблoк  
на столе?**

Иванов



1



Сидоров

3



Петров

2

Спортсмены Иванов, Петров и Сидоров участвовали в соревнованиях по бегу. Иванов занял не второе и не третье место, а Петров не третье место. Как распределились места?







**3 км**

**Тройка лошадей пробежала 3 км. Сколько км пробежала одна лошадь?**

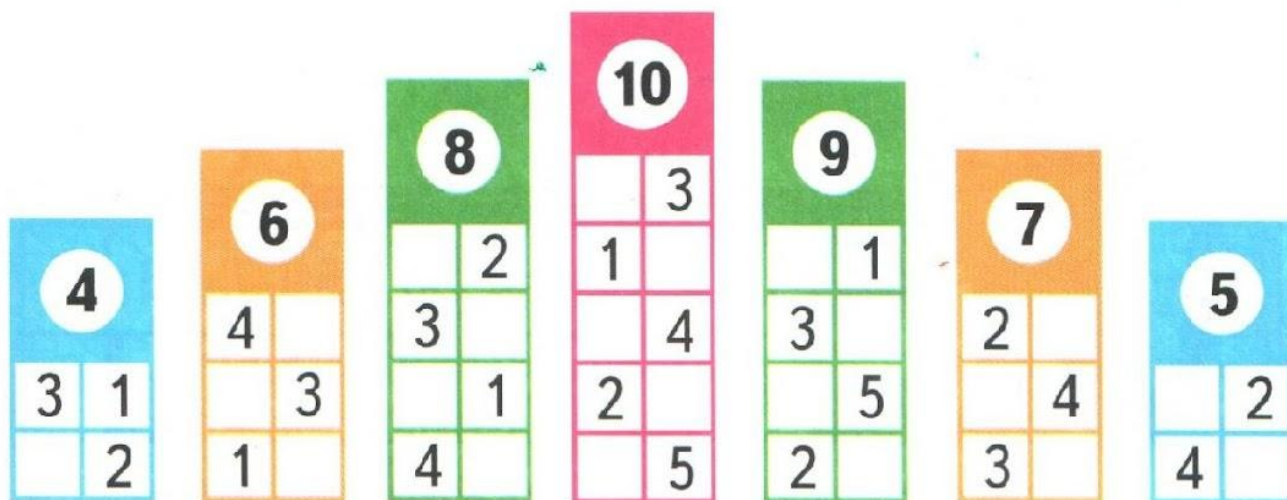
# РАБОТА ПО УЧЕБНИКУ



Стр. 17

Учимся наблюдать, сравнивать, составлять план решения задач и выполнения вычислений.

1. Вспомни, суммой каких двух слагаемых можно заменить каждое число от 4 до 10. Расскажи по таблице.




2. В доме живут две семьи. В первой семье двое детей, а во второй — на 3 ребёнка больше. Сколько детей во второй семье? Сколько всего детей живёт в этом доме?





3. Составь по рисунку задачу, в вопросе которой было бы слово *меньше*, и реши её.



4. Сравни примеры в каждом столбике. Определи, по какому правилу они составлены. Запиши ещё по одному примеру и вычисли.

$$10 - 4 - 2$$

$$1 + 6 - 5$$

$$9 - 4 + 3$$

$$10 - 3 - 3$$

$$1 + 7 - 4$$

$$8 - 4 + 4$$

$$10 - 2 - 4$$

$$1 + 8 - 3$$

$$7 - 4 + 5$$

...

...

...

---


$$7 + \square = 9$$

$$9 + \square = 9$$

$$5 + \square = 9$$

$$6 + \square = 8$$

НАЙДИ  
ЛИШНЮЮ  
БУСИНКУ:



# РАБОТА В ТЕТРАДИ




Стр. 11





1

У Миши



У Коли



На сколько больше рыбок у Миши, чем у Коли?

Answer line with a grid of boxes and the word "Ответ:" written in cursive.


2

7	2	4	1	3
	<input type="checkbox"/>	<input type="checkbox"/>	<input type="checkbox"/>	<input type="checkbox"/>

9	<input type="checkbox"/>	4	<input type="checkbox"/>	1
	2	<input type="checkbox"/>	3	<input type="checkbox"/>



# ЗАДАНИЯ ПОВЫШЕННОЙ ТРУДНОСТИ



Найди отличия.





$$17 - 3 - 2 = 12$$

$$19 - 4 - 0 = 15$$

$$11 + 3 - 4 = 10$$

$$16 + 4 - 1 = 19$$

Решите примеры.





**конец**