

РАЗМИНКА

МИР ЖИВОЙ ПРИРОДЫ.

1. ЧТО ВНИЗ ВЕРХУШКОЙ РАСТЁТ?
2. ВИСИТ СИТО, НЕ РУКАМИ СВИТО. ЧТО ЭТО?
3. КАКОЙ СТРАШНЫЙ ЗВЕРЬ ПАДОК ДО МАЛИНЫ?
4. ЧТО ЕСТ ЖАБА ЗИМОЙ?
5. ВЬЮТ ЛИ НАШИ ПЕРЕЛЁТНЫЕ ПТИЦЫ НА ЮГЕ ГНЁЗДА?
6. СЛЕПЫМИ ИЛИ ЗРЯЧИМИ РОДЯТСЯ
7. КУДА ЗАЙЦУ БЕЖАТЬ УДОБНЕЕ-С ГОРОУ?
8. ЧТО ДЕЛАЕТ ЁЖ ЗИМОЙ?
9. ДЫШИТ ЛИ ЦЫПЛЁНОК В ЯЙЦЕ?
10. ГДЕ РАНЬШЕ ТАЕТ СНЕГ – В ЛЕСУ ИЛИ В ОГОРОДЕ?




ЗАДАНИЕ №1

РАЗВИТИЕ БЫСТРОТЫ

РЕАКЦИИ

Под каждой фигурой как можно быстрее поставь
нужную цифру.



ЗАДАНИЕ №2

Несмотря на то, что Баба-Яга, как любая женщина, скрывает, сколько ей лет, стало известно, что её возраст выражается наименьшим трёхзначным числом, которое записывается различными цифрами. Сколько лет Бабе Яге?



ЗАДАНИЕ №3

Присмотритесь внимательно к выделенным словам
и ответь на вопросы.

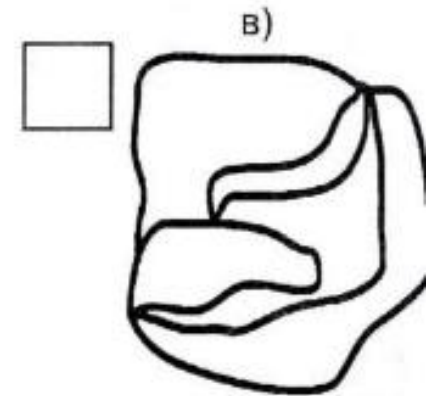
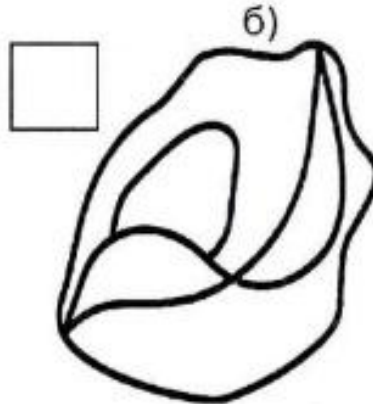
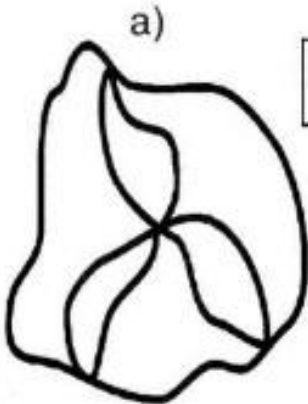
- a) Какой цветок вручили **ЧЕМПИОНУ**? _____
- b) Как называют блюдо, приготовленное **СТРЯПУХОЙ**?

- c) Как называется горный поток, у которого растёт
ГРЕЧКА? _____
- d) Куда забросили **ХОМУТ**? _____



ЗАДАНИЕ №4

Раскрась как можно быстрее каждую фигуру наименьшим количеством цветов так, чтобы соседние части были разного цвета. В квадратиках укажи количество цветов.



ЗАДАНИЕ №5


ЛОГИЧЕСКИ-ПОИСКОВЫЕ ЗАДАНИЯ

Бабушка положила на одну тарелку 8 пирожков с мясом, на других – 3 и на третью – 1. Помоги Свете переложить пирожки так, чтобы когда пришли гости, на всех тарелках пирожков оказалось поровну. Перекладывать можно сколько угодно раз, но при каждом перекладывании разрешается брать пирожок только с одной тарелки и класть только на одну тарелку. Причём на тарелку можно класть лишь столько



ЗАДАНИЕ №6

Найди нужные слова на картинке и правильно впиши их в клеточки, чтобы получился чайнворд. (Чайнворд в переводе с английского означает «цепочка слов»)



ЗАДАНИЕ №7

Подбери к выделенным словам подходящие по
смыслу фразеологизмы.

Ребят собралось много.

Друзей у него много.

У него, говорят, денег много.



Куры не клюют.

Хоть пруд пруди.

Тьма-тьмущая.



Мне надо мало места.

Ума у него мало.

Воды в речушке мало.

Кот заплакал.

С гулькин нос.

Воробью по колено.



ЗАДАНИЕ №8

УЧИТЬСЯ РЕШАТЬ, СТАРАЯСЬ



У Буратино было три целых яблока, четыре половинки, да восемь четвертинок. Сколько всего яблок было у Буратино?




ЗАДАНИЕ №9

От ленты отрезали 12 метров, а потом еще $\frac{1}{5}$ оставшейся части. Найди первоначальную длину ленты, если во второй раз отрезали 4 метра.



ЗАДАНИЕ №10

Если сторону квадрата, периметр которого 36 см, уменьшить в 3 раза, то получится ширина прямоугольника, периметр которого 22 см. Найди длину прямоугольника и вычисли его площадь.





Спасибо за внимание!