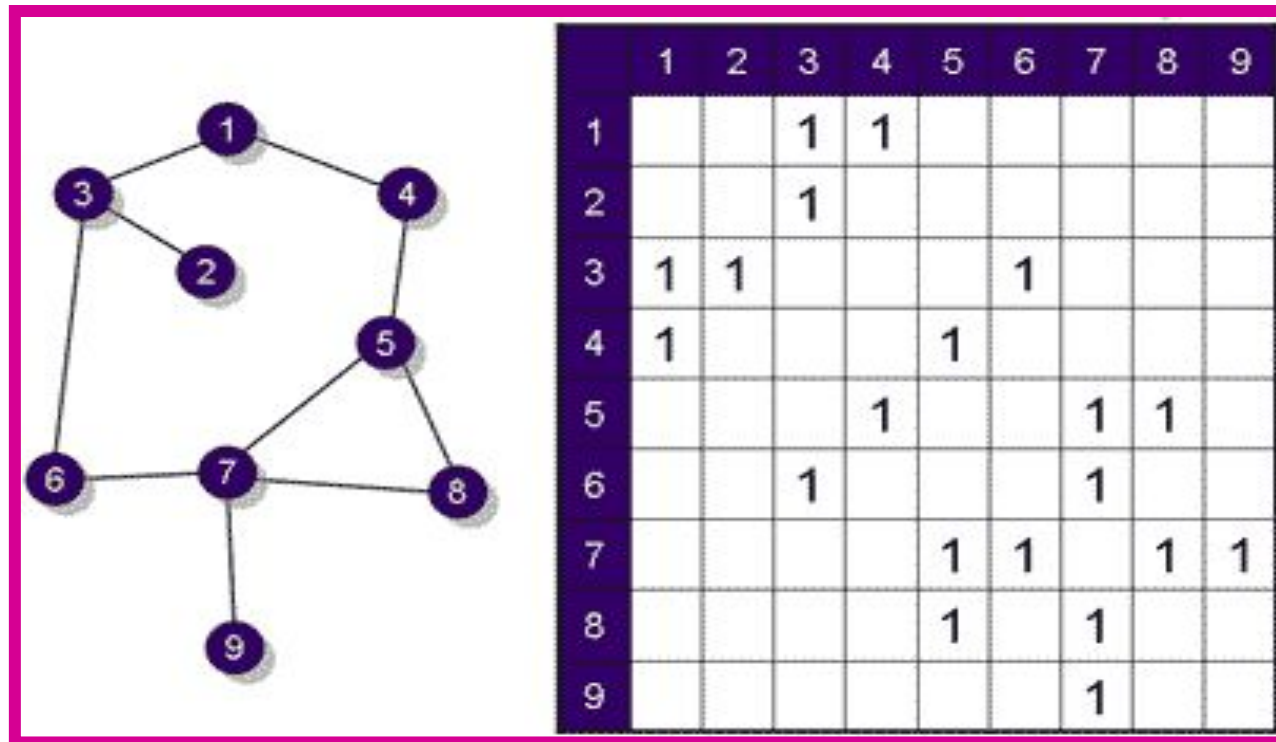
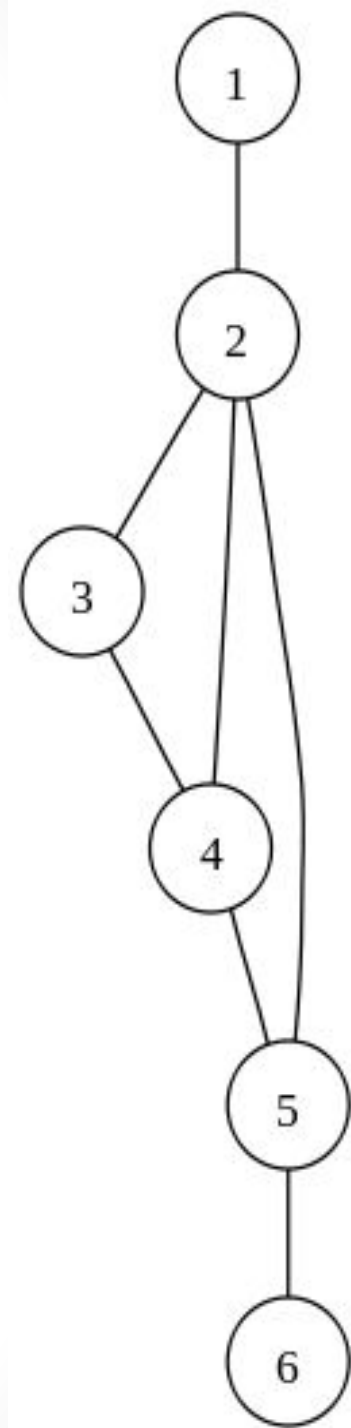
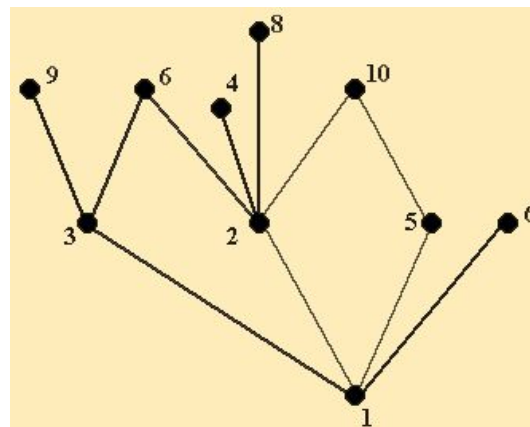
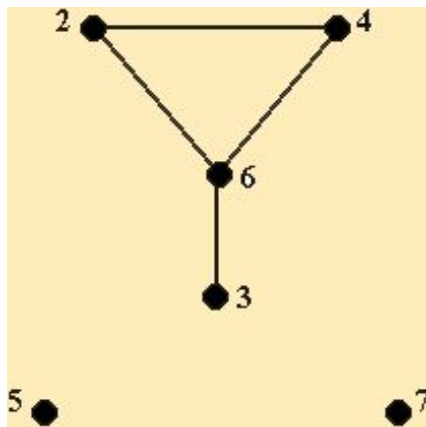


Графы. Пути в графах



Что такое граф?

Граф это множество точек или вершин и множество линий или ребер, соединяющих между собой все или часть этих точек. Граф является информационной моделью некоторого объекта или системы объектов.

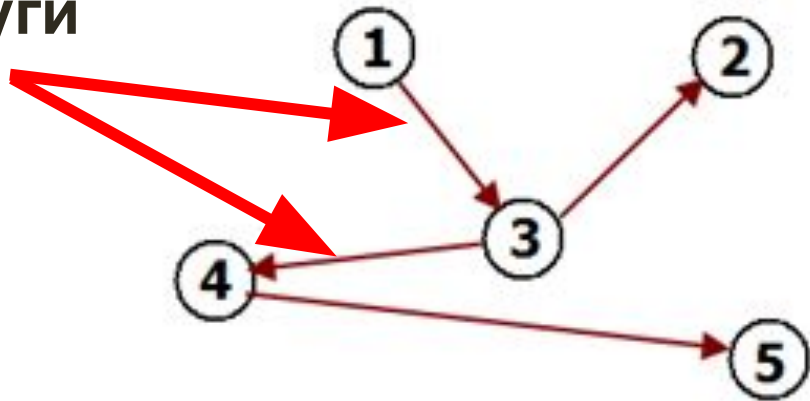


ГРАФЫ

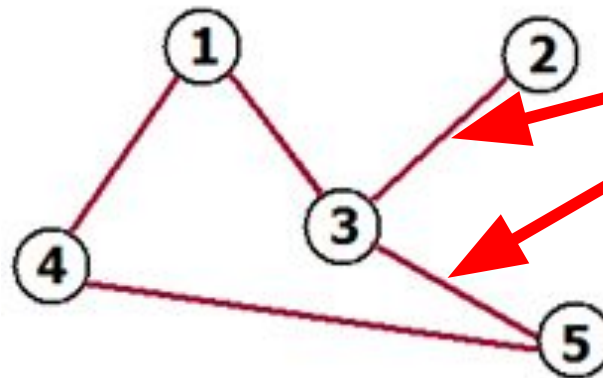
ориентированные

неориентированные

дуги



рёбра

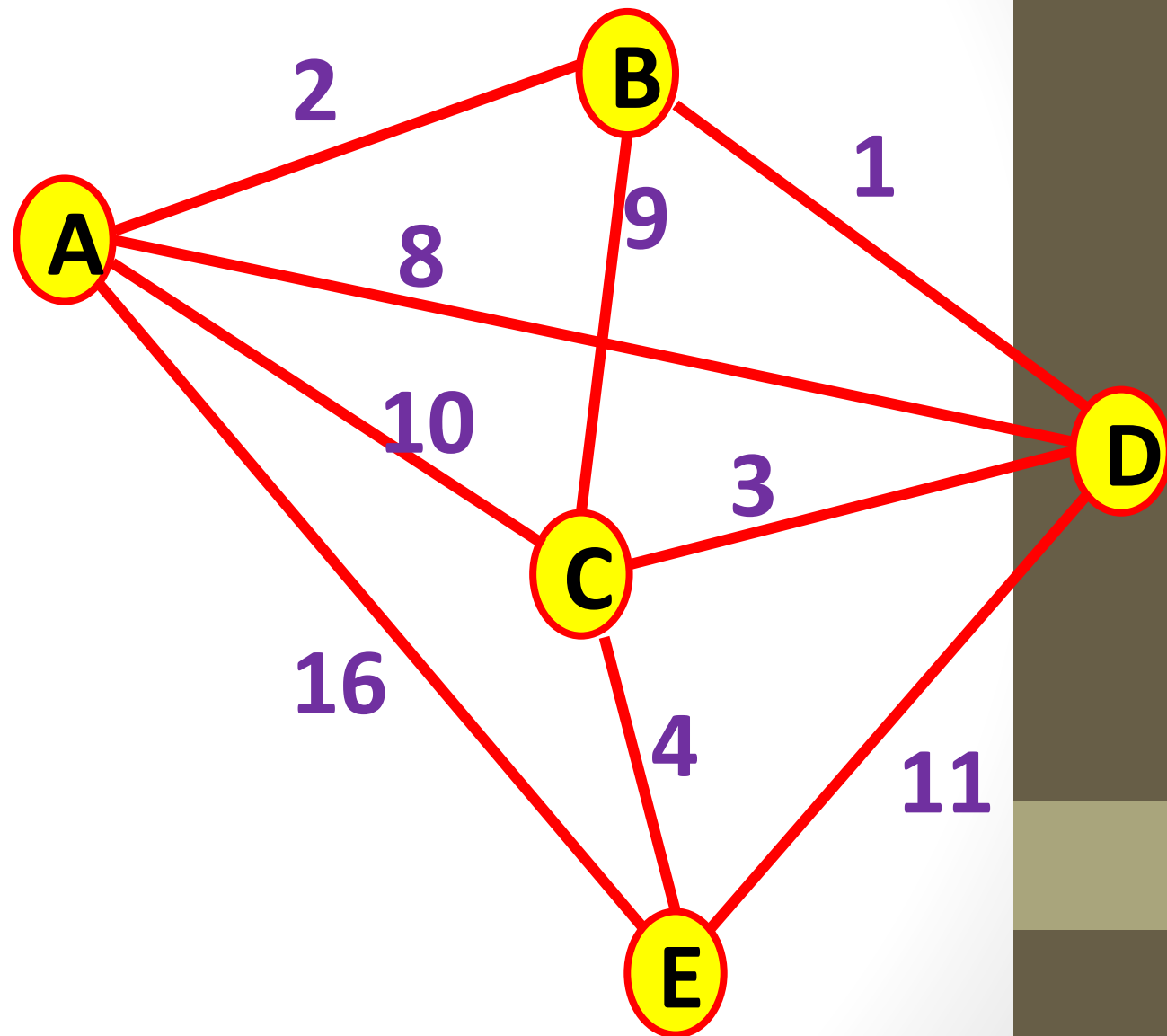


В таблице представлено расстояние между населенными пунктами в километрах. Определить кратчайшее расстояние между пунктами А и Е.

	A	B	C	D	E
A		2	10	8	16
B	2		9	1	
C	10	9		3	4
D	8	1	3		11
E	16		4	11	

Проверим правильность построения

	A	B	C	D	E
A		2	10	8	16
B	2		9	1	
C	10	9		3	4
D	8	1	3		11
E	16		4	11	



1. ABCDE – 25 KM

2. ABCE – 15 KM

3. ABDCE – 10 KM

4. ACBDE – 31 KM

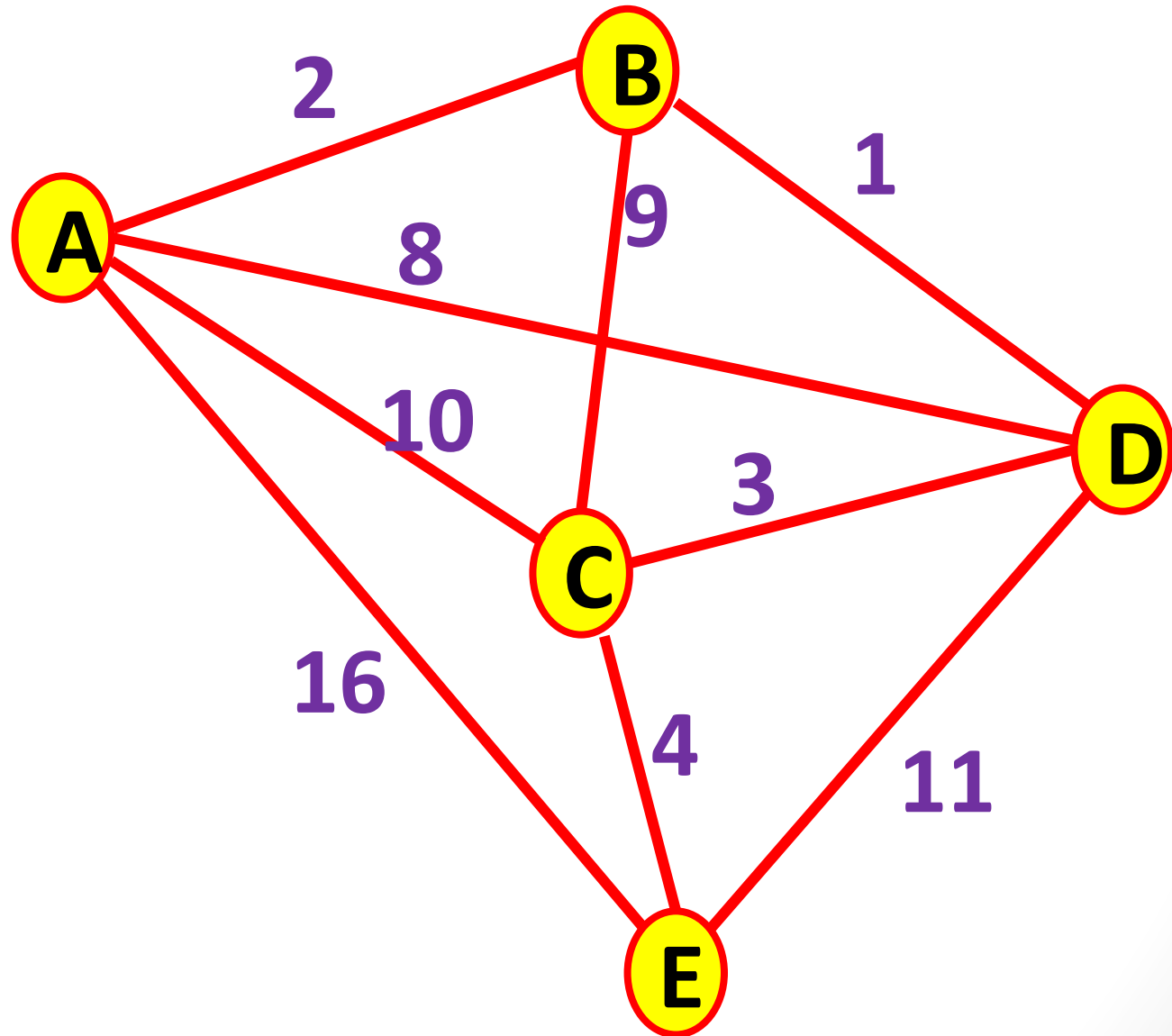
5. ACDE – 24 KM

6. ACE – 14 KM

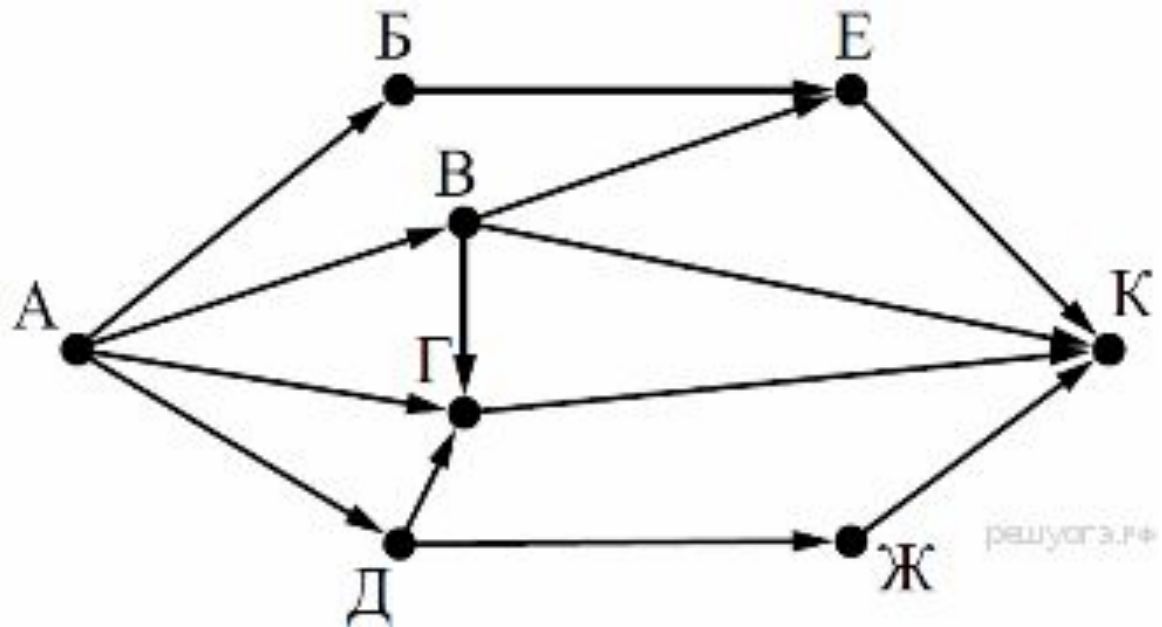
7. ADCE – 15 KM

8. ADE – 19 KM

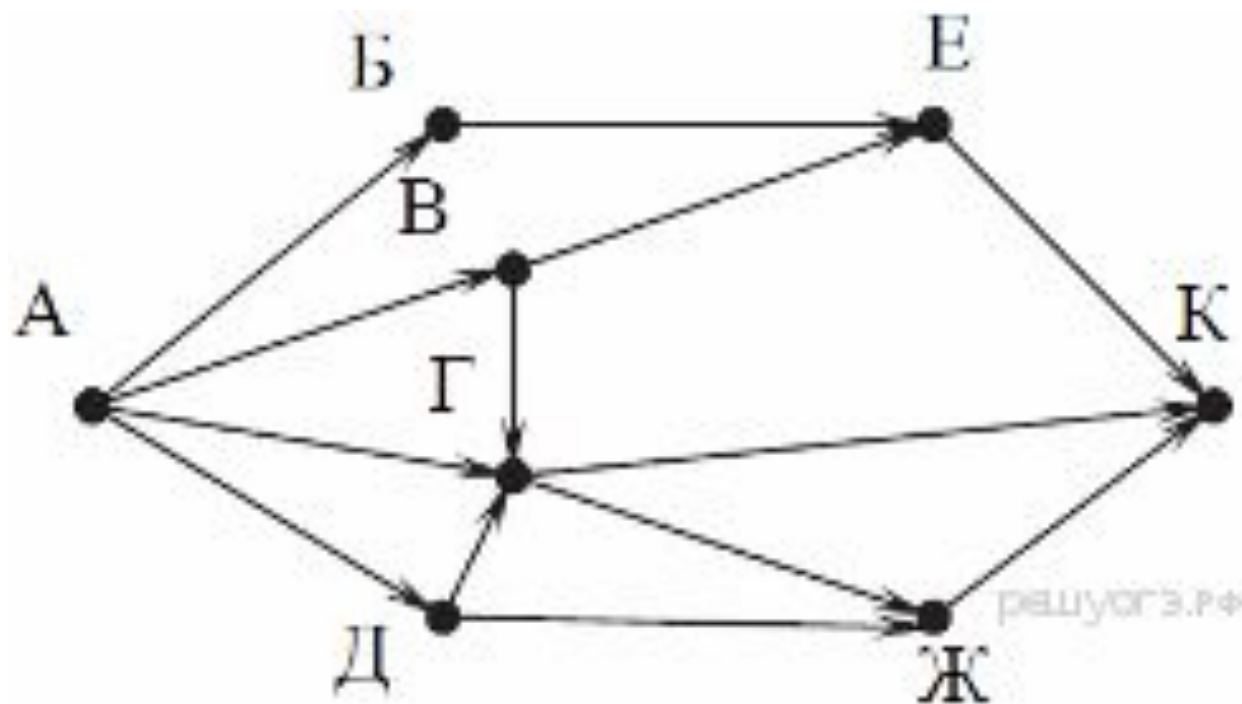
9. AE – 16 KM



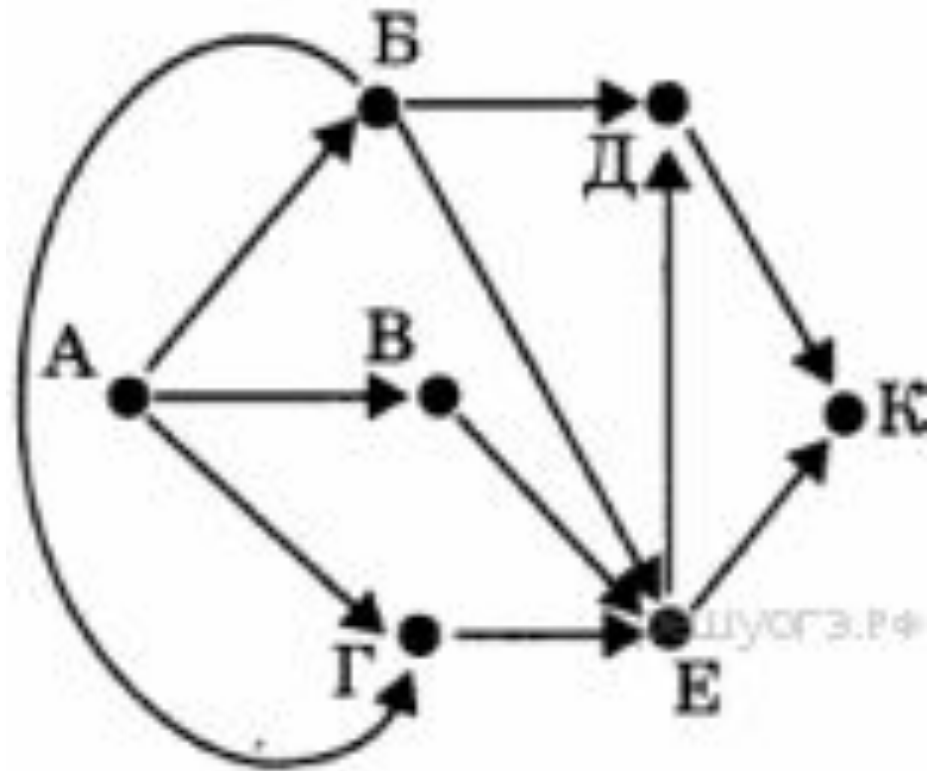
На рисунке — схема дорог, связывающих города А, Б, В, Г, Д, Е, Ж и К. По каждой дороге можно двигаться только в одном направлении, указанном стрелкой. Сколько существует различных путей из города А в город К?



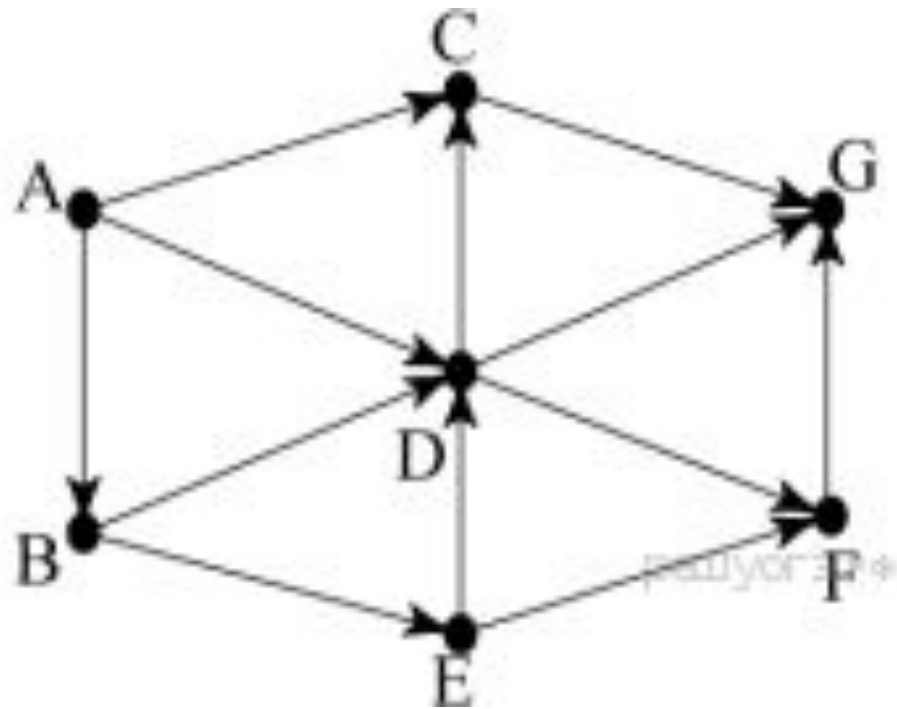
На рисунке — схема дорог, связывающих города А, Б, В, Г, Д, Е, Ж и К. По каждой дороге можно двигаться только в одном направлении, указанном стрелкой. Сколько существует различных путей из города А в город К?



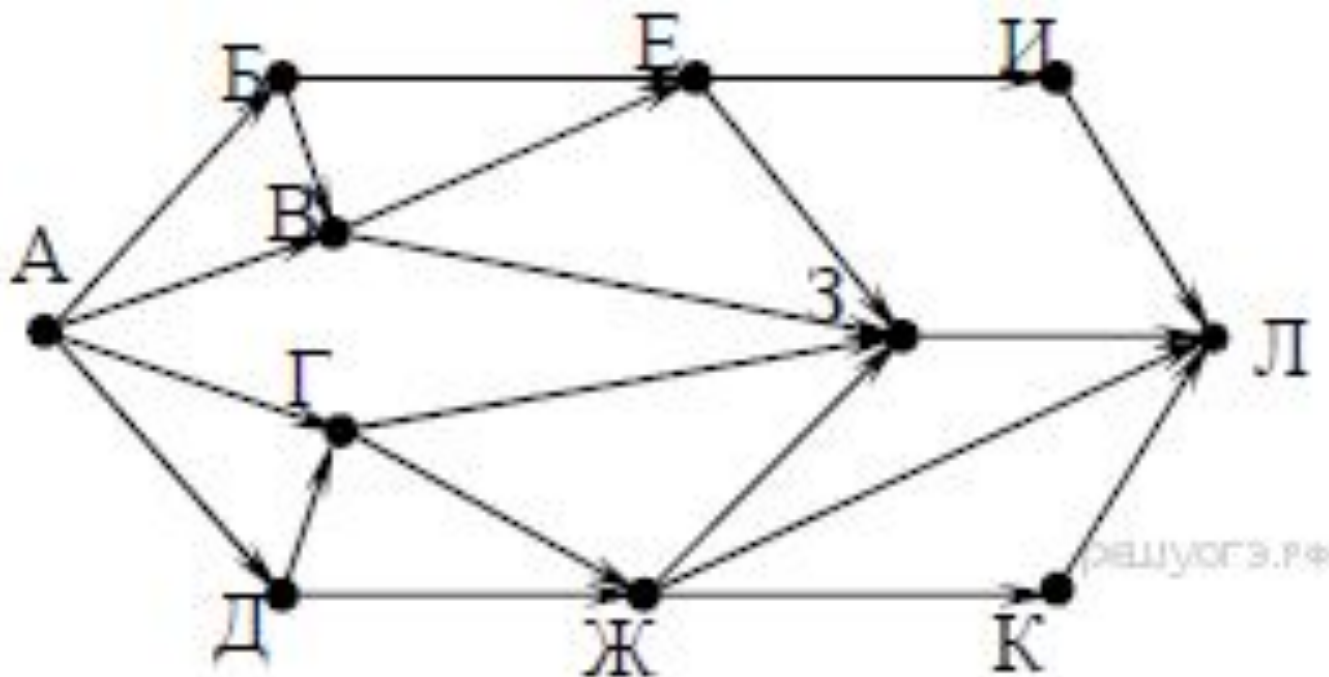
На рисунке — схема дорог, связывающих города А, Б, В, Г, Д, Е, К. По каждой дороге можно двигаться только в одном направлении, указанном стрелкой. Сколько существует различных путей из города А в город К?



На рисунке — схема дорог, связывающих города А, В, С, D, E, F, G. По каждой дороге можно двигаться только в одном направлении, указанном стрелкой. Сколько существует различных путей из города А в город G?



На рисунке — схема дорог, связывающих города А, Б, В, Г, Д, Е, Ж, З, И, К и Л. По каждой дороге можно двигаться только в одном направлении, указанном стрелкой. Сколько существует различных путей из города А в город Л?



Между населёнными пунктами А, В, С, D, Е построены дороги, протяжённость которых (в километрах) приведена в таблице.

Определите длину кратчайшего пути между пунктами А и Е. Передвигаться можно только по дорогам, протяжённость которых указана в таблице.

	A	B	C	D	E
A		1			
B	1		2	2	7
C		2			3
D		2			4
E		7	3	4	

Между населёнными пунктами А, В, С, D, Е построены дороги, протяжённость которых (в километрах) приведена в таблице:

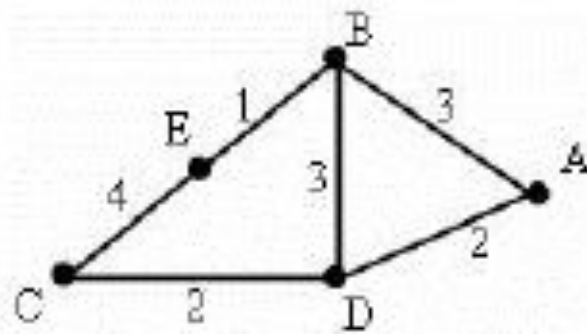
Определите длину кратчайшего пути между пунктами А и F. Передвигаться можно только по дорогам, протяжённость которых указана в таблице.

	A	B	C	D	E	F
A		3	5			15
B	3		3			
C	5	3		5	2	
D			5			3
E			2			7
F	15			3	7	

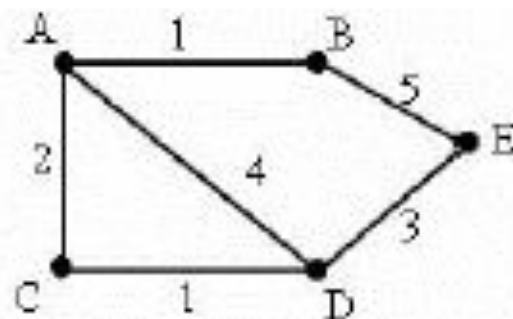
В таблице приведена стоимость перевозок между пятью железнодорожными станциями, обозначенными буквами А, В, С, D и Е. Укажите схему, соответствующую таблице.

	A	B	C	D	E
A		4	1		
B	4		2	3	
C	1	2		2	2
D		3	2		3
E			2	3	

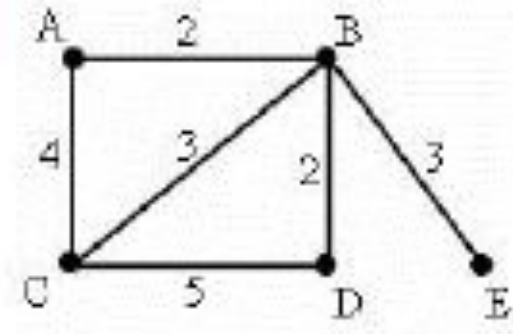
1)



2)



3)



4)

