



Рельеф и полезные ископаемые Евразии



Рельеф и полезные ископаемые Евразии

Цифровой диктант:

Океаны: Северный Ледовитый _____

Атлантический _____

Индийский _____

Тихий _____

К каким океанам принадлежат моря:

- 1) Карское; 2) Берингово; 3) Аравийское; 4) Балтийское; 5) Черное; 6) Желтое; 7) Охотское; 8) Баренцево; 9) Белое; 10) Северное; 11) Средиземное;
12) Лаптевых; 13) Японское; 14) Азовское;
15) Восточно – Китайское.



Рельеф и полезные ископаемые Евразии

Задание. Используя карты атласа, заполните таблицу:


Строение земной коры		Соответствующие формы рельефа
Древние платформы	Восточно -Европейская	
	Сибирская	
	Индийская	
	Китайско - Корейская	
Области складчатости	Древней	
	Новой	



Рельеф и полезные ископаемые Евразии

Задание. В складчатых поясах широко развит вулканизм.

Используя карту атласа, установите соответствие:



- Везувий
- Фудзияма
- Ключевская Сопка
- Этна
- Кракатау

Японские острова
полуостров Камчатка
остров Сицилия
Апеннинский полуостров
Зондские острова

Рельеф и полезные ископаемые Евразии

Задание. Равнины и горы Евразии имеют самую различную высоту.
Установите правильную последовательность, пронумеровав
данные территории по мере возрастания высот.

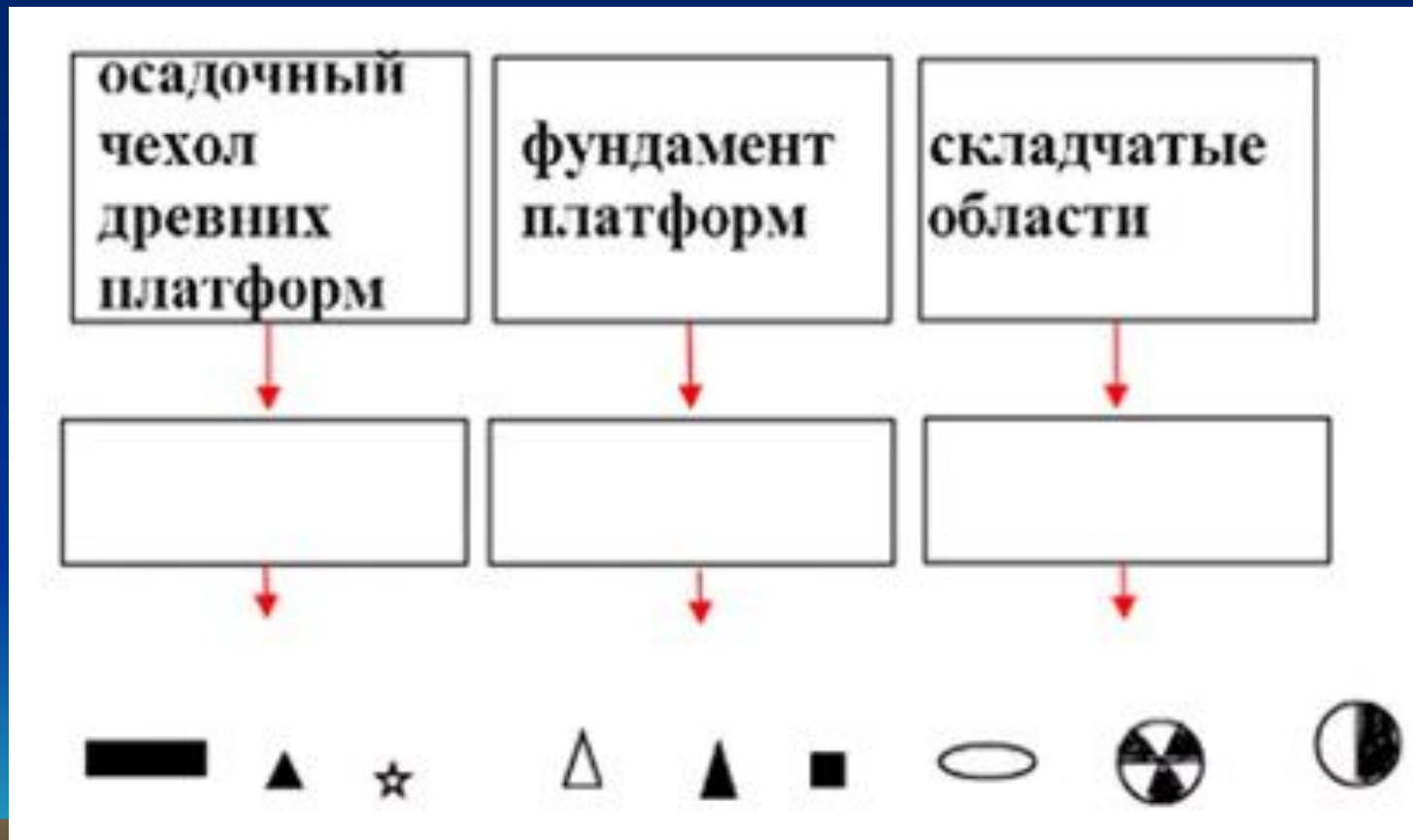
- 1. Западно – Сибирская равнина
- 2. Средне – Сибирское плоскогорье
- 3. Восточно – Европейская равнина
- 4. Прикаспийская низменность
- 5. Уральские горы
- 6. Нагорье Тибет
- 7. Иранское нагорье

№	Высота



Рельеф и полезные ископаемые Евразии

Задание. Дополните кластер соответствующими формами рельефа.
Расположите значки полезных ископаемых в соответствии
с местами залегания



Рельеф и полезные ископаемые Евразии

