

***Повторен  
це***

***материал  
а***

# Василий Георгиевич Клочков



Именем Василия  
Клочкова названы  
улицы в Москве, Алма-  
Ате, Саратове, Вольске и  
Харькове



*Клочков воевал под командованием Василия Панфилова в составе истребителей танков под Москвой. Его группа уничтожила 18 вражеских танков. Он стрелял из противотанкового ружья и был несколько раз ранен. Получив очередное ранение, Василий Клочков бросился под вражеский танк со связкой гранат. Герой погиб, уничтожив танк и пехоту фашистов.*

**Великая Россия, а отступать некуда  
- позади Москва!**



Марка, посвящённая  
В.Г.Клочкову



# И.В.Панфилов



награды





## **ВИКТОР ВАСИЛЬЕВИЧ ТАЛАЛИХИН**

*Советский военный лётчик, младший лейтенант. Герой Советского Союза. Одним из первых в СССР совершил ночной воздушный таран немецкого самолёта - бомбардировщика.*



**Выберите верные суждения:**

- 1.23 июня был сформирован пушкинский партизанский отряд**
- 2. Немецкие войска взяли Пушкин в 1943**
- 3. Основной задачей создаваемых арт батальонов было удерживать фронт**
- 4. Новые порядки- это понятие закрепившееся во время битвы за Москву , в последствии было применено в Осаде г.Пушкин**
- 5.Хазов- генерал советской армии, был убит в 1941 году во время**

## **Исправьте ошибки в утверждениях:**

- **Советские войска под командованием генерал-майора Гудериана попали в окружение под Орлом;**
- **Немецкие войска, после долгой осады Тулы, смогли взять город и открыть путь на Москву;**
- **В ходе Тульской оборонительной операции советские войска смогли взять и удержать город Орел.**



ДЕД МОРОЗ: Поздравляю вас, герр фюрер! Сегодня ровно шесть месяцев вашего шестинедельного похода на Москву.

Укажите событие, изображенное на карикатуре. Приведите один любой факт в обоснование вашего ответа



8 Напишите название, которое в период событий, отражённых на схеме, носил город, обозначенный цифрой «2».

Ответ: \_\_\_\_\_

9 Напишите название плана, в соответствии с которым осуществлялись действия войск противника, обозначенные на схеме.

Ответ: \_\_\_\_\_

10 Прочтите текст о событиях, отражённых на схеме, и, используя схему, укажите название населённого пункта, которое дважды пропущено в этом тексте.

«С начала июля по середину августа немецкие войска с переменным успехом развивали наступление на Украине. Немецкие танки 9 июля ворвались в Житомир и, «оседлав» шоссе Житомир — \_\_\_\_\_, уже 11 июля в районе реки Ирпень вышли на подступы к находившемуся на Днепре \_\_\_\_\_ . Но сильный удар советских механизированных корпусов 5-й армии привёл к тому, что командование группы армий «Юг» было вынуждено остановить свои войска, направив их на проблемные участки, тем самым оставив без поддержки наступающую группировку».

Ответ: \_\_\_\_\_



Какие суждения, относящиеся к схеме, являются верными? Запишите цифры, под которыми они указаны.

- 1) Территория с городом, обозначенным на схеме цифрой «3», вошла в состав СССР в 1940 г.
- 2) Город, обозначенный на схеме цифрой «4», был захвачен противником в том же году, к которому относятся события, отражённые на схеме.
- 3) Гарнизон крепости, расположенной в городе, обозначенном на схеме цифрой «1», целый месяц оказывал сопротивление врагу.
- 4) Все обозначенные на схеме советские республики входили в состав СССР с момента его создания.
- 5) На схеме обозначен город, где советские войска, разгромив противника, положили начало коренному перелому в ходе Великой Отечественной войны.
- 6) Войсками фронта, указанного на схеме, командовал генерал Д. Г. Павлов.

Ответ:







**Значение  
победы в  
битве за  
Москву**

**А) Битва за Москву**

**1) 7. 07. – 24.09. 41**

**Б) Оборона  
Севастополя**

**2) 22.06-3.07. 41**

**В) Оборона Брестской  
крепости**

**3) 30.09.1941 – 20.04.42**

**Г) Оборона Киева**


**4) 22.06-20.07. 41**

**5) 30.10.41-4.07.42**

**6) 5.12 – 20.04.42**

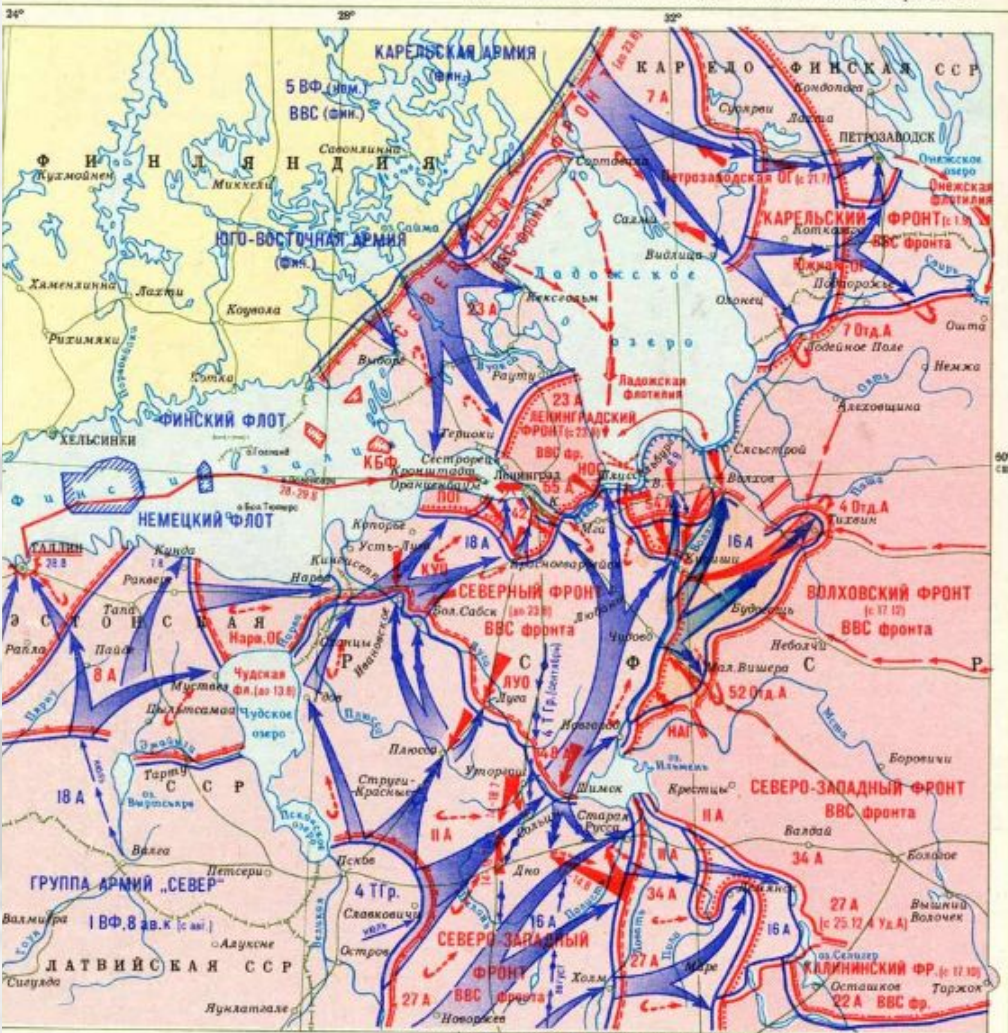


**Оборона  
Ленингра  
да**



**Интересы  
Гитлера в  
Ленинграде**

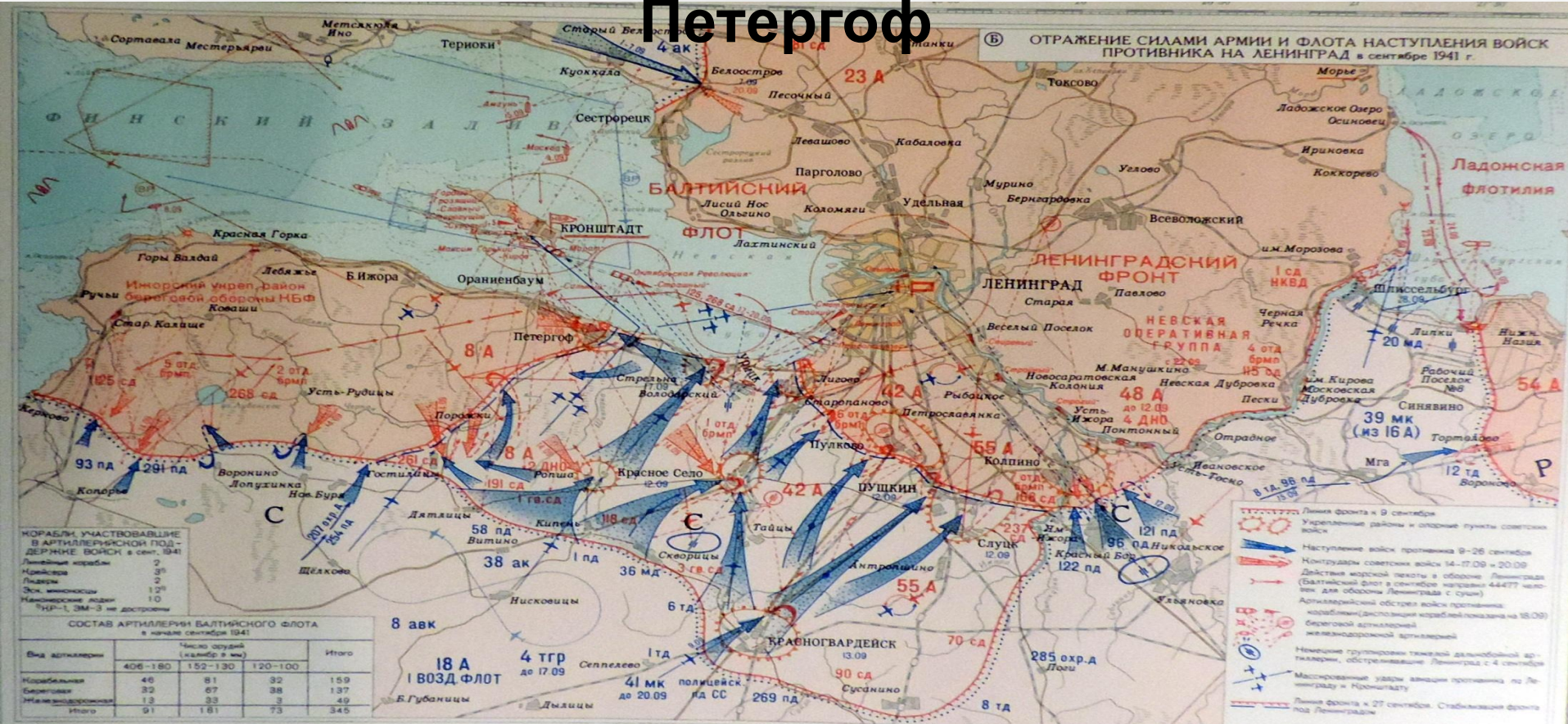
<b>Критерий</b>	<b>Данные</b>	
<b>Население в городе</b>	<b>До начала блокады 3,2 млн чел</b>	<b>Сентябрь 1941 – 2 млн 887 тыс чел, в том числе 400 тыс детей</b>
	<b>22.06.41-14.12.41</b>	<b>Январь-март 1942</b>
<b>Самолеты</b>	<b>318</b>	
<b>Танки</b>	<b>713</b>	
<b>бронемашины</b>	<b>480</b>	
<b>Бронепоезда</b>	<b>6</b>	
<b>Артиллерийские орудия</b>	<b>Свыше 3 тысяч</b>	
<b>Снаряды и мины</b>	<b>Свыше 3 млн</b>	<b>58 тысяч</b>
<b>Минометы</b>	<b>около 10 тысяч</b>	
<b>корабли</b>	<b>84</b>	
<b>Голод</b>	<b>За декабрь 1941- 53 тыс.чел</b>	<b>Янв-фев 1942 – 200 тыс</b>
<b>Пром.предприятия</b>		



- 8.09.1941 начало блокады Ленинграда;
- 18.01.1943 прорыв блокады Ленинграда;
- 27.01.1944 снятие блокады Ленинграда;



# Ораниенбаумский пяточок: р. Воронка-старый Петергоф



# 22 ноября 1941 начало автомобильного сообщения по «Дороге жизни»



# Эвакуац

Период	Количество
До 8.09.1941	<b>ИЯ</b> 488 703 человек
Декабрь 1941-январь 1942	659 000
Май – октябрь 1942	403 000
<b>Всего было эвакуировано порядка <u>полтора миллионов</u> человек</b>	



	Суточные нормы хлеба для населения (граммов)				
Дата установления нормы	Рабочие горячих цехов	Рабочие и ИТР	Служащие	Иждивенцы	Дети до 12 лет
18 июля 1941	1000	800	600	400	400
2 сентября 1941	800	600	400	300	300
11 сентября 1941	700	500	300	250	300
1 октября 1941	600	400	200	200	200
13 ноября 1941	450	300	150	150	150
20 ноября 1941	375	250	125	125	125
25 декабря 1941	500	350	200	200	200
24 января 1942	575	400	300	250	250
11 февраля 1942	700	500	400	300	300
23 февраля 1943	700	600	500	400	400


<b>В МЕСЯЦ</b>	<b>Рабочие и ИТР</b>	<b>Служащие</b>	<b>Иждивенцы</b>	<b>Дети до 12 лет</b>
<b>Мясо (кг)</b>				
<b>С июля по сентябрь 1941</b>	<b>2,2</b>	<b>1,2</b>	<b>0,6</b>	<b>0,6</b>
<b>С сентября 1941 по январь 1942</b>	<b>1,5</b>	<b>0,8</b>	<b>0,4</b>	<b>0,4</b>
<b>март 1942</b>	<b>1,5</b>	<b>0,8</b>	<b>0,4</b>	<b>0,4</b>
<b>Крупа и макароны (кг)</b>				
<b>С июля по сентябрь 1941</b>	<b>2,0</b>	<b>1,5</b>	<b>1,0</b>	<b>1,2</b>
<b>С сентября 1941 по февраль 1942</b>	<b>1,5</b>	<b>1,0</b>	<b>0,6</b>	<b>1,2</b>
<b>март 1942</b>	<b>2,0</b>	<b>1,5</b>	<b>1,0</b>	<b>1,2</b>



**Леонид  
Александрович  
Говоров  
Командующий  
Ленинградским  
фронтом**

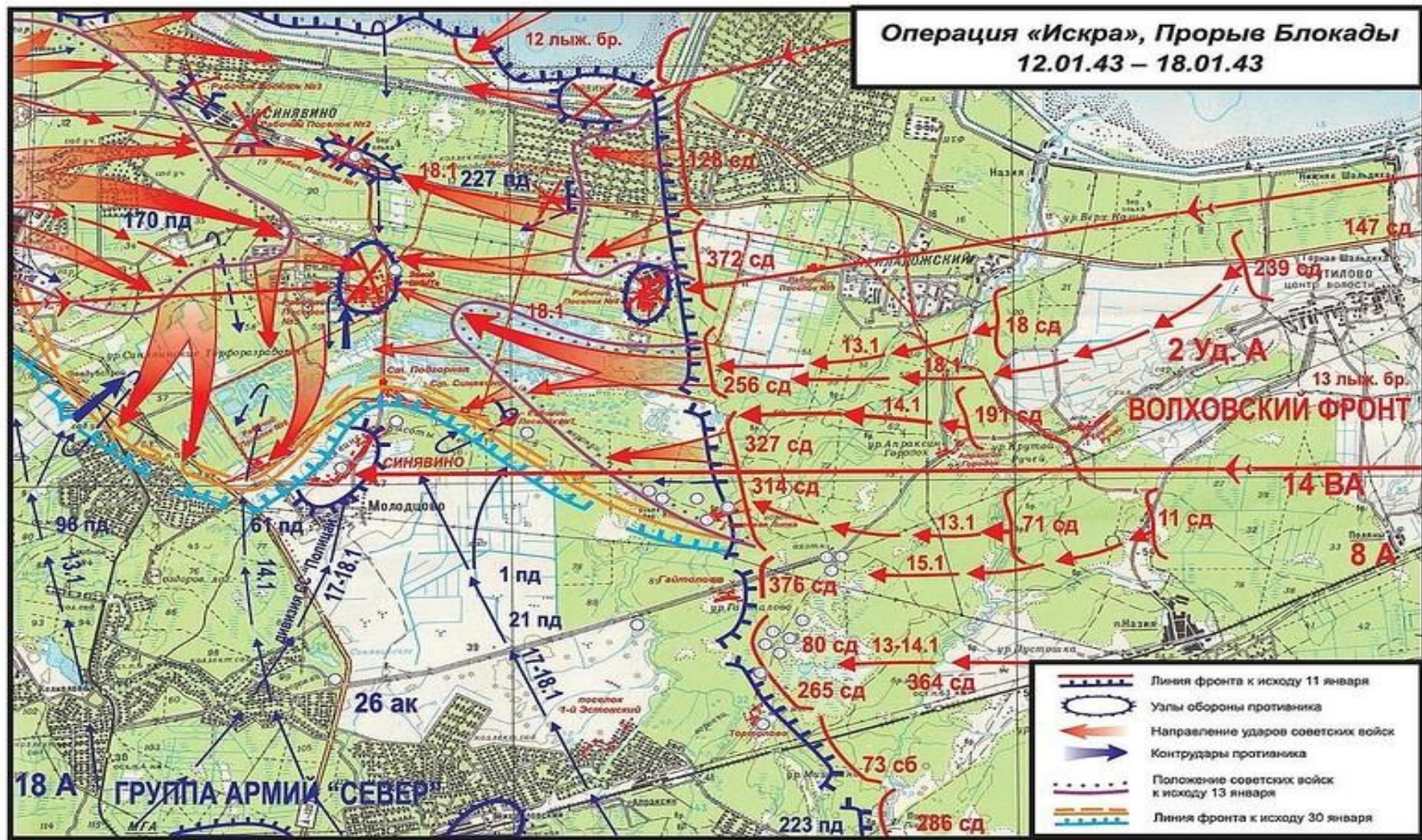








**Владимир  
Филиппович  
Трибуц  
Командующий  
Балтийским**



**Андрей Александрович  
Жданов  
Первый секретарь  
Ленинградского обкома  
и горкома ВКП(б)**

**Операция «Искра», Прорыв Блокады  
12.01.43 – 18.01.43**



-  Линия фронта к исходу 11 января
-  Узлы обороны противника
-  Направление ударов советских войск
-  Контрудары противника
-  Положение советских войск к исходу 13 января
-  Линия фронта к исходу 30 января



**Ворошилов Климент  
Ефремович  
(1881 —1969)  
Маршал Советского  
Союза**



**Георг фон Кюхлер  
(1881-1968)  
Немецкий военачальник,  
возглавлял Группу армий  
«Север» и руководил  
осадой Ленинграда**



**Жуков Георгий  
Константинович  
(1896-1974)  
Маршал Советского  
Союза**



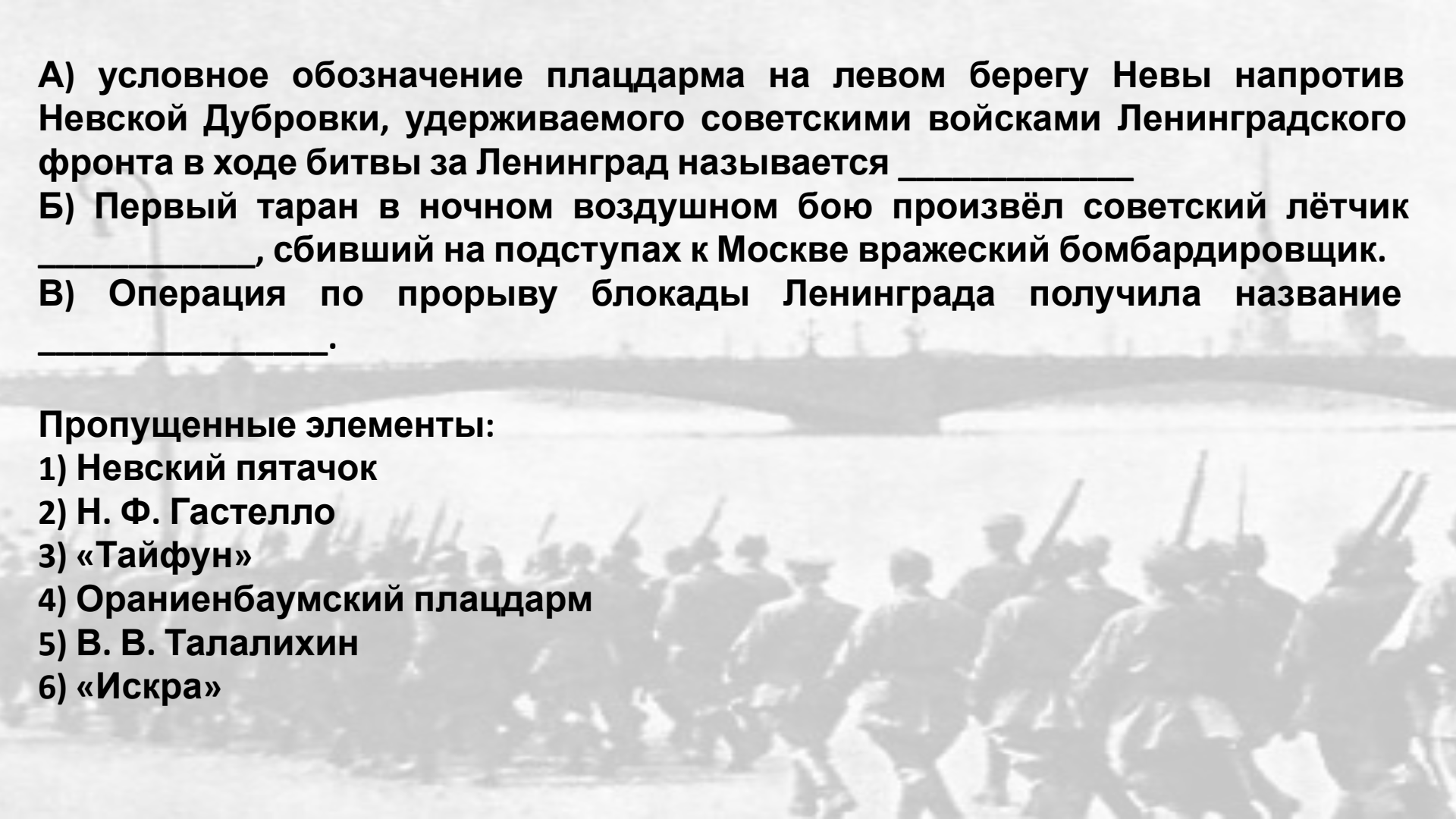
А) условное обозначение плацдарма на левом берегу Невы напротив Невской Дубровки, удерживаемого советскими войсками Ленинградского фронта в ходе битвы за Ленинград называется \_\_\_\_\_

Б) Первый таран в ночном воздушном бою произвёл советский лётчик \_\_\_\_\_, сбивший на подступах к Москве вражеский бомбардировщик.

В) Операция по прорыву блокады Ленинграда получила название \_\_\_\_\_.

Пропущенные элементы:

- 1) Невский пятачок
- 2) Н. Ф. Гастелло
- 3) «Тайфун»
- 4) Ораниенбаумский плацдарм
- 5) В. В. Талалихин
- 6) «Искра»



**А) область на южном побережье Финского залива, которая была отрезана от основных советских сил в годы Великой Отечественной войны и сыграла значительную роль в обороне Ленинграда называется \_\_\_\_\_**

**Б) Участок железной дороги, соединивший Шлиссельбург и Поляны после успешной операции «Искра».**

**В) Главнокомандующий Ленинградским фронтом \_\_\_\_\_.**

**Пропущенные элементы:**

**1) «Дорога жизни»**

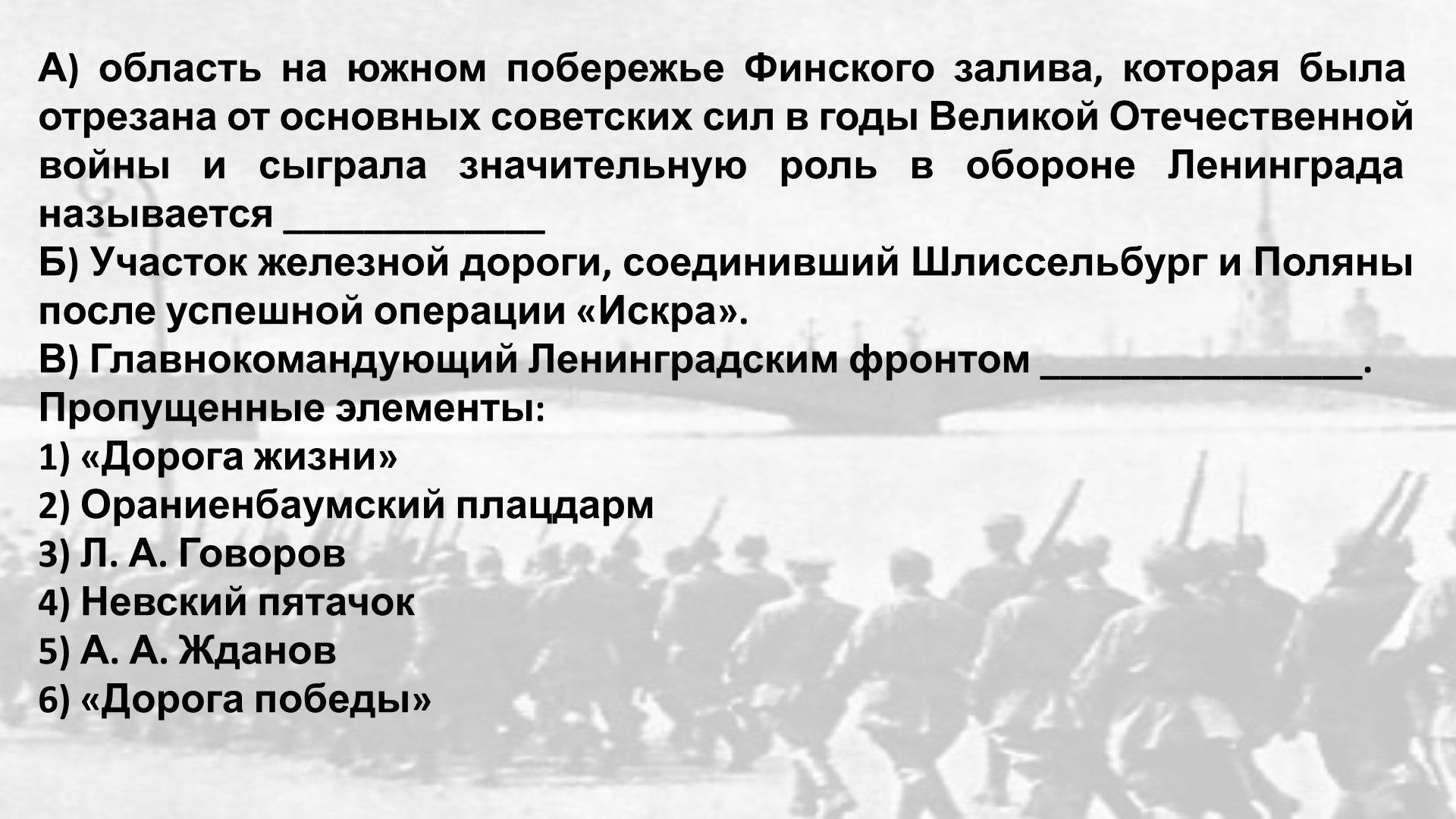
**2) Ораниенбаумский плацдарм**

**3) Л. А. Говоров**

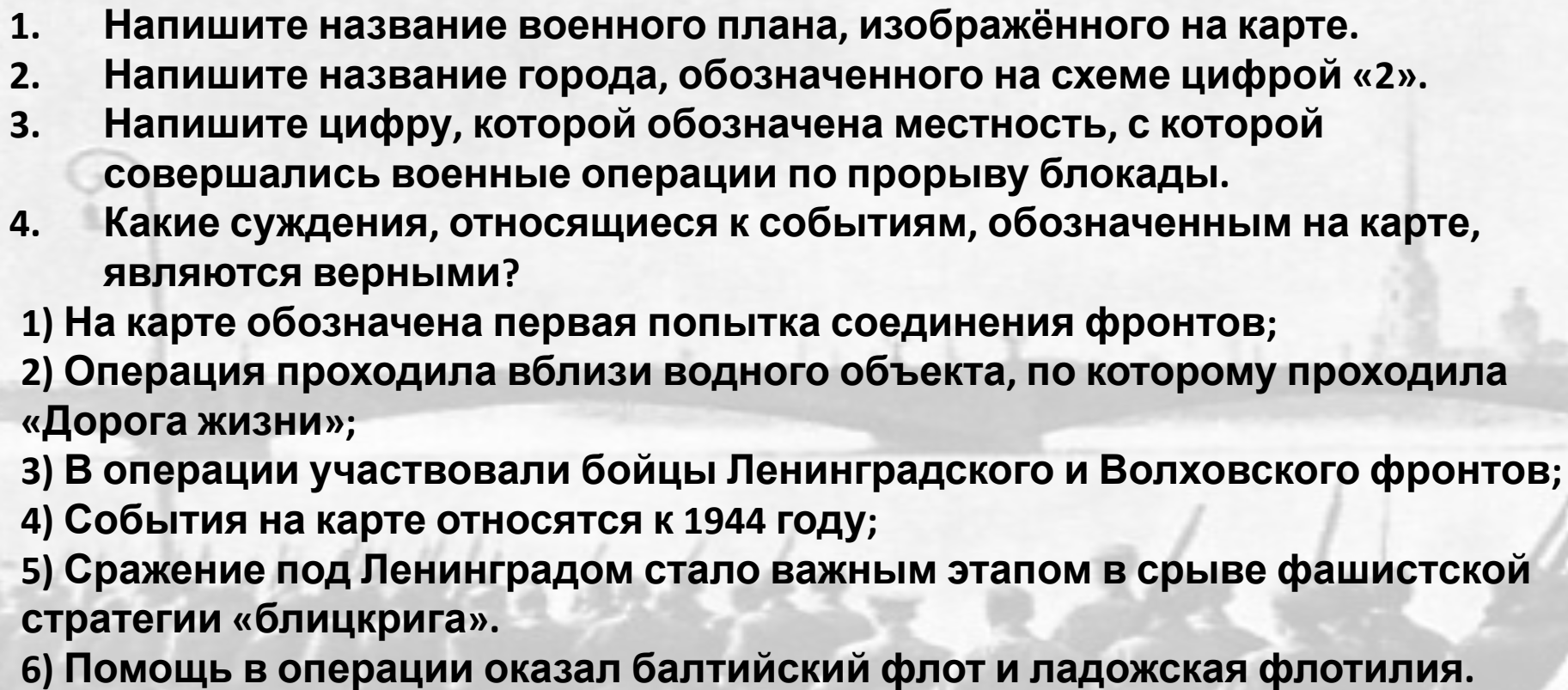
**4) Невский пятачок**

**5) А. А. Жданов**

**6) «Дорога победы»**

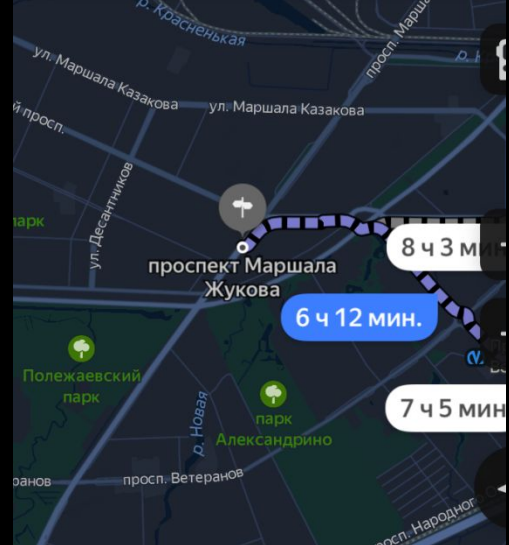




- 
- 1. Напишите название военного плана, изображённого на карте.**
  - 2. Напишите название города, обозначенного на схеме цифрой «2».**
  - 3. Напишите цифру, которой обозначена местность, с которой совершались военные операции по прорыву блокады.**
  - 4. Какие суждения, относящиеся к событиям, обозначенным на карте, являются верными?**
    - 1) На карте обозначена первая попытка соединения фронтов;**
    - 2) Операция проходила вблизи водного объекта, по которому проходила «Дорога жизни»;**
    - 3) В операции участвовали бойцы Ленинградского и Волховского фронтов;**
    - 4) События на карте относятся к 1944 году;**
    - 5) Сражение под Ленинградом стало важным этапом в срыве фашистской стратегии «блицкрига».**
    - 6) Помощь в операции оказал балтийский флот и ладожская флотилия.**



Ордена и медали Советского Союза Маршала Советского Союза Г. К. Жукова



# Проспект Маршала Жукова

- **Жуков Георгий Константинович (1896-1974)**

Советский полководец и государственный деятель. Маршал Советского Союза, четырежды Герой Советского Союза, кавалер двух орденов «Победа», шести орденов Ленина, множества других советских и иностранных орденов и медалей.

**Цитата:** ...Война есть война, на ней не может не быть потерь и что эти потери могут быть и крупными, особенно



КАЗАКОВ ВАСИЛИЙ ИВАНОВИЧ  
Маршал артиллерии (1955), Герой Советского  
Союза (1945)



Стенд с наградами маршала артиллерии Казакова

В.И.



Улица Мэршала Казакóва – улица в  
Кировском и Красносельском районах  
Санкт-Петербурга.

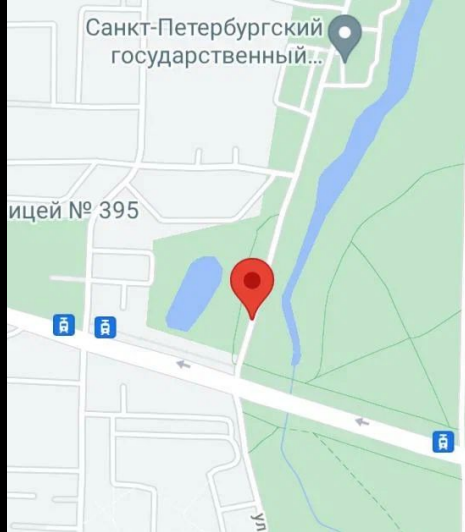


Удoстoверение к медали  
«За оборону Москвы»



Надгробный памятник на Новодевичьем  
кладбище Москвы





Здоровцев Степан Иванович

## Степан Иванович Здоровцев (1916 -1941)

Герой Советского Союза, командир звена 158-го истребительного  
авиационного полка, младший лейтенант.





# Корзун Андрей Георгиевич

1911 - 1943 гг.

Годы службы: 1941 - 1943 гг.



Южное воинское  
кладбище



# Память о Корзуне Андрее Георгиевиче и награды

УЛИЦА С ЯНВАРЯ 1964 ГОДА  
НОСИТ ИМЯ ГЕРОЯ СОВЕТСКОГО  
СОЮЗА АРТИЛЛЕРИСТА ГВАРДИИ  
РЯДОВОГО АНДРЕЯ ГРИГОРЬЕВИЧА  
**КОРЗУНА** (1911 - 1943)  
ГЕРОИЧЕСКИ ПОГИБ 5 НОЯБРЯ  
1943 ГОДА В ЛЕСНОМ ПОРТУ  
ВО ВРЕМЯ АРТИЛЛЕРИЙСКОЙ  
ДУЭЛИ, ПРЕДОТВРАТИВ ВЗРЫВ  
БОЕПРИПАСОВ.

Памятная доска в Лесном  
Парке Санкт-Петербурга

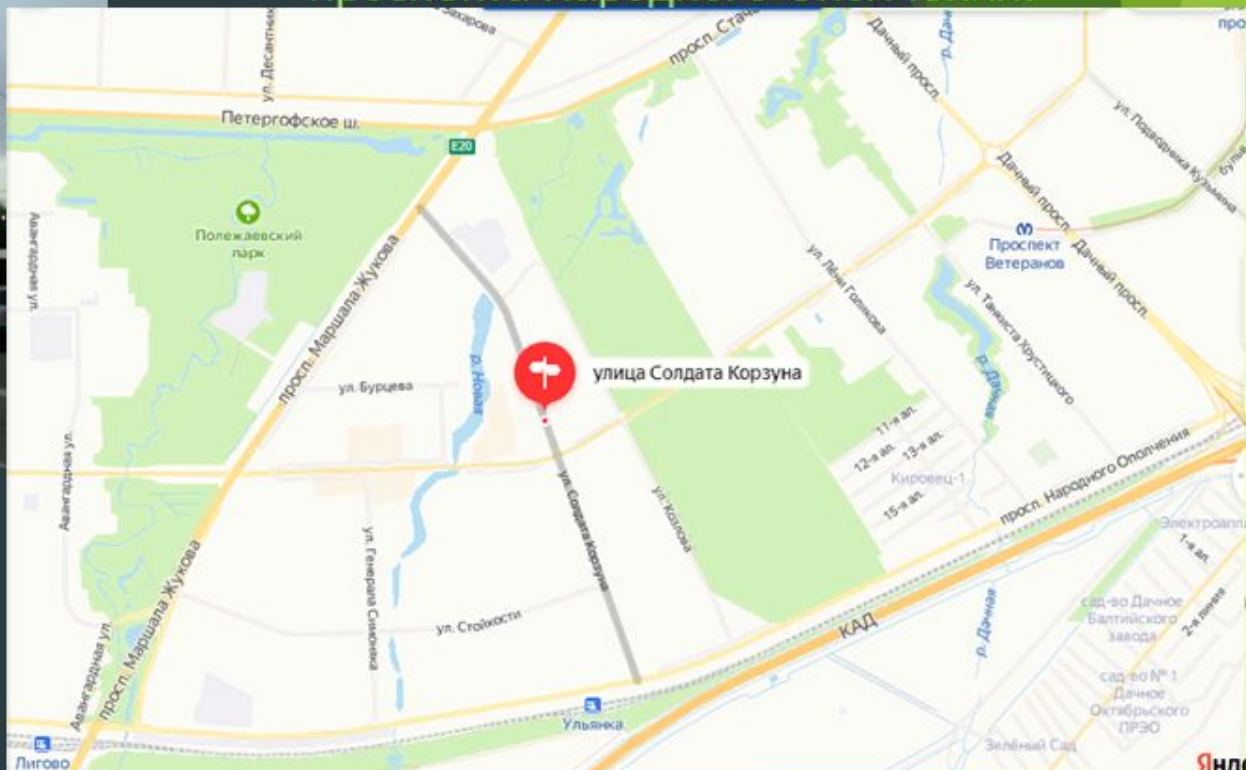



Орден Ленина, Герой  
Советского Союза,  
медаль «За Оборону  
Ленинграда»



# Улица солдата Корзуна

Улица в Кировском районе Санкт-Петербурга.  
Проходит от проспекта Маршала Жукова до  
проспекта Народного Ополчения.



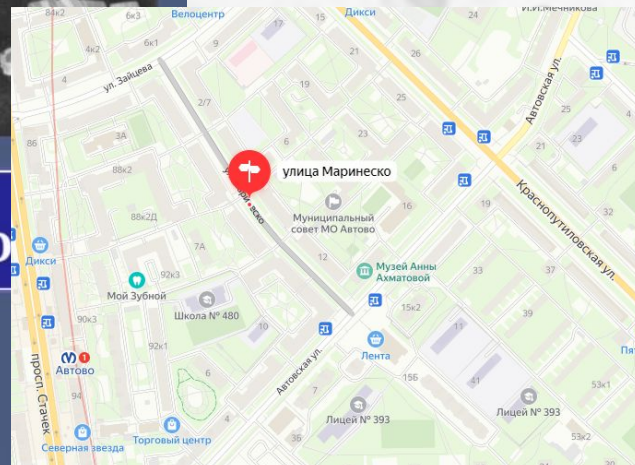
# А.И. Маринеско

Награды:  
Герой советского союза,  
медаль "Золотая звезда",  
два ордена  
Ленина, медаль  
"за оборону Ленинграда"



улица  
Маринеско

Находится в  
Кировском районе  
Санкт-Петербурга.  
Проходит от улицы Зайцева  
до Автовской улицы.

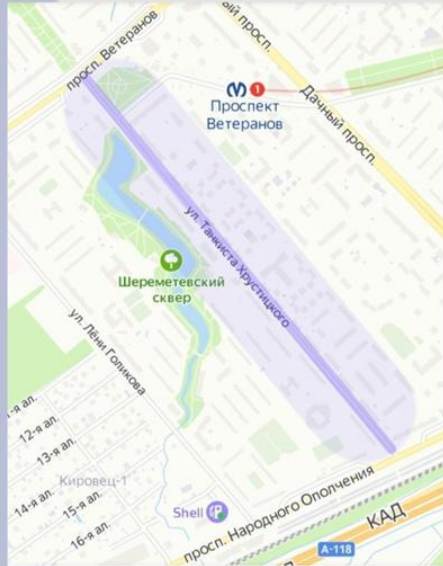


## Владислав Владиславович Хрустицкий (1902-1944)

ВЛАДИСЛАВ ВЛАДИСЛАВОВИЧ  
ХРУСТИЦКИЙ,  
ГЕРОЙ СОВЕТСКОГО СОЮЗА ГВ. ПОЛКОВНИК,  
КОМАНДИР 30-ОЙ ГВ. ТАНКОВОЙ БРИГАДЫ,  
ГЕРОЙСКИ ПОГИБ 26 ЯНВАРЯ 1944 Г.  
ПРИ ОСВОБОЖДЕНИИ ПОС. ВОЛОСОВО.  
  
В ПАМЯТЬ О НЕМ  
НАЗВАНА ЭТА УЛИЦА

[wikimapia.org](https://wikimapia.org)

Кировский район. Улица и  
мемориальная доска



Орден Красного  
Знамени



За Оборону Ленинграда



Золотая Звезда †



Орден Ленина †

## Домашнее задание:

1. Записи в тетради, даты;
2. С. 19 п.7 – там то, о чем говорили сегодня;
3. Индивидуальные задания:  
вышлю на выходных