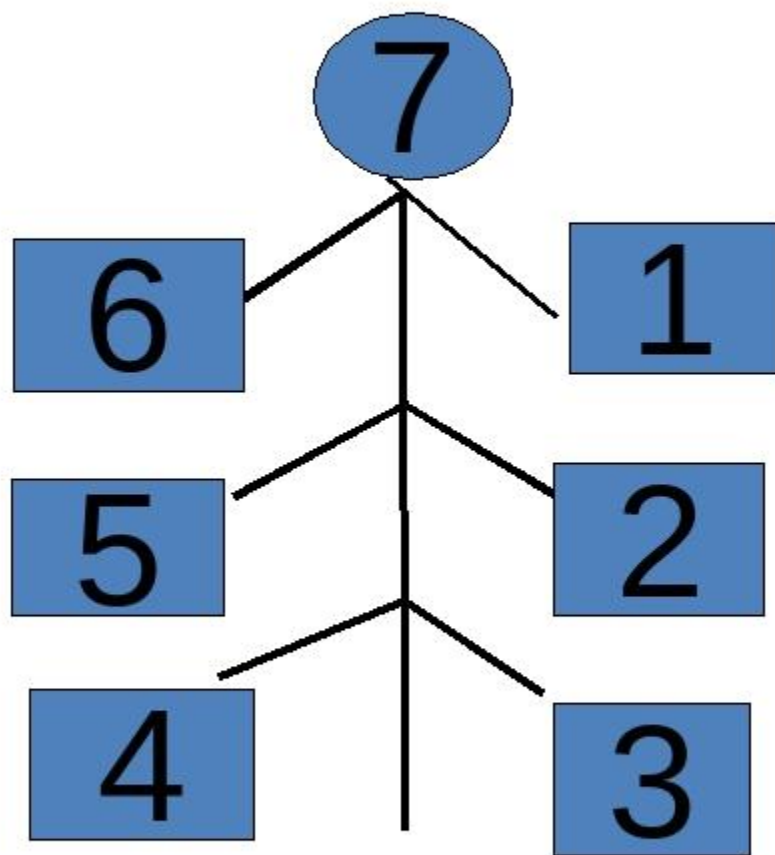




**УРОК
МАТЕМАТИКИ**

Состав числа 7.




Вспомни, состав числа 11.

11

9



8



7



6




Объясни разные способы решения

1	1	-	9	=	

1	1	-	9	=	

Работа по учебнику



С. 82 № 2, 3. Выучить таблицу.

№ 3 (1)



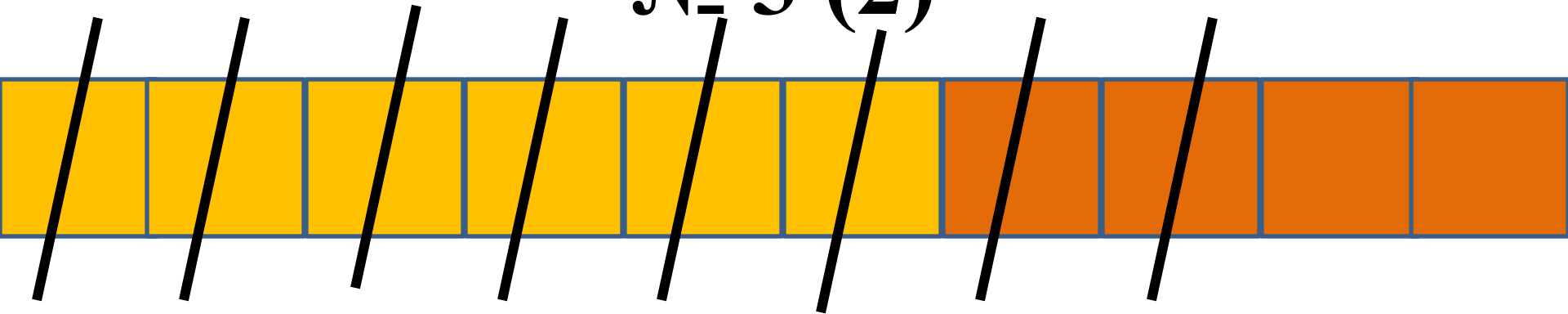
Было – 6 кв. и 4 кв.

Раскрасил – 7 кв.

Осталось – ? кв.



№ 3 (2)



Было – 6 м. и 4 м.

Отдали – 8 м.

Осталось – ? м.





11	
10	1
9	2
8	3
7	4
6	5

