

$$10 + 1 = 11$$

$$16 - 4 = \square \square$$

$$12 + 2 = \square \square$$

$$18 - 5 = \square \square$$

$$15 - 5 = \square \square$$

$$13 - 10 = \square$$



$10 + 1 = 11$

$16 - 4 = \square \square$



$12 + 2 = \square \square$

$18 - 5 = \square \square$

$15 - 5 = \square \square$

$13 - 10 = \square$

$10 + 1 = 11$

$16 - 4 = \square \square$



$12 + 2 = 14$

$18 - 5 = \square \square$

$15 - 5 = \square \square$

$13 - 10 = \square$



$$15 - 5 = 10$$



1

десяток

5

единиц

1

десяток

$10 + 1 = 11$

$16 - 4 = \square \square$

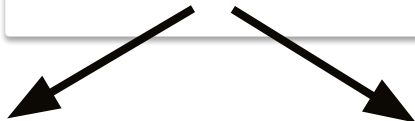
$12 + 2 = 14$

$18 - 5 = \square \square$

$15 - 5 = 10$

$13 - 10 = \square$

$$16 - 4 = 12$$



1

десяток

6

единиц



1

десяток

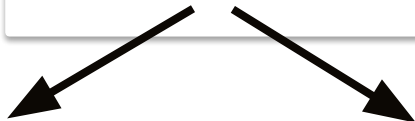
2

единицы

1	8	-	5	=	1	3
---	---	---	---	---	---	---

3 2

$$13 - 10 = 3$$



1

десяток

3

единицы





3

единицы

«ЗВЁЗДОЧКИ»




Составь и реши пример.



$$10 + 5 = 15$$




Найди длину верёвки.



1 дес. 1 ед.

$$11 + 3 = 14(\text{CM})$$

Составь и реши задачу на вычитание.

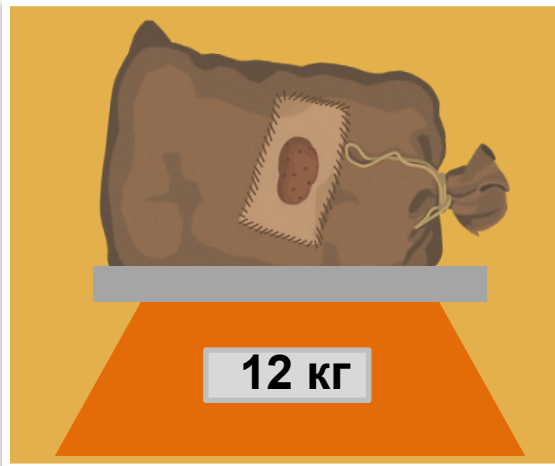


$$16 - 6 = 10$$

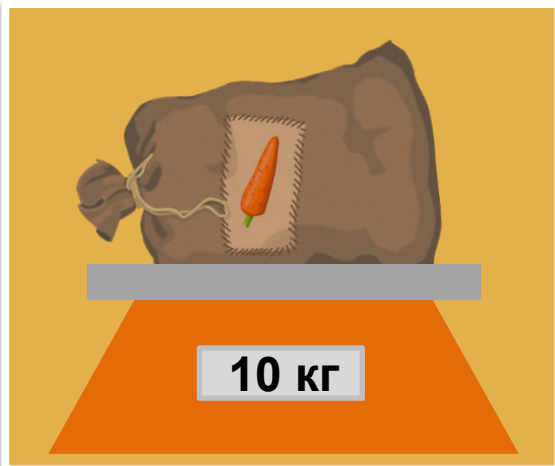
Составь и реши пример.



$$10 + 1 = 11$$



Что  
тяжелее  
?  
На



12 > 10

СКОЛЬКО ?



12 кг

1 дес. 2 ед.

Что  
тяжелее

?

1 дес.



10 кг

12 -

СКОЛЬКО  
10 =

2(кг)











VIDEOUROKI

VIDEOUROKI

VIDEOUROKI

VIDEOUROKI