

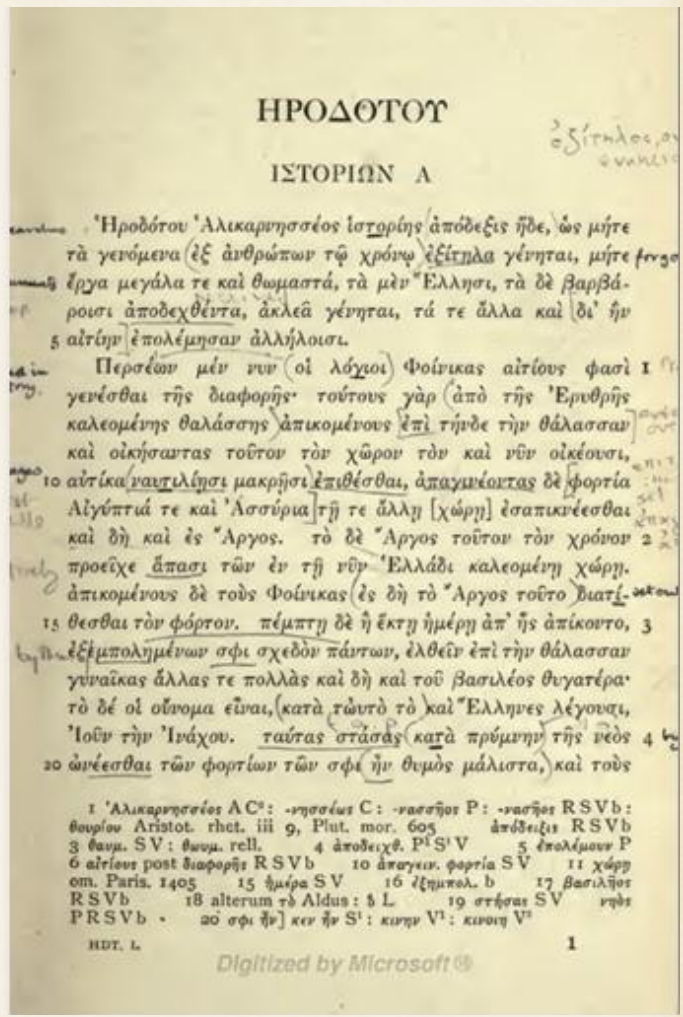

*Итоговая
контрольная работа*

**История
10 класс**

1

Основателем истории как научной дисциплины считают греческого учёного

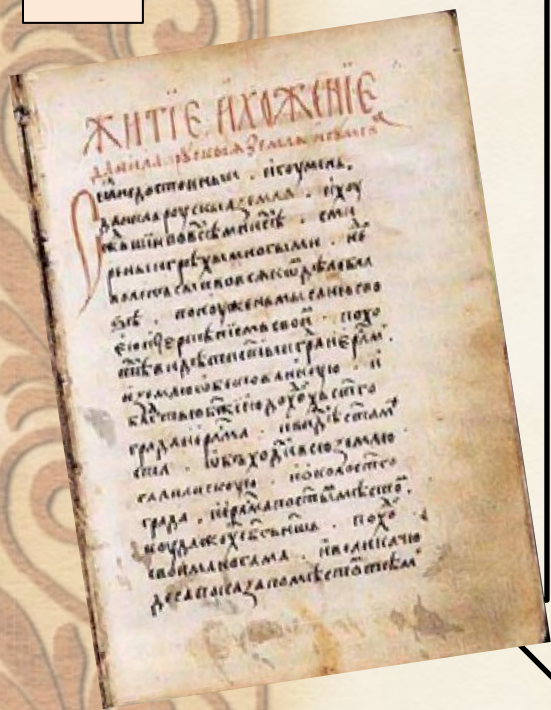
.....



Заполните пробел

1 Ἀλικαρνησίδης AC: -νησιεύς C: -νασηός P: -νασηός RSVb: θεωρίων Aristot. thet. iii 9, Plut. mor. 605 ἀπόδειξις RSVb 3 θεωμ. SV: θεωμ. rell. 4 ἀποδειχθ. P¹S¹V 5 ἐπολιμύων P 6 αἰτίαι post διαφορῆς RSVb 10 ἀναγιν. φορτία SV 11 χώρα om. Paris. 1405 15 ἡμίρα SV 16 ἔρημολ. b 17 βασιλῆος RSVb 18 alterum τὸ Aldus: δ L 19 στήσας SV νῆος PRSVb 20 σφί ἦν] κεν ἦν S¹: κενῆ V¹: κενῆ V²

Исторические источники



Письменные

...

...

Устные



Заполните пробелы

Вспомогательные исторические дисциплины

ДИНАСТИЯ РЮРИКОВИЧЕЙ



ДИНАСТИЯ РОМАНОВЫХ



..... - наука, изучающая родственные связи людей, историю родов, происхождение отдельных лиц, установление родственных связей, составление поколенных росписей и генеалогических древ.

Заполните пробел

4



..... — наука, изучающая географические названия (топонимы), их происхождение, смысловое значение

Заполните пробел

ПОЧЕМУ ЛЮДИ СТАНОВИЛИСЬ РАБАМИ?



Заполните пробелы

6

О каком историческом периоде идет речь?

Признаки

Средиземноморские цивилизации (Греция, Рим)

Связь частной собственности и гражданского статуса

Гражданская община- основа полиса

Богатейшая культура

Фундамент современной европейской цивилизации

Период III тыс. до н.э. – V в.н.э.



7

Назовите героев
мифа



Какому
событию
посвящен
рисунок на
амфоре? Какова
его роль в
современном
мире?






О каком
событии
рассказывает
миф, которому
посвящена
статуя?
Как зовут
главных героев?
Какова их
судьба?

Ответ должен быть лаконичным

9

**Марафонская битва
13 сентября 490 г. до н.э.**



**Бой в Фермопильском ущелье
480 г. до н.э.**

**Саламинское сражение
480 г. до н.э.**



**Битва при Платеях
479 г. до н.э.**

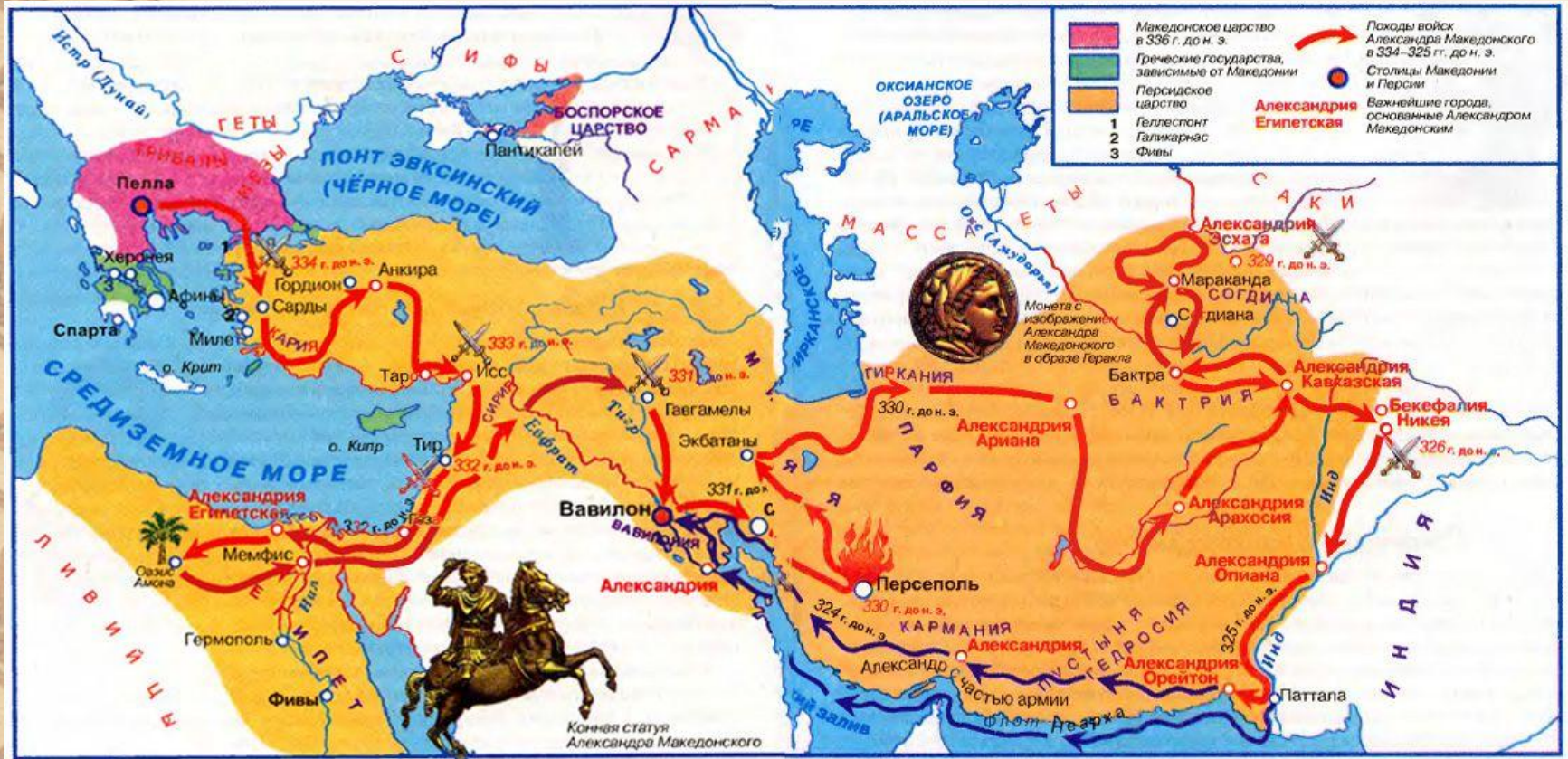
*Назовите
участников
(страны) и итоги
этих сражений*



10



Назовите главных участников беседы
Запишите их имена, роль с истории человечества



Чьи походы изображены на карте?

Запишите имя этого полководца

12



*В каком городе
памятник
гусям? Почему?*

**Ответ должен быть
лаконичным**






13



*Назовите архитектурный стиль,
его основные особенности*

14



Назовите архитектурный стиль, его основные особенности

**Дополнительные баллы!!!
Назовите памятник архитектуры, какова его «историческая судьба»**

15



**Почему обе
картинки
символизируют
Средние века?**



*Ответ должен
быть
развёрнутым*

Киев - «мать городов русских»

16



Кому принадлежит эта фраза?


17



Назовите событие, в том числе дату, которое изображено, и его причины

Какому литературному жанру посвящены эти иллюстрации?

18





19



Назовите город

20

Годы постройки - 1482-1495

Площадь - 27,7 га

Протяженность стен - 2500 м

Количество башен - 20

Количество ворот - 4

Высоты башен - до 80 м

Толщина стен башен - 24 м


Высота стен - от 5 до 19 м

Толщина стен - от 3,5 до 6,5 м

**Что характеризуют эти
параметры?**

**Запишите название
памятника архитектуры**

21



**Назовите
памятник
иконописи,
его автора, место
его нахождения**

..... – военно-религиозные экспедиции западных европейцев на Ближний Восток с целью завоевания святых мест, связанные с земной жизнью Иисуса Христа. **Заполните пробел**



23

Палестине
были
созданы
духовно-
рыцарские
ордена,
назовите
любые два.



Запишите их названия


24



1212 г.
О каком
событии
идет
речь?




25



*Назовите храм и место его
нахождения*

26



*Назовите храм и место его
нахождения*

27



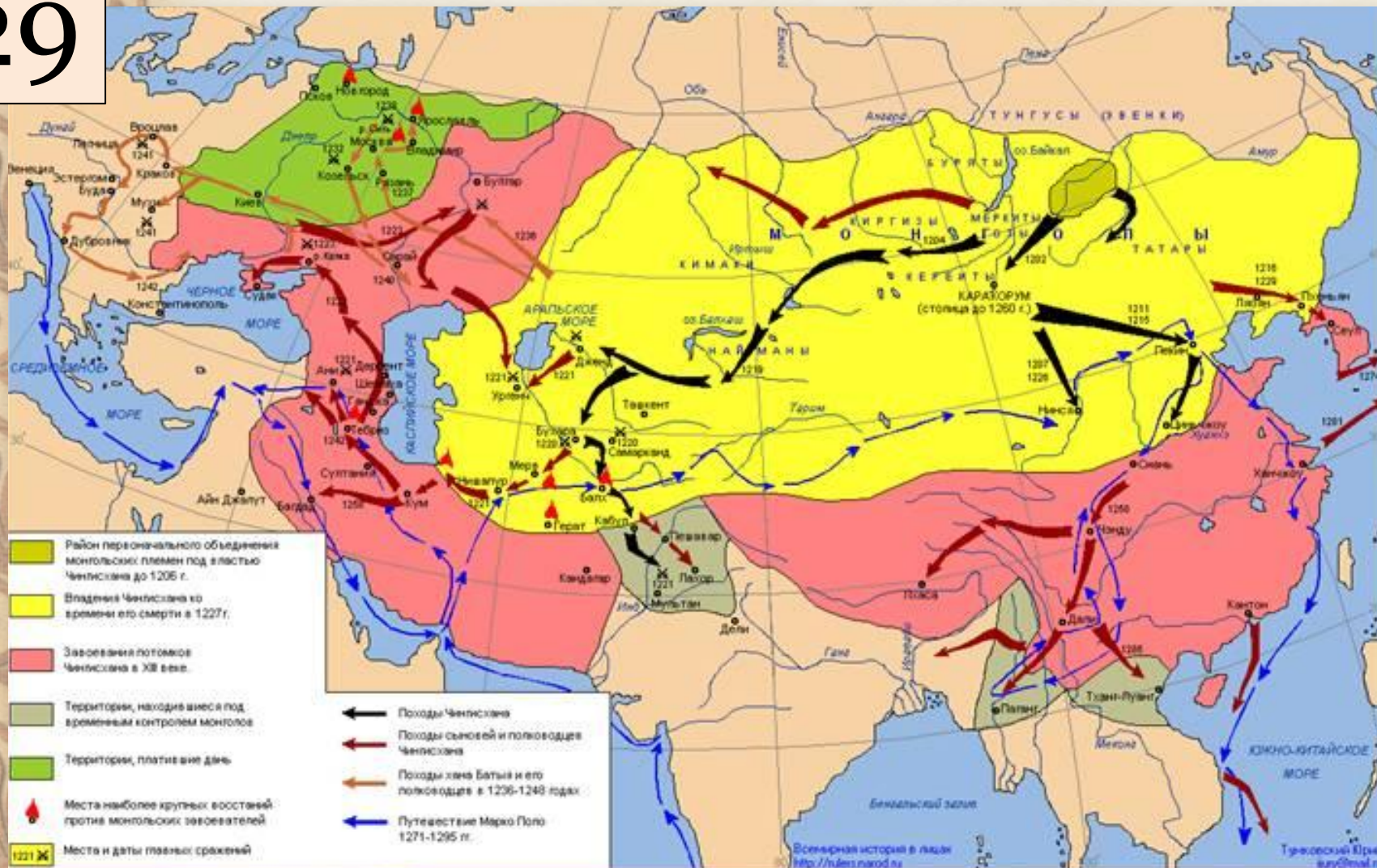
*Назовите храм и место его
нахождения*



*Назовите святых и дело их жизни.
В чем значение их деятельности?*

Чьи походы изображены на карте? Каково их историческое значение для России?

29



30

«И была сеча жестокая, и стоял треск от ломающихся копий и звон от ударов мечей, и казалось, что двинулось замёрзшее озеро, и не было видно льда, ибо покрылось оно кровью»

*1242 г.
О каком событии идет речь?*



31



VS



08.09.1380

Назовите событие и участников, включая их руководителей

..... – высший сословно-представительный орган власти



Созданы при
Иване IV

..... –
учреждения,
ведавшие отраслями
государственного
управления или
отдельными
территориями
страны; они
собирали налоги и
судили.

Заполните пробелы

ЦАРЬ

Митрополит

.....

.....

.....

Челобитный

Посольский

Поместный

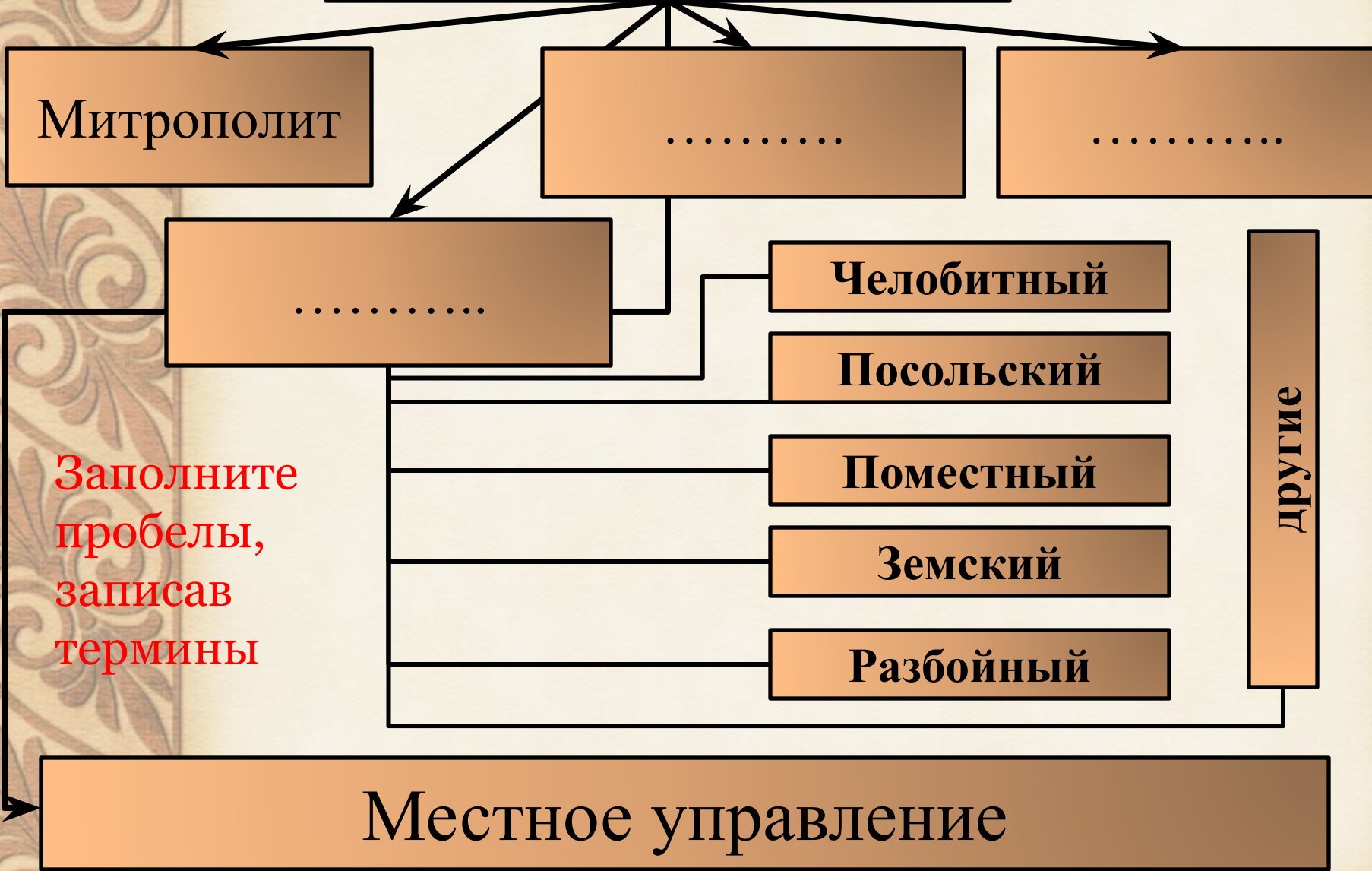
Земский

Разбойный

другие

Заполните
пробелы,
записав
термины

Местное управление



34

Политика террора во время правления Ивана Грозного – это

.....


Заполните пробел



Дополнительные баллы!!!

Как назывался воин, который мог выглядеть так? Назовите обязательные атрибуты экипировки

35



*Какие события
изображены?
Какую роль они
сыграли в истории
России?*



36



Кто это?

37

Основные направления внешней политики Ивана IV

Южное

Западное

Восточное

.....

.....

.....



Заполните пробелы

38



1552 г.

О каком событии идет речь?

39

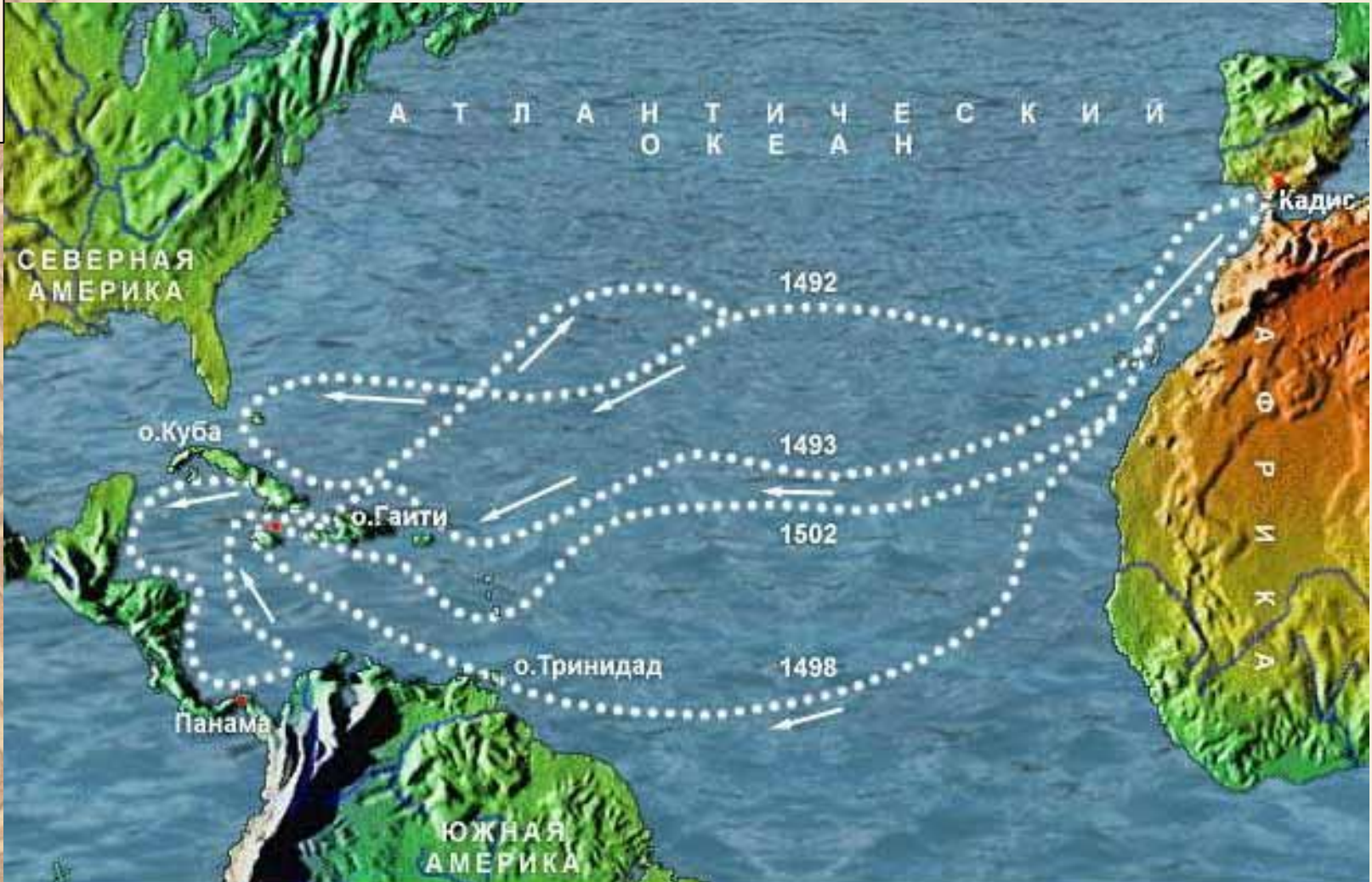
После каких событий Волгу стали называть «русской рекой», а Российское государство становилось все более национальным?



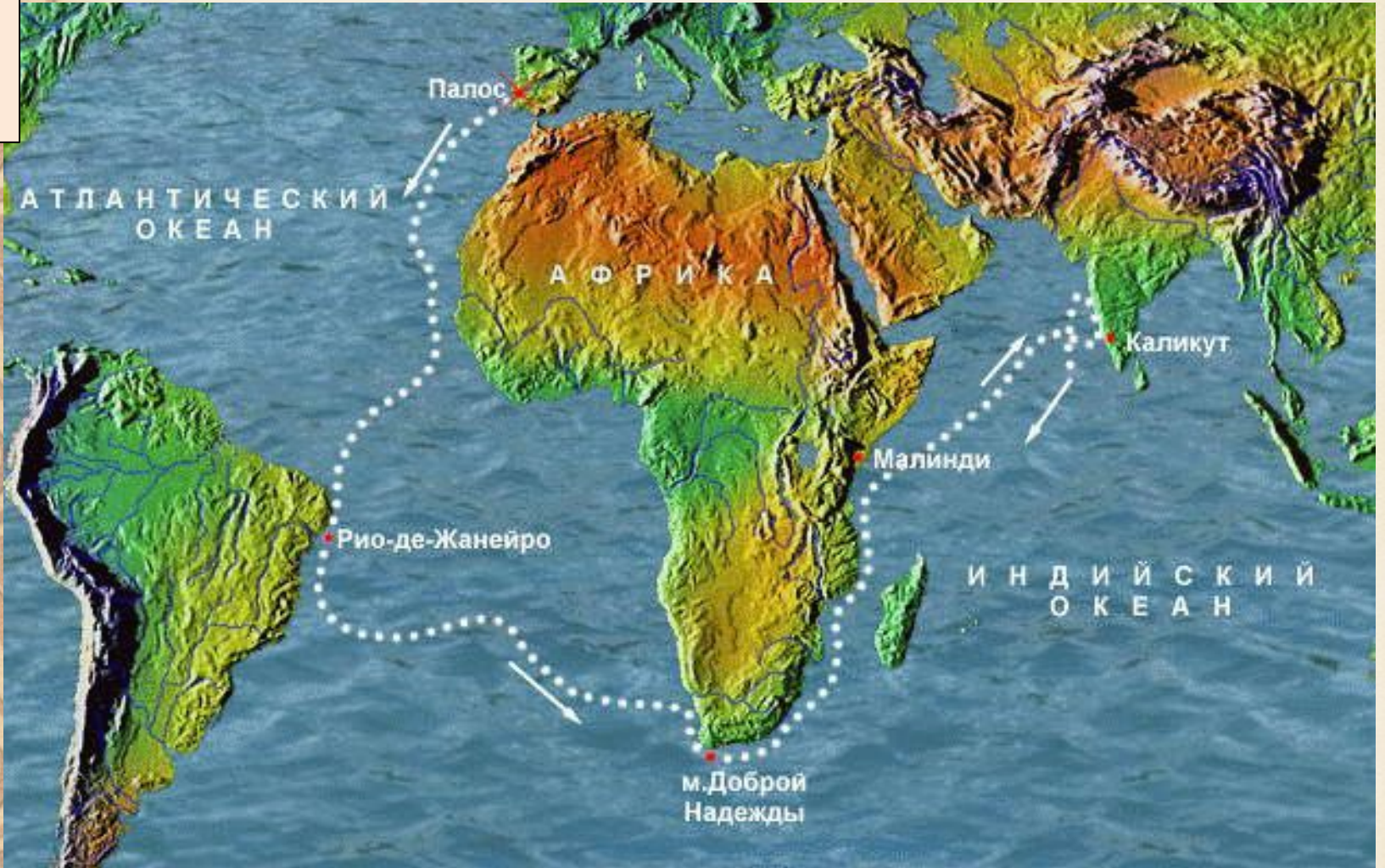
Запишите оба события, указав даты

ПРИЧИНЫ КАКОГО ИСТОРИЧЕСКОГО ЯВЛЕНИЯ ПЕРЕЧИСЛЕННЫ?

1. Перенаселенность Западной Европы
2. Рост городов
3. Развитие торговли
4. Желание покупать предметы роскоши и пряности
5. Нехватка денег в Европе
6. Захват Османской империей Средиземного моря, утрата морского пути в Индию



*Чьи путешествия
изображены на карте?*



*Чьи путешествия
изображены на карте?*

..... – это эпоха социально-политического, экономического и династического кризиса.

Сопровождалось народными восстаниями, правлением самозванцев, разрушением государственной власти, польско-шведской интервенцией, разорением страны

Заполните пробел

Земский собор 1598 г.

царём избрали Бориса
Федоровича Годунова.

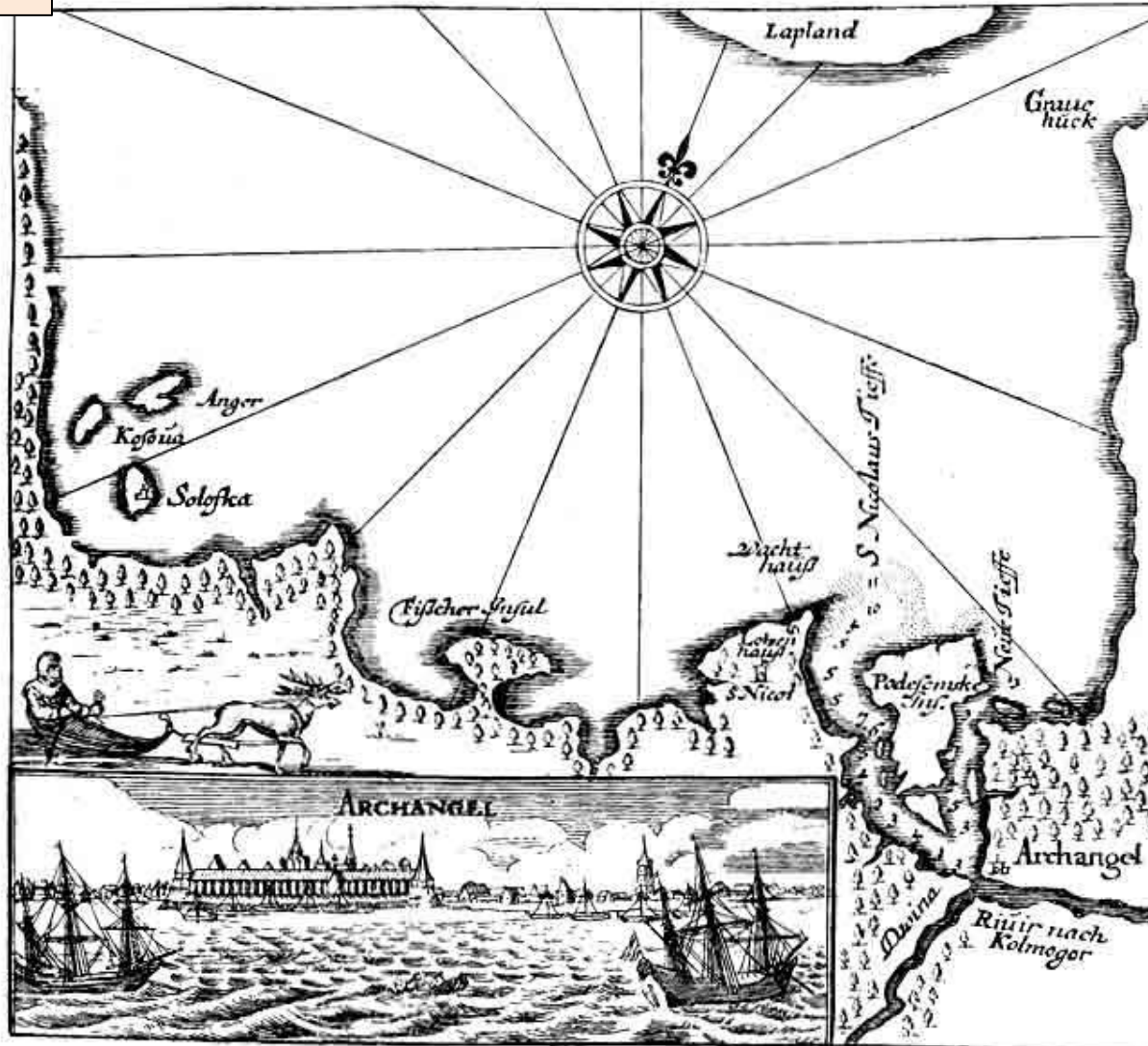
Впервые на Руси
появился царь,
получивший престол не

.....



Заполните пробел

45



О каком
событии
идет речь?

1584

46

1606

О каком событии идет речь?
Как называется явление,
породившее такое последствие?



47



1649 О каком событии идет речь?

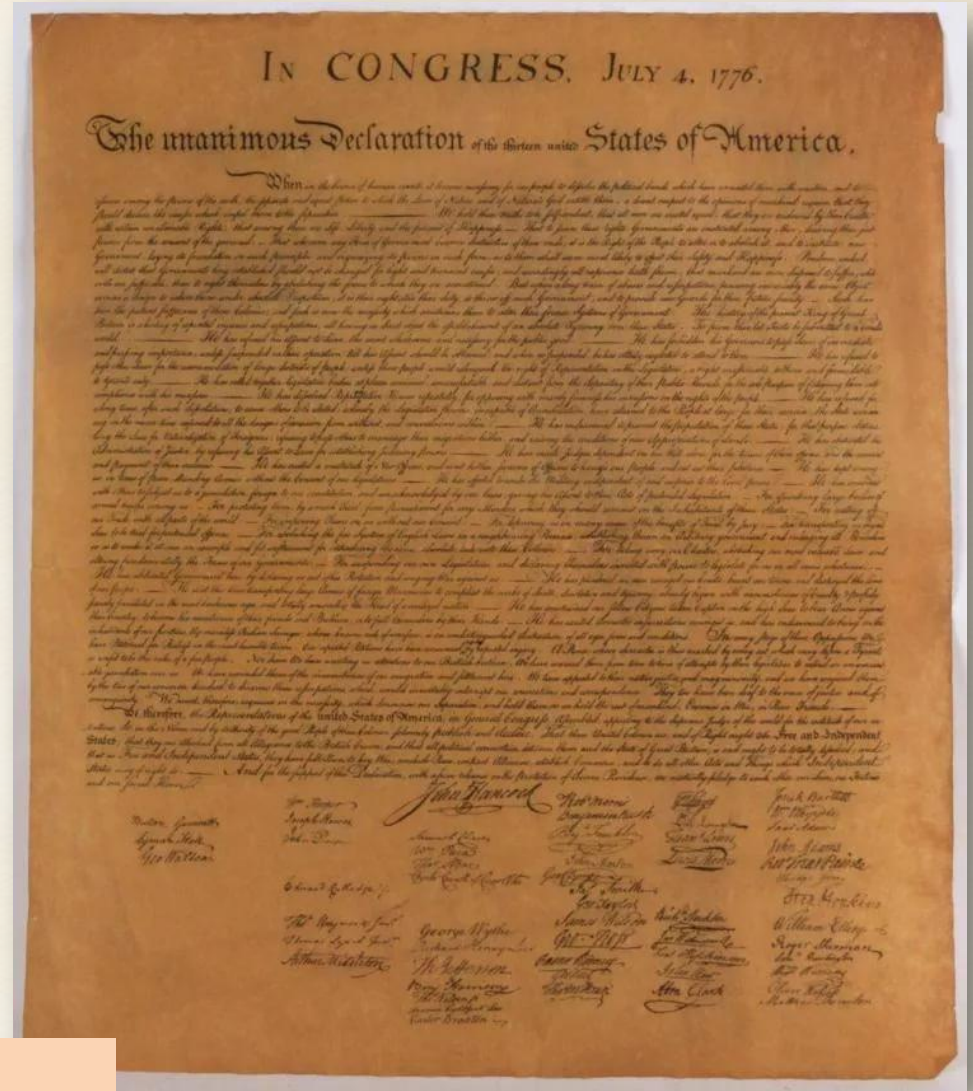
48



1773

О каком событии идет речь?

49




4 июля 1776 года

О каком событии идет речь?

50

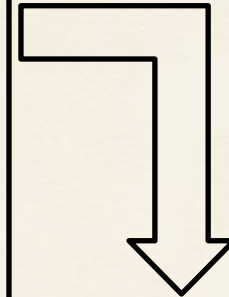
**Земский
собор**

Январь –
февраль 1613 г.



Претенденты

- ✓ В.В.Голицин
- ✓ Д.Т.Трубецкой
- ✓ Д.М.Воротынский
- ✓ Д.М.Пожарский
- ✓ Владислав
Польский
- ✓ Карл Филипп
шведский
- ✓ «Воренок
Ивашка»
- ✓ М.Ф.Романов



Избрали

.....

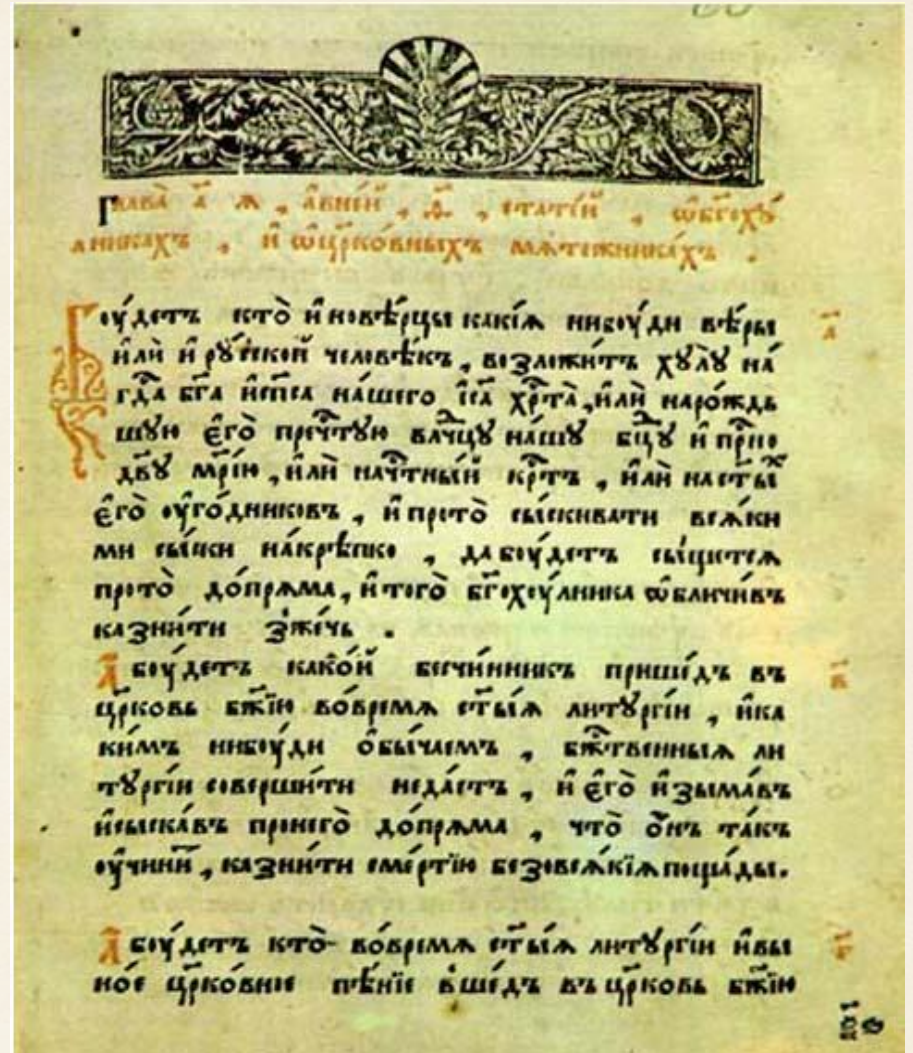
Срок, в течение которого велся сыск беглых крестьян— это

51



Заполните пробел

52



1649

Что это за документ?
В чем его значение?

53



**«Пётр - это
разрушитель русских
национальных устоев, а
его реформы были
«блестящей ошибкой».**

М. Щербатов

**Определите к каким философским
взглядам относится это мнение о Петре I**

54



**«Пётр – великий
государственный деятель,
создатель
могущественной империи,
человек , благодаря
которому Россия пошла
по пути мировой
цивилизации».**

В. Татищев

Определите каким философским
взглядам относятся это мнение о Петре I

Расположите исторические события в хронологической последовательности

1. *Революция в английских колониях в Северной Америке*
2. *Начало Реформации в Германии*
3. *Возникновение Христианства*
4. *Возникновение Ислама*
5. *Крестовые походы*
6. *Наполеоновские войны в Европе*
7. *Великая Французская революция*
8. *Тридцатилетняя война*
9. *Северная война*
10. *Семилетняя война*

56

Какие события (процессы) происходили в период Нового времени? Укажите два ответа.

- 1. Начало феодальной раздробленности*
- 2. Великие географические открытия*
- 3. Возникновение христианства*
- 4. Начало религиозных войн (Реформация)*
- 5. Крестовые походы*

Запишите порядковые номера

В эпоху первобытности:

Укажите три ответа

57

1. зародилась религия
2. были созданы первые государства
3. появились некоторые виды искусства
4. произошел переход к земледелию и скотоводству
5. возникло имущественное и социальное неравенство

Запишите порядковые номера

Итоги какой войны указаны, назовите её временные рамки

- 1) *Эта война полностью изменила соотношение сил на Балтике.*
- 2) *Россия превратилась в великую державу, доминировавшую в Восточной Европе.*
- 3) *Была решена ключевая задача царствования Петра I — обеспечение выхода к морю и налаживание морской торговли с Европой.*
- 4) *К концу войны Россия обладала современной, первоклассной армией и мощным флотом на Балтике.*
- 5) *Швеция утратила своё могущество и превратилась во второстепенную державу. Были потеряны не только территории, уступленные России, но и все владения Швеции на южном берегу Балтийского моря.*

59

Определите монархов
на российском престоле в XVIII в.



1



2



3



4



5



6



7



8

Запишите порядковые номера в
хронологической последовательности

Определите автора документа.

60

кого, когда и при каких обстоятельствах с ним
ознакомили?

«Государь есть самодержавный, ибо никакая другая, как только соединенная в его особе власть не может действовать сходно с пространством столь великого государства. (ст.9)

Равенство всех граждан состоит в том, чтобы все подвержены были тем же законам... (ст.34)

Вольность есть право все то делать, что законы дозволяют.. (ст.38).

Приговоры судей должны быть народу ведомы, так как и доказательства преступлений... (ст.183)

Человека не можно почитать виноватым прежде приговора судейского, и законы не могут его лишить защиты своей, прежде нежели доказано будет, что он нарушил оные...

Гораздо лучше предупреждать преступления, нежели наказывать...»



**Всем спасибо,
все – МОЛОДЦЫ**

