

Сьогодні
13.03.2022

Урок
№123

Всім.pptx
Нова українська школа



Одиниці часу. Година. Хвилина.
Секунда. Визначення часу за
годинником. Розв'язування задач



Добрий день, дорогі
друзі!
Добрий день!
На вас чекає гарний день.
Бачу, всі веселі і здорові
До уроку всі готові!

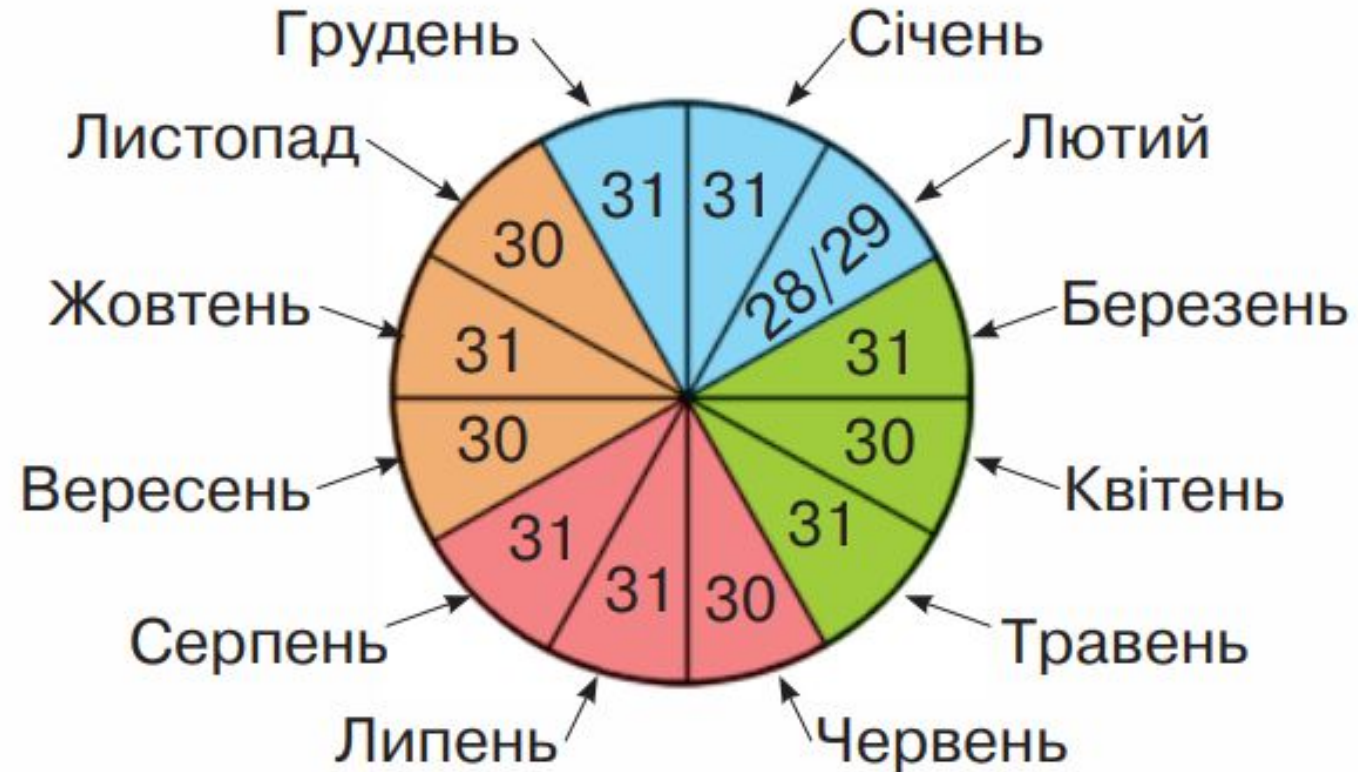


Перевіримо домашнє завдання



Сьогодні
13.03.2022

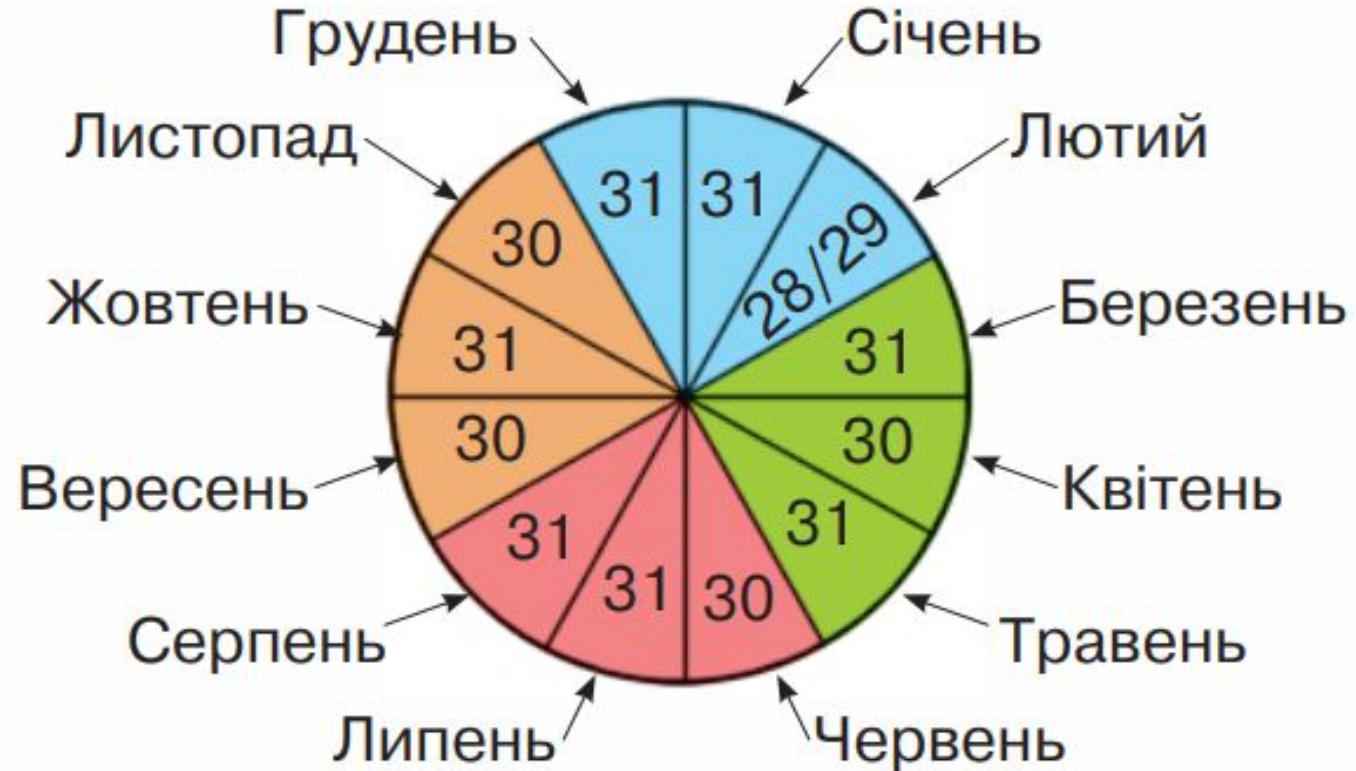
Розглянь місяці на схемі року. Виконай завдання.
Дай відповіді на запитання



Назви всі місяці підряд.

Сьогодні
13.03.2022

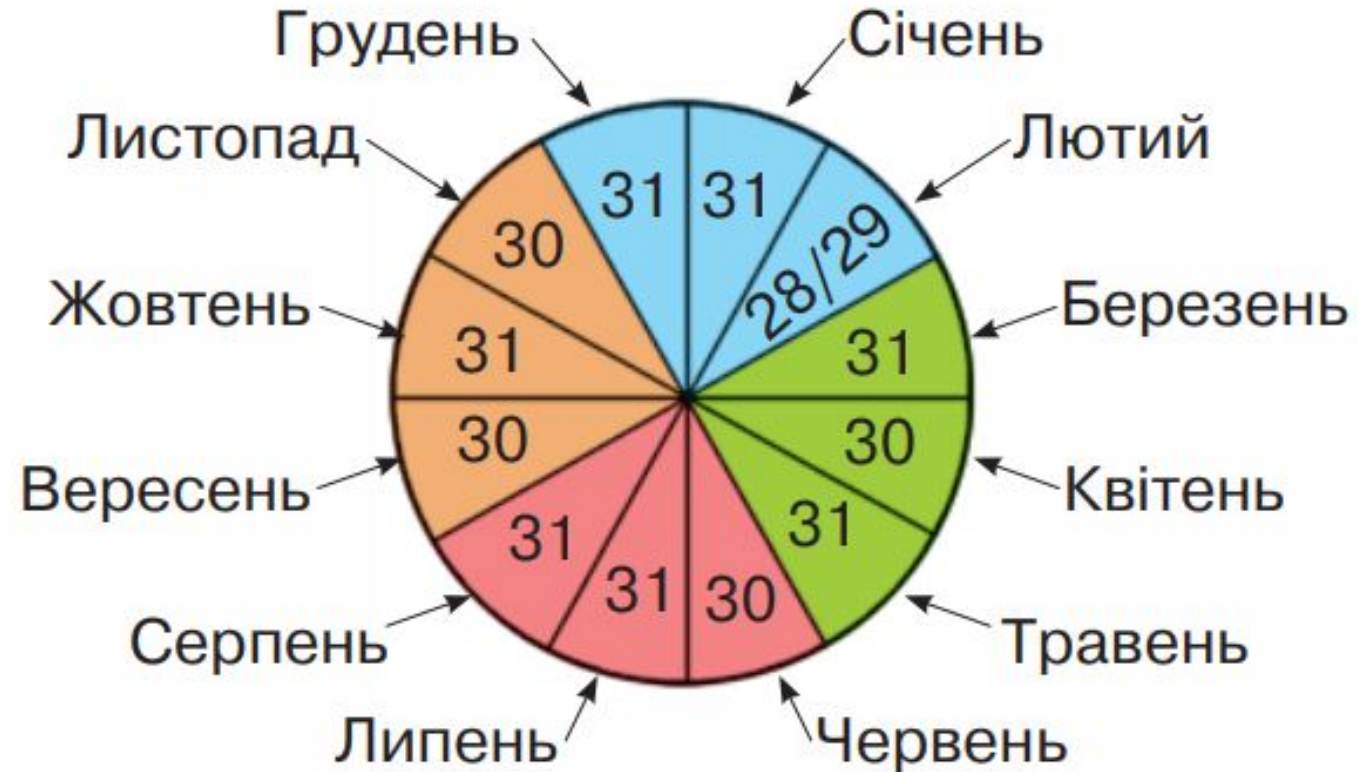
Розглянь місяці на схемі року. Виконай завдання.
Дай відповіді на запитання



Назви всі літні місяці.

Сьогодні
13.03.2022

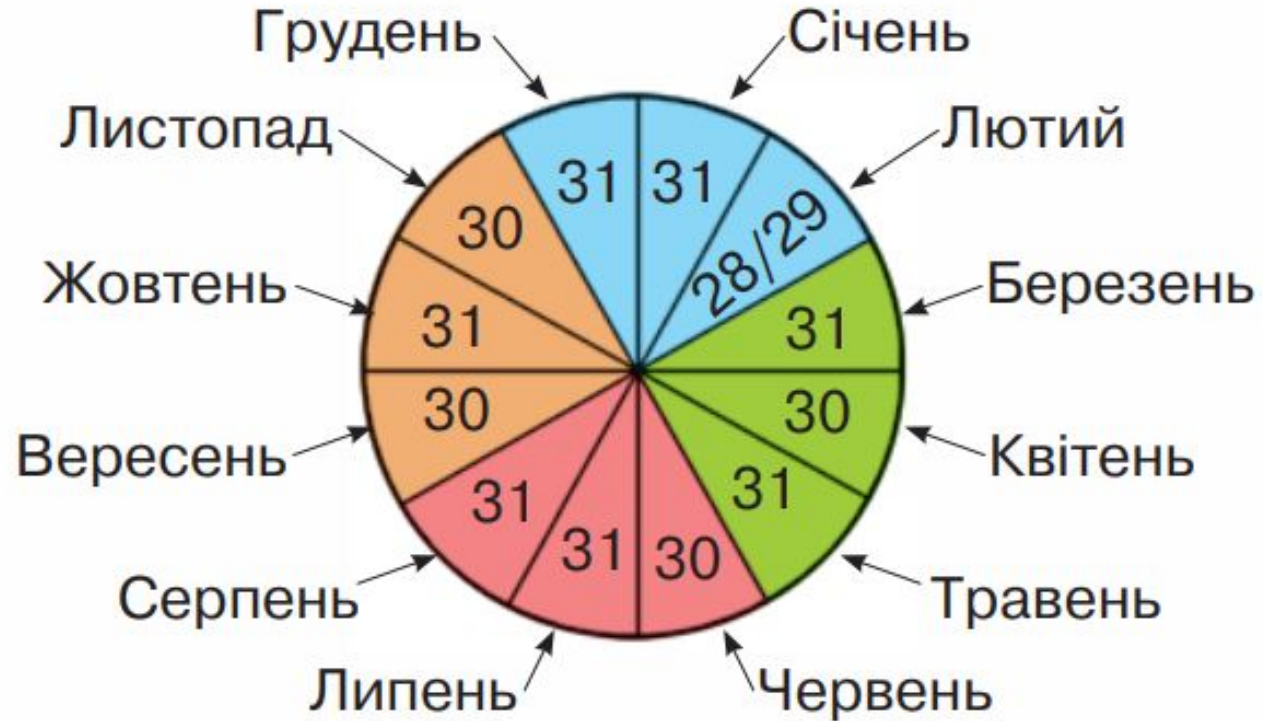
Розглянь місяці на схемі року. Виконай завдання.
Дай відповіді на запитання



Назви всі місяці, у яких 30 днів.

Сьогодні
13.03.2022

Розглянь місяці на схемі року. Виконай завдання.
Дай відповіді на запитання

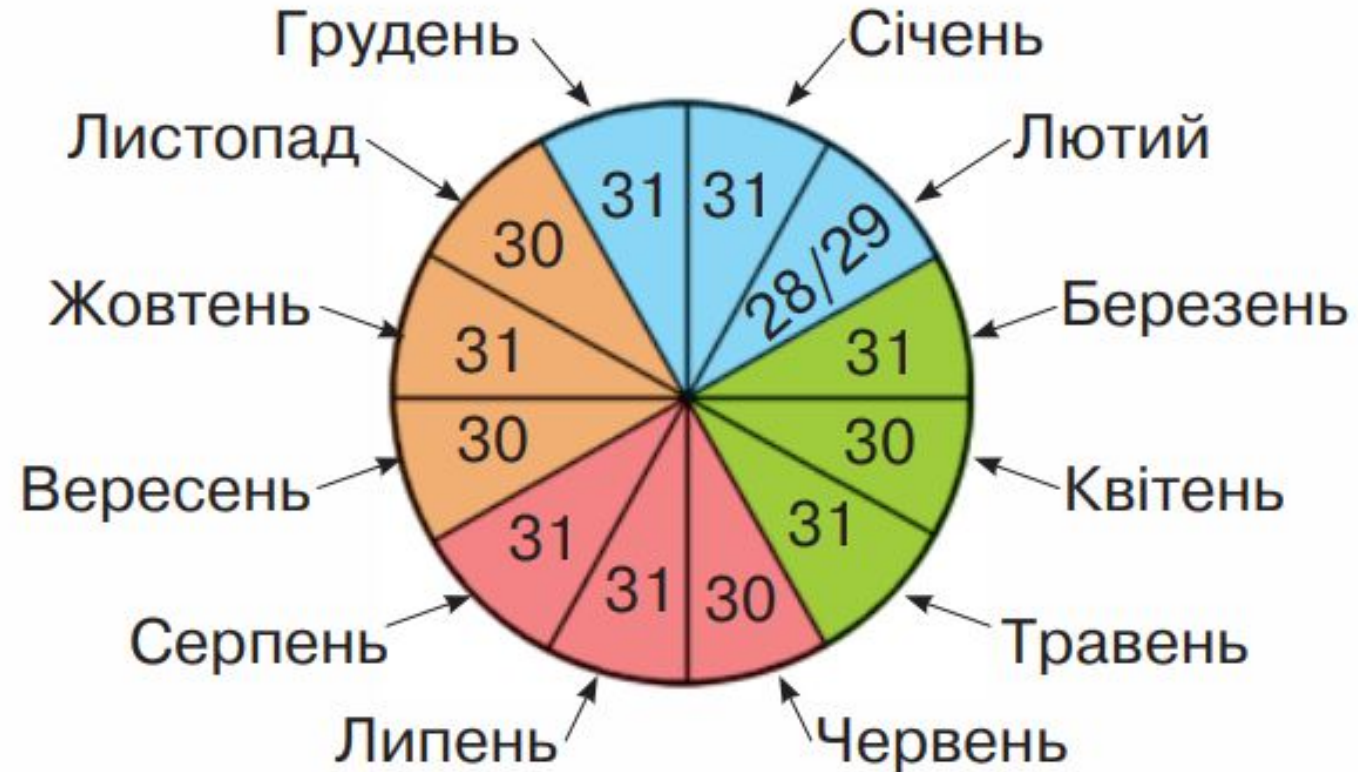


Третину місяця називають декадою

Скільки днів у декаді квітня?

Сьогодні
13.03.2022

Розглянь місяці на схемі року. Виконай завдання. Дай відповіді на запитання.




СКІЛЬКИ ДНІВ У ЛЮТОМУ ЦЬОГО РОКУ?



Класна робота

599 599 599 599 599 599

Знайди значення виразу, відповідь запиши
каліграфічно $500 + 99$



РУХЛИВА

ВПРАВА



Сьогодні
13.03.2022

**Робота із
підручником
«Математика»
А.Заїка, с.80-82,
частина 2.**



Обчисли вирази



$$540 + 540 : 6 =$$

630

$$320 + 80 \cdot 4 =$$

640

$$760 - 20 \cdot 8 =$$

600

СЬОГОДН
13.03.2022

Обчисли вирази



$$760 - 24 : 8 =$$

757

$$30 \cdot 5 + 150 =$$

300

$$720 : 9 - 80 =$$

0


За допомогою чого на них позначено час?
Протягом доби (вранці, вдень, увечері, вночі)
стрілки на циферблаті рухаються. Годинна
стрілка за 1 добу робить 2 повні
оберти.

1 доба: $12 + 12 = 24$ (год).

Хвилинна стрілка робить 1 повний оберт
протягом 1 години. Визнач, скільки повних
обертів робить хвилинна стрілка за 1 добу.

Секундна стрілка робить 1 оберт за 1 хв.

Усі рухи стрілок продемонструй на циферблаті.



Прочитай записи. Чи правильні вони?



В 1 добі — 24 год 1 доба = 24 год 1 год = $\frac{1}{24}$ доби

В 1 годині — 60 хв 1 год = 60 хв 1 хв = $\frac{1}{60}$ год

В 1 хвилині — 60 с 1 хв = 60 с 1 с = $\frac{1}{60}$ хв



Сьогодні
13.03.2022

Визнач час за годинником з точністю до хвилини. Запиши.
Котра година буде через 20 хв? Запиши, прочитай



1 ГОД
15 ХВ

12 ГОД

6 ГОД

9 ГОД

3 ГОД
30 ХВ

12 ГОД
20 ХВ

1 ГОД
35 ХВ

12 ГОД
20 ХВ

6 ГОД
20 ХВ

9 ГОД
20 ХВ

3 ГОД
50 ХВ

12 ГОД
40 ХВ



СЬОГОДН
13.03.2022

Де допущено помилку? Обчисли правильно




$$\begin{array}{r} 315 \\ + 425 \\ \hline 740 \end{array}$$

$$\begin{array}{r} 830 \\ - 333 \\ \hline 497 \end{array}$$

$$\begin{array}{r} 740 \\ - 35 \\ \hline 705 \end{array}$$

$$\begin{array}{r} 118 \\ + 22 \\ \hline 140 \end{array}$$



BCIM
pptx



Репетиція концерту в школі розпочнеться о 17 год. Коли Денисові потрібно вийти з дому, щоб не запізнитися, якщо до школи він іде 15 хв?

Задача 331

1) $17 \text{ год} - 15 \text{ хв} = 16 \text{ год } 45 \text{ хв}$

Відповідь: потрібно вийти з дому о 16 год 45 хв



Вікторія розв'язує 2 задачі за 8 хв, а 3 вирази обчислює за 6 хв. У скільки разів довше Вікторія працює над розв'язанням однієї задачі, ніж обчислює один вираз? На скільки хвилин більше?

Задача 332

- 1) $8 : 2 = 4$ (хв) – розв'язує 1 задачу;
- 2) $6 : 3 = 2$ (хв) – обчислює 1 вираз;
- 3) $4 : 2 = 2$ (р.) – у стільки разів довше розв'язує задачу;
- 4) $4 - 2 = 2$ (хв)

Відповідь: на 2 хв більше Вікторія розв'язує задачу, ніж обчислює вираз.

Сьогодні
13.03.2022

**Робота із
зошитом
«Математика»
А.Заїка,
С.31, частина 2.**



СЬОГОДН
13.03.2022

Обчисли. Повтори

$7 \cdot 5 = 35$

$9 \cdot 4 = 36$

$36 : 9 = 4$

$7 \cdot 6 = 42$

$9 \cdot 5 = 45$

$45 : 9 = 5$

$7 \cdot 8 = 56$

$9 \cdot 6 = 54$

$54 : 9 = 6$

$7 \cdot 9 = 63$

$9 \cdot 7 = 63$

$63 : 9 = 7$

Роб.зош.
Номер

110

Роб.зош.

Сторінк
а

31

Сьогодні
13.03.2022

Віднови правильні рівності

1 ГОД

60

ХВ

1 доба

24

ГОД

1 ХВ =

60

С

2 доби

48

ГОД

2 ХВ =

120

С

3 доби

72

ГОД



1 рік = 12 міс.

2 роки 24 міс.

3 роки 36 міс.



На сторінці підручника 81 виконати завдання №333, №334 та №335. У робочому зошиті на сторінці 31 виконати завдання №112 та №113.

*Короткий запис у щоденник
С.81, №333, №334, №335.
З.с.31, №112, №113.*

П

позиція

О

обґрунтуван
ня

П

приклад

С

судження



- Я вважаю, що ...
- Тому що ...

- Я можу довести це на прикладі ...
- Зважаючи на це, я роблю висновок про те, що ...

