



5



7



3



Математика **1** класс
УМК «Школа России»

Приём вычитания

вида **12** -



5



7



3



27 апреля.

Классная работа.





Числовая разминка

Запишите число, которое на **2**
меньше, чем число

9

10

12

2

Проверим!

7

8

10

0

5



7



3





Числовая разминка

Запишите число, которое на **3**
больше, чем число

6

9

10

0

Проверим!

9

12

13

3

5



7




3





Табличное вычитание



12 -

12

3	<input type="text"/>
4	<input type="text"/>
5	<input type="text"/>
6	<input type="text"/>





12

3 9

4 8

5 7

6 6



$$12 - 3 = 9$$

$$12 - 4 = 8$$

$$12 - 5 = 7$$

$$12 - 6 = 6$$


$$12 - 7 = 5$$

$$12 - 8 = 4$$


$$12 - 9 = 3$$





$$12 - 5 = 7$$




$$12 - 8 = 4$$

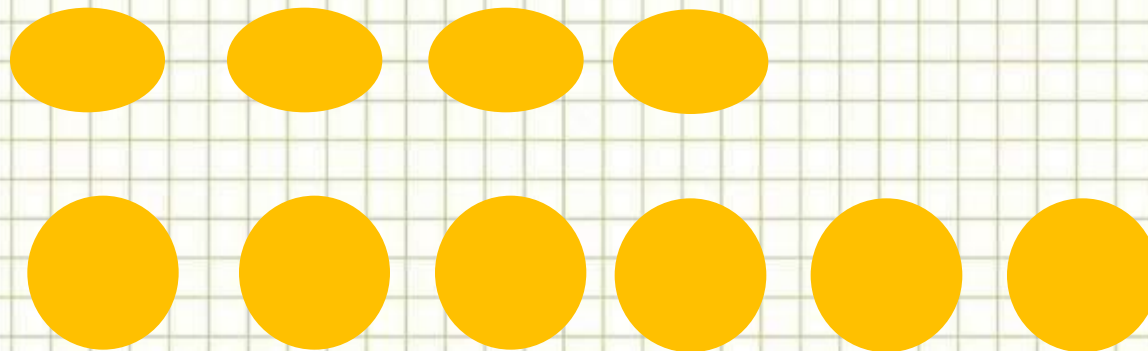


$$12 - 3 = 9$$





Решаем задачу!



Составь схему к задаче и запиши в тетради решение выражением.

С. 83 3.4

$$1).4 + 2 = 6 \text{ (ИГ.)}$$

- на другом
диске

$$2).4 + 6 = 10 \text{ (ИГ.)}$$

- всего

$$4 + 2 + 4 = 10 \text{ (ИГ.)}$$

Ответ: **10** игр.




3



Решаем задачи!

На диске - 6 м.

Вчера посмотрели – 3 м.



С. 8, № 5

Сегодня – остальные мультфильмы

- Поставь вопрос и реши задачу.
- Начерти к задаче схему.





Дима сделал 7 маленьких лодочек, а больших на 2 лодочки меньше, чем маленьких. Сколько всего лодочек сделал Дима?



? на 2 л. меньше



- Начерти схему к задаче и реши

5



7



3





5



7



3



Найти значение выражений

1. Учебник , с. 83, № 3
и примеры внизу страницы

Вставить нужный знак



8	$4 = 12$	5	$2 = 7$	10	$2 = 8$
11	$3 = 8$	9	$3 = 6$	12	$5 = 7$
10	$4 = 6$	7	$6 = 13$	13	$3 = 10$



5



7



3



**СПАСИБО
ЗА РАБОТУ НА УРОКЕ**

