

# Найди взаимосвязь



Карта Китая и  
Индокитая



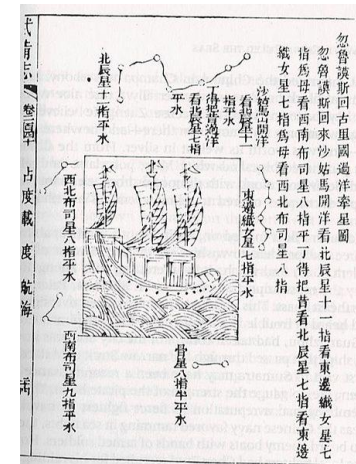
Чжэн Хэ возвращается с  
путешествия



Император Юн Лэ



Великий Шелковый Путь



«Карта Мао  
Кун»

# КАК КИТАЙСКИЕ И ЕВРОПЕЙСКИЕ ПРАВИТЕЛИ ОТНОСИЛИСЬ К МОРСКИМ ПУТЕШЕСТВИЯМ?

- 7.4.1.2 объяснить роль международной торговли и путешествий в средние века



# СРАВНИ КОРАБЛИ

1. Чжэн Хэ

2. Португальцев

Рис.1.



Рис.2.

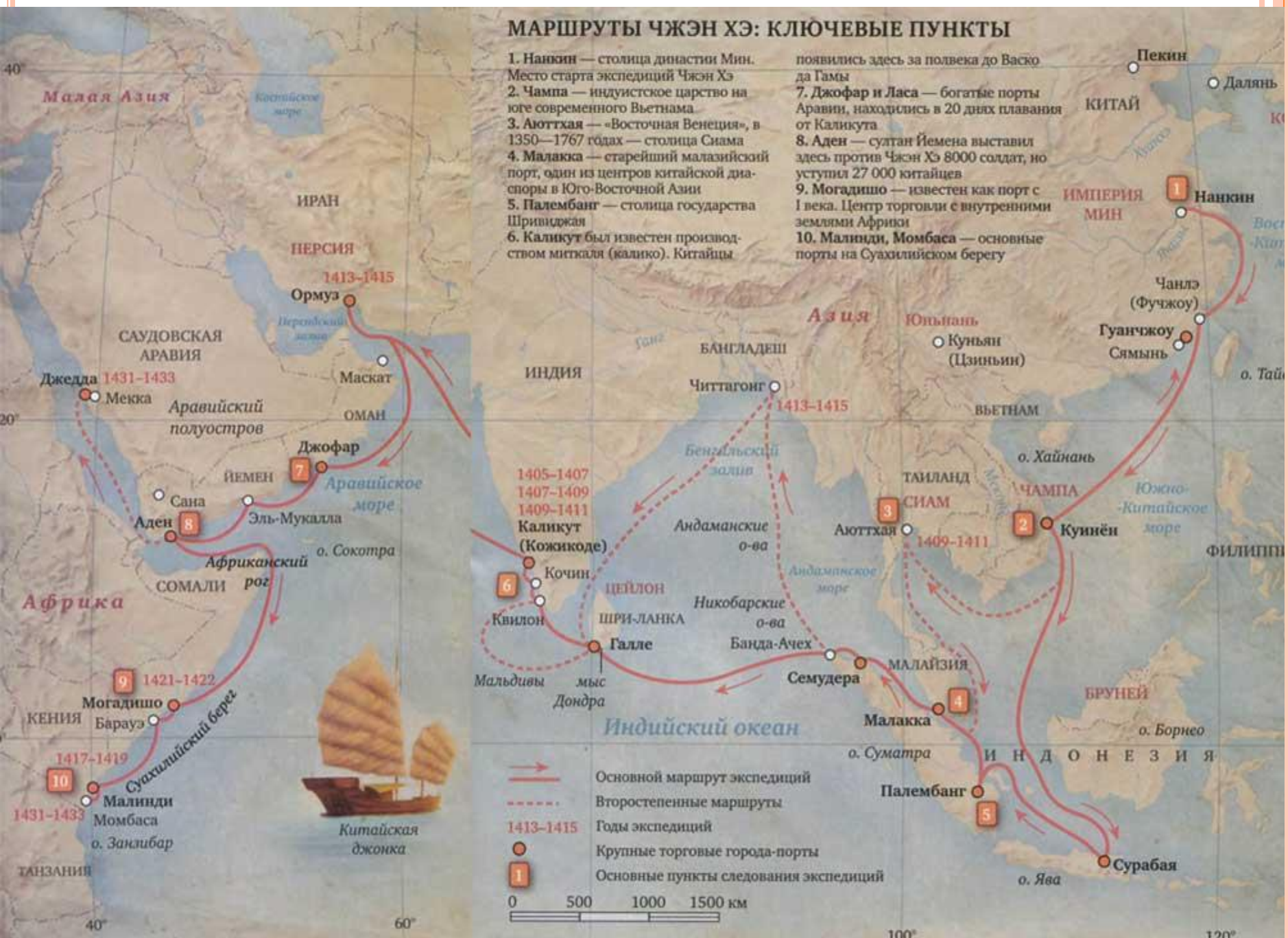





## МАРШРУТЫ ЧЖЭН ХЭ: КЛЮЧЕВЫЕ ПУНКТЫ

1. Нанкин — столица династии Мин. Место старта экспедиций Чжэн Хэ
2. Чампа — индустское царство на юге современного Вьетнама
3. Аюттхая — «Восточная Венеция», в 1350—1767 годах — столица Сиам
4. Малакка — старейший малазийский порт, один из центров китайской диаспоры в Юго-Восточной Азии
5. Палембанг — столица государства Шривиджая
6. Каликут был известен производством миткала (каликко). Китайцы

7. Джофар и Ласа — богатые порты Аравии, находились в 20 днях плавания от Каликута
8. Аден — султан Йемена выставил здесь против Чжэн Хэ 8000 солдат, но уступил 27 000 китайцев
9. Могодишо — известен как порт с I века. Центр торговли с внутренними землями Африки
10. Малинди, Момбаса — основные порты на Суахильском берегу



- Основной маршрут экспедиций
- - - Второстепенные маршруты
- 1413-1415 Годы экспедиций
- Крупные торговые города-порты
- ① Основные пункты следования экспедиций







# ПОЧЕМУ КИТАЙЦЫ СОВЕРШАЛИ ЭТИ ДОРОГОСТОЯЩИЕ ПУТЕШЕСТВИЯ?

Расставьте причины путешествий по степени важности для Китая

Просматривая видеоролик с 8 по 28 мин. выделите:

1. Причины по которым китайцы совершали путешествия
2. Маршрут
3. Вывозимые товары
4. Завозимые товары
5. Причины по которым китайцы прекратили путешествия



# Расставьте причины путешествий по степени важности для Китая



**СГРУППИРУЙТЕ ПРИЧИНЫ ПРЕКРАЩЕНИЯ  
ЭКСПЕДИЦИЙ ПО ЭКОНОМИЧЕСКИМ И  
ПОЛИТИЧЕСКИМ ПРИЗНАКАМ**

**ЭКОНОМИЧЕСКИЕ**

**ПОЛИТИЧЕСКИЕ**





# ВЫПОЛНИТЕ ЗАДАНИЕ

Ф.И. \_\_\_\_\_ класс \_\_\_\_\_

## Китайские путешественники

Время \_\_\_\_\_  
Цель \_\_\_\_\_

Методы обращения с населением \_\_\_\_\_

Последствия путешествий  
Почему китайцы прекратили путешествия?

## Общие цели путешествий

---

---

---

---

---

---

---

---

---

---

## Европейские путешественники

Время \_\_\_\_\_  
Цель \_\_\_\_\_

Методы обращения с населением \_\_\_\_\_

Последствия путешествий  
Почему европейцы продолжали путешествия?

7.3С: Торговля, производство и освоение мира.  
*Почему Западная Европа была так настойчива  
в своих исследовательских путешествиях?*

**Цели обучения.** Сравнить источники для ответа на более сложные вопросы;

Составлять характеристику деятельности исторических личностей;

Характеризовать развитие ремесла и торговли.

**Цель урока.** Ученики могут показать влияние Великих географических открытий на развитие экономики Западной Европы, Азии и Америки.



В ЧЕМ РАЗЛИЧИЯ МЕЖДУ КАРТАМИ? ПОЧЕМУ?



忽魯謨斯回古里國過洋牽星圖

忽魯謨斯回來沙姑馬開洋看北辰星十一指看東邊織女星七指為母看西南布司星八指平丁得把昔看北辰星七指看東邊織女星七指為母看西北布司星八指

沙姑馬開洋

看北辰星十一


指平水

丁得把昔過洋

看北辰星七指

平水

北辰星十二指平水



東邊織女星七指平水

骨星八指半平水

西北布司星八指平水

西南布司星九指平水



# ОБОЗНАЧЬТЕ ГОСУДАРСТВА НА КАРТЕ ГДЕ СЛОЖИЛСЯ АБСОЛЮТИЗМ

1. Англия
2. Франция
3. Российская империя
4. Османская империя
5. Китай
6. Япония





# ХРИСТОФОР КОЛУМБ



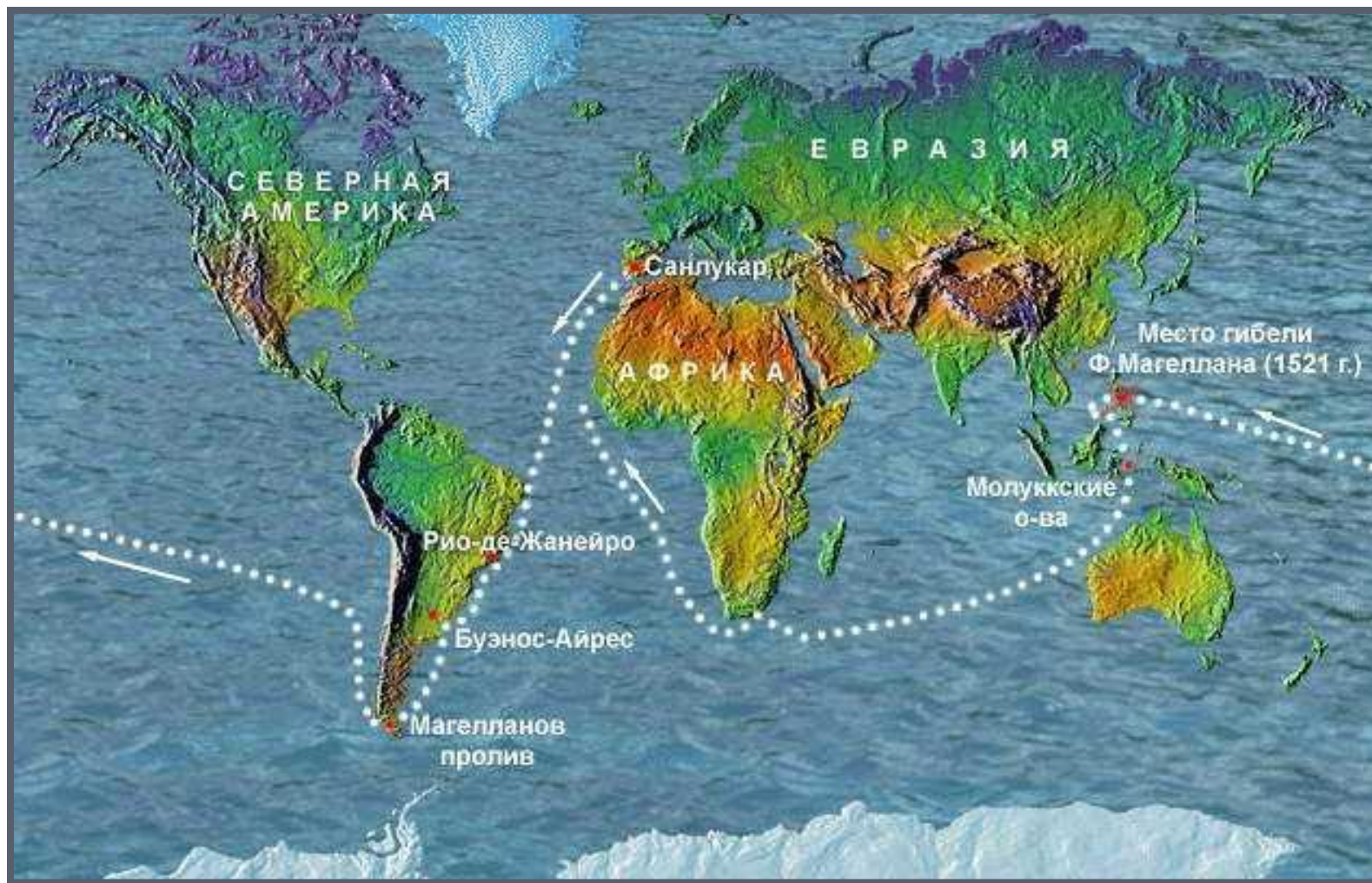


# ПУТЕШЕСТВИЕ ВАСКО ДЕ ГАМА



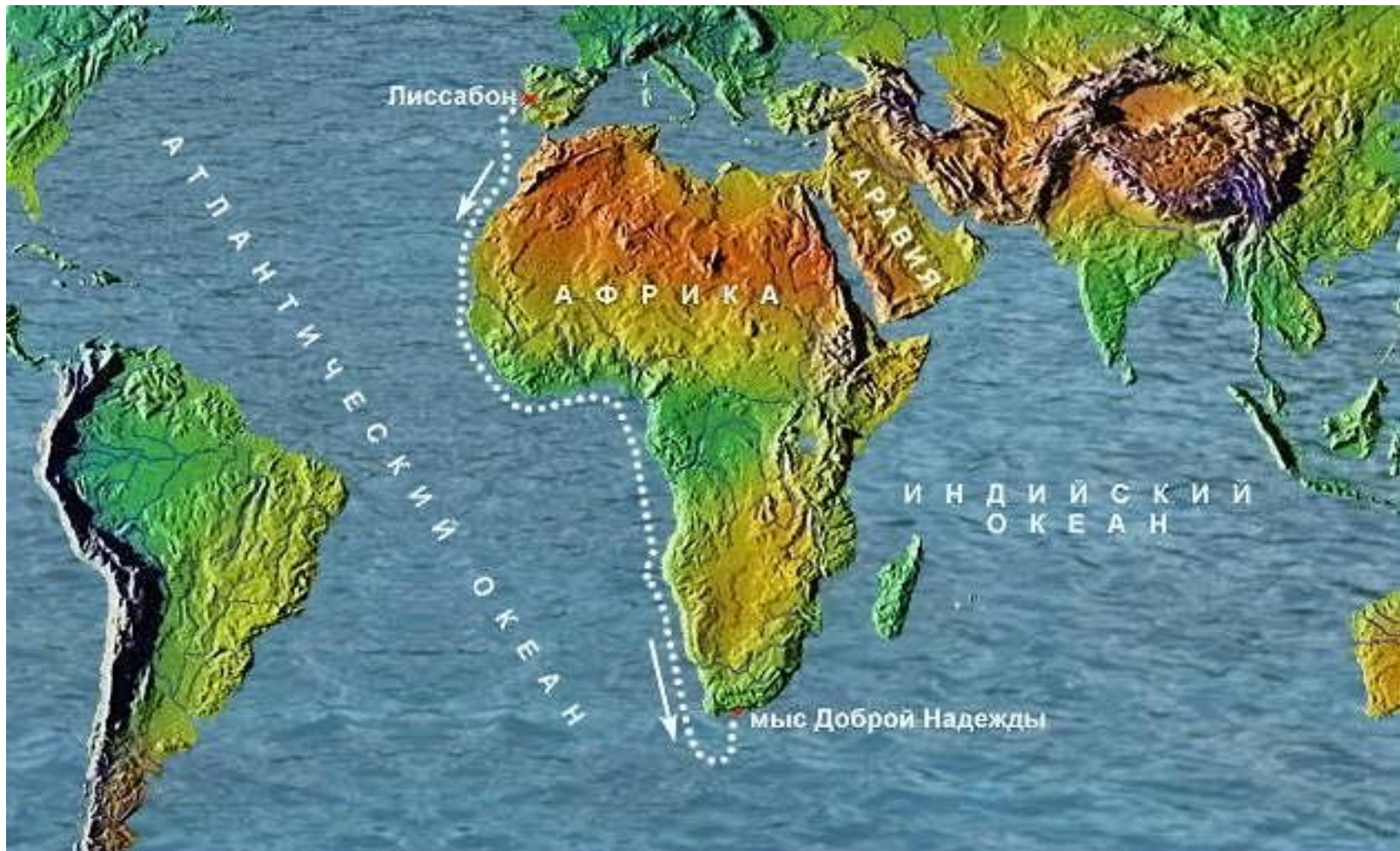


# МАГЕЛАН





# БАРТОЛЕМЕО ДИАШ



# АМЕРИГО ВЕСПУЧИ





# ЧЖЕН ХЕ













## **РАБОТА С ТЕКСТОМ**

- 1. НАЙТИ ПРИЧИНЫ ВЕЛИКИХ ГЕОГРАФИЧЕСКИХ ОТКРЫТИЙ.**
- 2. РАССТАВИТЬ ПРИЧИНЫ ПО СТЕПЕНИ ВАЖНОСТИ.**
- 3. СВОЙ ВЫБОР АРГУМЕНТИРОВАТЬ**





**КАК ВЕЛИКИЕ ГЕОГРАФИЧЕСКИЕ ОТКРЫТИЯ  
ИЗМЕНИЛИ МИР?**

**КАКИМИ БЫВАЮТ  
ИЗМЕНЕНИЯ?**



- 1. Экономические
- 2. Политические
- 3. Социальные
- 4. Культурные



## ЗАКОНЧИТЬ ФРАЗУ

Общими причинами ВГО между китайцами и европейцами было .....

Общими последствиями ВГО между китайцами и европейцами было ....

Главной, особенной причиной ВГО китайцев было .....

Главными, особенными последствиями ВГО китайцев было .....

Главной причиной ВГО европейцев было...

Главным последствием ВГО европейцев было..



Д/З ОТМЕТИТЬ ВСЕ МАРШРУТЫ НА  
КОНТУРНОЙ КАРТЕ.

Ответ по структуре **ПОПС** «Великие  
географические открытия имели  
больше положительные или  
отрицательные последствия для  
мира?»»





## РЕСУРСЫ

<http://ru.wikipedia.org/wiki>

<http://www.youtube.com/watch>

<http://youtube.com/watch?v=r7ttZbkNAts>

