

Сьогодні
08.06.2021

Урок
№ 72



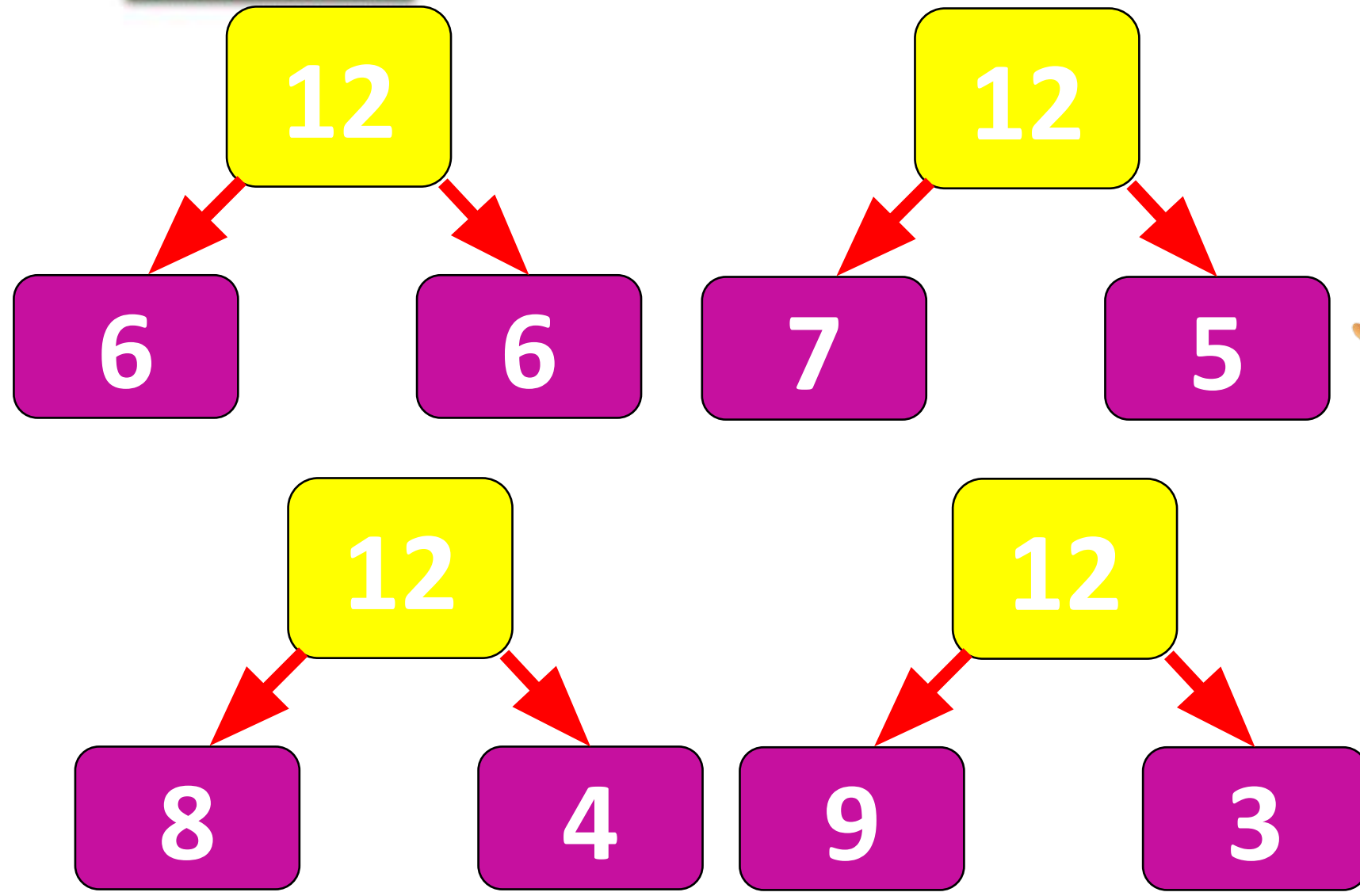
**Складання виразів із
змінною. Задача на 3
дії, яка є комбінацією
простих задач
вивчених видів**



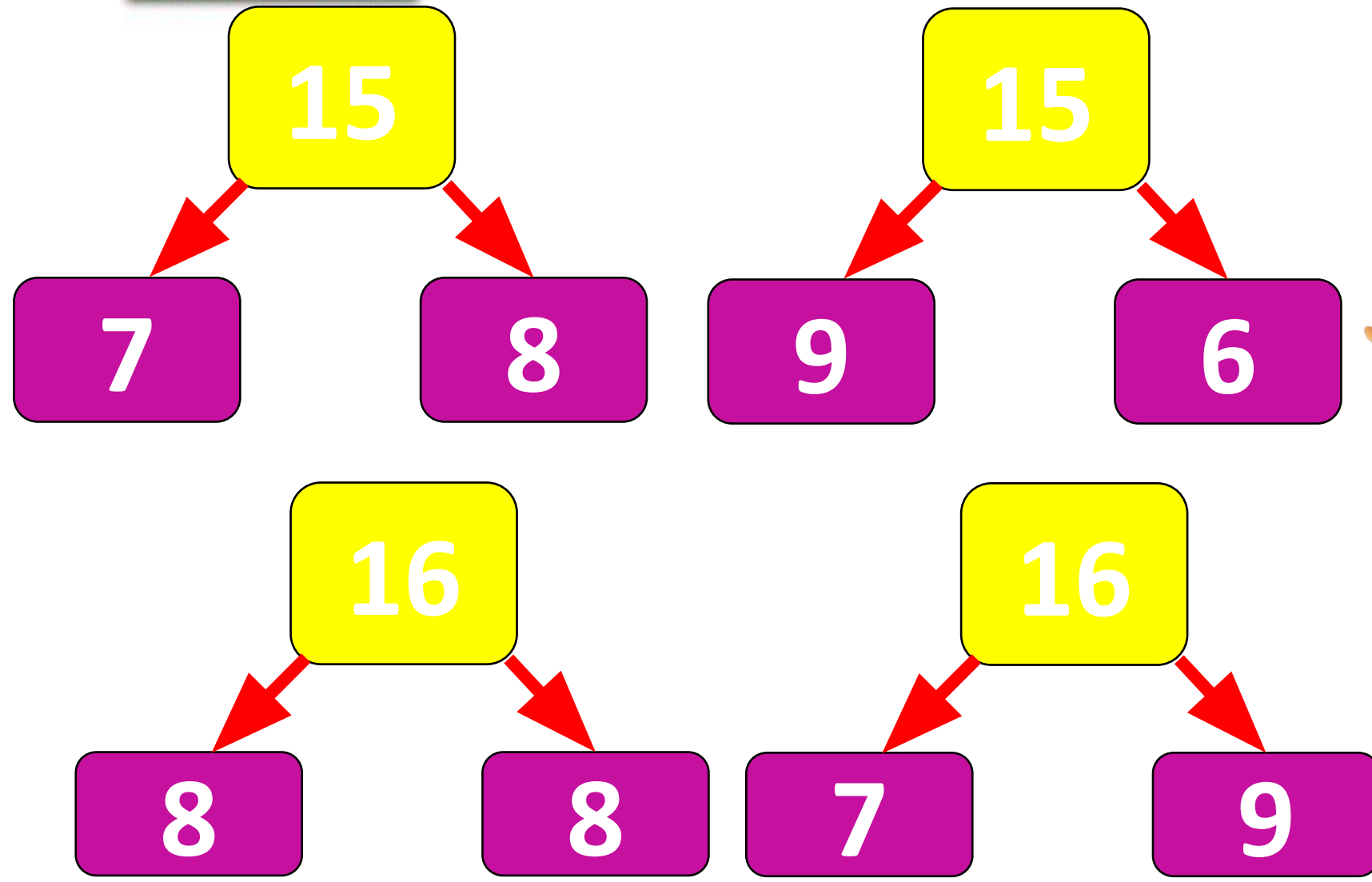


Пролунав дзвінок -
Починаємо урок.
Працюватимем
старанно,
Щоб почути у кінці,
Що у нашій дружній
класі

З яких двох одноцифрових чисел складаються числа



З яких двох одноцифрових чисел складаються числа





лютого
Класна робота

3 3 3 3 3 3 3 3 3 3 3 3



РУХЛИВА ВПРАВА!



Сьогодні
08.06.2021

**Робота з
підручником
з математики
Ольга Гісь, Ірина
Філяк
с. 158**



$$a = 11, 49, 28.$$

Збільш a на
2;

$$a+2= 11+2= 13$$

$$a+2= 49+2= 51$$

$$a+2= 28+2= 30$$

зменш a на 9.

$$a-9= 11-9= 2$$

$$a-9= 49-9= 40$$

$$a-9= 28-9= 19$$

t збільшити на 13;

$$t + 13$$

**число 80 зменшити на
p;**

$$80 - p$$

**суму чисел 21 і 6
зменшити на n;**

$$(21 + 6) - n$$

**різницю чисел 34 і 18
збільшити на n;**

$$(34 - 18) - n$$

**різницю чисел 12 і n
зменшити на 3.**

$$(12 - n) - 3$$

Сьогодні
08.06.2021

Обчисли вирази зручним способом, якщо $b = 1$.

$$b + 50 + 9 =$$

$$1 + 50 + 9 =$$

60

$$35 + b + 29 =$$

$$35 + 1 + 29 =$$

65

$$89 + 7 + b =$$

$$89 + 7 + 1 =$$

97

Сьогодні
08.06.2021

Розв'яжи задачу за запитаннями:

8 дівчат і 5 хлопців грали естафети з м'ячем. До них приєдналися ще 3 дівчинки і 5 хлопців. Кого стало більше — хлопців чи дівчат? На скільки більше?



Сьогодні
08.06.2021

1) Скільки стало
дівчаток?

$$8+3=11$$

2) Скільки стало
хлопців?

$$5+5=10$$

3) Кого стало більше —
хлопців чи дівчат?

Дівчат

На скільки більше?

$$11-10=1$$



Сьогодні
08.06.2021

1) Скільки стало
дівчаток?

$$8+9=17$$

2) Скільки стало
хлопців?

$$5+5=10$$

3) Кого стало більше —
хлопців чи дівчат?

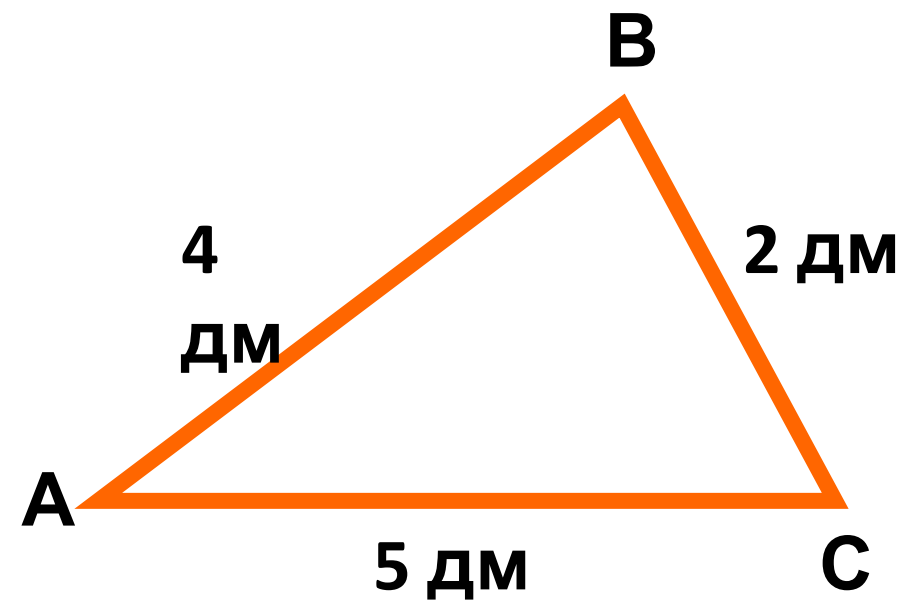
Дівчат

На скільки більше?

$$17-10=7$$



Тато приготував 20 дм шнурка, щоб огородити молоду яблуньку так, як це показано на малюнку. Скільки дециметрів шнурка залишилося в тата після огорождення яблуньки?



Задача 6

Було - 20 дм.

Обгородив - ?, 4 дм, 2 дм, 5


Залишилось - ?

Розв'язання

$$1) \quad 4 + 2 + 5 = 11 \text{ (дм)}$$

$$2) \quad 20 - 11 = 9 \text{ (дм) використав}$$

Відповідь: 9 дм залишилось у тата.



Сьогодні
08.06.2021

Порівняй

$$18 + 4 < 30 - 2$$

$$40 - 1 - 6 > 23 + 9$$


$$19 - 6 = 20 - 7$$

$$37 - 9 = 47 - 19$$

$$5 + 5 + 5 > 6 + 7$$

$$55 + 8 = 5 + 58$$

1) На кожному малюнку обері такі три числа, з яких можна скласти правильну рівність. Запиши ці рівності.



$$27+30=57$$

$$57-30=27$$

$$30+27=57$$

$$57-27=30$$


1) На кожному малюнку обері такі три числа, з яких можна скласти правильну рівність. Запиши ці рівності.

$$24 + 17 = 41$$



$$41 - 17 = 24$$

$$17 + 24 = 41$$

$$41 - 24 = 17$$



2) На скільки найменше число у зеленого жучка менше від найбільшого числа у коричневого жучка?

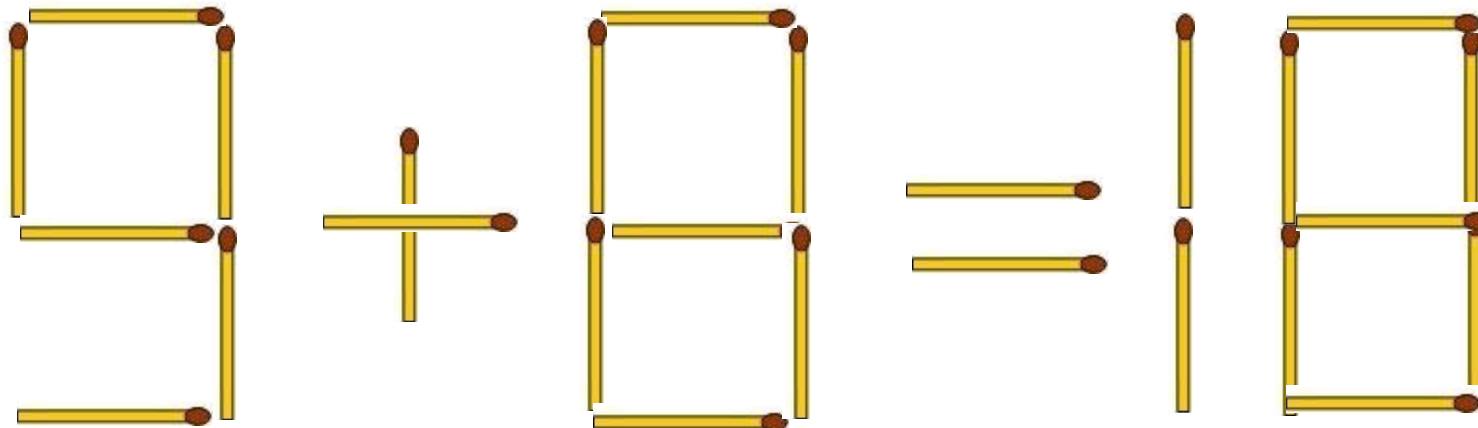
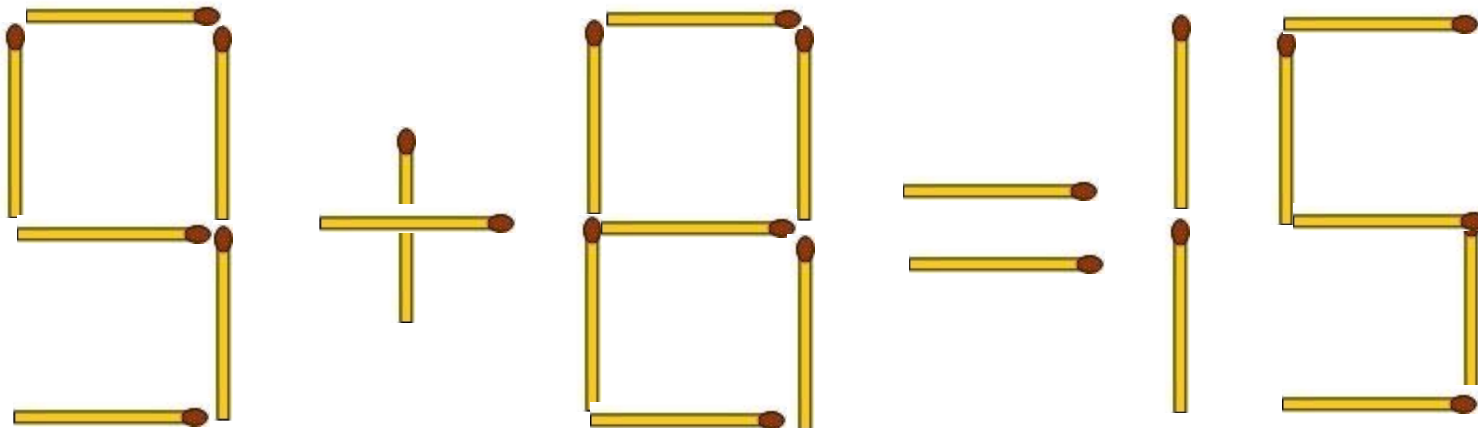


$$41 - 27 =$$

$$14$$

Сьогодні
08.06.2021

Який сірник потрібно забрати, щоб кожна рівність стала правильною?

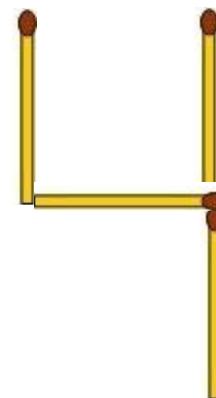
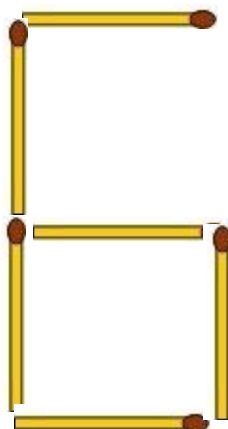
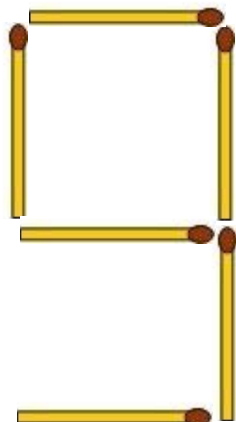
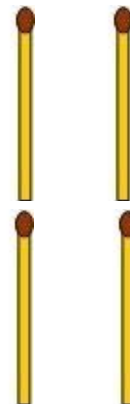
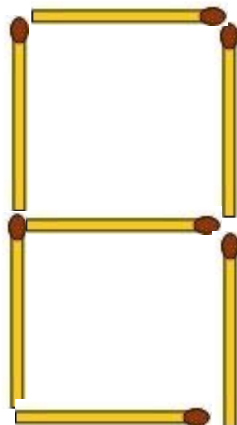
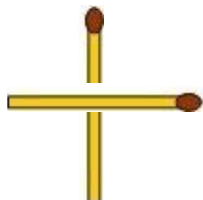
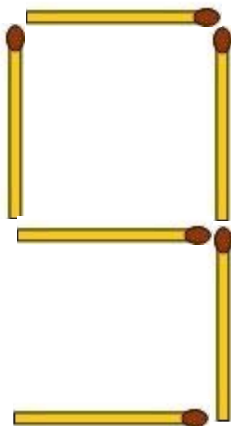


Підручник
завдання
9

Підручник
Сторінка
а
160

Сьогодні
08.06.2021

Який сірник потрібно забрати, щоб кожна рівність стала правильною?





Взято з каналу «З любов'ю до дітей». Оригінальне посилання

<https://www.youtube.com/watch?v=T7ofWPCI8-E>

Сьогодні
08.06.2021



**Робота з
ЗОШИТОМ
з математики
Ольга Гісь, Ірина
Філяк
с. 33**


У коробці в Марічки було 12 кольорових олівців і 9 простих. Марічка вийняла 8 олівців, щоб покласти в пенал, і 4 олівці – щоб дати братові. Скільки олівців залишилось в коробці у Марічки?

$$1) \quad 12 + 9 = 21 \text{ (ол.) був у}$$

$$2) \quad 8 + 4 = 12 \text{ (ол.) вийняла.}$$

$$3) \quad 21 - 12 = 9 \text{ (ол.)}$$

Відповідь: 9 олівців залишилось в



У Сашка є 45 марок. У Тараса – на 23 марки менше, ніж у Сашка. В Олега – на 18 марок більше, ніж у Тараса. Скільки марок в трьох хлопців разом?

1) $45 - 23 = 22$ (м.) у Тараса.

2) $22 + 18 = 40$ (м.) в Олега.

3) $45 + 22 + 40 = 107$ (м.) разом.

Відповідь: 107 марок у трьох хлопців.

100, 1, 99, 2, 98, 3, 97, 4

12⁹, 21¹³, 34⁹, 43¹³, 56⁹, 65¹³, 78, 87

17, 20, 25, 28, 33, 36, 41, 44, 49

Сьогодні
08.06.2021

Сума чисел в кожному стовпці і в кожному рядку дорівнює 20.
Заповни порожні клітинки.

6	2	12
0	17	3
14	1	5


3	5	12
6	13	1
11	2	7

2	4	14
13	6	1
5	10	5


Сьогодні
08.06.2021

(щоби відкрити інтерактивне завдання, натисніть на помаранчевий прямокутник)


**Відкрити онлайнове
інтерактивне завдання**



**У мене
все
ВИЙШЛО**



**Було
важко**



**Нічого не
зрозумів**

Сьогодні
08.06.2021

Рефлексія. Оберіть відповідну цеглинку лего.



*На уроці мені
дуже сподобалось.*



*На уроці мені
сподобалось.*



*На уроці мені
не сподобалось.*