




Решение задач с величинами «цена»,
«количество», «стоимость».



Математика




3



**Громко прозвенел звонок -
Начинается урок.
Наши ушки на макушке,
Глазки широко открыты,
Ни минуты не теряем,
Математику решаем.**



Устный счет



54

Устный счет



59



Устный счет



33



Устный счет



31

Устный счет



23

Устный счет



55





- Что изображено на картинке?
- Какие продукты продают в магазине?
- Какие продукты будут покупать штуками, какие упаковками, а какие килограммами?



- Цена
продукта
в овощном
магазине за
штуку или
килограмм?
- Назовите
цены
в овощном
магазине.



ЗАДАЧА

А


- Купили 1кг лука и 2кг картофеля. Сколько денег отдали за покупку?

ЦЕНА

Количество

СТОИМОСТ

Ь



$$5 \times 4 = 20$$



ЦЕНА

Количество

СТОИМОС

ТЬ



$$Ц \cdot К =$$



ЦЕНА

Количество

СТОИМОСТ

?

ь



С.22 №1

ВЫВОД:

ЦЕНА

Количество

СТОИМОС

C : K

= Ц

C : Ц

= K

ТЬ

Ц • K

= C

Физ.минутка

Раз - подняться, потянуться

Два - согнуться, разогнуться

Три - в ладоши три хлопка,

Головою три кивка.

На четыре - руки шире,

Пять - руками помахать,

Шесть - за парту тихо сесть.





С.22 №2

2. Запиши числа от 1 до 30. Обведи кружками числа, которые делятся на 3 без остатка.

Проверка.

1, 2, 3, 4, 5, 6, 7, 8, 9, 10, 11, 12, 13, 14, 15, 16, 17, 18, 19,
20, 21, 22, 23, 24, 25, 26, 27, 28, 29, 30.

КАКОЕ
ЧИСЛО
ЛИШНЕЕ?



- Какое правило соблюдается ?
- Какое число не подходит?
- Какое число должно быть ?





С.22 №3№4

3. Реши уравнения, подбирая значения x .
 $12 + x = 13$ $14 : x = 2$ $6 \cdot x = 18$

4.

c	5	6	7	8
$c \cdot 2$				


m	18	15	12
$m : 3$			

С.22 №5 самостоятельно

Оцени себя на уроке.



У меня хорошо
получалось...

У меня вызвало
затруднение...



В тетради я старался

Моё настроение ...



МОЛОДЦЫ!



ССЫЛКИ

<https://www.fingram39.ru/upload/iblock/f62/f62ac6dd7e1c5e026a61c95b99ed2bf7.png> копилка

https://www.vippng.com/png/full/194-1946929_administration-clip-art-teacher-owls.png сова

<https://upload.wikimedia.org/wikipedia/commons/thumb/6/6a/Russia-Coin-5-2009-a.png/1200px-Russia-Coin-5-2009-a.png> 5 рублей

https://static.imperial-mag.ru/upload/shop_3/2/1/2/item_21261/item_image21261.jpg 2 рубля

https://cdn.monetnik.ru/storage/market-lot/29/61/180729/615146_mainViewLot.jpg 10 рублей

https://cdn.monetnik.ru/storage/market-lot/47/70/75247/208057_big.jpg 1 рубль

<https://eus-www.sway-cdn.com/s/ISlWoZU0sNU6chjp/images/SQacZ8bj1bWzcA?quality=1080&isThumbnail=True>
карандаш

https://rabochaya-tetrad-uchebnik.com/matematika/uchebnik_matematika_3_klass_moro_chastj_1/113.jpg учебник

<https://www.factroom.ru/wp-content/uploads/2017/06/800-34.jpg> мальчик

https://www.clipartmax.com/png/full/80-800814_start-school-clipart.png девочка

https://st.depositphotos.com/2885805/4863/v/950/depositphotos_48634049-stock-illustration-supermarket-shelves-food-and-drinks.jpg прилавок магазина

https://mir-s3-cdn-cf.behance.net/project_modules/1400/e506b835218099.56ee8fbec1ecc.jpg овощной магазин