


ВТОРОЙ И ТРЕТИЙ ПРИЗНАКИ РАВЕНСТВА ТРЕУГОЛЬНИКОВ

7 КЛАСС



НО СВОЕОБРАЗНУЮ УСТОЙЧИВОСТЬ, СТАБИЛЬНОСТЬ И СОВЕРШЕНСТВО ЧИСЛА 3 ЛЮДИ ОЦЕНИВАЛИ И ВЫДЕЛЯЛИ ДАВНО.

Об этом говорят сказки.

- Там мы встречаем «Три медведя», «Три ветра», «Три поросенка», «Три товарища», «Три брата», «Три счастливица», «Трое умельцев», «Три царевича», «Три друга», «Три богатыря» и др.
- Там даются «три попытки», «три совета», «три указания», «три встречи», исполняются «три желания», нужно потерпеть «три дня», «три ночи», «три года», пройти через «три государства», «три подземных царства», выдержать «три испытания», проплыть через «три моря».



ПОВТОРЕНИЕ:

*Два треугольника называются **равными**, если совмещаются наложением*

- Первый признак равенства (по двум сторонам и углу между ними)

Если две стороны и угол между ними одного треугольника соответственно равны сторонам и углу между ними другого треугольника, то такие треугольники равны

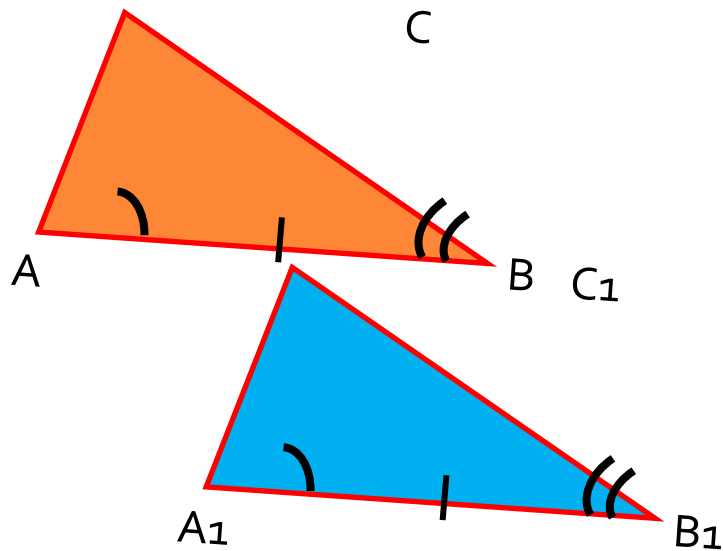


ВТОРОЙ ПРИЗНАК РАВЕНСТВА ТРЕУГОЛЬНИКА

ТЕОРЕМА:

ЕСЛИ СТОРОНА И ДВА ПРИЛЕГАЮЩИХ К
НЕЙ УГЛА ОДНОГО ТРЕУГОЛЬНИКА
СООТВЕТСТВЕННО РАВНЫ СТОРОНЕ И
ДВУМ ПРИЛЕЖАЩИМ К НЕЙ УГЛАМ
ДРУГОГО ТРЕУГОЛЬНИКА, ТО ТАКИЕ
ТРЕУГОЛЬНИКИ РАВНЫ.





ДАНО: $\triangle ABC$, $\triangle A_1B_1C_1$

$$AB = A_1B_1$$

$$\angle A = \angle A_1$$

$$\angle B = \angle B_1$$

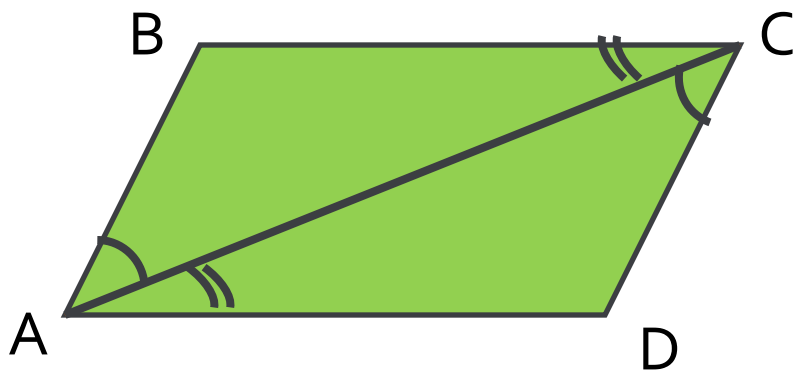
ДОКАЗАТЬ: $\triangle ABC = \triangle A_1B_1C_1$

Доказательство:

1. Наложим $\triangle ABC$ на $\triangle A_1B_1C_1$ так, чтобы вершина A совместилась с вершиной A_1 , сторона AB с равной стороной A_1B_1 , а вершины C и C_1 оказались по одну сторону от прямой A_1B_1 .
2. Т. к. угол A равен углу A_1 и угол B равен углу B_1 , то лучи равных углов, и вершины C и C_1 совпадут.
3. Значит, $\triangle ABC$ наложится на $\triangle A_1B_1C_1$, т. е.
 $\triangle ABC = \triangle A_1B_1C_1$



РЕШЕНИЕ ЗАДАЧ

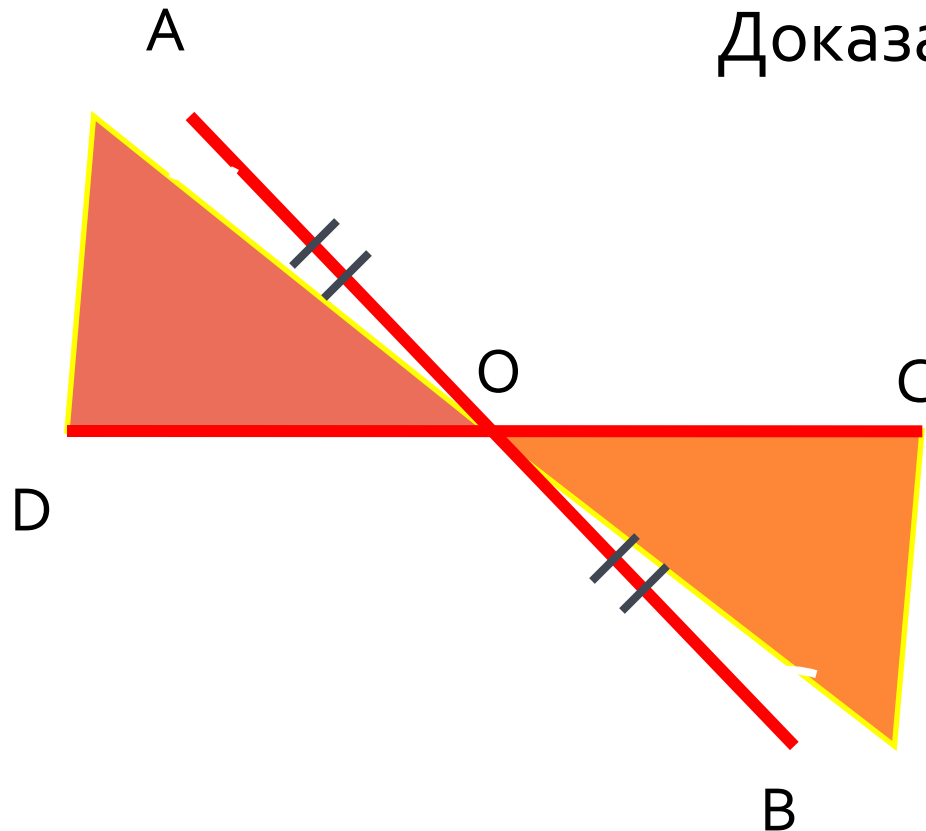


Доказать: $\triangle ABC = \triangle CDA$



РЕШЕНИЕ ЗАДАЧ

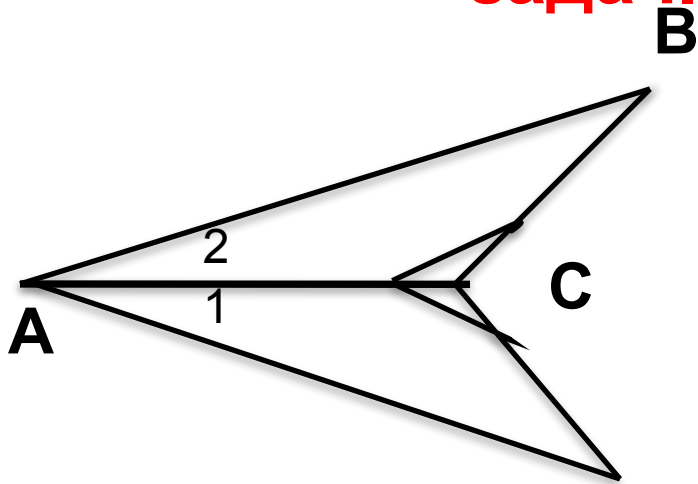
Доказать: $\triangle AOD = \triangle BOC$



- 2) Найти BC и CO , если
 $OD = 23$ см и $DA = 30$ см



**Решение
задач.**



ДАНО:
 $\angle ACB = \angle ACD$,
AC-биссектриса
 $\angle BAD$.

Доказать:
Доказательство:

1. $\triangle ABC = \triangle ADC$
1. AC-общая

2. $\angle ACB = \angle ACD$ } по
усл.

3. $\angle 1 = \angle 2$ } по свойству
биссектрисы

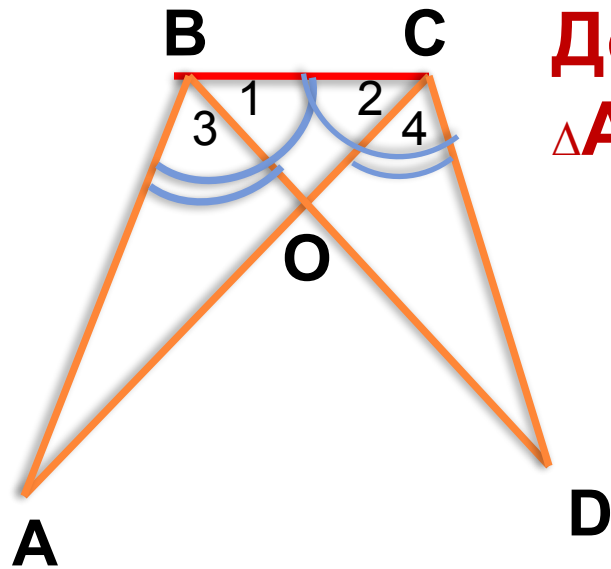
$\triangle ABC = \triangle ADC$ ч.

т.д.

Следовательно

,





Дано: $\angle 1 = \angle 2$; $\angle 3 = \angle 4$.

Доказать: $\triangle ABC = \triangle DCB$;

$\triangle ABO = \triangle DCO$.

Доказательство:

1. BC - общая

2. $\angle B = \angle C$, т.к. $\angle 1 + \angle 3$
 $= \angle B$;

$\angle 2 + \angle 4$

$= \angle C$
 $\triangle ABC = \triangle DCB$

3. $\angle 1 = \angle 2$ по условию.

$\Rightarrow BO = CO$

2. $\angle 3 = \angle 4$ (по условию)

3. $AB = CD$ (т.к. $\triangle ABC = \triangle DCB$) \Rightarrow

$\triangle ABO = \triangle DCO$ по 1 признаку равенства

треугольников



ТРЕТИЙ ПРИЗНАК РАВЕНСТВА ТРЕУГОЛЬНИКОВ

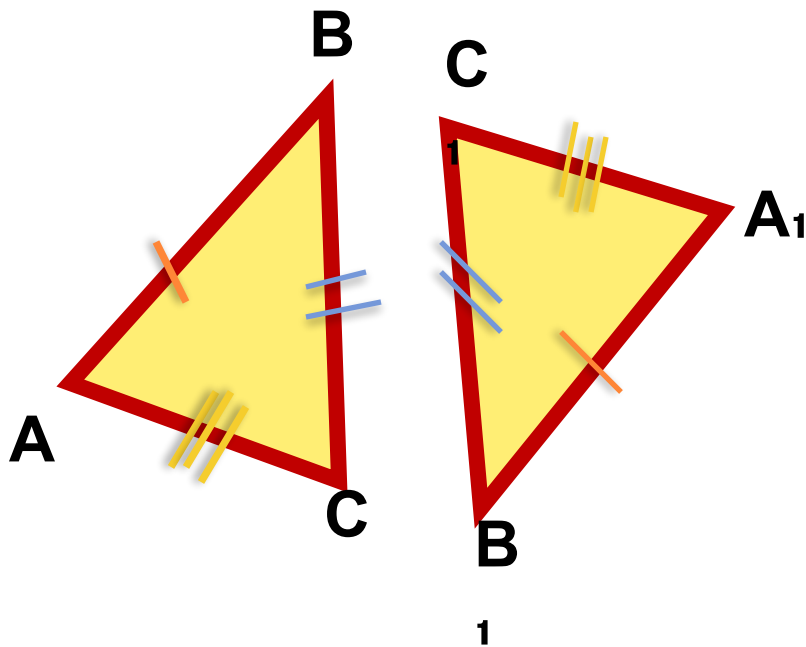
Если три стороны одного треугольника соответственно равны трем сторонам другого треугольника, то такие треугольники равны.



Дано: $\triangle ABC$, $\triangle A_1B_1C_1$,
 $AB=A_1B_1$, $BC=B_1C_1$, $AC=A_1C_1$.
Доказать: $\triangle ABC = \triangle A_1B_1C_1$

Доказательство:

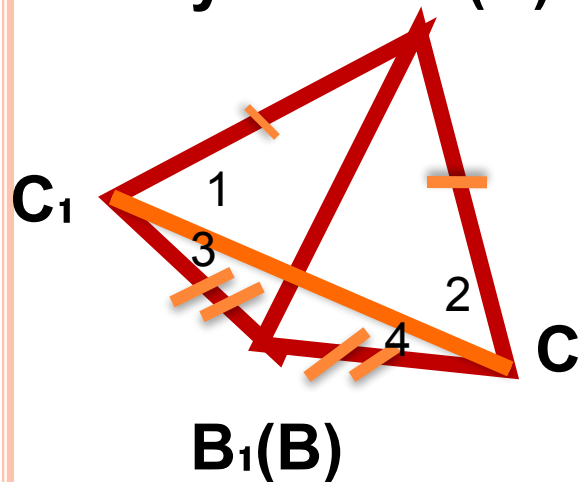
Приложим $\triangle ABC$ к $\triangle A_1B_1C_1$ так, чтобы AB совместилась с B_1A_1 , а вершины C и C_1 находились по разные стороны от прямой A_1B_1 .



Возможны три случая:

1.

случай $A_1(A)$



$\triangle CA_1C_1$ и $\triangle CB_1C_1$ - равнобедренные,
 $\Rightarrow \angle 1 = \angle 2; \angle 3 = \angle 4;$

$\angle ABC = \angle A_1B_1C_1,$

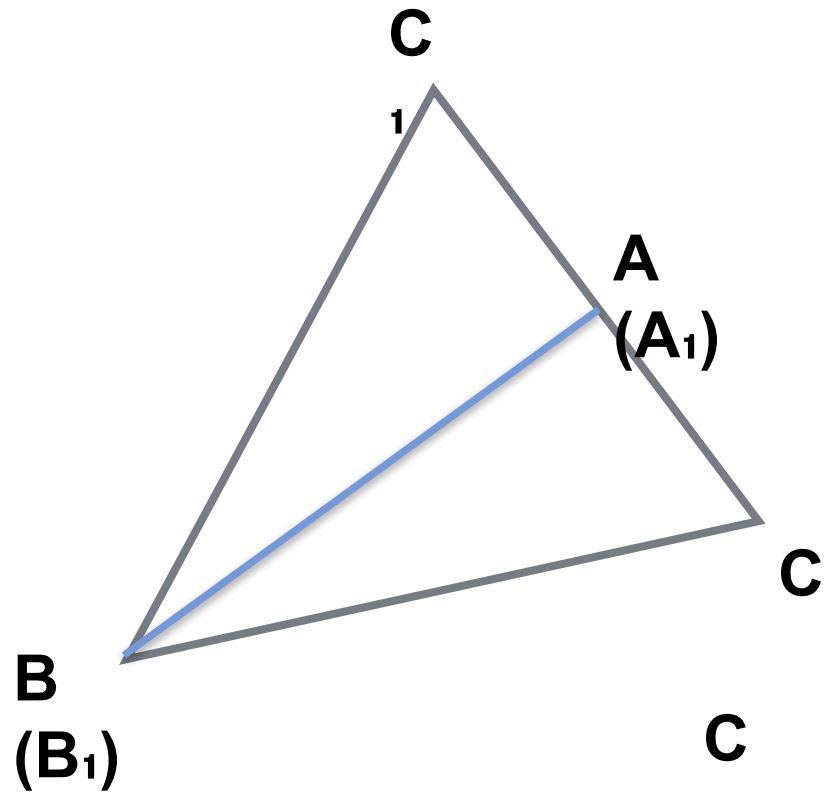
т.к. $\angle ABC = \angle 2 + \angle 4,$

$\angle A_1B_1C_1 = \angle 1 + \angle 3;$

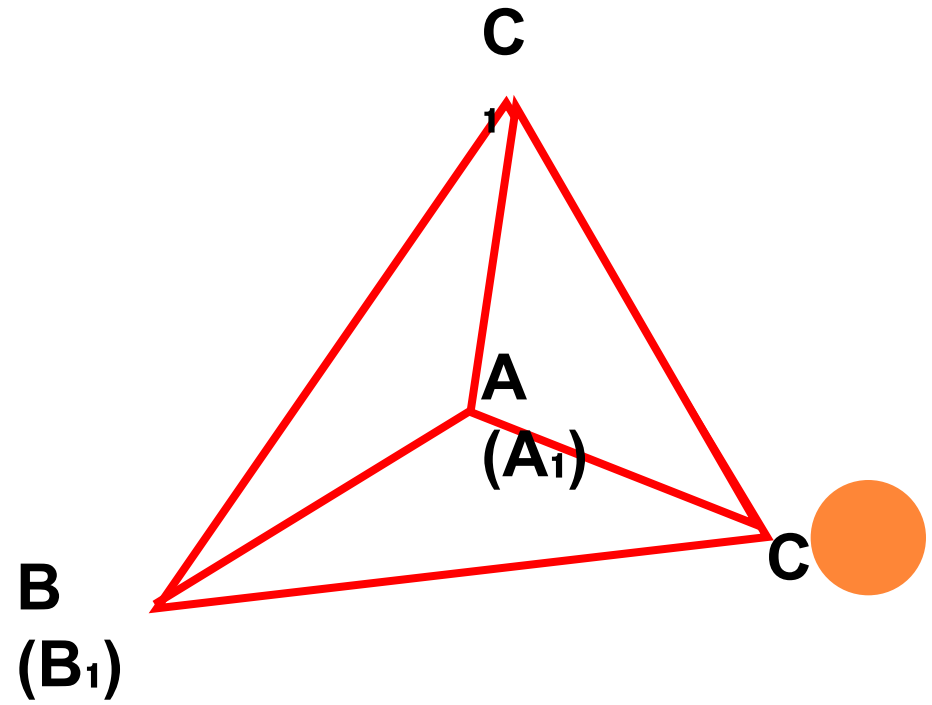
$\Rightarrow \triangle ABC = \triangle A_1B_1C_1$ (по первом признаку равенства треугольников)



2.
случай



3.
случай



ПРИЗНАКИ РАВЕНСТВА ТРЕУГОЛЬНИКОВ

I признак



=



II признак



=



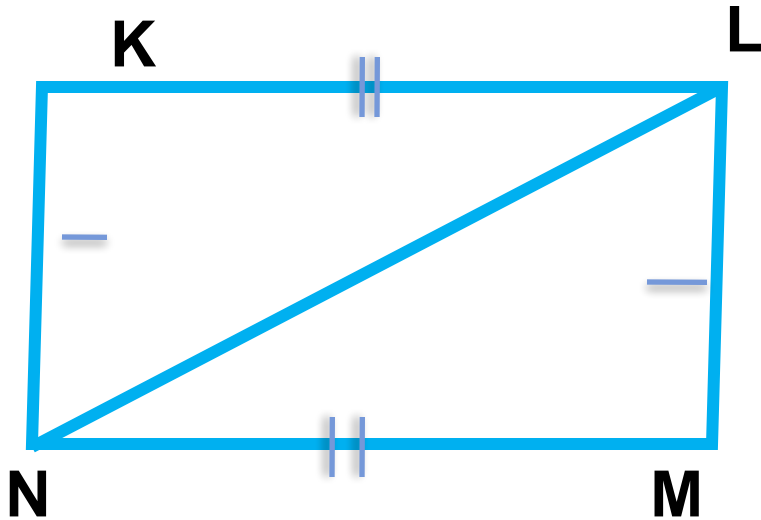
III признак



=



Решение задач.



Дано: $P_{KLN}=21$ см, $P_{KLMN}=26$ см.

Найти: NL.

Решение:

1. $\triangle KLN = \triangle NML$ (по третьему признаку равенства треугольников:

1. $NK = LM$

2. $KL = NM$ } (по условию)

3. NL-общая

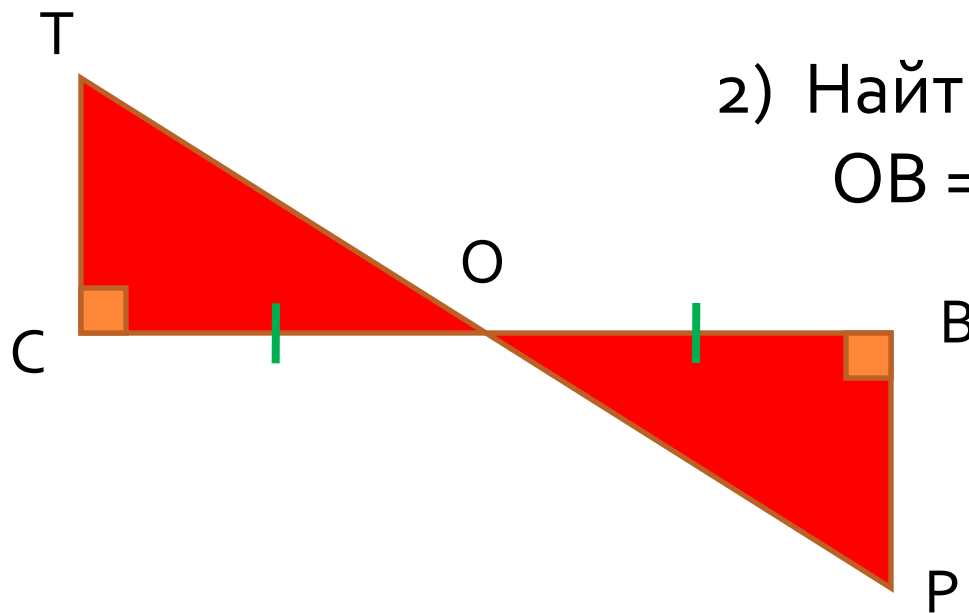
2. $LN = P_{KLN} - \frac{1}{2}P_{KLMN} = 21 - \frac{1}{2} \cdot 26 = 21 - 13 = 8$ (см)

Ответ: 8
см.



РЕШЕНИЕ ЗАДАЧ

1) Доказать: $\triangle TCO = \triangle PVO$

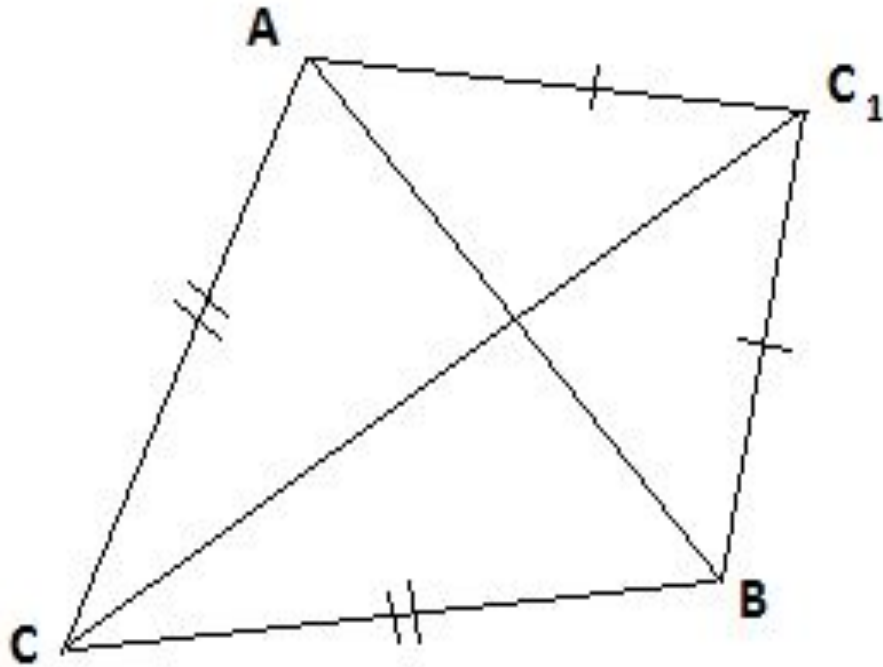


2) Найти OC и TC , если
 $OV = 5$ дм и $VP = 30$ см



ЗАДАЧА № 1

Треугольники ABC и ABC_1 равнобедренные с общим основанием AB . Докажите равенство треугольников ACC_1 и BCC_1 .



ЗАДАНИЕ

Распределите все чертежи на группы:

- 1) Равные треугольники по первому признаку**
- 2) Равные треугольники по второму признаку**
- 3) Равные треугольники по третьему признаку**
- 4) Треугольники не равны или невозможно определить**



