

**Формирование элементарных
математических представлений в
старшей группе.**

**Тема: «Число пять на острове
сокровищ»**

**Цель: совершенствование умения
составлять число 5 из единиц,
развитие умения двигаться в заданном
направлении и называть дни недели.**


**Задачи: совершенствовать умение
составлять число 5 из единиц;
упражнять в умении двигаться в
заданном направлении;
закреплять умение последовательно
называть дни недели, определять.
Какой день недели сегодня, какой был
вчера, какой будет завтра.**

Подготовила:

воспитатель 1 кат.

Алексеева Ю.Н.

А чтобы отправиться в путешествие нам необходимо взять с собой вот такое количество пр



1



1



1



1



1

Сколько единиц мы взяли? Как составили число? Какой цифрой можно обозначить это число?

Физминутка

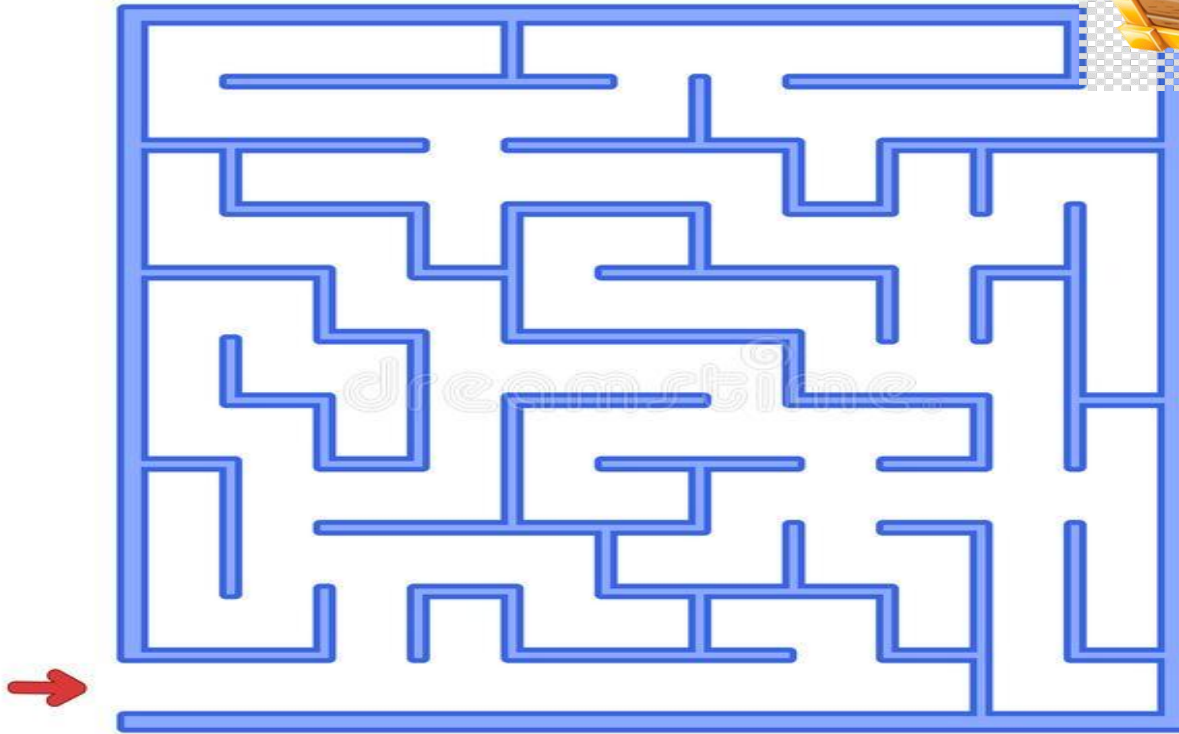
Гриша шел — шел — шел,
Белый гриб нашел.
Раз-грибок,
Два — грибок,
Три — грибок,
Положил их в кузовок.




Ну что ж, теперь мы готовы. Надеваем рюкзаки, очки, шляпу, берём компас и в дорогу! Чтобы найти сокровища, что нам нужно? (Карта.)




**Рассмотрите внимательно ориентиры движения.
Нужно пройти лабиринт проговаривая направления
своего движения. Ребята, что мы нашли? А как вы
думаете, что дороже, драгоценные камни или хорошее
настроение и улыбки друзей?**



**Одно сокровище мы нашли, а теперь давайте
искать дальше**



**Ребята, что это? А что дороже, много
золота или доброе сердце и любовь друзей?**



Ой, на сундуке, что-то написано. А какой сегодня день недели? Как мы можем это проверить?


А КАКОЕ ВРЕМЯ ГОДА

ВРЕМЯ СЕЙЧАС? ГОДА

1 год = 12 месяцев

1 месяц ≈ 4 недели

1 неделя = 7 дней



1 день = 24 часа



**Давайте
рассмотрим
календарь и
назовем
каждый день
недели.**

**Задание:
№1 Покажите
на календаре,
какой сегодня
день недели и
назовите
его?**

**№2 Покажите
и назовите,
какой день
недели был
вчера?**

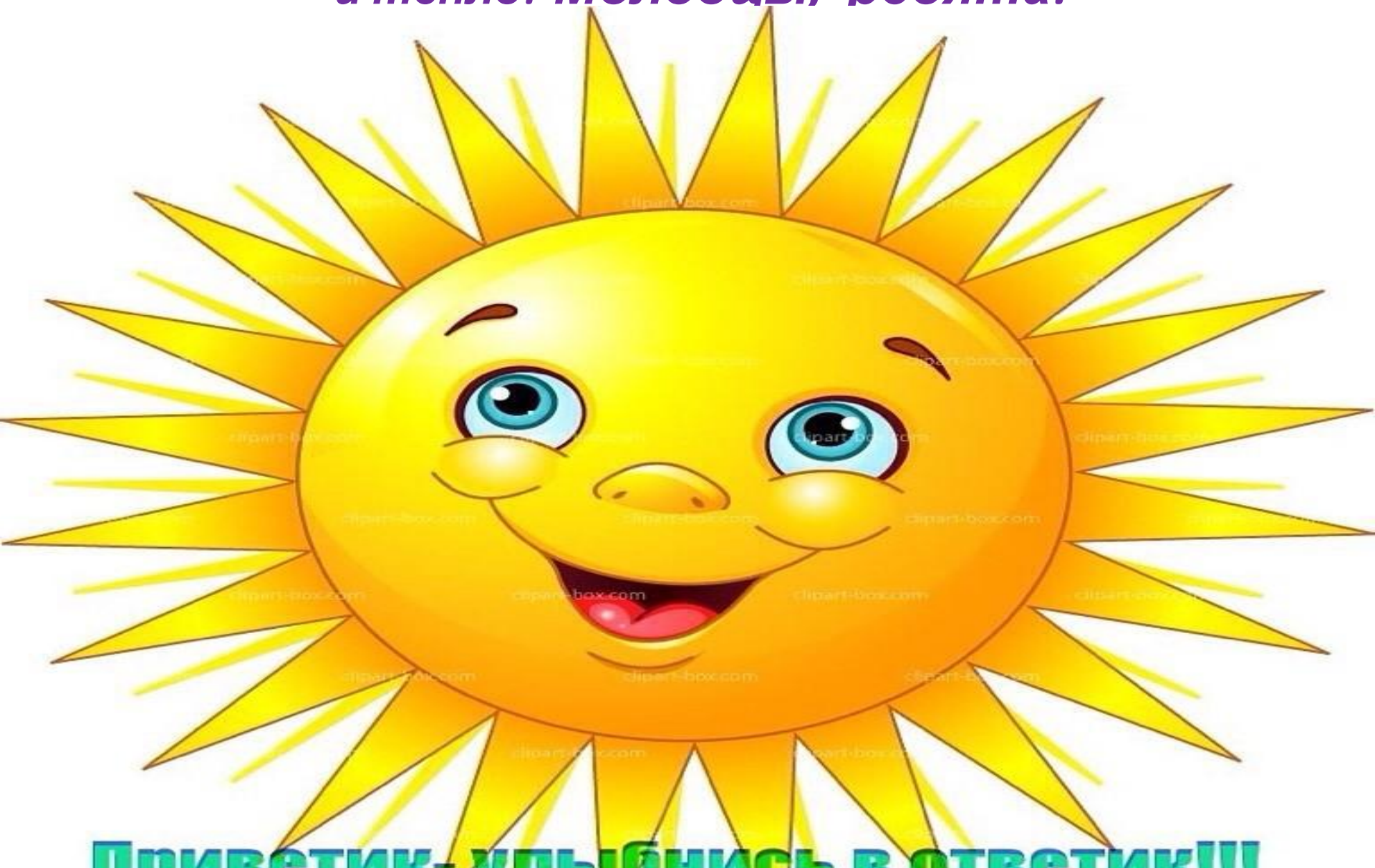
**№3 Покажите
и назовите,
какой день
недели будет
завтра?**



Апрель 2020

ПОНЕДЕЛЬНИК	ВТОРНИК	СРЕДА	ЧЕТВЕРГ	ПЯТНИЦА	СУББОТА	ВОСКРЕСЕНЬЕ
		1	2	3	4	5
6	7	8	9	10	11	12
13	14	15	16	17	18	19
20	21	22	23	24	25	26
27	28	29	30			

А вот что оказалось в третьем сундуке! Как вы думаете, что дороже много денег или солнечный свет и тепло? Молодцы, ребята!



Приветик - улыбнись в ответик!!!