


Какие геометрические фигуры нарисовал карандаш?



Геометрия- это
таинственная страна, где
живут точки, прямые
линии, прямоугольники,
квадраты, треугольники и
еще много-много других
фигур

Олег Кургузов «Полезный прямоугольник»



«Решение задач с
геометрическим
содержанием»

РАЗМИНКА



Ребусы

Р 1 на

Родина

ПО 2 Л

Подвал

С з ж

Стриж

40 А

Сорока










**Сколько
треугольников
изображено на
рисунке?**



Сколько всего
треугольников?

10



Сколько всего
прямоугольников?

9



СКОЛЬКО ВСЕГО

КЕ

1
4





Какую форму имеет беговая дорожка?

Кто сколько пробежал?

Узнайте длину беговой дорожки?


30

12

25


18

Танграм



Соберите картинку. Хитрая плутовка,
рыжая головка,
Хвост пушистый -
краса!


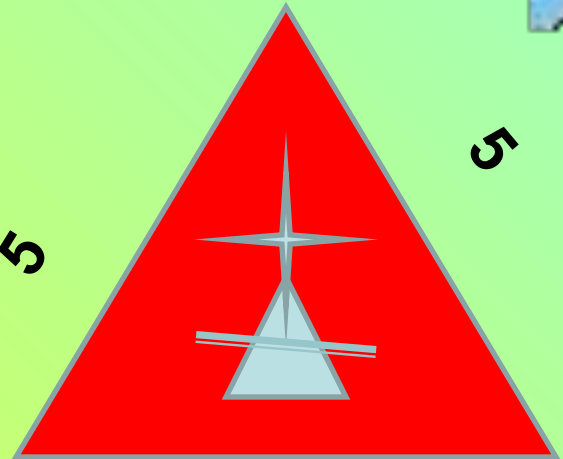

А зовут ее...
(Лиса)



«Страна

У какого королевства самая длинная граница?

Геометрия»





Практическое

задание

Начерти друг за другом *треугольник*, *прямоугольник* и *квадрат* так, чтобы *зелёный треугольник* был между *синим прямоугольником* и *красным квадратом*, а квадрат был на первом месте.

Проверь себя:



Какие из данных фигур являются
ломанными линиями?

V

O

N

S

Z

C

M

ПОМОГИТЕ УЗНАТЬ ПЕРИМЕТР

КРЕММ



13

М

10

М

М

10



13 м



УГЛ



Ы

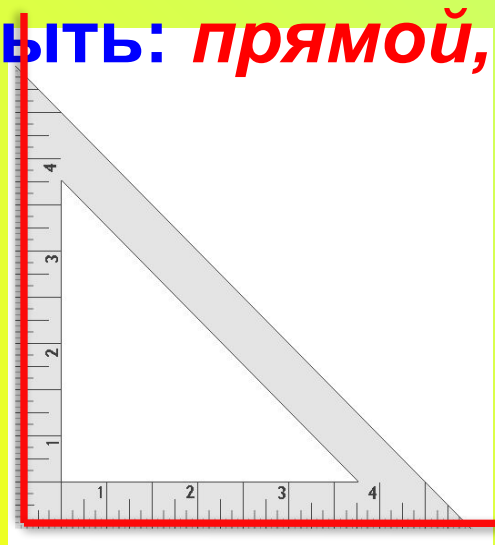
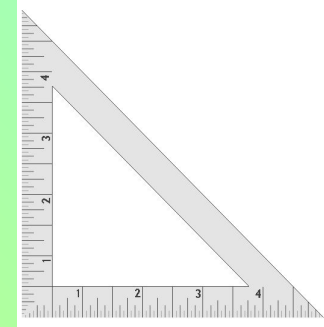
*Я с детства не любил
овал.*

*Я с детства угол
рисовал...*

П. Коган



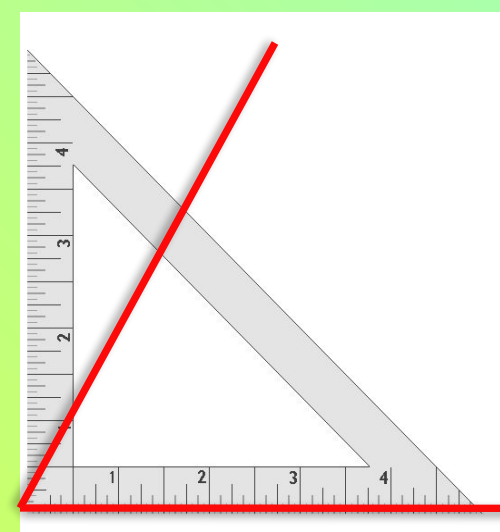
Отгадайте загадку:
И понимает каждый
школьник, *Угольники*
Что очень нужен мне..к
Угол может
быть: *прямой, тупой, острый.*



*прямой
угол*



*тупой
угол*



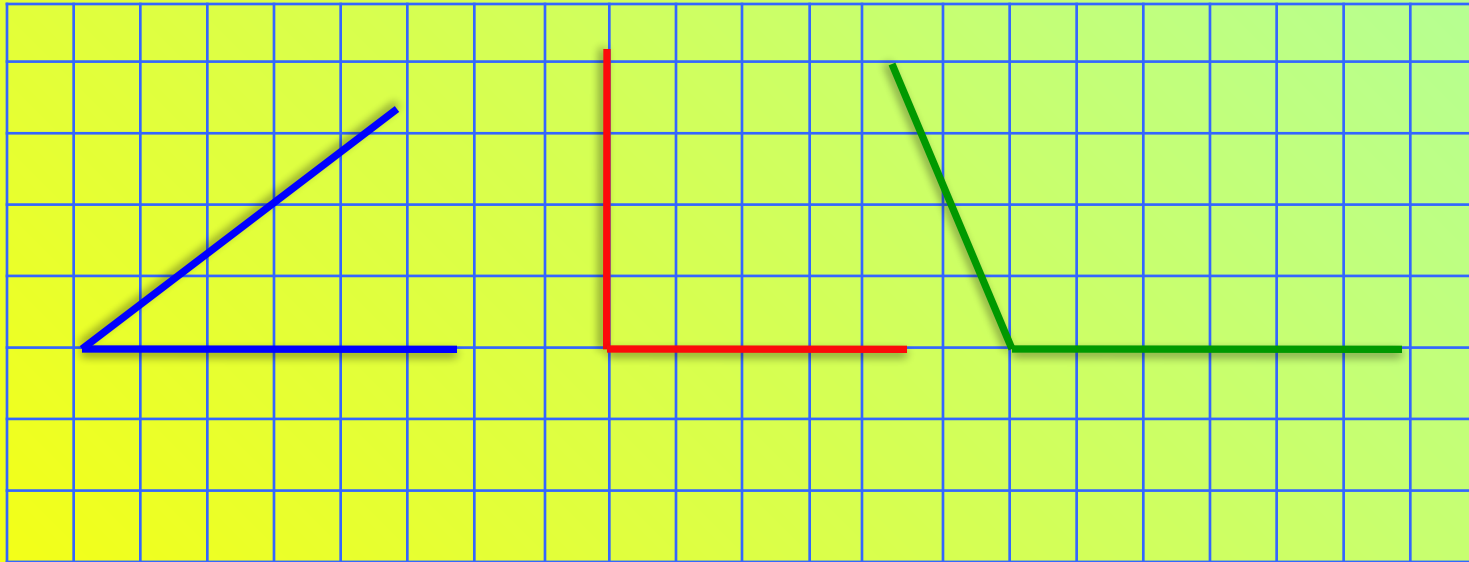
*остры
й угол*

Отгадайте загадку:

Он и острый, да не нос,
И прямой, да не вопрос,
И тупой он, да не ножик,
-Что еще таким быть может?




Угол

Задание. *Начертите все виды углов.*



*Назовите
углы?*

Дорисуй каждую из этих фигур так, чтобы превратить её в тот или иной предмет?



**А что
нарисовали
вы?**

