

Я И МОЙ ГОРОД

Игра-путешествие по
г. Абакану с правилами
безопасности

для
учащихся 8-9 классов

Правила игры

1. Внимательно читать вопросы.
2. Совершить безопасное путешествие по г. Абакану.
3. С помощью своих знаний и жизненного опыта ответить на предложенные вопросы.
3. Записать ответы в путевом листе.

Вопрос-1

Найди герб города Абакана



1



2



3



4



5

Вопрос-2

Как называется эта стела?



Вопрос-3

Какой вид перекрёстка расположен в данном месте?

А.- Четырехсторонние; Б. - Т -образный; В. -Х-образный;
Г. - Y-образный; Д. -Круговой.



Вопрос-4



Как называется это инженерное сооружение?

- А . Пешеходный переход.
- Б . Пешеходная дорожка
- В . Надземный пешеходный переход
- Г . Подземный пешеходный переход



Вопрос-5

На какой улице расположено данное сооружение?



Вопрос-6

Какой вид пешеходного перехода расположен на ул. Ленина ?
(смотри на фото)

А . Регулируемый

Б. Нерегулируемый




Вопрос-7

Как называется выделенный знак?

А. Неровная дорога

Б. Искусственная неровность



Вопрос-8

На каком рисунке изображена дорожная ловушка?



Вопрос-9

Как называется объект, который находится за фонтаном на втором плане?




Вопрос-10

Какая опасность социального характера может возникнуть на данном участке улиц в случае резкого изменения погоды, например, если возникнет гроза и град ?



Вопрос-11

Задание. Кто из девочек нарушает правила.



Вопрос-12

Где можно переходить через железнодорожные пути?

А . Там, где тебе удобно;

Б . Не искать перехода, а просто подлезть под вагоны или перелезть через автосцепки;

В. Только в установленных местах, пользоваться при этом пешеходными мостками, тоннелями, переходами, а там где их нет - передвигаться по настилам и в местах, где установлены указатели «Переход через пути».



Вопрос-13

Опасное время — это время значительного повышения риска для личной безопасности. Из приведенных примеров определите наиболее опасное время и место:

- А) темнота, спускающаяся на центр города, где люди непринужденно прогуливаются и отдыхают;
- Б) сумерки, заставшие человека одного в лесопарке;
- В) раннее утро в заполненной людьми пригородной электричке;
- Г) вечернее время на остановке общественного транспорта.



Вопрос-14

Девушка заходит в свой подъезд, слышит громкие крики, смех, шум и понимает, что этажом выше на лестничной площадке находится компания молодежи. Выберите из предлагаемых вариантов действий тот, который могли бы посоветовать девушке:

- А) спокойно подниматься домой, но при этом проявлять осторожность;
- Б) ждать, пока они уйдут;
- В) дождаться взрослого знакомого человека, входящего в подъезд, и попросить проводить до квартиры либо позвонить родителям, чтобы встретили;
- Г) дойти до молодежной компании, может среди них окажется знакомые юноши или девушки, завести с ними непринуждённый разговор.



Вопрос-15

Какая дорожная ловушка изображена на фото?






Вопрос-16

Как правильно обходить общественный транспорт?

А. Машины, автобусы или троллейбусы нужно обходить сзади.

Б. Подождать, когда транспорт отъедет от остановки, тогда дорога будет хорошо видна в обе стороны, после этого переходить дорогу.

В. Дойти до ближайшего пешеходного перехода и перейти дорогу на зелёный сигнал светофора.



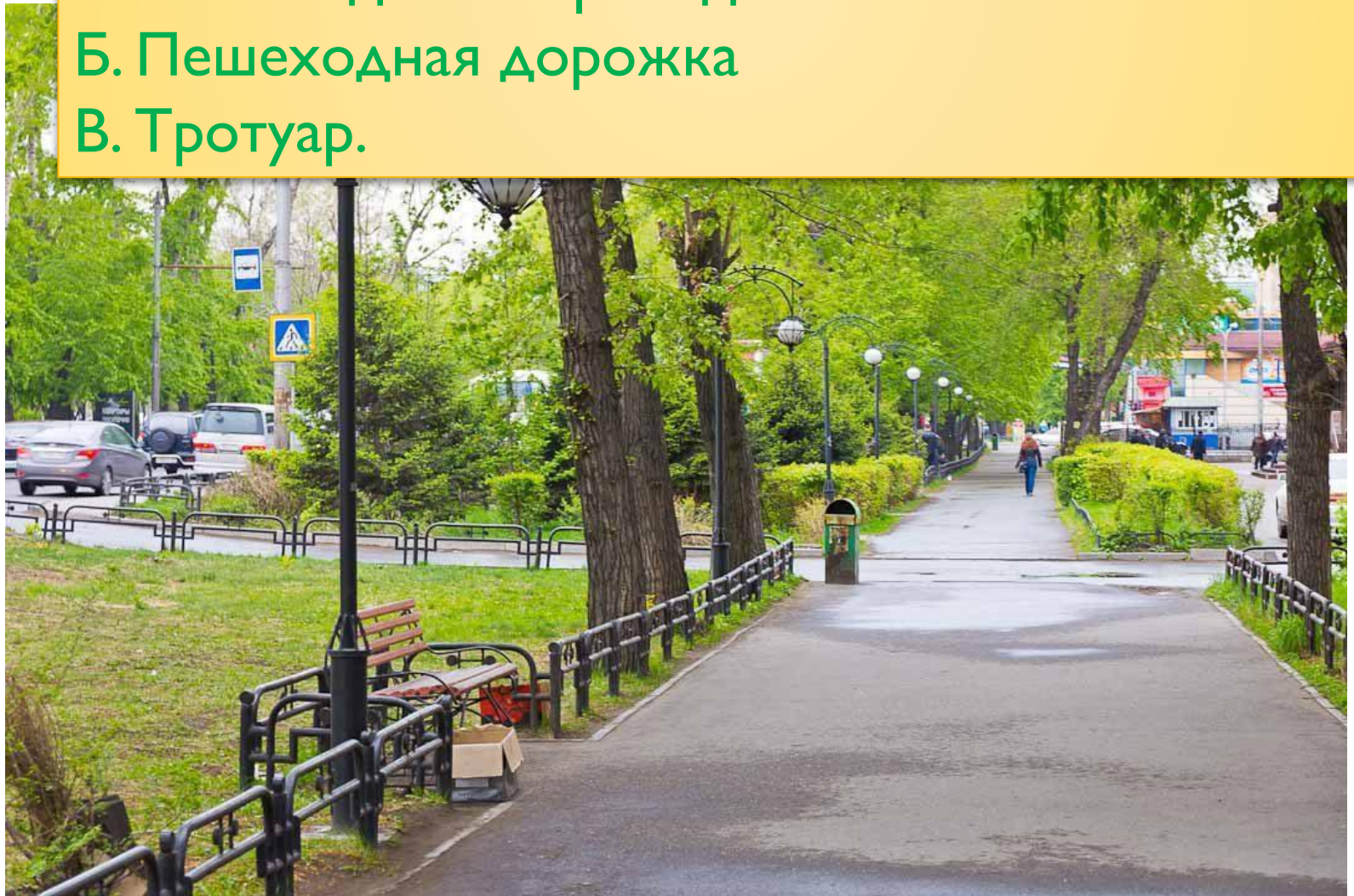
Вопрос- 17

Как называется данное место на фото?

А. пешеходный переход.

Б. Пешеходная дорожка

В. Тротуар.



Вопрос-18

Первое, что надо сделать, перед запуском фейервека?

А. Хорошо ознакомиться с инструкцией.

Б. Надёжно установить фейерверк, что-бы он не опрокинулся.

В. Проверить наличие поблизости огнетушителя, или банки с водой.

Г. Установить ограждение, вокруг фейерверка.

Д. Отвести всех людей на безопасное расстояние.



**СОБЛЮДАЙТЕ ПРАВИЛА ИСПОЛЬЗОВАНИЯ
ПИРОТЕХНИЧЕСКИХ ИЗДЕЛИЙ**



Вопрос-19

Опасными факторами пожара являются:

- А. Пламя, искры и тепловой поток; снижение видимости в дыму
- Б. Снижение концентрации кислорода в воздухе, повышение температуры окружающей среды, вероятный взрыв.
- В. Повышенная концентрация отравляющих продуктов горения и термического разложения; пламя, дым, искры и тепловой поток.



Запомните

Чтобы обеспечить себе благополучную жизнь и максимально использовать все блага жизни в городе, человек должен не только соблюдать ряд общепринятых правил поведения, но и целенаправленно готовиться к безопасному поведению в различных опасных и чрезвычайных ситуациях, владеть определёнными знаниями, умениями и навыками в области безопасности жизнедеятельности.



Ребята!
Спасибо за работу!
С Новым годом! Пусть он будет
безопасным для Вас!

