
ЕГЭ по истории, 11 класс

Русско-польские войны.
Отечественная война 1812 г.
и заграничные походы 1813-1814 гг.
Справочные материалы

Русско-польские войны — ряд войн между Киевской Русью, затем Русским государством — ряд войн между Киевской Русью, затем Русским государством, Российской империей — ряд войн между Киевской Русью, затем Русским государством, Российской империей, РСФСР — ряд войн между Киевской Русью, затем Русским государством, Российской империей, РСФСР, СССР — ряд войн между Киевской Русью, затем Русским государством, Российской империей, РСФСР, СССР с одной стороны и Польшей — ряд войн между Киевской Русью

Годы	Название	Мирный договор	Победитель	Итоги/территориальные изменения
981	Польский поход князя Владимира	-	Киевская Русь	Присоединение к Руси Червенских городов.
1018	Киевский поход Болеслава I	-	Польша	Временное установление власти Святополка в Киеве. Переход Червенских городов к Польше.
1030-1031	Польский поход князя Ярослава	-	Киевская Русь	Возвращение Руси Червенских городов.
1558-1583 (1569-1582 как русско-польская)	Ливонская война	Ям-Запольское перемирие	Речь Посполитая	Россия отказывалась от завоеваний в Ливонии. Россия передавала Польше города Велиж и Себеж.
1609-1618	Русско-польская война времен Смуты	Деулинское перемирие	Речь Посполитая	Россия потеряла Смоленскую и Черниговскую земли.
1632-1634	Смоленская война	Поляновский мир	Россия	Россия присоединила небольшой город Серпейск. Смоленск остался за Польшей. Король Владислав отказался от претензий на русский трон.
1654-1667	Русско-польская война	Андрусовское перемирие	Россия	Россия присоединила Левобережную Украину и Смоленскую землю. Киев перешел к России на два года (не был возвращен)
1686	Вечный мир			Россия выкупила Киев за 146 тыс. рублей. Русское царство присоединилось к странам, ведущим войну против Турции.
1733-1735	Война за польское наследство	-	Россия	Восстановление саксонской династии (Август III) на польском троне.
1768-1772	Война Барской конфедерации	-	Россия	Подавление восстания. Первый раздел Речи Посполитой 1772 г.
1772	Первый раздел Польши	-	Участники: Россия, Пруссия, Австрия.	Присоединение к России части Белоруссии (Полоцк, Витебск, Могилев, Гомель).
1793	Второй раздел Польши	-	Участники: Россия, Пруссия	Присоединение к России части Белоруссии (Минск, Бобруйск, Слуцк, Пинск) и части Правобережной Украины (Черкассы, Житомир, Винница, Каменец).
1794	Восстание Костюшко	-	Россия	Подавление восстания. Третий раздел Речи Посполитой 1795 г.
1795	Третий раздел Польши	-	Участники: Россия, Пруссия, Австрия	Присоединение к России Литвы (Вильно, Ковно), Курляндии (Либава, Митава), части Белоруссии (Новогрудок, Брест) и части Галиции (Луцк).
1812	Отечественная война	-	Россия	Изгнание войск Наполеона и его союзников из герцогства Варшавского из России.
1813-1814	Заграничные походы русской армии	Решения Венского конгресса	Россия	Присоединение к России территории герцогства Варшавского (в виде царства Польского)
1830-1831	Польское восстание	-	Россия	Подавление восстания. Упразднение польской конституции 1815 года.
1863	Польское восстание	-	Россия	Подавление восстание. Сближение Пруссии и России.
1920	Советско-польская война	Рижское перемирие 1920 г. Рижский мир 1921 г.	Польша	Переход к Польше территорий Западной Белоруссии и Западной Украины
1939	Польский поход РККА	Советско-германский договор о дружбе и границе 1939 г.	СССР	Переход к СССР территорий Западной Белоруссии и Западной Украины

**ДРЕВНЕРУССКОЕ ГОСУДАРСТВО
в середине X—XI в.**



**1. Польский поход князя
Владимира 981-983 гг.**

Знать на карте: маршруты походов Святослава, Владимира и Ярослава, земли, присоединенные Святославом, Владимиром и Ярославом, Волжская Булгария, Хазарский каганат, Болгарское царство, Византийская империя, Саркел, Итиль, Тмутаракань, Киев, Новгород, Смоленск, Псков, Ярославль, Булгар, Константинополь, Херсонес (Корсунь), Переяславец, Доростол, Перемышль, Юрьев.



Киевская Русь в конце IX — первой половине XI в. Карта в графике ЕГЭ. Шифры: 1 — Киев, 2 — Ижора (финно-угорское племя), 3 — вятичи, 4 — Днепр, 5 — территории, присоединенные в результате похода Ярослава в Прибалтику, 6 — походы Ярослава Владимировича Мудрого, 7 — Дерпт (Юрьев).

князя Ярослава 1030-1031 гг.

Краткое описание: Во время междоусобной войны 1015-1019 гг. польский король Болеслав Храбрый выступал союзником Святополка (который традиционно считается организатором убийства Бориса и Глеба). В 1018 г. Болеслав даже поставил Святополка в Киев, однако это закономерно привело к конфликту Святополка с киевлянами. В 1019 г. Ярослав окончательно изгнал Святополка из Киева.

Затем в 1030-1031 гг. Ярослав вернул Червенскую землю, которую Святополк передал Польше.

В сухом остатке для экзамена:

Сражения и важные эпизоды войны: нет

Участники: Ярослав Владимирович Мудрый (великий князь Киевский) * Святополк Владимирович Окаянный (великий князь Киевский) * Ярослав Владимирович Мудрый (великий князь Киевский) * Святополк Владимирович Окаянный (великий князь Киевский) * Болеслав I Храбрый

Мирный договор: нет

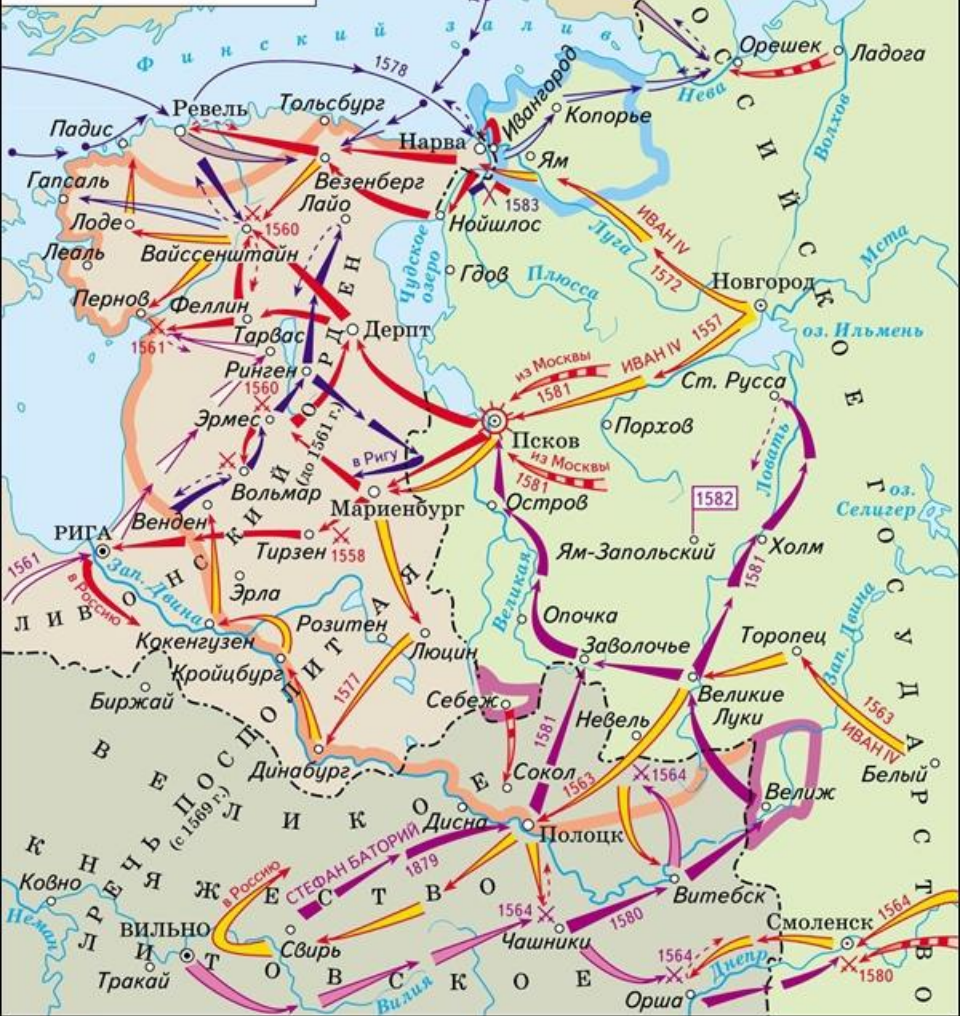
3. Ливонская война (1558-1583)



Краткое описание: Самая известная война XVI века. Начиналась как русско-ливонская (на этом этапе Россия была сверхуспешна), продолжилась как русско-литовская война за литовское наследие. С 1569 г. после Люблинской унии России противостояло объединенное польско-литовское государство (Речь Посполитая).

Войну выиграла Речь Посполитая за счет походов Стефана Батория (1577-1582 гг.). Ям-Запольское перемирие 1582 г. является первым мирным договором, заключенным после военного конфликта, который необходимо знать для ЕГЭ по истории (если не считать русско-византийского договора 907 г.).

**ЛИВОНСКАЯ ВОЙНА.
1558—1583 гг.**



Знать на карте:

Государства: Россия, Ливонский орден, Великое княжество Литовское (с 1569 г. – в составе Речи Посполитой), Швеция

Города: Нарва, Дерпт, Ревель, Рига, Полоцк, Псков, Орешек, Копорье, Ям, Корела, Ям-Запольский.

Прочее: действия ливонских, литовских и русских войск, поход Стефана Батория на Псков, места подписания мирных договоров (Ям-Запольский, река Плюсса), территориальные потери России.

4. Русско-польская война времен Смуты 1609-1618 гг.

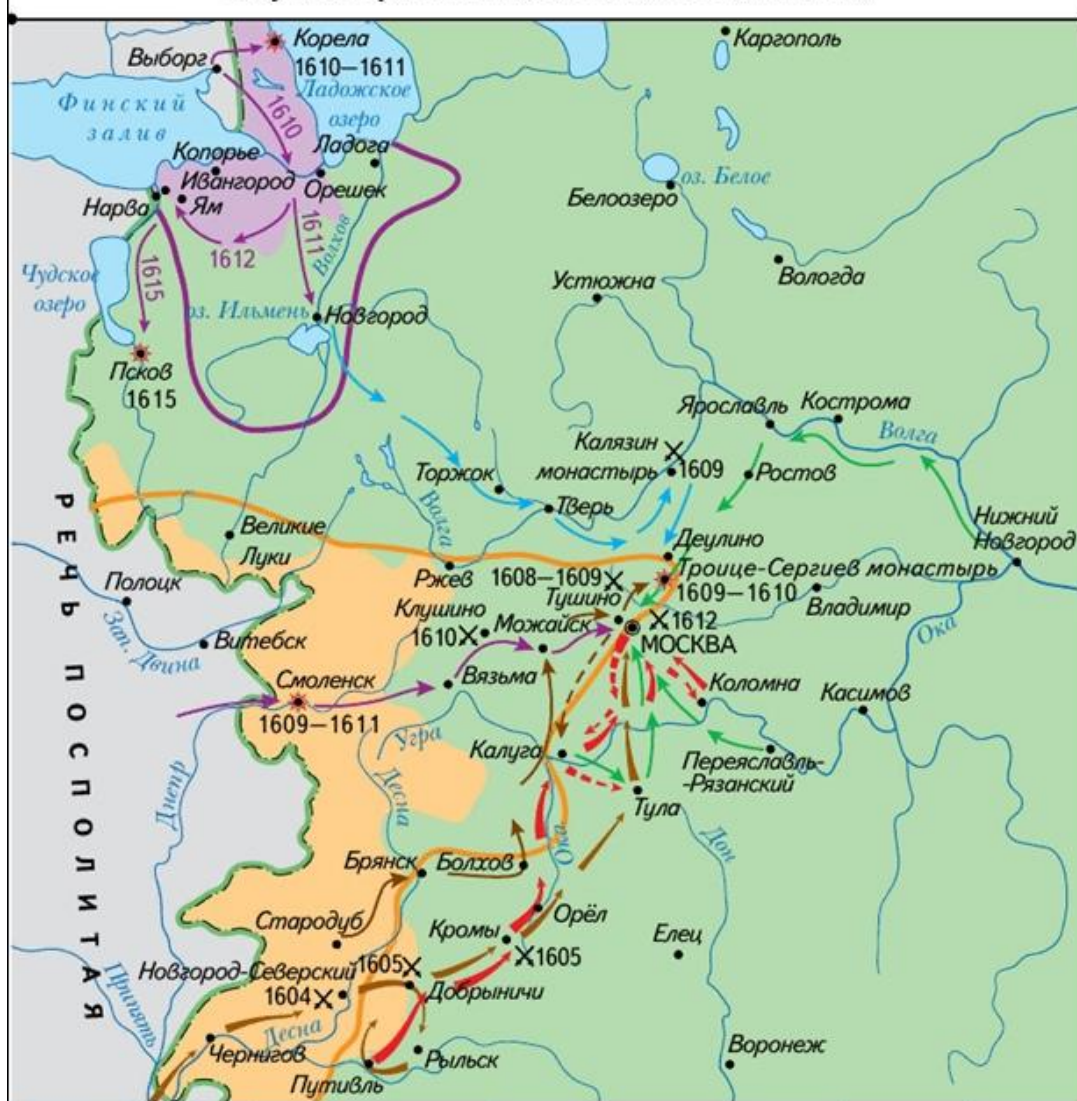


Краткое описание: Это вторая война Речи Посполитой и России. Ей предшествовала интервенция: поляки участвовали в походе Лжедмитрия I на Москву и помогли Лжедмитрию II укрепиться в Тушинском лагере.

Непосредственным поводом для начала открытой войны стало использование Русским царством шведских наемников в борьбе с самозванцем (Польша и Швеция тогда находились в состоянии войны).

Война продолжилась даже после избрание на царство Михаила Романова и завершилась лишь в 1618 г. Деулинским перемирием.

Смутное время в России в начале XVII века



- | | | |
|--|--|---|
| <ul style="list-style-type: none"> Поход Лжедмитрия I Поход И. Болотникова Поход Лжедмитрия II Поход М. Скопина-Шуйского Вторжения польских и шведских войск Движение отрядов I и II ополчений | <p>Земли, отошедшие:</p> <ul style="list-style-type: none"> в 1617 г. к Швеции в 1618 г. к Речи Посполитой | <p>Граница территории, оккупированной к 1613 г.:</p> <ul style="list-style-type: none"> польскими войсками шведскими войсками |
| <ul style="list-style-type: none"> 1609–1611 Оборона русских городов 1609 Места и даты сражений | | |

Знать на карте:

Государства: Русское государство, Речь Посполитая, королевство Швеция.

Маршруты движения войск: Лжедмитрий I, Иван Болотников, Лжедмитрий II, Михаил Скопин-Шуйский, польские войска, шведские войска.

Города: Москва, Киев, Чернигов, Добрыничи, Калуга, Тула, Тушино, Троице-Сергиев монастырь, Смоленск, Клушино, Корела, Новгород, Псков, Рязань, Нижний Новгород, Кострома, Ярославль, Деулино.

Территориальные потери России: отошедшие по Столбовскому миру к Швеции земли, отошедшие по

Деулинскому перемирию к Речи Посполитой земли.

5. Смоленская война (1632-1634)

Смоленская война 1632-1634 гг.



Краткое описание: Попытка Русского царства (во главе с Михаилом Романовым) отыгаться за Смуту и вернуть Смоленск. Война примечательна тем, что в ней участвовали полки иноземного строя. Война России не удалась. Неудачливый полководец Михаил Шеин после провальной осады Смоленска будет казнен (в Москве в 1633 г. умер его покровитель патриарх Филарет).

В сухом остатке для экзамена:

Сражения и важные эпизоды войны: Осада Смоленска 1632-1633 гг.

Участники и важные современники: Михаил Романов Участники и важные современники: Михаил Романов * Владислав IV Участники и важные современники: Михаил Романов * Владислав IV * Филарет Романов Участники и важные современники: Михаил Романов * Владислав IV * Филарет Романов * Михаил Шеин

Мирный договор: Поляновский мир 1634 г.

6. Русско-польская война (1654–1667)

Краткое описание: Последняя война Русского царства и Речи Посполитой. Одновременно это перелом во всех русско-польских войнах: именно после войны 1654-1667 гг. прекращается экспансия Польши на восток и начинается русская — на запад.

В ЕГЭ по истории, что важно, в большей степени спрашивают не саму войну, а:

1) то, что ей предшествовало (**восстание Хмельницкого 1648-1654 гг. и Переяславская рада 1654 г.**)

2) итоги войны (**Андрусовское перемирие 1667 г.**)

Именно на восстание Хмельницкого, Переяславскую раду и Андрусовское перемирие нужно сделать акцент при изучении этого сюжета. Сама же война делится на *три* этапа:

а) 1654-1658 гг. Сверхуспешные для России военные действия в Белоруссии и Литве. Фактический коллапс Речи Посполитой, вступление в войну с ней Швеции.

6. Русско-польская война (1654–1667)

б) 1656-1658 гг. Россия гонится за двумя зайцами: подписав перемирие с Польшей, начинает войну с Швецией за Прибалтику. Не достигнув успеха в русско-шведской войне (по Кардисскому миру 1660 г. границы вообще не изменились), Россия утратила инициативу в борьбе с Польшей.

в) 1658-1667 гг. Польша оправилась, отбила Белоруссию и переманила на свою сторону Правобережную Украину. На Украине смута, раскол, военные действия затягиваются и утомляют все стороны. К тому же, в регион начинает проникать Османская империя. Для замирения, в котором были заинтересованы и Польша, и Россия, необходимо было установить статус Украины. В 1667 г. при содействии Афанасия Ордина-Нащокина подписано Андрусовское перемирие. Россия присоединила Левобережную Украину и Смоленщину, статус Киева оставался подвешенным.



Знать на карте:
 Государства: Россия,
 Речь Посполитая,
 Крымское ханство.
 Реки и моря: Днепр,
 Черное море, Азовское
 море.
 Города: Киев, Чернигов,
 Переяславль,
 Запорожье, Запорожская
 Сечь, Желтые воды,
 Чигирин, Корсунь, Белая
 церковь, Батог, Хотин,
 Пилявцы, Берестечко,
 Зборов, территория
 казацкого
 самоуправления по
 Зборовскому миру.



*Знать на карте:
 Государства: Россия, Речь
 Посполитая, Швеция,
 Крымское ханство.
 Реки и моря: Днепр, Черное
 море, Азовское море.
 Города: Киев, Чернигов,
 Переяславль, Запорожье,
 Сечь, Киев, Чернигов,
 Смоленск, Полоцк, Вильно,
 Львов,
 Прочее: приобретения
 России по Андрусовскому
 перемирию (Левобережная
 Украина + Киев +
 Смоленская область).*

7. Вечный мир 1686 г.

Краткое описание: Согласно этому миру, подписанному в 1686 г., Киев «навечно» оставался за Россией. Он был выкуплен за 146 тысяч рублей.

Конфронтация Польши и России сменилась сближением перед лицом турецкой угрозы. Фактически Россия стала частью антитурецкой коалиции после Вечного мира. На ближайшие полвека Польша из главного врага превратилась в союзника России в русско-турецких и русско-шведских войнах.

В сухом остатке для экзамена:

Участники: Софья Алексеевна Участники: Софья

Алексеевна * Василий Голицын

Мирный договор: Вечный мир 1686 г.

8. Война за польское наследство 1733-1735 гг.

Краткое описание: В первой половине XVIII в. (до разделов Польши) Россия незаметно превратила Речь Посполитую в зависимое государство.

«Выборная монархия» как форма правления в Польше приводила к «бескоролевью» — ситуации, когда старый король умер, а нового еще не выбрали на сейме.

Россия со времен Петра продвигала на польский трон саксонскую династию, ее представитель Август II в 1733 г. умер.

Французы (скрытый противник России в войне) пытались протащить Станислава Лещинского в качестве польского короля. Но Россия усилиями армии Петра Ласси быстро справилась: польским королем был провозглашен Август III (сын Августа II).

Война за польское наследство 1733-1735 гг. —



Станислав Лещинский бежал в Гданьск. В январе 1734 г. Август III короновался в Варшаве.

Русские войска под командованием Петра Ласси осадили Гданьск. В мае русские войска под командованием фельдмаршала Бурхарда Христофора Миниха отразили попытку высадки французского десанта.

С появлением русской эскадры французский флот ушел из-под Гданьска. В июне 1734 г. Станислав Лещинский бежал в Пруссию, а оттуда во Францию.

Влияние России в Польше резко возросло.

В сухом остатке для экзамена:

Участники: Анна Иоанновна Анна Иоанновна * Август II Анна Иоанновна * Август II * Август III Анна Иоанновна * Август II * Август III * Станислав Лещинский Анна Иоанновна * Август

9. Разделы Речи Посполитой 1772, 1793, 1795 гг.

Краткое описание: Разделы Речи Посполитой были вызваны стремлением польской элиты получить реальную независимость. Подавляли эту независимость не только Россия, но и Австрия с Пруссией. Они же участвовали в разделах польского государства (второй раздел 1793 г. осуществляли только Пруссия и Австрия).

Перед каждым разделом Польши происходили польские национально-освободительные восстания (для ЕГЭ особенно важным является восстание Костюшко 1794 г.).

В сухом остатке для экзамена:

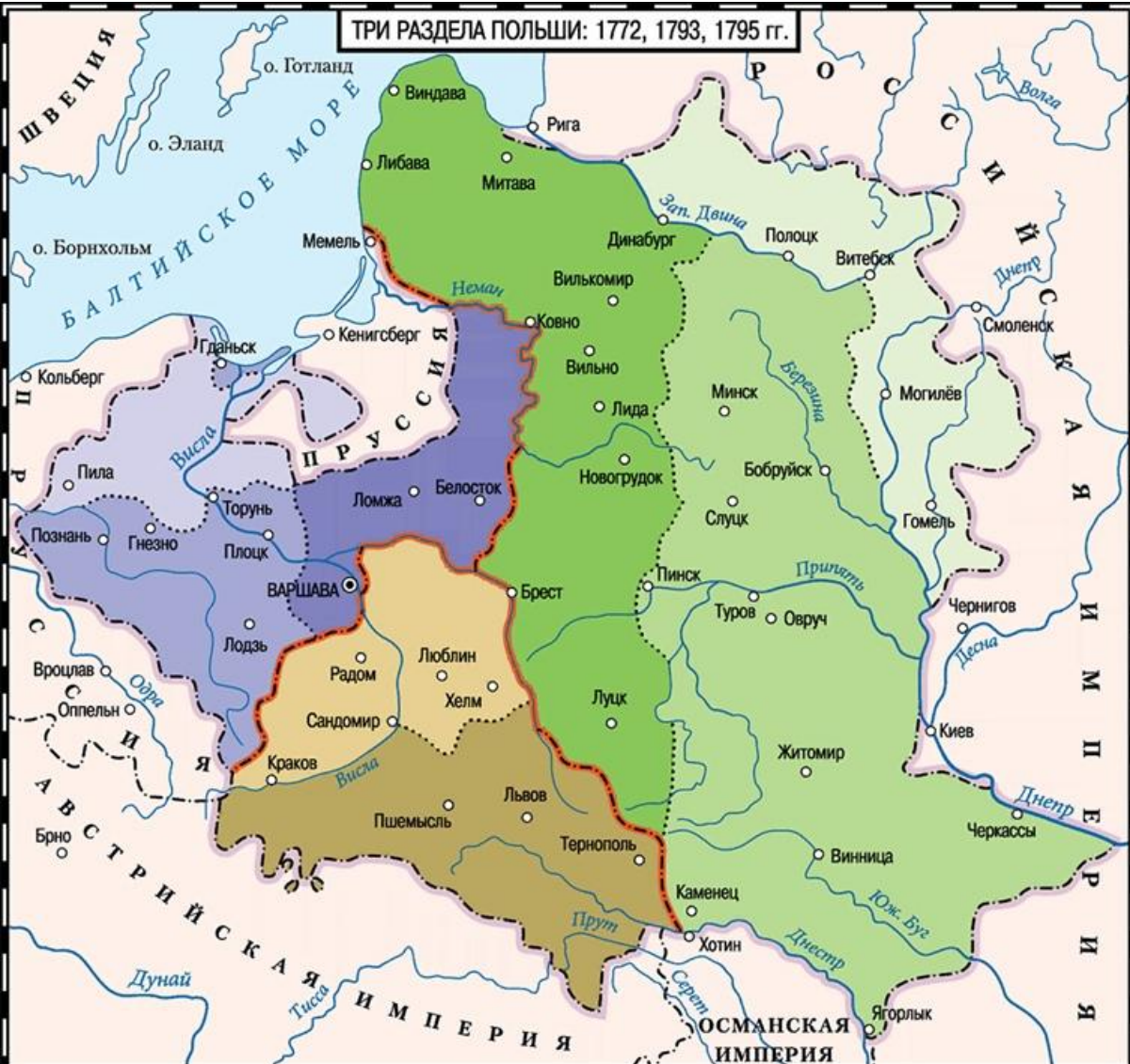
Участники и важные современники: Екатерина II * Фридрих II * Иосиф II * Александр Суворов * Тадеуш Костюшко

Мирный договор: нет.

Три раздела Польши



ТРИ РАЗДЕЛА ПОЛЬШИ: 1772, 1793, 1795 гг.



Знать на карте:
 Государства: Речь Посполитая (Польша), Россия, Пруссия, Австрия.
 Области: отошедшие к России территории по разделу 1772 г., отошедшие к России территории по разделу 1793 г., отошедшие к России территории по разделу 1795 г.
 Города: Витебск, Полоцк, Торунь, Гданьск, Львов, Минск, Слуцк, Житомир, Познань, Вильнюс, Краков, Люблин, Варшава.

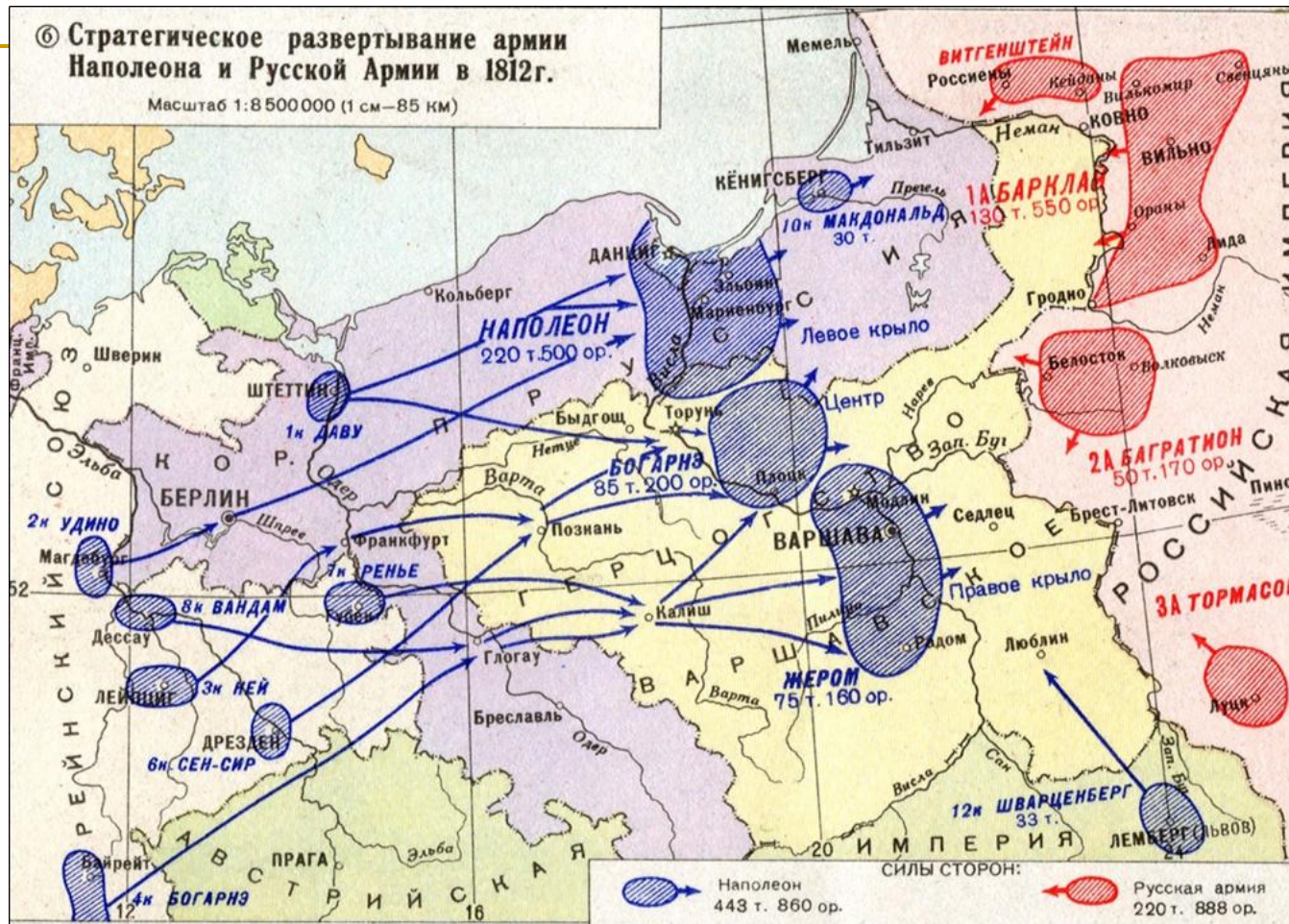
Разделы Польши			
I раздел 1772 г.	II раздел 1793 г.	III раздел 1795 г.	
			территории, отошедшие к Пруссии
			территории, отошедшие к Австрии
			территории, отошедшие к России

--- Границы Польши накануне первого раздела
 - - - Граница между Пруссией, Австрией и Россией после третьего раздела Польши в 1795 г.

10. Отечественная война 1812 г. и заграничные походы русской армии 1813-1814 гг.

Краткое описание: Возрождение польской государственности произошло в 1807 г., и к этому приложил руку Наполеон. По Тильзитскому миру от Пруссия отторгались обширные территории, на которых было создано герцогство Варшавское. Обновленная Польша стала не просто плацдармом для нападения Франции на Россию в 1812 г., но и непосредственным противником России как в войне 1812 г., так и во время заграничных походов 1813-1814 гг.

Итог для поляков был неутешительным: герцогство Варшавское было ликвидировано, и его территория вошла на сей раз в состав России (как царство Польское). При этом Александр I даровал Польше Конституцию.



Знать на карте:

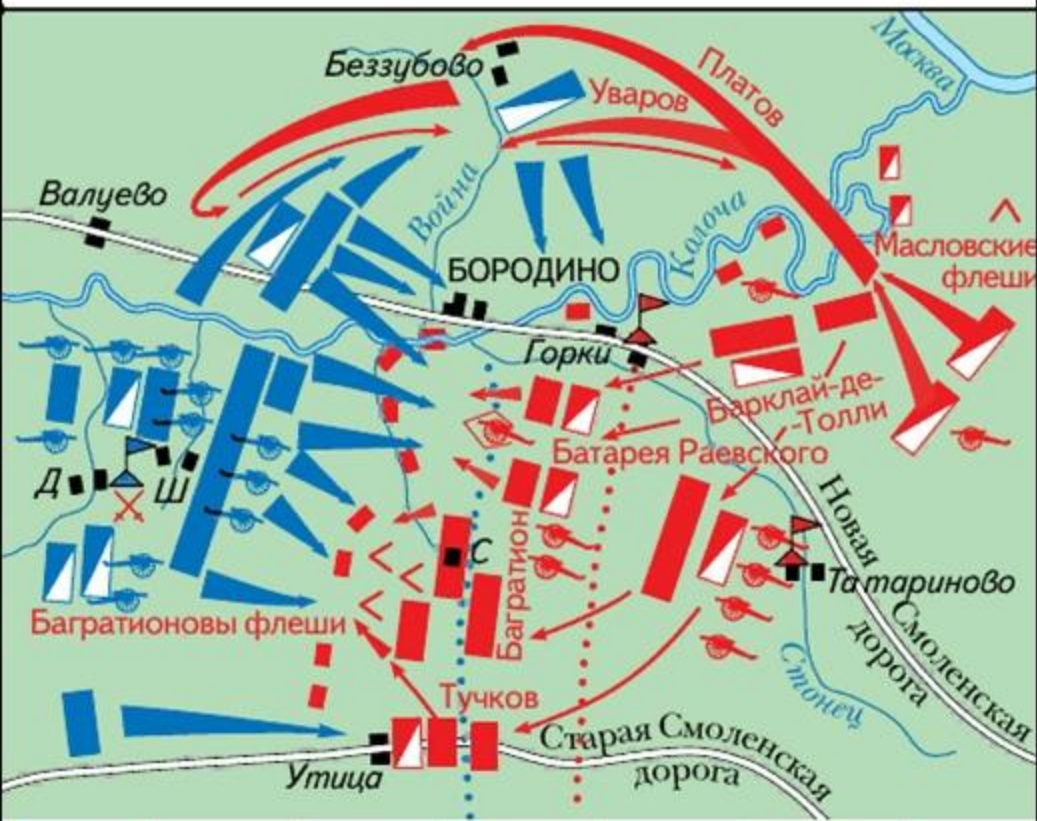
Государства: Российская империя, герцогство Варшавское, Пруссия, Австрийская империя, Рейнский союз.

Реки: Неман.

Города: Луцк, Белосток, Вильно, Кенигсберг, Варшава.

Прочее: войска Наполеона, корпус Витгенштейна, 1-я армия Барклая, 2-я армия Багратиона, 3-я армия Тормасова.

Схема Бородинского сражения



Знать на карте: Бородино, Шевардино, Татариново, Утица, Багратионовы флечи, Батарея Раевского, рейд Уварова и Платова.

✕ Бой за Шевардинский редут

Расположение войск
перед сражением:

русских французских

■ пехота ■

▤ кавалерия ▤

☛ артиллерия ☛

▲ Ставка Кутузова

▣ Ставка Наполеона

< Флечи

Действия войск:

← французских

⇐ русских

Положение войск
к концу сражения:

..... русских

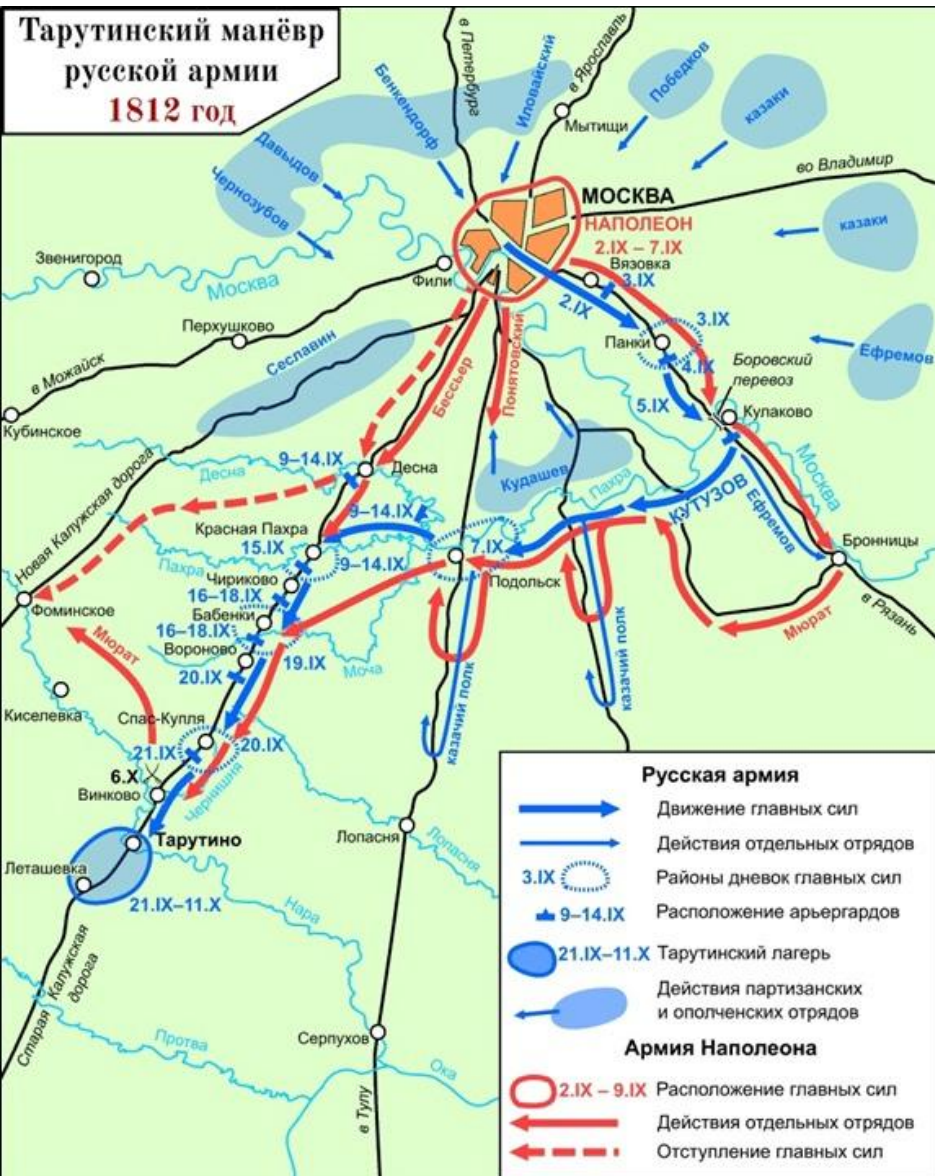
..... французских

Д Доронино

С Семёновское

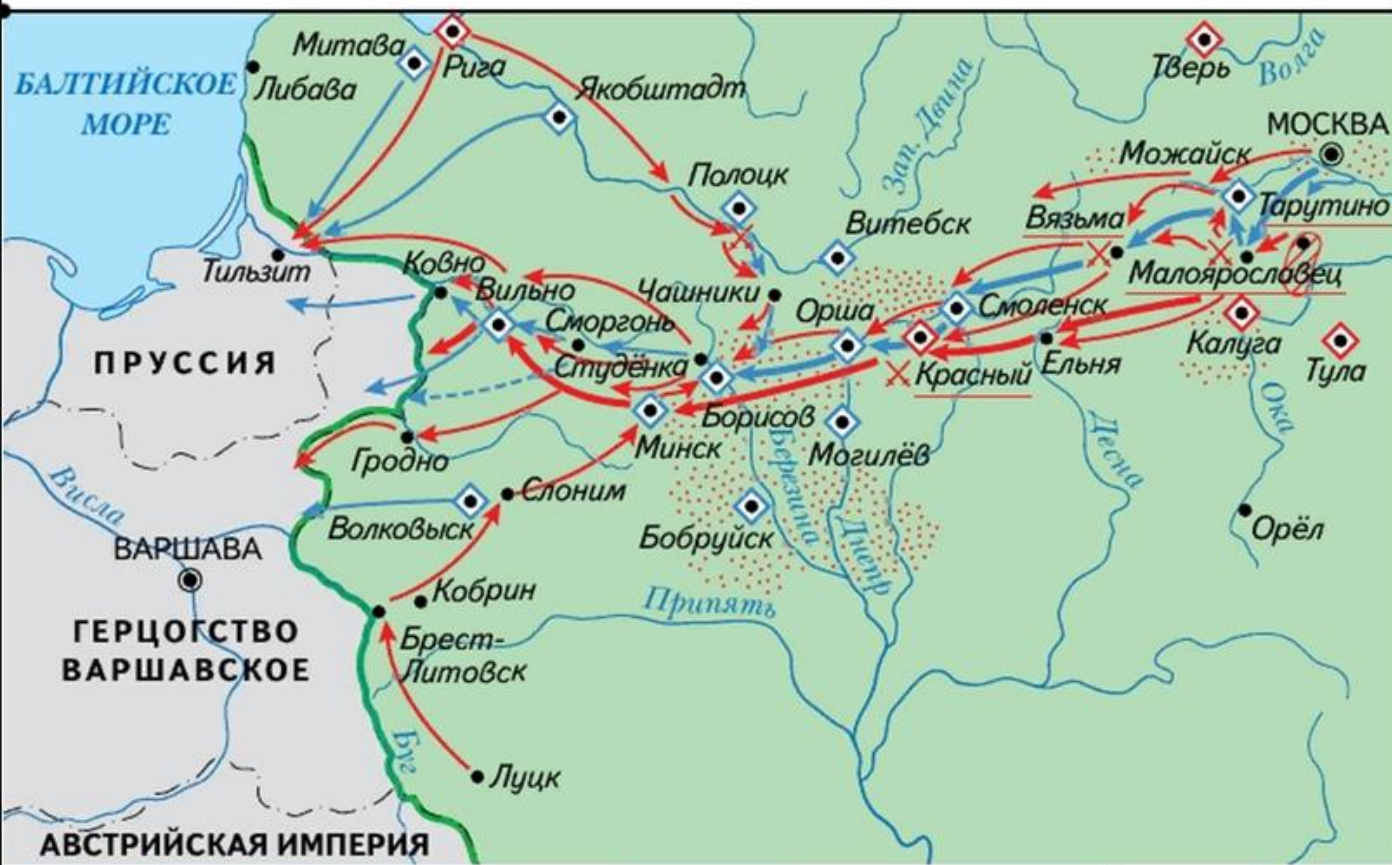
Ш Шевардино

**Тарутинский манёвр
русской армии
1812 год**



Знать на карте: Фили, Москва, Новая Калужская дорога, Старая Калужская дорога, Москва-река, Тарутино.

Изгнание армии Наполеона из России



Знать на карте: Москва, Тарутино, Малоярославец, Вязьма, Смоленск, Красный, река Березина, Борисов, Студенка



Знать на карте:

Государства: Герцогство Варшавское, Пруссия, Рейнский союз, Франция.

Города и места важных событий: Варшава, Берлин, Лейпциг, Париж, Ватерлоо.

11. Польское восстание 1830-1831 гг.

В XIX в. в царстве Польском произошло два значительных восстания - 1830-1831 гг. и 1863 г.

Восстание 1830-1831 гг. подавлял могильщик революций Иван Паскевич. Историческое последствие - ликвидация польской конституции.

В сухом остатке для экзамена:

Участники: Николай I Павлович * Иван Паскевич

Мирный договор: нет.

Карта (№ 13-16): нет.

12. Польское восстание 1863 г.

Краткое описание: Это восстание можно было бы и не упоминать. Однако же оно сыграло немалую роль в изменении внешнеполитического курса Российской империи. Подавление мятежа встретило негативную реакцию всех европейских сверхдержав — кроме Пруссии, которая планировала объединение Германии и была заинтересована в дружественном нейтралитете России.

Союз с Пруссией, разгромившей Францию Наполеона III в войне 1870-1871 гг., позволит России безболезненно отказаться от нейтралитета Черного моря в начале 1870-х гг.

В сухом остатке для экзамена:

Участники и важные современники: Александр II Николаевич * Отто фон Бисмарк * Александр Горчаков

Мирный договор: нет.

13. Советско-польская война (1920-1921)

Годы	Название	Мирный договор	Победитель	Итоги/территориальные изменения
1920	Советско-польская война	Рижское перемирие 1920 г. Рижский мир 1921 г.	Польша	Переход к Польше территорий Западной Белоруссии и Западной Украины
1939	Польский поход РККА	Советско-германский договор о дружбе и границе 1939 г.	СССР	Переход к СССР территорий Западной Белоруссии и Западной Украины

~~Краткое описание: В кампании 1915 г. Первой мировой войны Россия уступила территорию Польши. Война вызвала революцию в нашей стране.~~

В октябре 1917 г. к власти пришли большевики, вскоре после этого началась Гражданская война.

Советско-польская война 1920 г. была предпоследним эпизодом Гражданской войны (последним был разгром Врангеля в Крыму). Красная армия дошла до Варшавы, где произошло «чудо на Висле»: поляки не сдали столицу красным и перешли в контрнаступление.

Результатом стал Рижский мир (перемирие подписано в 1920-м, финальный мирный договор — в 1921 г.). Советы утратили западную Украину и западную Белоруссию. Вернуть их удалось лишь в 1939 г.

В сухом остатке для экзамена:

Сражения и важные эпизоды войны: взятие Киева польскими войсками в 1920 г. * чудо на Висле 1920 г.

Участники и важные современники: Владимир Ленин * Лев Троцкий * Юзеф Пилсудский * Симон Петлюра * Александр Егоров * Михаил Тухачевский. *Мирный договор:* Рижский мир



- Линия фронта к моменту наибольшего продвижения войск буржуазно-помещичьей Польши (26 мая) и врангельских войск (начало октября)
- ← ← ← Направления ударов войск Красной Армии
- — — Линия наибольшего продвижения советских войск Западного и Юго-Западного фронтов (август)
- - - - - Линия, указанная в ноте Керзона, на которой Антанта требовала остановить наступление Красной Армии
- - - - - Граница Советской России с Польшей по Рижскому мирному договору 18 марта 1921 г.

Знать на карте: Польша, Варшава, Перекоп, Севастополь, Керчь.

14. Польский поход РККА в 1939 г.

Краткое описание: войне предшествовал пакт Молотова-Риббентропа с секретным протоколом, согласно которому Польша разделялась между Германией и СССР на сферы влияния.

Красная армия вступила на территорию Польши лишь на третью неделю войны, когда Польское государство уже было де-факто разгромлено немцами.

28 сентября 1939 г. был подписан договор о дружбе и границе между Германией и СССР. Западная Белоруссия и Западная Украина вошли в состав СССР.

Польская кампания



Знать на карте: Германия, Польша, СССР, Венгрия, Румыния, Данциг, Кенигсберг, Торунь, Краков, Варшава, Люблин, Брест-Литовск, Белосток, Пинск, Припятские болота, Вильнюс.



13. Назовите русского государя, при котором происходила война, события которой обозначены на схеме.

14. Напишите название города, обозначенного на схеме цифрой «2».

15. Напишите название периода в отечественной истории, когда Российское государство утратило обозначенный на схеме цифрой «3» город и прилегающие территории, возвращённые в результате войны, событиям которой посвящена схема.

13. Алексей Михайлович

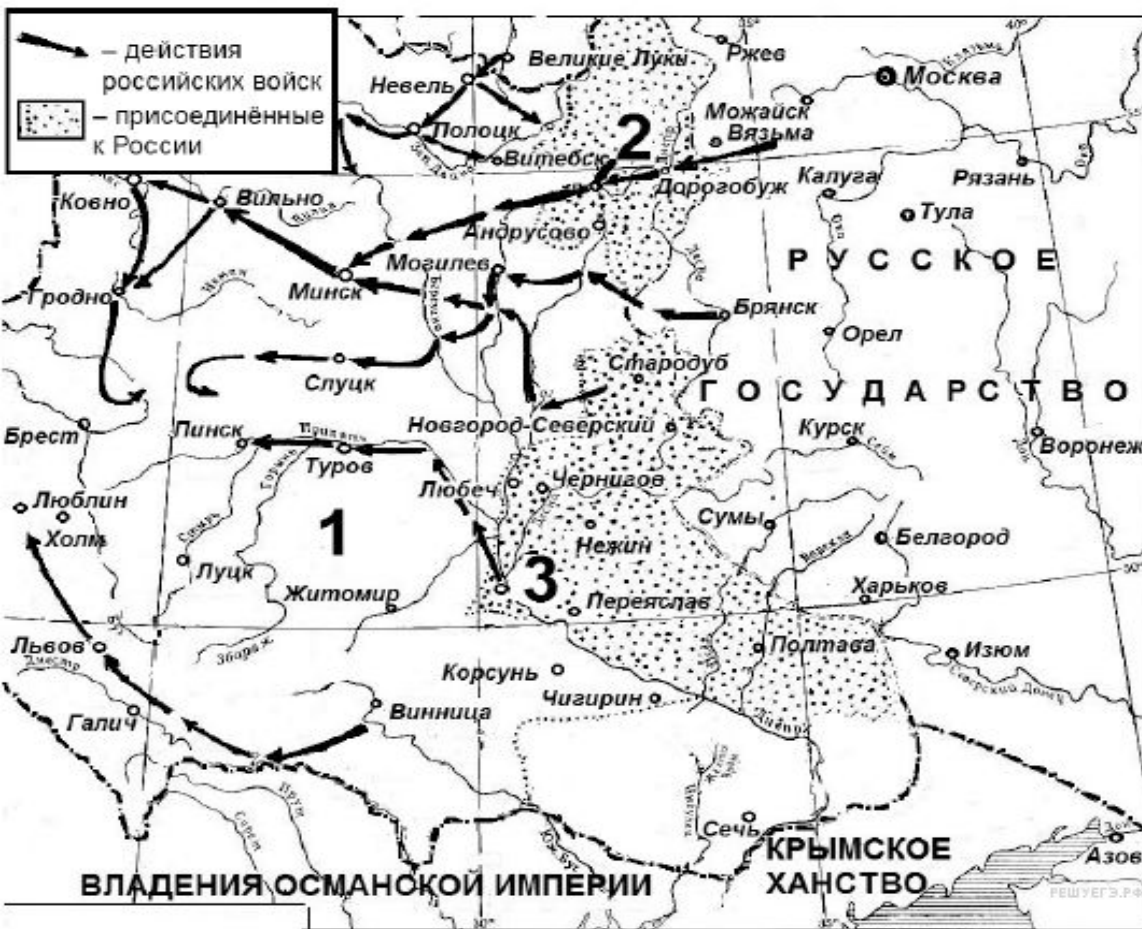
14. Киев

15. Смута или Смутное время

го. Какие суждения, относящиеся к событиям, обозначенным на схеме, являются верными? Выберите три суждения из шести предложенных. Запишите в таблицу цифры, под которыми они указаны.

Цифры укажите в порядке возрастания.

- 1) Война, события которой обозначены на схеме, произошла в XVII в.
- 2) Российский государь, при котором происходили обозначенные на схеме события, получил престол в результате избрания на Земском соборе.
- 3) В обозначенном на схеме цифрой «1» государстве государи выбирались на съездах местной знати.
- 4) Обозначенный на схеме цифрой «2» город был через два года после окончания войны возвращён Россией противнику.
- 5) Перемирие, завершившее войну, событиям которой посвящена схема, было заключено в Андрусово.
- 6) В том же веке, к которому относятся отображённые на схеме события, Россия завоевала выход к Балтийскому морю.



13. Назовите российского государя, к царствованию которого относятся события, обозначенные на схеме.

14. Напишите название города, обозначенного на схеме цифрой «2».

15. Укажите век, когда произошли события, обозначенные на схеме стрелками.

13. Алексей Михайлович или Алексей Тишайший

14. Смоленск

15. Семнадцатый

16. Какие суждения, относящиеся к событиям, обозначенным на схеме, являются верными? Выберите три суждения из шести предложенных. Запишите в таблицу цифры, под которыми они указаны.

- 1) Российский государь, в царствование которого происходили обозначенные на схеме события, был первым представителем своей династии на троне.
- 2) Началу войны, событиям которой посвящена схема, предшествовало крупное восстание на территории обозначенного на схеме цифрой «1» государства.
- 3) Война, событиям которой посвящена схема, продолжалась менее десяти лет.
- 4) По условиям перемирия, завершившего войну, событиям которой посвящена схема, обозначенный на схеме цифрой «3» город через два года должен был быть возвращён противнику, но Россия оставила его за собой.
- 5) В период войны, событиям которой посвящена схема, в российском войске были образованы первые гвардейские полки.
- 6) Современником событий, обозначенных на схеме, был патриарх Никон.



13. Напишите имя и отчество правителя России, при котором заштрихованная территория вошла в состав России.

14. Напишите название города, обозначенного на схеме цифрой «1».

15. Напишите цифру, обозначающую город, в котором от лица местного населения было принято решение о присоединении данной земли к России.

13. Алексей Михайлович

14. Киев

15. Решение о присоединении к России было принято в Переяславе в 1654 г. - 4

10. Какие суждения, относящиеся к событиям, связанным с присоединением указанных территорий, являются верными? Выберите три суждения из шести предложенных. Запишите в таблицу цифры, под которыми они указаны.

- 1) Присоединение данных территорий относится к XVII в.
- 2) Присоединению данных территорий способствовало восстание местных жителей против прежней власти.
- 3) До присоединения к России данные территории принадлежали Османской империи.
- 4) Указанные территории при присоединении получили автономные права.
- 5) Договор о признании данных территорий за Россией был заключён в Смоленске.
- 6) Война, которую Россия вела за эти территории, получила название Смоленской.



13. Напишите название государства, обозначенного на схеме цифрой «1».
14. Укажите век, когда произошли события, обозначенные на схеме. Ответ запишите словом.
15. Назовите правителя Русского государства, при котором произошла война, события которой отображены на схеме.

13. Польша

14. Семнадцатый

15. Алексей Михайлович

16. Какие суждения, относящиеся к событиям, обозначенным на схеме, являются верными? Выберите три суждения из шести предложенных.

Цифры укажите в порядке возрастания.

- 1) В тот же период, к которому относятся события войны, отображенные на схеме, Россия воевала со Швецией.
- 2) Современником войны, события которой отображены на схеме, был патриарх Филарет.
- 3) В царствование правителя Русского государства, при котором произошла война, события которой отображены на схеме, был завоёван выход в Балтийское море.
- 4) По условиям перемирия, завершившего данную войну, Россия должна была вернуть через два года противнику город, обозначенный на схеме цифрой «2».
- 5) Перемирие, завершившее войну, события которой отображены на схеме, было заключено в селении Андрусово.
- 6) Во время войны, события которой отображены на схеме, произошло сражение при деревне Лесной.



13. Заполните пропуск в предложении: «Перемирие, по которому России передавался сроком на два года город, обозначенный на схеме цифрой "2", было подписано в тысяча шестьсот _____ году». Ответ запишите словом (словосочетанием).

14. Укажите название государства, территория которого обозначена на схеме цифрой «4», в период, когда сложилась историческая ситуация, показанная на схеме.

15. Назовите фамилию украинского гетмана, с именем которого непосредственно связано событие, отмеченное на схеме флажком.

- 13. Шестьдесятседьмом
- 14. Крымское ханство
- 15. Хмельницкий

16. Какие суждения, относящиеся к событиям, обозначенным на схеме, являются верными? Выберите три суждения из шести предложенных. Запишите в таблицу цифры, под которыми они указаны.

1) Цифрой «1» на схеме обозначен г. Смоленск.

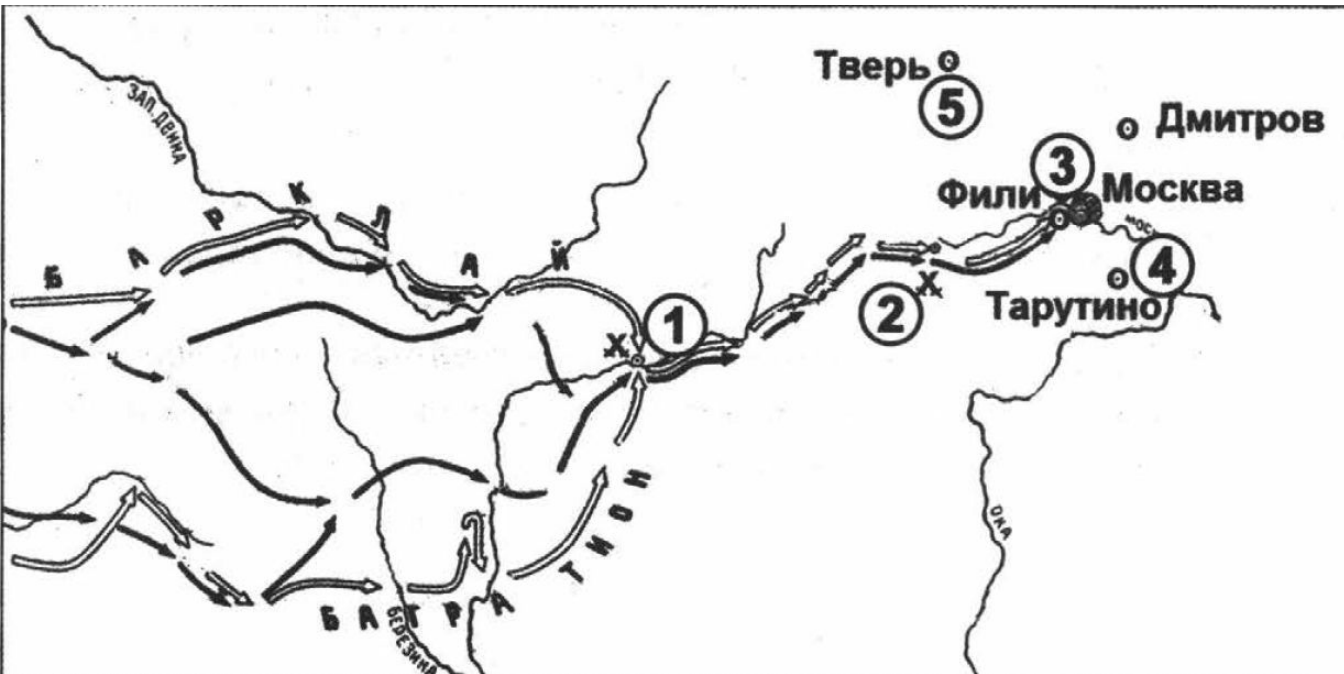
2) В период, когда происходили события, обозначенные на схеме стрелками, российским царём был Алексей Михайлович.

3) В период, к которому относится данная схема, в Европе шла Столетняя война между Францией и Англией.

4) Цифрой «5» на схеме обозначен город, вошедший в состав России в том же веке, к которому относятся события, обозначенные на схеме.

5) В том же веке, в котором произошли события, обозначенные на схеме стрелками, Россия создала Черноморский флот.

6) На схеме обозначено место подписания перемирия, по которому была установлена граница между Россией и Речью Посполитой, обозначенная на схеме.



Напишите название войны, события которой обозначены на схеме.

Ответ: _____.

Напишите имя полководца, который возглавил русские войска вскоре после сражения, обозначенного на схеме цифрой «1».

Ответ: _____.

Напишите название местности, где произошло сражение, обозначенное на схеме цифрой «2».

Ответ: _____.

Отечественная
Кутузов
Бородино

1. Какие суждения, относящиеся к исторической ситуации, обозначенной на схеме, являются верными? Выберите три суждения из шести предложенных. Запишите в таблицу цифры, под которыми они указаны.

- 1) Указанные на схеме военные действия длились больше года.
- 2) С начала войны, события которой отражены на схеме, русские войска преследовали вторгшегося неприятеля.
- 3) Самое кровопролитное сражение этой войны произошло под Вязьмой.

456

- 4) После оставления Москвы русские войска отошли в пункт, обозначенный на схеме цифрой «4».
- 5) Императором России в период этой войны, события которой отражены на схеме, был Александр I.
- 6) Вторгшаяся в Россию неприятельская армия получила в истории название «Великой армии».



Напишите имя российского императора, при котором происходили события, обозначенные на схеме.

Ответ: _____.

Напишите название европейского города, обозначенного на схеме цифрой «1», близ которого произошло крупнейшее сражение в ходе военных действий, которым посвящена схема.

Ответ: _____.

Назовите главнокомандующего войсками противника в битве, обозначенной на схеме цифрой «1».

Ответ: _____.

АлександрПервый
 Лецпциг
 Наполеон

1. Какие суждения, относящиеся к исторической ситуации, обозначенной на схеме, являются верными? Выберите три суждения из шести предложенных. Запишите в таблицу цифры, под которыми они указаны.

- 1) В войне, события которой обозначены на схеме, союзником России была Франция.
- 2) Сражение, обозначенное на схеме цифрой «1», произошло в 1812 г.
- 3) Российский император, при котором происходили события, обозначенные на схеме, взошел на престол после переворота.

345

- 4) Сражение, обозначенное на схеме цифрой «1», вошло в историю как «Битва народов».
- 5) В ходе военных действий, которым посвящена схема, российские войска вошли в столицу противника.
- 6) Поход российской армии, обозначенный на схеме, продлился менее года.