


# Логические задачи

На одной из картинок есть ошибка. На какой?



**Петя выше Саши, Саша выше Никиты.  
Кто из детей выше всех?**

**Петя**



Когда собака стоит на двух лапах, она весит 8 кг.  
Сколько она будет весить, если встанет на  
четыре лапы?



**8 кг**



**8 кг**

**? кг**

По двору ходят гуси. У всех гусей Матвей  
насчитал 12 лап . Сколько гусей во дворе?



6

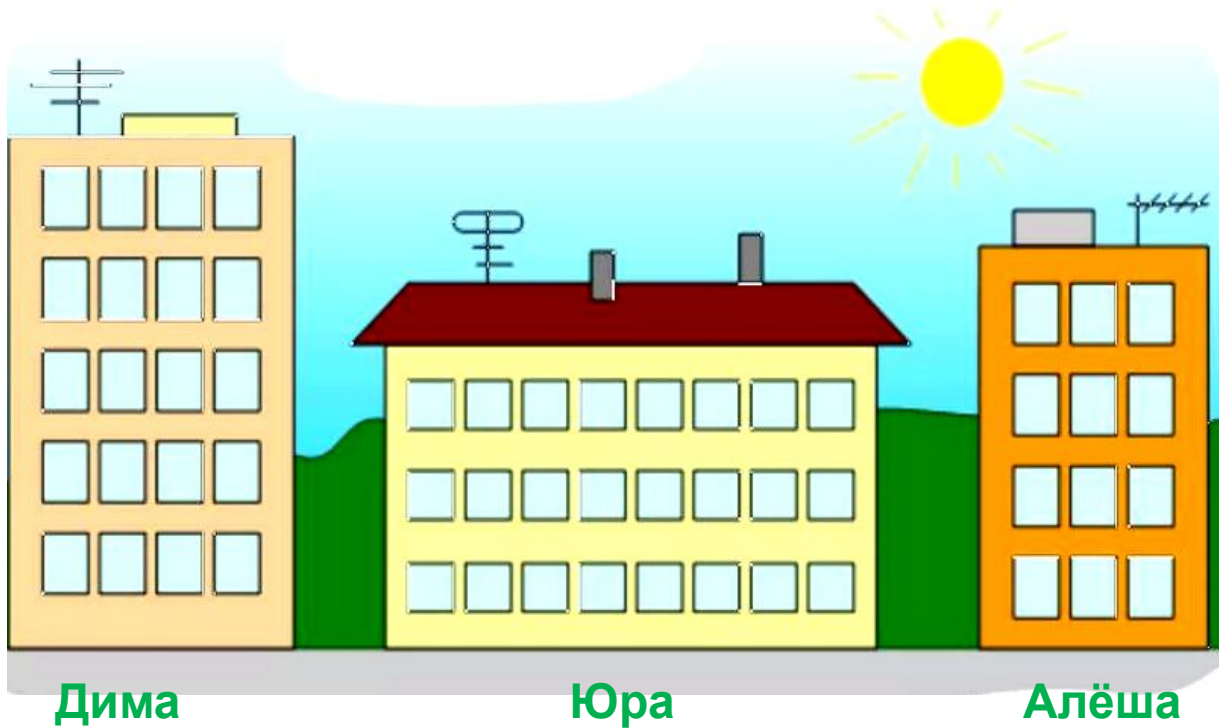
Найди любимую рыбку Юли.  
Известно, что рыбка не длинная, без горошин, не грустная,  
у неё закрыт рот и у неё не три полоски.



Заигрался Дружок и потерял свою будку.  
Он точно знает, что около его будки растёт колокольчик,  
у неё не синяя крыша, и на обед в оранжевой миске  
вкусная косточка.

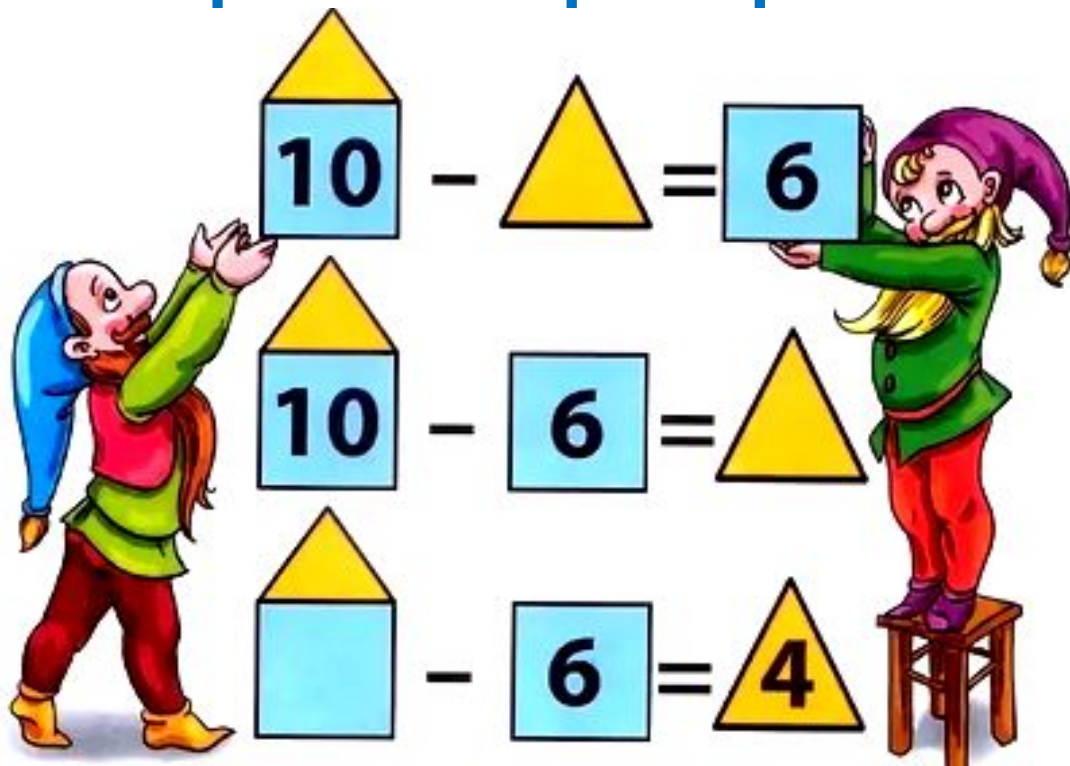


Мальчики Юра, Дима и Алёша потерялись.  
Юра сказал, что его дом не пятиэтажный, а Алёша сказал, его дом находится справа от Юриного и Диминого.  
Помоги мальчикам найти дома

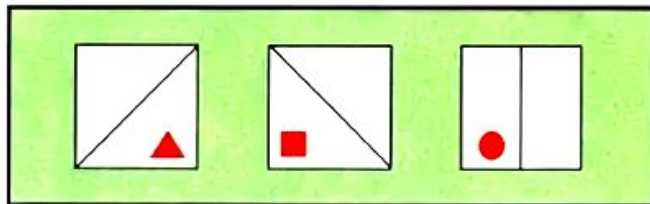
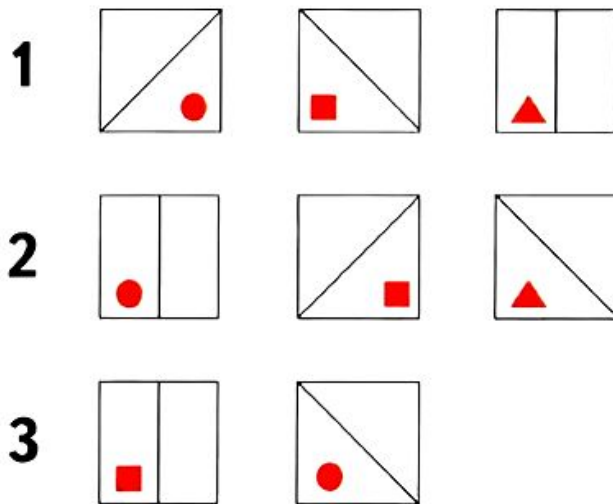













Поверь, правильно ли гномики  
решили пример.



## Нарисуй квадрат в третьем ряду



## Назови недостающую фигуру



Нарисуй фигуру в пустой клетке?

