

1. Примеры.

2. Задачи.

3. Умножение.

МАТЕМАТИКА 2-3 КЛАССЫ
Материалы для 2-3-их классов



Примеры

11. Решите примеры.

$1 \cdot 2 =$

$2 \cdot 2 =$

$3 \cdot 2 =$

$4 \cdot 2 =$

$5 \cdot 2 =$

$6 \cdot 5 =$

$1 \cdot 3 =$

$1 \cdot 4 =$

$2 : 1 =$

$6 : 2 =$

$4 : 2 =$

$8 : 2 =$

$1 \cdot 4 =$

$1 \cdot 5 =$

$1 \cdot 6 =$

$1 \cdot 7 =$

$1 \cdot 8 =$

$1 \cdot 9 =$

$1 \cdot 10 =$

$1 \cdot 0 =$

1. Решите примеры.

$$9+3+8=$$

$$7+9=$$

$$8+5-2=$$

$$12-7=$$

$$23-12=$$

$$10-10=$$

$$23-13=$$

$$12-4+7=$$

$$10-10+10-10=$$

$$3-3+5-2=$$

$$19-19+10=$$

$$9+9+9+9=$$

$$6-6=$$

$$5-5=$$

$$4-4=$$

$$3-3=$$

3. Поставете: < > =

20_30

12_16

90_12

54_56

32_12

10_10

23_32

45_54

55_55

23-12_34-12

34_12

28+12_56-45

100_100

12-3_12+3

10-10_10+10

4. Решите примеры.

$100:10=$

$10:5=$

$6:3+7=$

$50:2=$

$30:2=$

$5+5+5+5+5+5++5+5+5=$

$12-12+12-12+12-12+12=$

$5\cdot 5=$

$10\cdot 10=$

$2\cdot 2-4=$

$7\cdot 2+5=$

$3\cdot 2-6=$



Задачи

2. Решите задачу.


В гараже в одном ряду было 25 машин, а в другом - 32. 4 машины уехало. Сколько машин осталось в гараже?



12. Решите задачу.

В школе 4 класса. 5-Б класс больше остальных классов. 5-А справа 5-Б. 3-Б класс больше, чем 3-А класс.

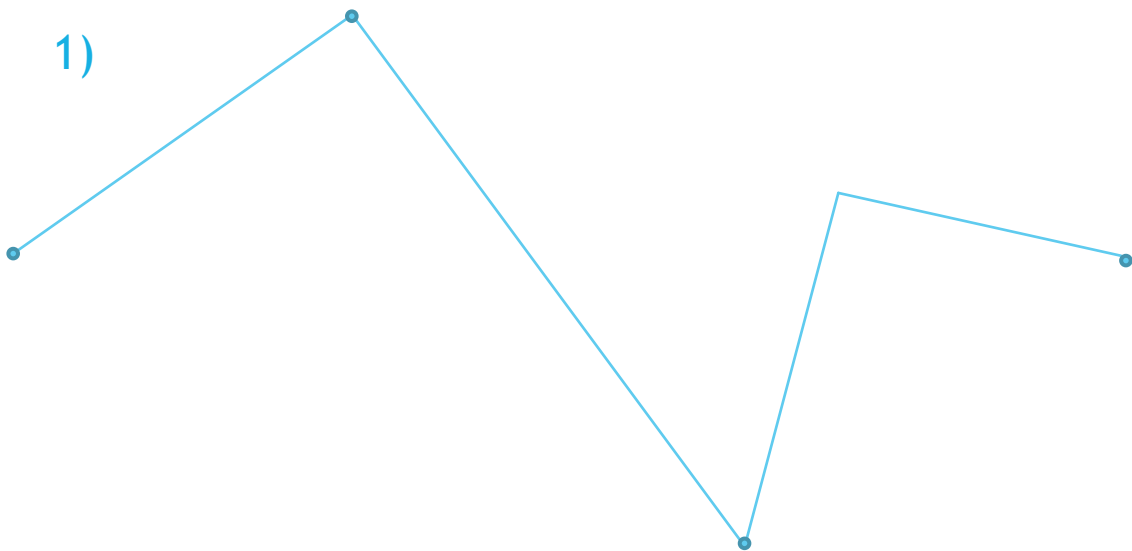
- Какой класс самый маленький?




5. Сколько звеньев у каждой ломаной?

• У какой ломаной звеньев больше?

1)

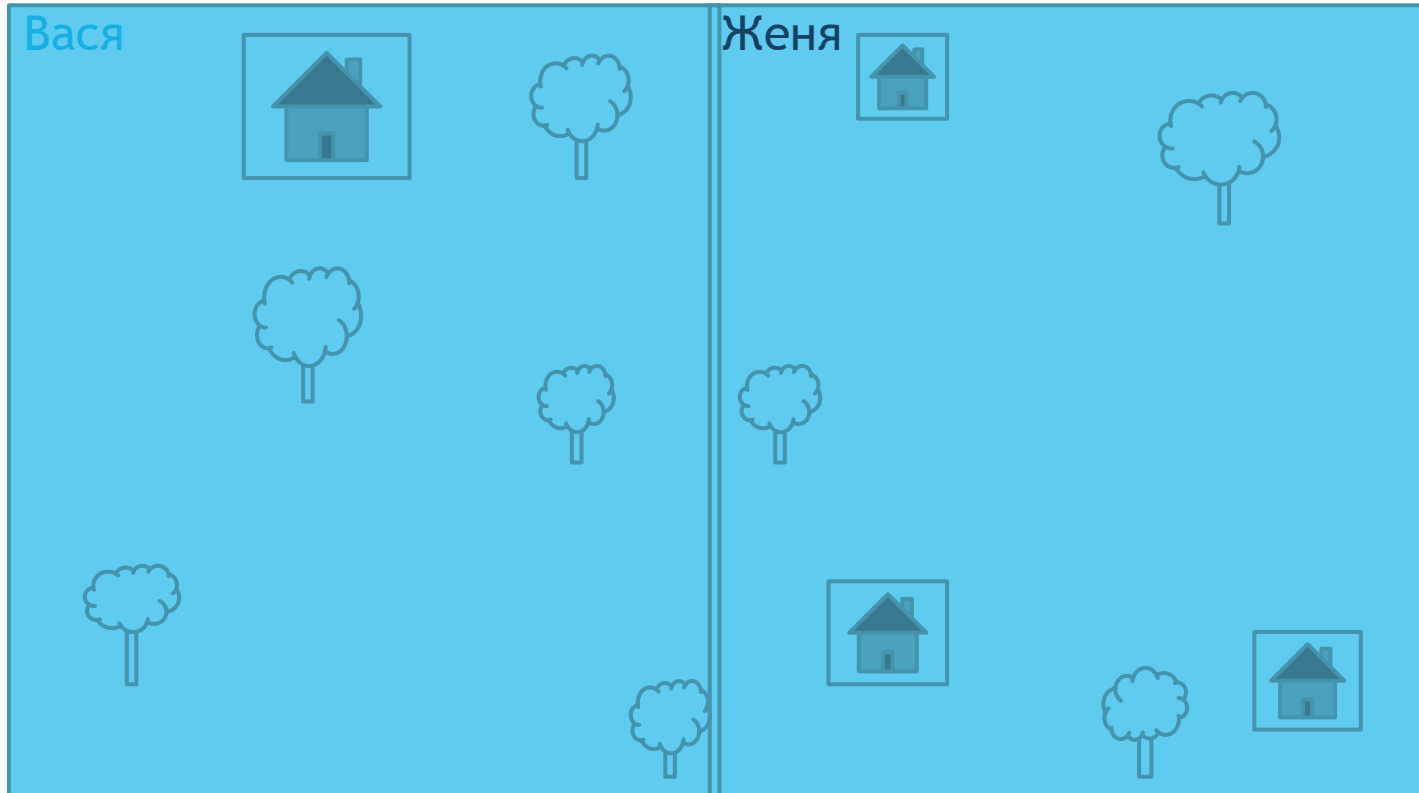


2)









6. Сколько деревьев растёт на участке Васи?

- На каком участке больше деревьев?

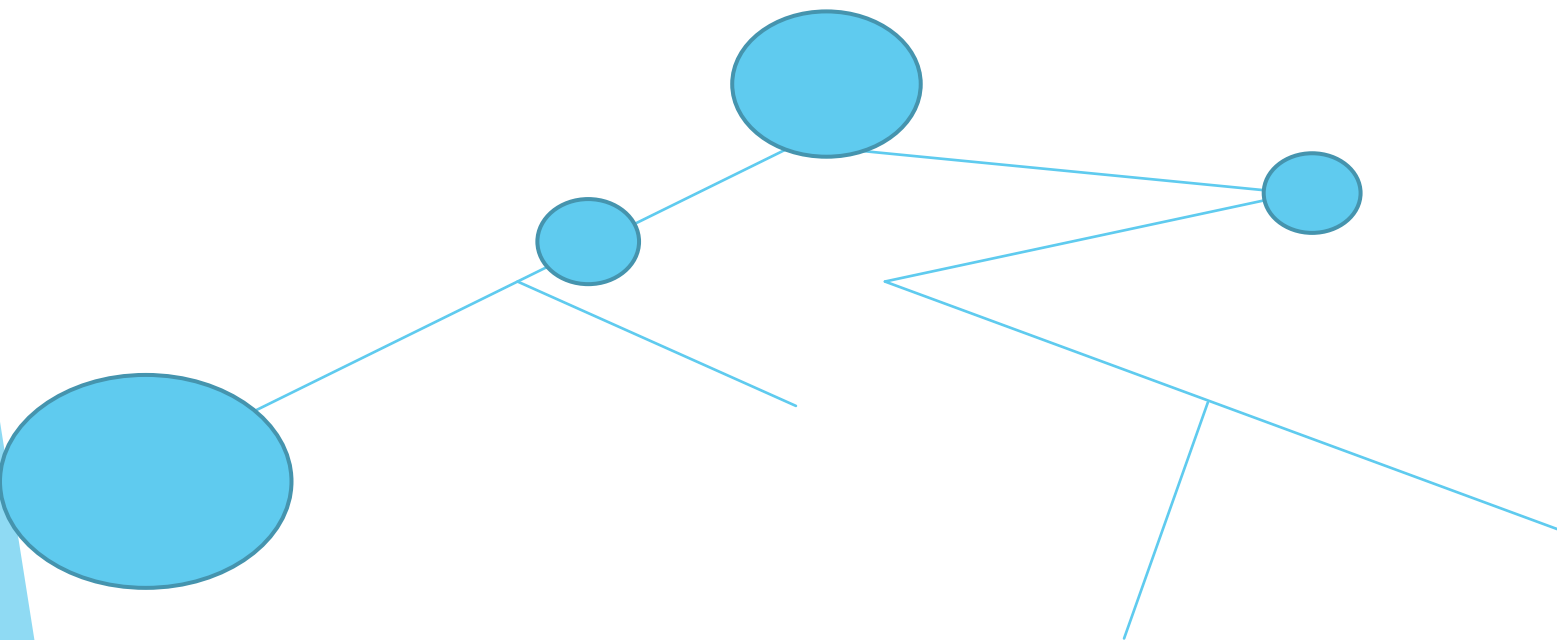


7. В посёлке расположено 7 участков. На участке Юры 2 дома. На участке Эли есть пруд. На участке Дани есть огород. Справа участка Дани расположен участок Вани. Справа от участка Вани участок Маши. У Димы на участке есть электрическая будка.

- Где участок Юли?
- Какой участок самый большой?



8. Между Москвой и Волгоградом расположен Санкт-Петербург. Волгоград больше чем Кострома, но меньше чем Москва.
• Где Санкт-Петербург?



10. Какие числа соседствуют с цифрой 50?

- Какие числа соседствуют с цифрой 34?
- Какие числа соседствуют с цифрой 23?

1 2 3 4 5 6 7 8 9 10 11 12 13 14 15 16 16 17 18 19 20 21 22 23 24 25 26 27 28 29 30 31 32

33 34 35 36 37 38 39 40 41 42 43 44 45 46 47 48 49 50 51 52 53 54 55 56 57 58 59 60 61



Умножение

$$\begin{array}{ccc} 1 & 2 & \\ \text{множитель} & \text{множитель} & \text{Произведение} \\ \hline 2 & \cdot & 2 = 4 \end{array}$$

- - **знак умножения**

Умножение проверяется делением.

Деление

Делимое Делитель Частное

$$\begin{array}{c} \underbrace{\quad} \quad \underbrace{\quad} \quad \underbrace{\quad} \\ 4 : 2 = 2 \end{array}$$

$$2 \cdot 2 = 4 \quad \text{Проверка:} \quad 4 : 2 = 2$$

