

Сьогодні
17.07.2021

Урок
№ 59



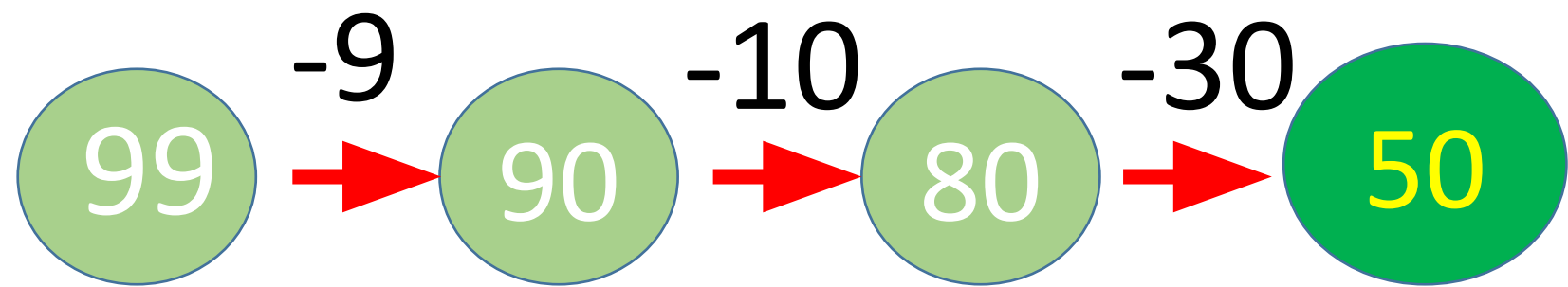
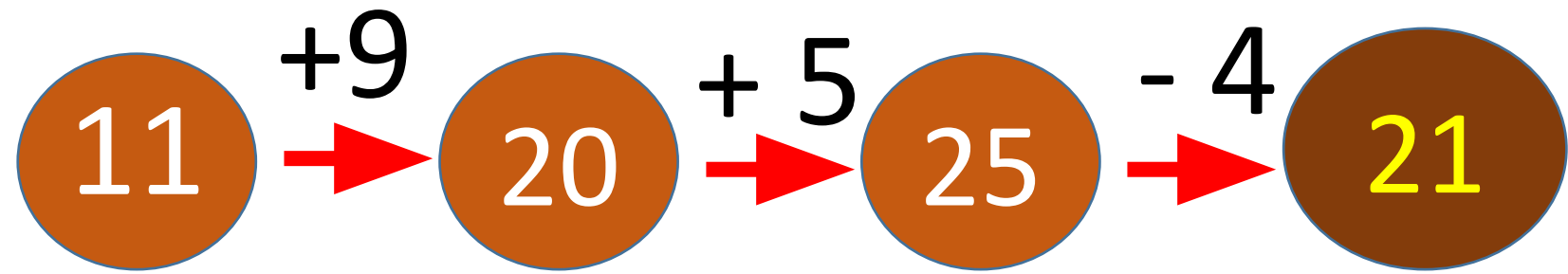
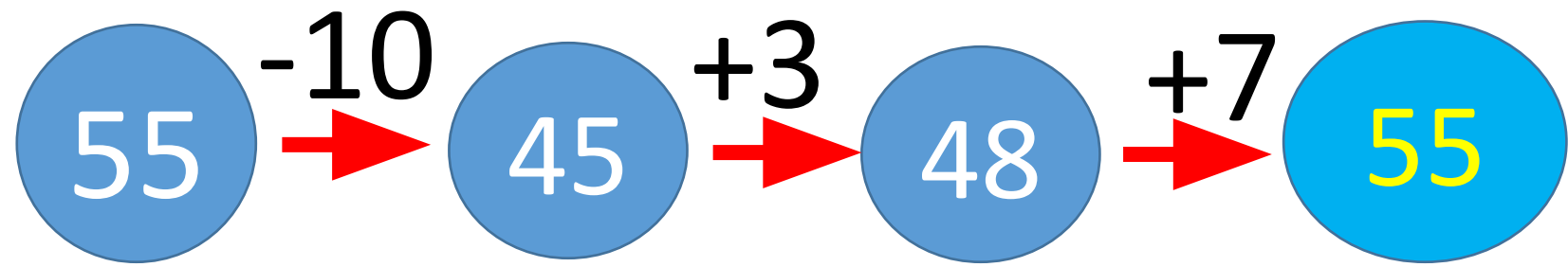
**Віднімання виду 15 - а.
Додавання й
віднімання частинами.
Розпізнавання
геометричних фігур**





Ось дзвінок сигнал нам
дав.

Працювати час настав.
Тож і ми часу не гаймо,





грудня
Класна робота

60 59 58 57 56 55

Запиши числа від 60 до 55



РУХЛИВА ВПРАВА!

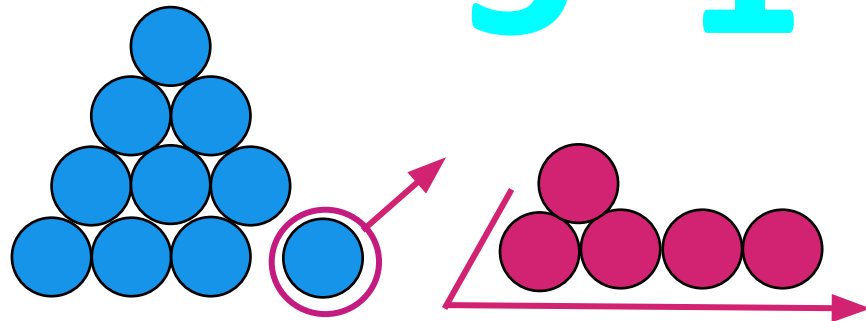


Сьогодні
17.07.2021

**Робота з
підручником
з математики
Антоніни Заїки
с. 62**



$$15 - 6 = 10 - 1 = 9$$




$$15 - 6 = 9$$

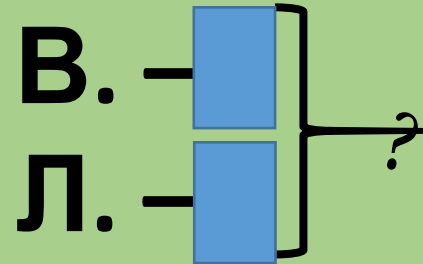
$$15 - 6 = 9$$

$$15 - 8 = 7$$

$$15 - 7 = 8$$

$$15 - 9 = 6$$





У лісі танцювали 9 ведмедів
і 5 лисичок.

Скільки звірів танцювало
у лісі разом?

Задача 3

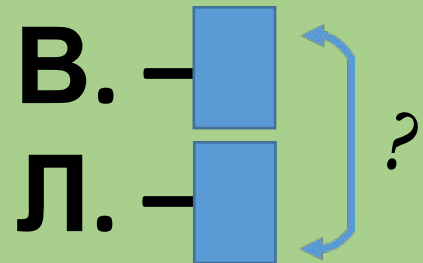
$$9 + 5 = 14 \text{ (зв.)}$$

Відповідь: 14 звірів танцювали в
лісі.



Сьогодні
17.07.2021

Доповни умову двома запитаннями. Розв'яжи задачі



У лісі танцювали 9 ведмедів
і 5 лисичок.

На скільки більше танцювало
ведмедиків, ніж лисичок?

Задача 3

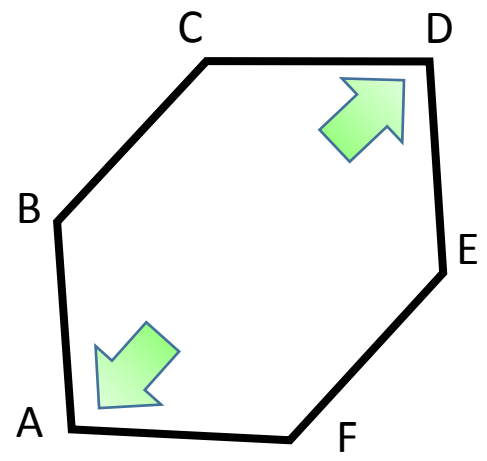
$$9 - 5 = 4 \text{ (в.)}$$

Відповідь: на 4 ведмедика
більше.

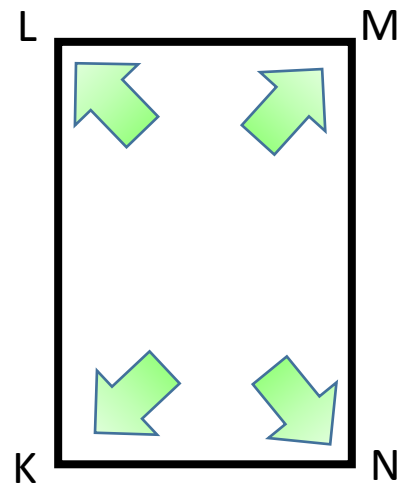


Сьогодні
17.07.2021

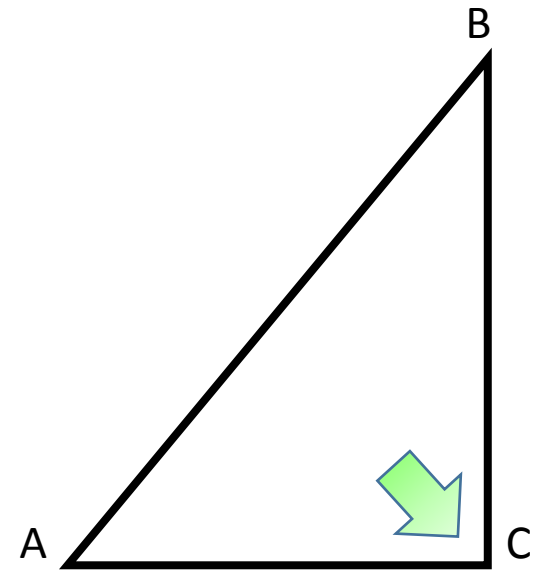
Кожна з фігур має прямі кути. Визнач і назви їх



Шестикутник



Чотирикутник



трикутник



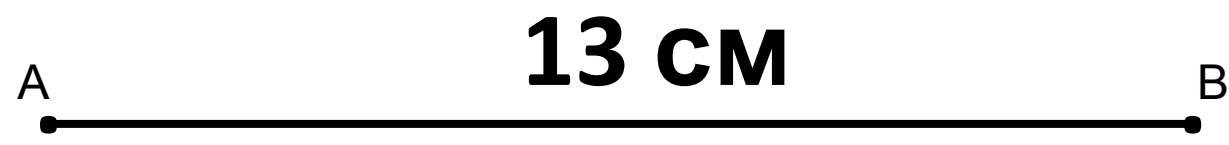
Сьогодні
17.07.2021

Яка довжина відрізка АВ, якщо він на 4 см довший за відрізок CD?
Накресли відрізок АВ




$$9 + 4 = 13$$

CM



Сьогодні
17.07.2021

Фізкультхвилинка



Сьогодні
17.07.2021



**Робота з зошитом
з математики
Антоніни Заїки,
Світлани
Тарнавської
с. 61**

$$9 + 6 = 15$$

$$15 - 6 = 9$$

$$8 + 7 = 15$$

$$15 - 7 = 8$$

$$15 - 9 = 6$$

$$15 - 8 = 7$$





$20 - 5$

$24 - 9$

15

$23 - 8$

$21 - 6$

$22 - 7$

В одному акваріумі 9 рибок,
а в другому на 8 більше.

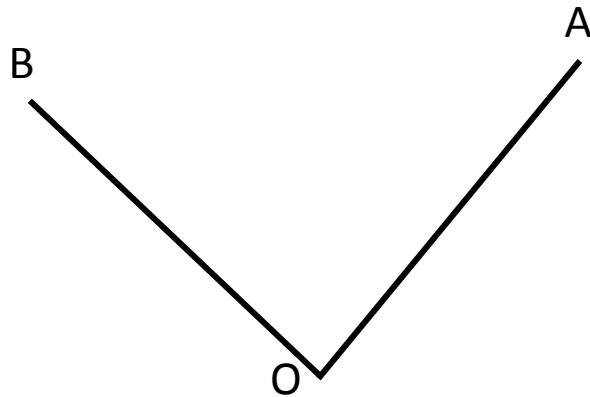
Скільки |

Розв'язання $9 + 8 = 17$ (р.)



Відповідь: 17 рибок в другому
_ акваріумі.

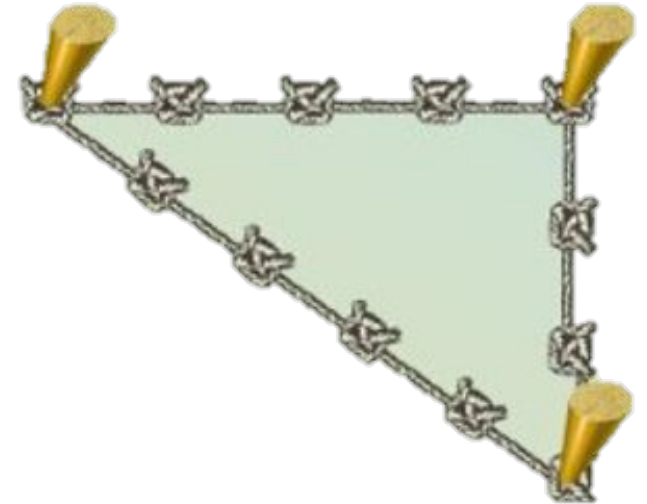
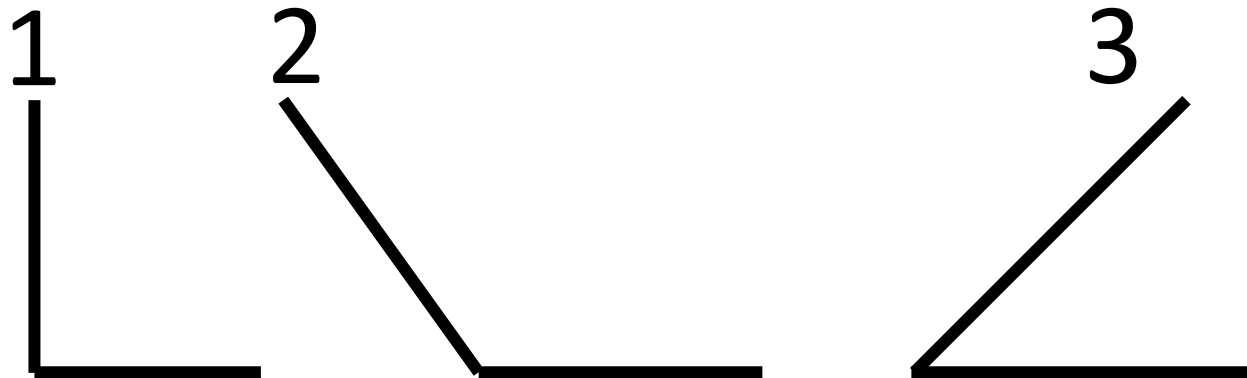
Проведи від точки O ще один промінь OB . Яка фігура утворилася?



Кут BOA




У парі продемонструйте за допомогою стрічки, нитки, тасьми різні кути: прямий, більший за прямий і менший за прямий.



Сьогодні
17.07.2021

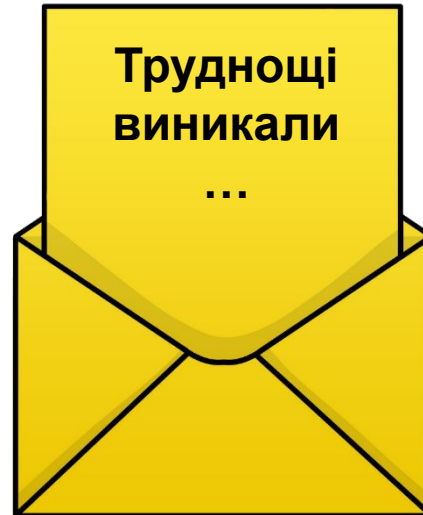
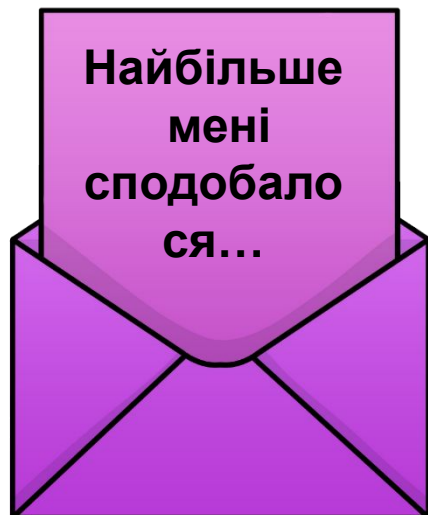
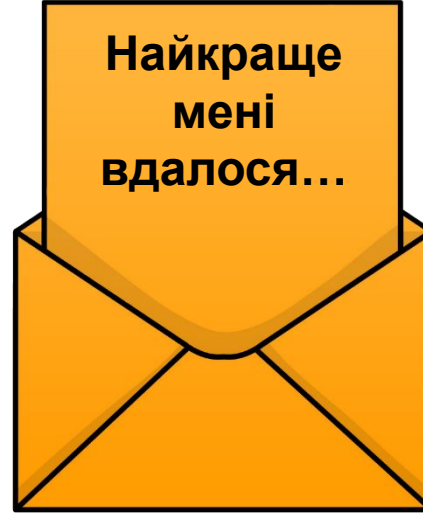
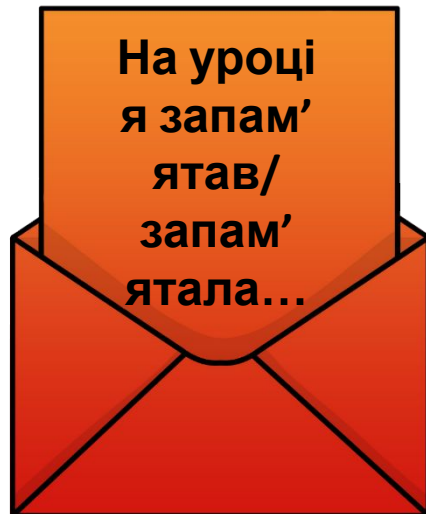
Домашні тренувальні вправи



**Опрацювати
№ 6, 7
на сторінці 62**

Сьогодні
17.07.2021

Рефлексія «Загадкові листи»



**Обери лист, який ти хочеш
відкрити**
(щоби відкрити лист, натисніть на нього)

