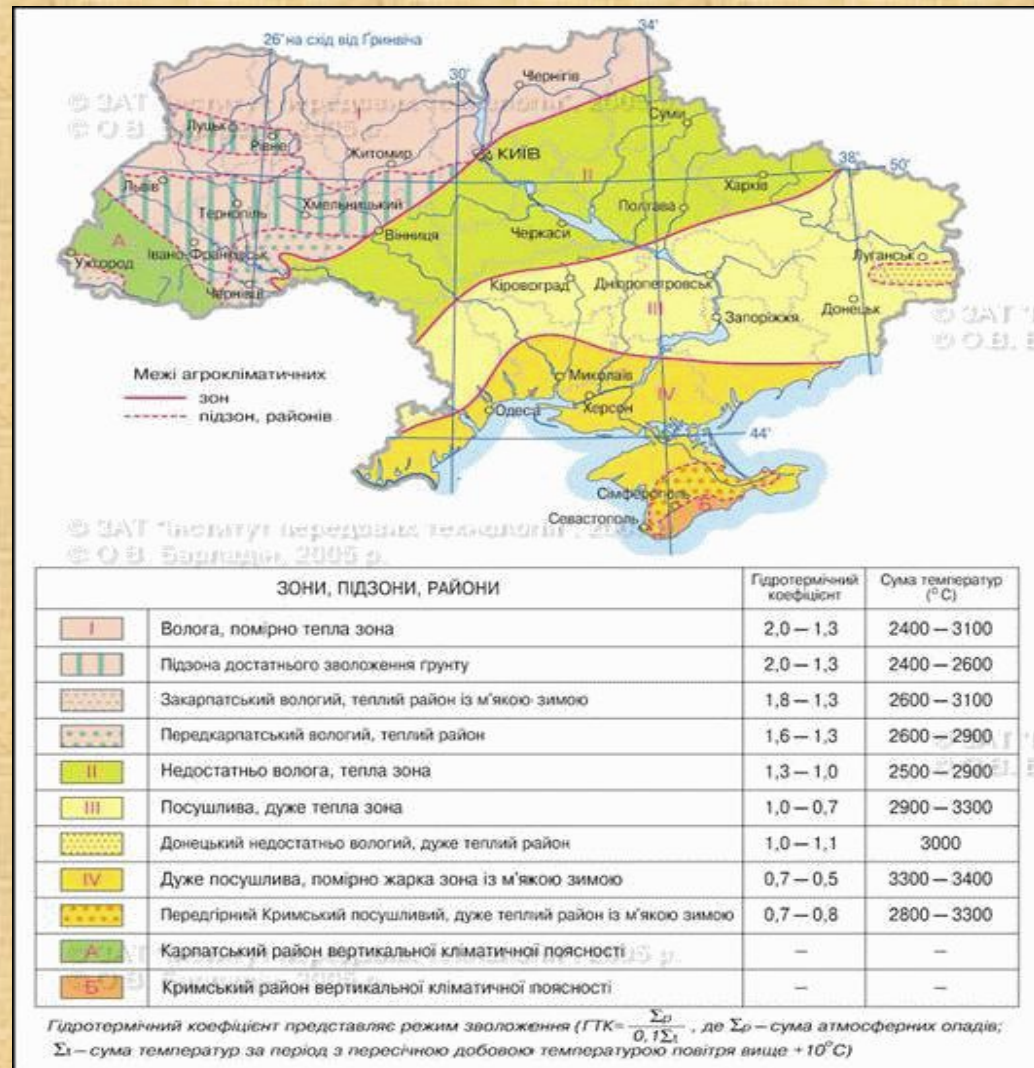


РОСЛИННИЦТВО УКРАЇНИ

займається
 вирощуванням
 сільськогосподарськи
 х культурних рослин.
 --- За
 агрокліматичними та
 земельними
 ресурсами,
 спеціалізацією с/г, в
 Україні виділяють 3
 сільськогосподарські
 зони
 (Мішані Ліси,
 Лісостеп та Степ),
 гірські країни
 (Карпати та Кримські
 гори) та приміські
 зони.

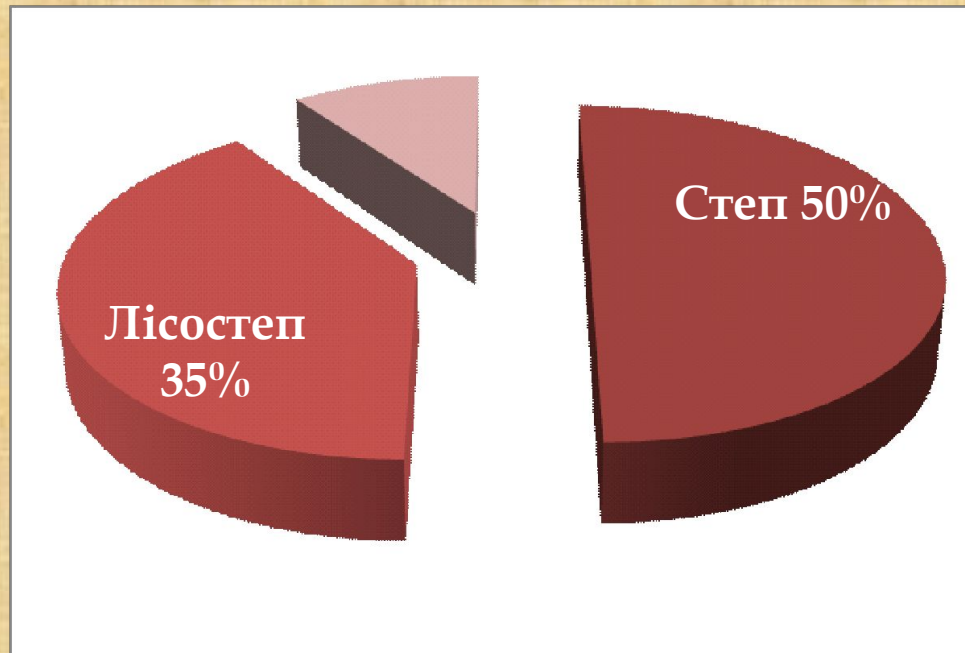


Місце України на світових аграрних ринках у 2011 році

- Україна увійшла в трійку найбільших світових експортерів зерна, в тому числі по експорту ячменю – 1 місце, пшениці – 6 місце.
 - 3 місце в світі по виробництву насіння соняшнику, 2 місце - по виробництву соняшnikової олії, і 1 місце - по експорту соняшnikової олії.
 - 4 місце в Європі і 7 місце в світі по обсягах виробництва картоплі;
 - 2 місце після Турції з експорту томатів і 4 місце - огірків у РФ;
- Найбільший в Європі виробник моркви в 2011 році;
2 місце в Європі по виробництву цибулі в 2011 році;
Україна входить в 5-ку лідерів по поставках яблук в РФ;
Україна входить в 5-ку світових лідерів по виробництву вишні, малини, смородини і займає 6 місце в Європі по виробництву полуниці садової;
Україна - нетто-експортер баштанних культур і черешні.

Серед галузей рослинництва найважливішою є зернове господарство. Зернове господарство формує продовольчий фонд і поставляє фуражне зерно тваринництву, створює резервні державні запаси зерна і дає продукцію на експорт.

У структурі виробництва зерна більше половини припадає на озиму пшеницю.



I. Зернові

1. Хлібні:

- озима пшениця (ЛСт, Ст);
- яра пшениця (Степ);
- жито (МЛ)

2. Зернофуражні:

- ячмінь (ЛСт, Ст);
- кукурудза (Степ);
- овес (МЛ).

3. Круп'яні:

- просо (Степ);
- ЛСт)
- гречка (МЛ);
- рис (Степ, зрошування)
- зрошув.)



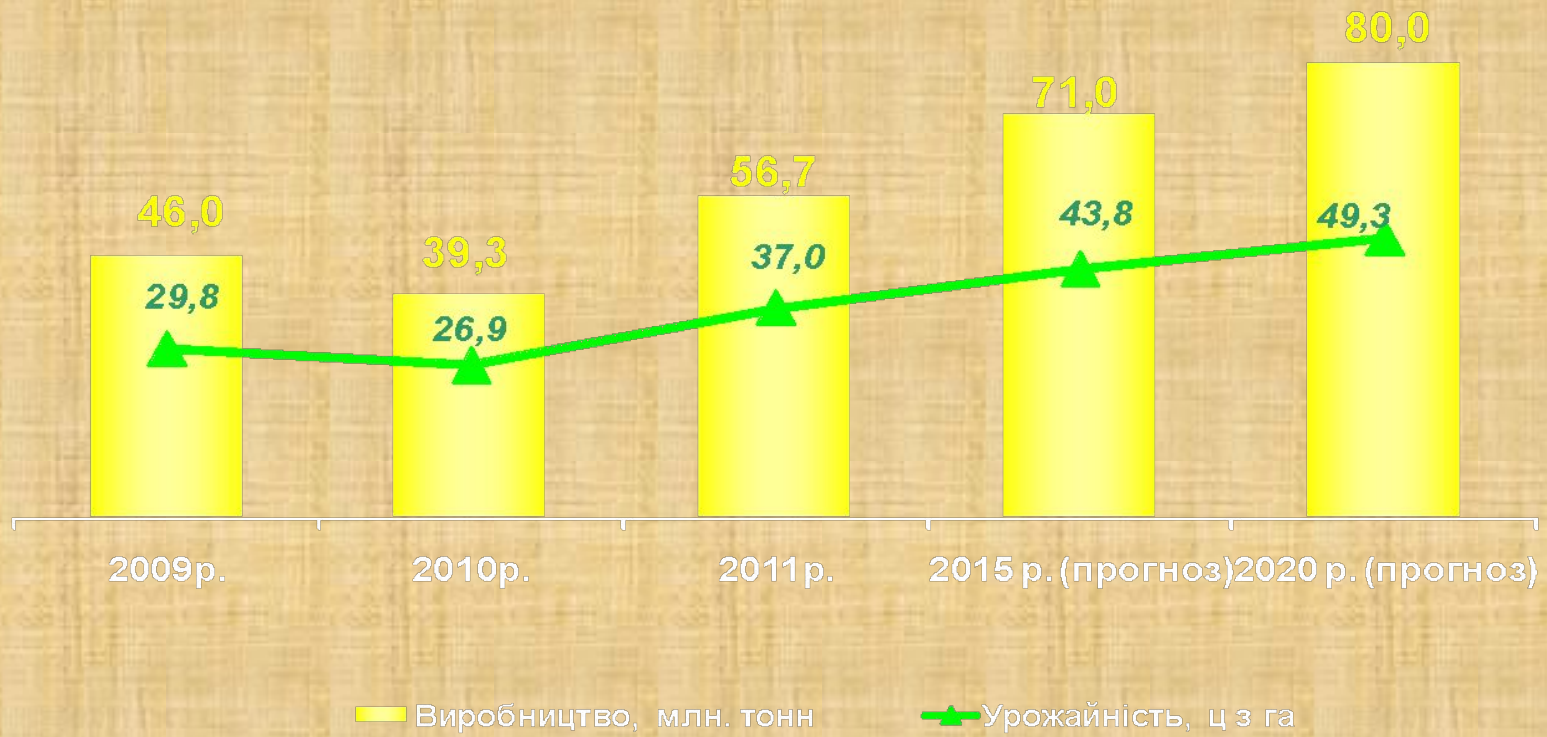
4. Зернобобові:

- горох, вика (МЛ,
- квасоля (Степ);
- соя (Степ,

Пшениця – основа зернова культура, що вирощується на території України. В структурі виробництва пшениці більше половини припадає на **озиму пшеницю**. Її посіви займають 6-7 млн. га, що становить 43% посівів усіх зернових культур. Озима пшениця характеризується високою врожайністю – 30-40 ц/га. **Яра пшениця** використовується як страхова культура, коли доводиться пересіювати пошкодженні ділянки озимини. Озиму пшеницю висівають восени, вегетує вона до настання холодів, а потім відновляє свій ріст навесні. Цей вид пшениці раніше дозріває і має вищу врожайність, проте не витримує сильних морозів

Озиме жито - друга важлива продовольча культура, менш вимоглива до ґрунтово-кліматичних умов, ніж пшениця. Це морозостійка та посухостійка культура, з коротким вегетаційним періодом (80-120 днів), невисокою сумою активних температур (1000-1250°). Вона дає хоч і невисокий, проте стабільний врожай і росте непогано на кислих, бідних поживними речовинами дерно-підзолистих ґрунтах. Основні її посіви зосереджені в Поліссі

Виробництво зернових культур у всіх категоріях господарств



II. Технічні культури

1. цукристі:

- цукровий буряк (ЛСт);

2. олійні:

- соняшник (Степ);
- льон - кудрявець (Степ);
- арахіс (Степ);
- соя (Степ).



4. волокнисті:

- льон – довгунець (МЛ);
- коноплі (ЛСт, Ст);
- джут (Одеська обл.)



3. ефіроолійні:

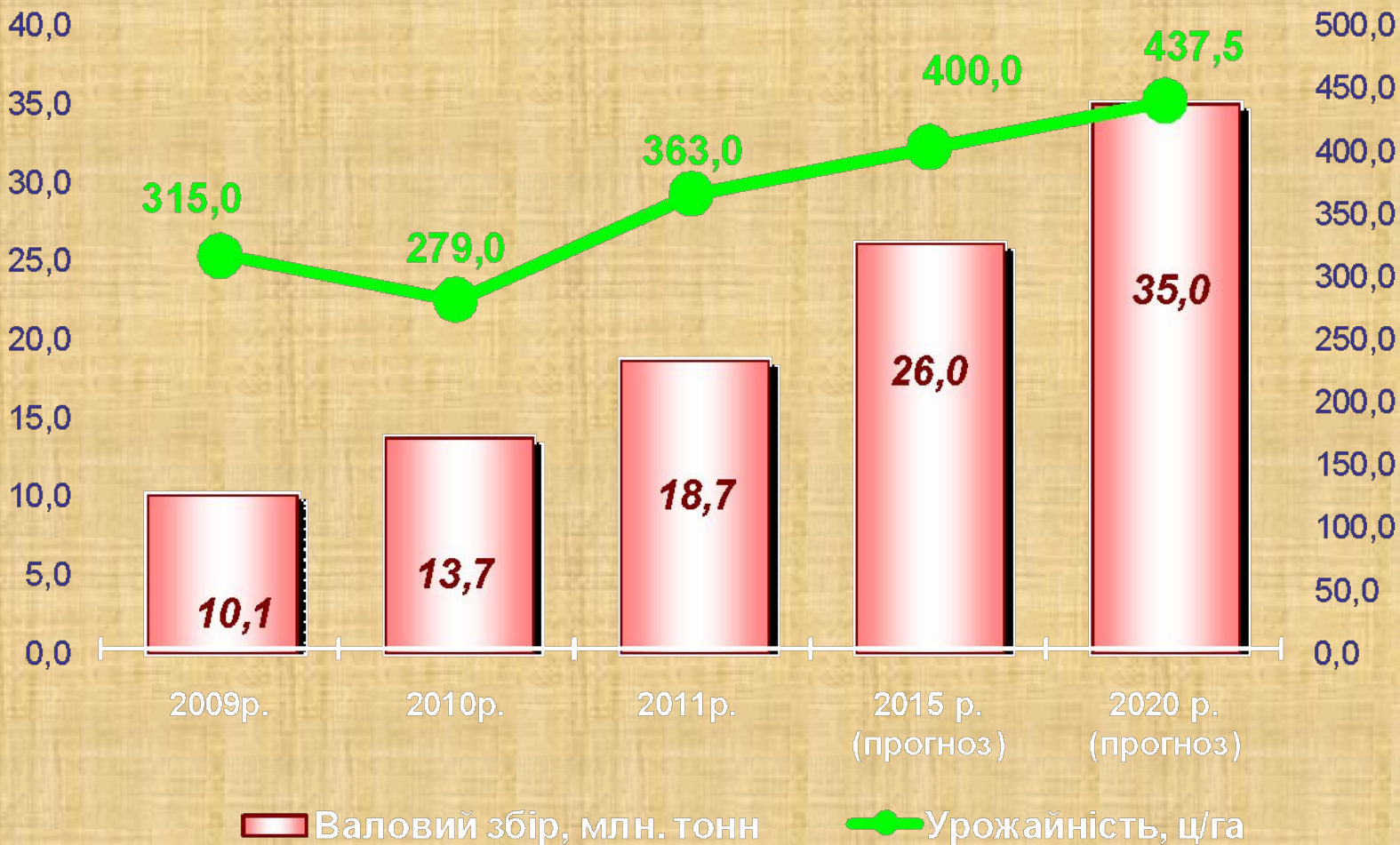
- м'ята, фенхель (ЛСт);
- троянда, лаванда (Крим).

5. інші:

- тютюн (ЛСт, Степ);
- хміль (МЛ);
- лікарські рослини (повсюдно)



Виробництво цукрових буряків у всіх категоріях господарств



Виробництво соняшнику на зерно в усіх категоріях господарств



III. Бульбоплідні

- картопля (повсюдно, особливо МЛ).

IV. Овоче – баштанні

- овочі (приміські райони);
- баштанні (Степ та приміські райони).

V. Кормові

- кукурудза на силос та зелений корм;
- трави: конюшина, люцерна, люпин;
- кормові баштанні;
- кормові коренеплідні (буряки, морква...)



Вика



Конюшина



Льон
довгунець



Люцерна

VI. Сади:

- насіннячкові (МЛ, ЛС);
- кісточкові (Степ);
- горіхоплідні (повсюдно).



VII. Ягідники

- приміські райони.

VIII. Виноградники

- 90% - АР Крим,
південні
області та Закарпаття.



Закріплення вивченого матеріалу:

I. дати відповіді на запитання.

- 1. назвати умови розвитку сільського господарства.**
- 2. які культури відносяться до хлібних, де вони вирощуються?**
- 3. які агрокліматичні умови сприяють вирощування цукрового буряку у Лісостепу?**
- 4. які волокнисті рослини вирощуються в Одеській області;**
- 5. чим відрізняється льон – довгунець та льон – кудрявець?**
- 6. який чинник розміщення характерний для овочівництва та вирощування ягідників?**

II. На контурну карту нанести посіви головних сільськогосподарських культур.

Домашнє завдання:

- 1. вивчити § 28**
- 2. підготуватись до тестової роботи.**