

# **Проверка домашнего задания**

**165.** Расставьте скобки так, чтобы получилось верное равенство:

а)  $24 + 12 \cdot 2 = 72$ ;

в)  $72 : 36 - 24 \cdot 10 = 60$ ;

б)  $150 - 60 : 3 = 30$ ;

г)  $150 - 2 \cdot 24 + 12 : 6 = 140$ .

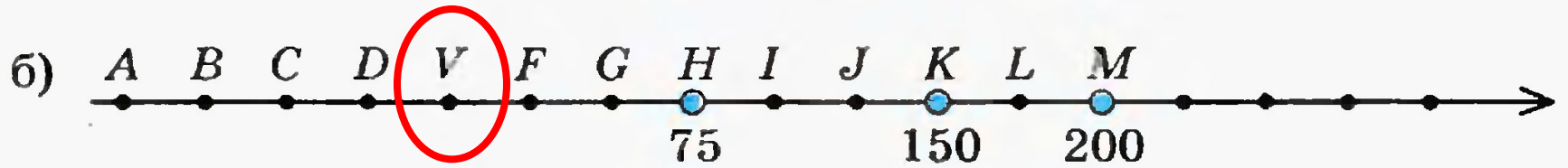
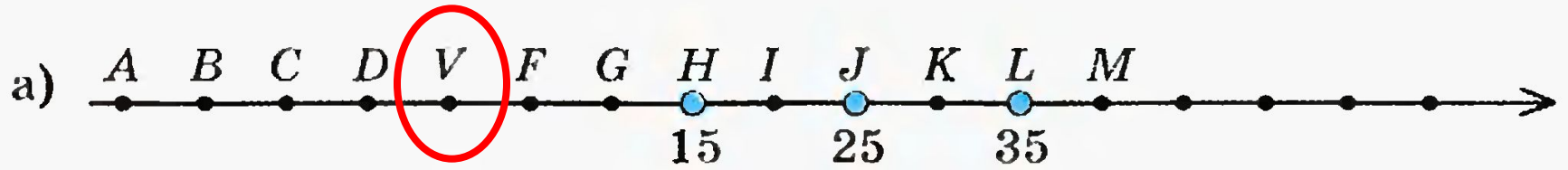
**а)  $(24 + 12) \cdot 2 = 72$**

**б)  $(150 - 60) : 3 = 30$**

**в)  $72 : (36 - 24) \cdot 10 = 60$**

**г)  $150 - (2 \cdot 24 + 12) : 6 = 140$**

**166.** Укажите, какой точке на рисунке 33 соответствует начало координатного луча.



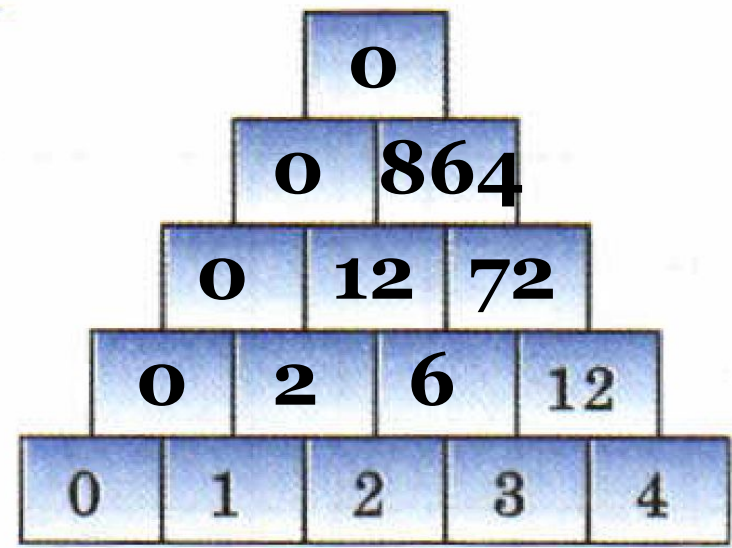
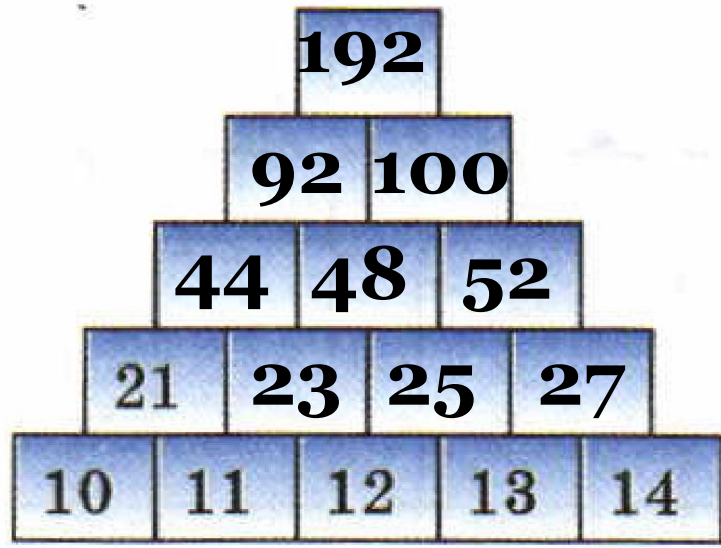
**9.2.** Даны числа: 12388 и 326. Запишите:

- 1) старший разряд числа 12388 ДЕСЯТКИ ТЫСЯЧ ;
- 2) старший разряд числа 326 СОТНИ ;  
ЕДИНИЦЫ МИЛЛИОНОВ ;
- 3) старший разряд произведения этих чисел \_\_\_\_\_ ;  
какая цифра может быть в этом разряде 3 ;
- 4) старший разряд частного этих чисел ДЕСЯТКИ ;  
какая цифра может быть в этом разряде 4 .

$$12\ 388 \cdot 326 \approx 12\ 000 \cdot 300 \approx 3\ 600\ 000$$

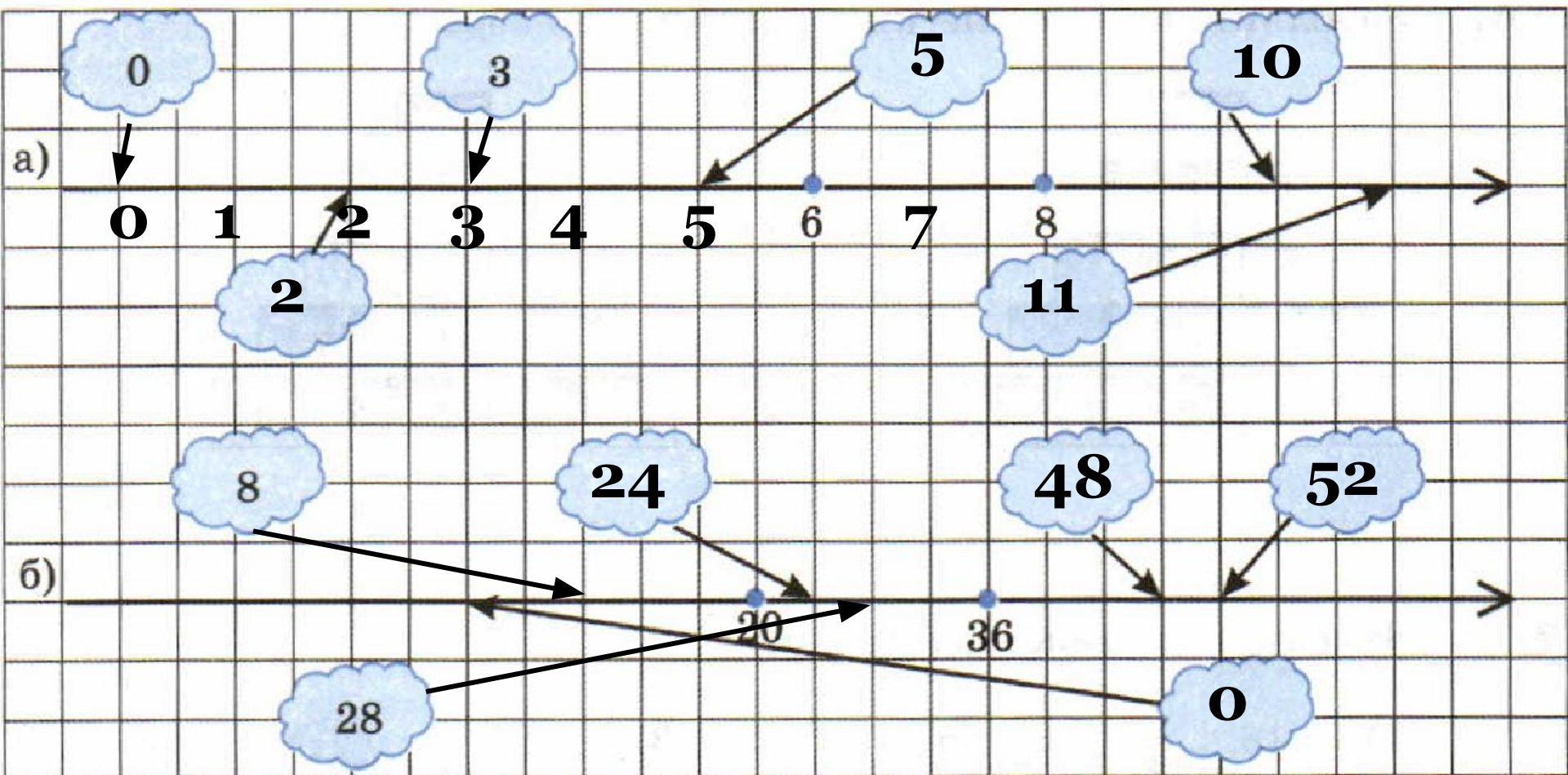
$$12\ 388 : 326 \approx 12\ 000 : 300 \approx 40$$

**9.6.** Заполните пустые клетки в пирамиде по образцу:





9.9. Впишите недостающие числа и дорисуйте стрелки:





*К л а с с н а я    р а б о т а .*

$$237\ 541 + 3\ 072\ 080 = 3\ 309\ 621$$

Класс миллионов			Класс тысяч			Класс единиц			
сот.	дес.	ед.	сот.	дес.	ед.	сот.	дес.	ед.	
			2	3	7	5	4	1	237 541
		+	3	0	7	2	0	8	3 072 080
			3	3	0	9	6	2	3 309 621

**Сложение натуральных чисел выполняется по разрядам**



$$4\ 508\ 022 - 364\ 209 = 4\ 143\ 813$$

Класс миллионов			Класс тысяч			Класс единиц			
сот.	дес.	ед.	сот.	дес.	ед.	сот.	дес.	ед.	
		<b>4</b>	<b>5</b>	<b>0</b>	<b>8</b>	<b>0</b>	<b>2</b>	<b>2</b>	<b>4 508 022</b>
			<b>3</b>	<b>6</b>	<b>4</b>	<b>2</b>	<b>0</b>	<b>9</b>	<b>364 209</b>
		<b>4</b>	<b>1</b>	<b>4</b>	<b>3</b>	<b>8</b>	<b>1</b>	<b>3</b>	<b>4 143 813</b>

**Вычитание натуральных чисел выполняется по разрядам**

**171.** Ящерица Киндзя приобрела на рынке фрукты трех сортов: пельсианы, рангаты и кабриосы. За всю покупку Киндзя заплатила 1780 юке. Определите стоимость экзотических фруктов каждого вида, если пельсианы и рангаты стоили вместе 1250 юке, а кабриосы и пельсианы — 1084 юке.



**1084 юке**

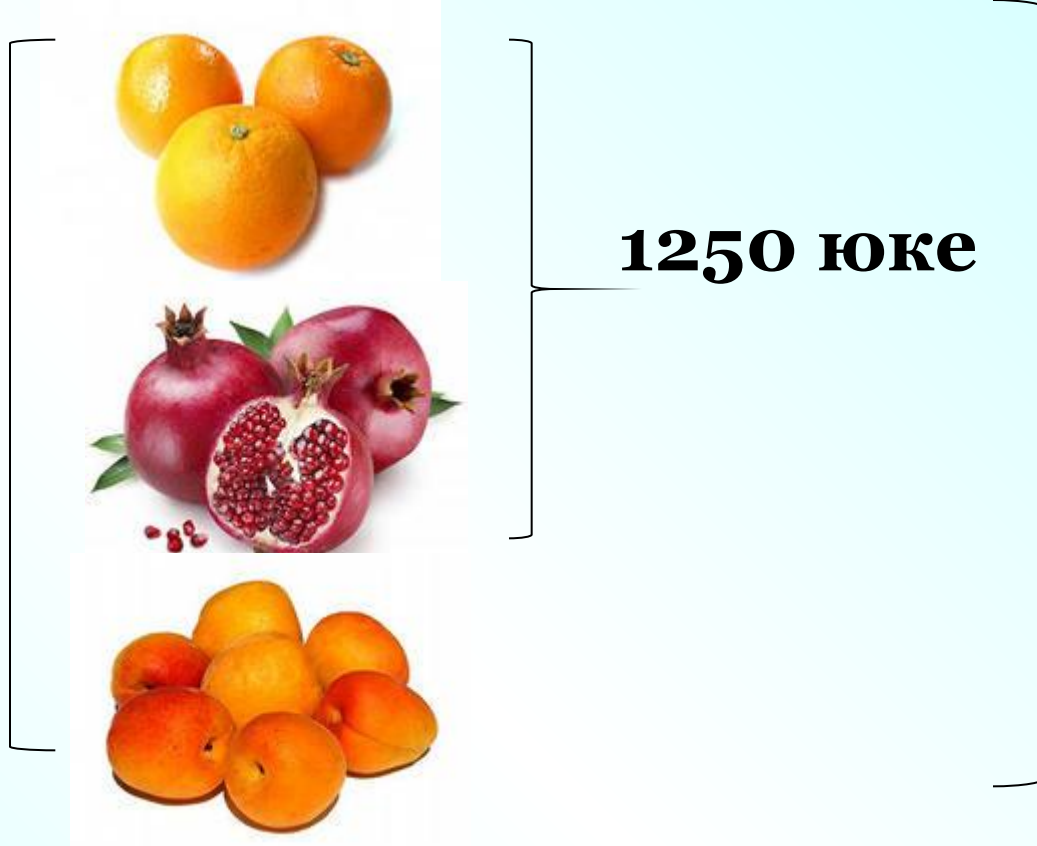


**1250 юке**



**1780 юке**

**1084 юке**



**1)  $1780 - 1084 = 696$  (юке) – рангаты**

**2)  $1250 - 696 = 554$  (юке) – пельсианы**

**3)  $1084 - 554 = 530$  (юке) – кабриосы**

**Ответ: рангаты стоят 696 юке, пельсианы – 554 юке, кабриосы – 530 юке.**

# Дома:

*у: № 169, 170*