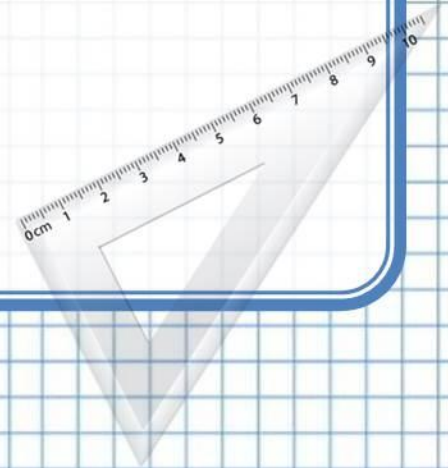


«Школа России»

1 класс

Урок 33

Сложение и вычитание
с числом 0.



Устная работа.

Пять малышей-медвежат
Мама уложила спать.
Одному никак не спится,
А скольким сон хороший снится?



Цапля по воде шагала,
Лягушат себе искала.
Двое спрятались в траве,
Шесть - под кочкой.
Сколько лягушат спаслось?
Только точно!



Какое число стоит между 5 и 7.

Увеличьте 6 на 3.

Уменьшите 6 на 3.

4

8

6

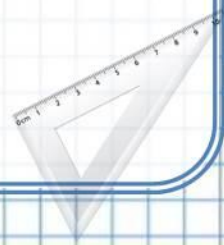
9

3



Назовите числа в порядке возрастания.

Назовите числа в порядке убывания.



$$5 + 2 = 7$$

$$5 + 1 = 6$$

$$7 - 2 = 5$$

$$9 - 2 = 7$$

$$8 + 1 = 9$$

$$6 - 1 = 5$$

$$7 - 1 = 6$$

$$7 + 1 = 8$$

$$5 - 0 = ?$$


$$5 + 0 = ?$$



Тема урока:

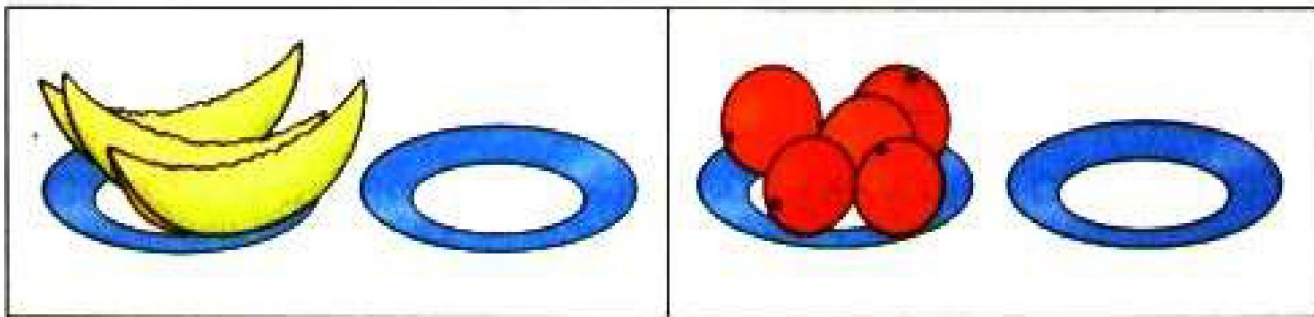
Сложение и вычитание с числом 0.





с.72





$$3 + 0 = 3$$

$$3 - 0 = 3$$

$$5 + 0 = 5$$

$$5 - 0 = 5$$



Какой **вывод** можно сделать?

**Если к числу прибавить нуль,
получится то же самое число.**

**Если из числа вычесть нуль, то
получится то же самое число.**



$$0 + a = a$$

$$a - 0 = a$$

$$a - a = 0$$



Спиши, вставляя пропущенные числа.

$$2 - 2 = 0$$

$$6 + 0 = 6$$

$$10 + 0 = 10$$

$$8 - 8 = 0$$

$$9 + 0 = 9$$

$$10 - 0 = 10$$




Назови числа в порядке уменьшения.

9 см




10 см



10 см ○ 9 см





с.73



Ваня поймал



а Саша поймал



Сколько всего рыбок они поймали?

$$4 + 2 = 6 \text{ (р.)}$$

Ответ: 5 рыбок.



У Веры было



Она подарила подруге 1 куклу. Сколько кукол осталось у Веры?

$$5 - 1 = 4 \text{ (к.)}$$

Ответ: 4 куклы.

МНОГОМУ!!!

