

Математик

а



УСТНЫЙ СЧЁТ

Игра «Парашютист»



$18-8$

$19-10$




$8+8$

$13-9$

$10+3$

$15+5$

Какая фигура «лишняя»?




Ответ:

По форме:



По размеру:




По цвету:



Реши задачу.

Как разделить пять яблок между пятью девочками так, чтобы каждая получила по яблоку и при этом одно из яблок осталось в корзинке?





НАБЕРИ 12:





НАБЕРИ 12:



$$4+6+2=12$$

$$3+7+2=12$$

$$9+1+2=12$$

$$6+5+1=12$$

$$8+3+1=12$$

$$7+4+1=12$$

**Определи закономерность
и продолжи числовой ряд.**

1, 3, 5, 7, 9, , , , .

2, 5, 4, 7, 6, , , , .

**Определи закономерность
и продолжи числовой ряд.**

1, 3, 5, 7, 9, 11, 13, 15, 17.

2, 5, 4, 7, 6, 9, 8, 11, 10.

20 апреля
Классная работа

№1

(с.88)

(5 минут)

Задача №2

Задача №3

УСТНО

Задача № 4

УСТНО

№4

(с.89)

№6