

ГИА ОГЭ

БЛОК ДВАДЦАТЬ ВТОРОЙ

Задания, в которых необходимо верно проанализированные числовые данные во временном и количественном контексте

1. В каком из указанных годов превышение числа иммигрантов над числом эмигрантов в РФ было наименьшим?

Компоненты изменения общей численности населения России

Годы	в 2009–2012 гг. (тыс. человек)		
	Среднегодовая численность населения	Общий прирост населения	Миграционный прирост населения
2009	142 785	96,3	345,2
2010	142 849	31,9	271,5
2011	142 961	191,0	320,1
2012	143 202	290,7	295,0

Ответ: _____ г.

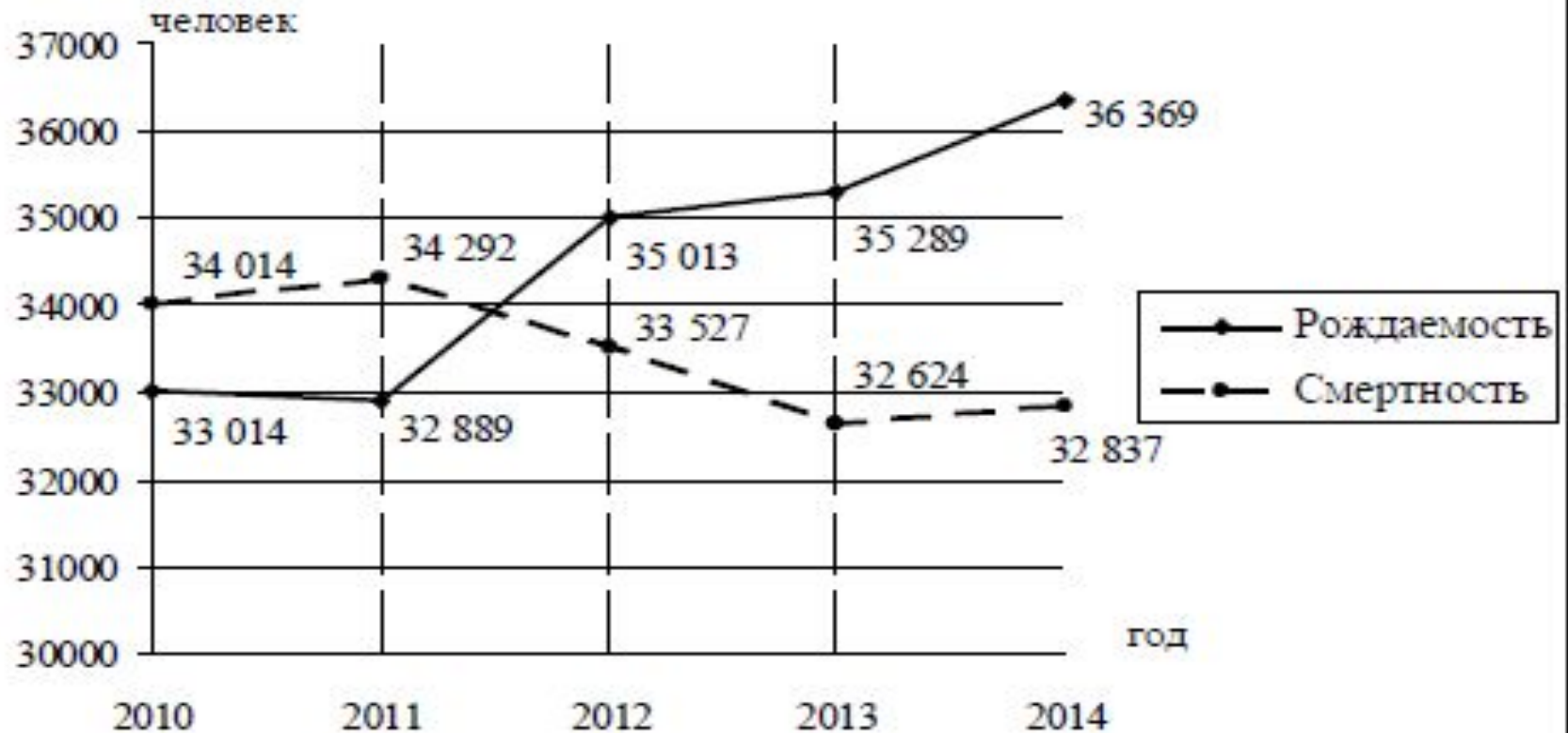
2. В какой из перечисленных областей России за период с 2012 по 2014 г. наблюдалось постоянное **снижение** численности населения?

Площадь территории и численность населения отдельных регионов России

Регион	Площадь территории, тыс. км ²	Численность населения по годам, тыс. человек		
		2012 г.	2013 г.	2014 г.
Ярославская область	36,5	1271	1272	1272
Ивановская область	52,5	2332	2329	2331
Тульская область	92,6	209	212	213
Иркутская область	461,4	155	150	148

3. В каком году из показанных на графике рождаемость населения была **наибольшей**?

**Воспроизводство населения в Ставропольском крае
2010–2014 гг. (человек)**

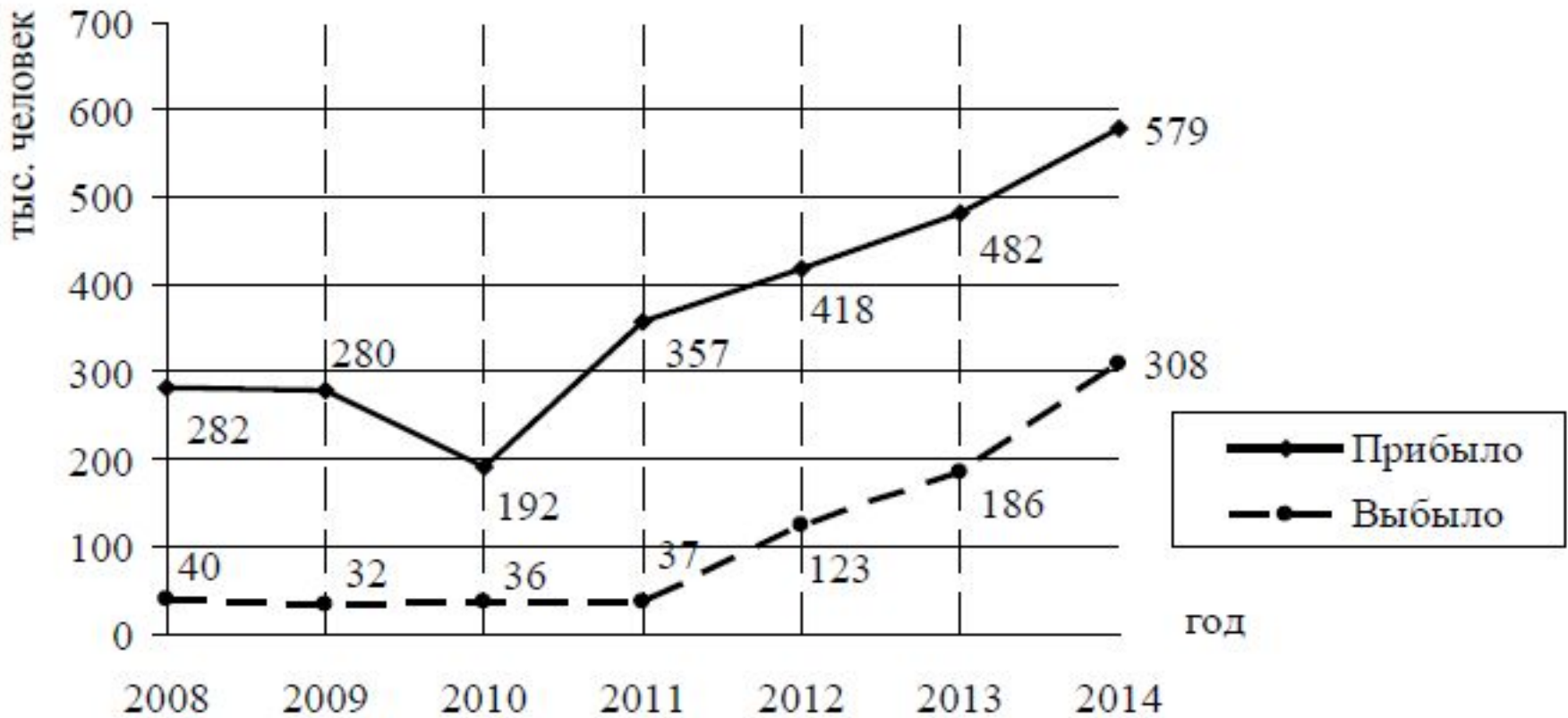


СДАМГИИ.РФ

Ответ: _____ г.

4. В каком году из показанных на графике на постоянное место жительства в Россию из других стран въехало **наибольшее** количество людей?

Международная миграция в России за период 2008–2014 гг.



Ответ: _____ г.

5. На основе анализа данных приведённой таблицы укажите регион, в котором ежегодно происходило **уменьшение** коэффициента смертности.

Воспроизводство населения в отдельных регионах РФ в 2015-2018 гг. (на тыс. человек)

Регион	2015 г.		2016 г.		2017 г.		2018 г.	
	Рождае- мость	Смерт- ность	Рождае- мость	Смерт- ность	Рождае- мость	Смерт- ность	Рождае- мость	Смерт- ность
Курская область	12,1	13,9	11,6	13,9	10,3	13,4	9,8	13,4
Липецкая область	12,6	15,0	12,1	15,0	10,8	14,8	10,2	14,7
Брянская область	12,5	15,8	12,0	15,6	9,7	14,9	9,7	14,8
Тульская область	11,9	11,6	11,2	11,5	10,3	11,1	9,8	11,3

Ответ: _____ область

6. На основе анализа данных приведённой таблицы укажите регион, в котором эксплуатационная длина железнодорожных путей общего пользования в 2017 г. **увеличилась** по сравнению с 2010 г.

Регион	Площадь территории, тыс. км ²	Эксплуатационная длина железнодорожных путей общего пользования, км		
		2010 г.	2013 г.	2017 г.
Свердловская область	194,3	3547	3523	3524
Ленинградская область	83,9	2462	2462	2550
Архангельская область	589,9	1767	1767	1767
Вологодская область	416,8	1690	1690	1690

Ответ: _____ область

7. В каком из указанных годов превышение числа иммигрантов над числом эмигрантов в РФ было наименьшим?

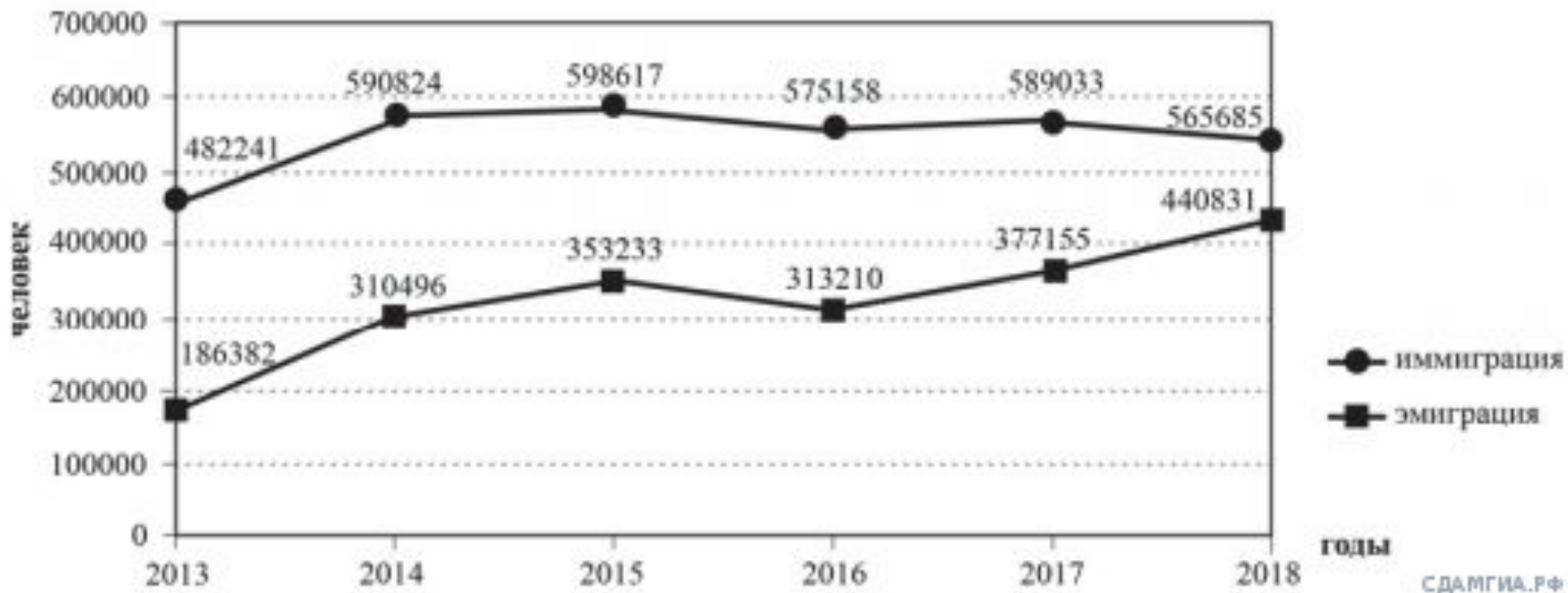
Компоненты изменения общей численности населения России

Годы	Среднегодовая численность населения	Общий прирост населения	Миграционный прирост населения
2009	142 785	96,3	345,2
2010	142 849	31,9	271,5
2011	142 961	191,0	320,1
2012	143 202	290,7	295,0

Ответ: _____ г.

8. В каком году из показанных на графике на постоянное место жительства в Россию из других стран въехало **наибольшее** число людей?

Международная миграция в России за период 2013–2018 гг.



Ответ: _____ г.

9. В каком из перечисленных регионов эксплуатационная длина железнодорожных путей общего пользования за период с 1995 по 2010 г.

Площадь территории и эксплуатационная длина железнодорожных путей общего пользования отдельных регионов РФ

Регион	Площадь территории, тыс. км ²	Эксплуатационная длина железнодорожных путей общего пользования, км			
		1995 г.	2000 г.	2005 г.	2010 г.
Омская область	141,1	888	775	752	752
Иркутская область	351,3	1199	1199	1227	1227
Курганская область	71,5	748	748	748	748
Томская область	214,4	244	246	246	246

Ответ: _____ область

10. В какой из перечисленных областей в 2011 г. число выбывших **превышало** число прибывших?

Изменение численности постоянного населения субъектов РФ в 2011 г. (человек)

Субъект РФ	Среднегодовая численность населения	Общий прирост населения	Миграционный прирост населения
Белгородская область	1 536 073	3720	8350
Владимирская область	1 436 531	-8693	-252
Воронежская область	2 333 158	-3303	9 863
Ивановская область	1 054 040	-6069	795

Ответ: _____ область

11. В каком из указанных годов превышение числа иммигрантов над числом эмигрантов в РФ было наибольшим?

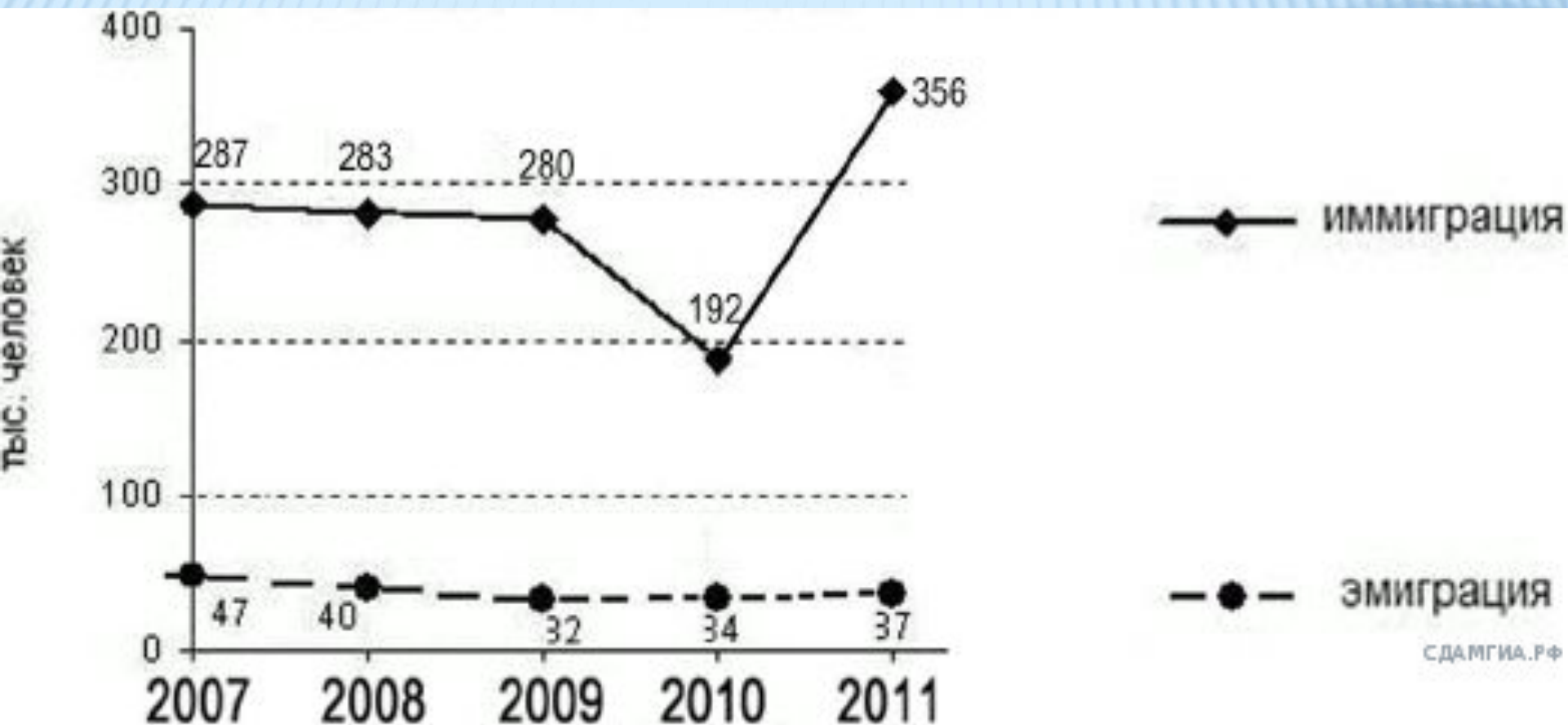
Компоненты изменения общей численности населения РФ в 2008–2011 гг. (тыс. человек)

Годы	Среднегодовая численность населения	Общий прирост населения	Миграционный прирост населения
2008	142 742	–10,3	351,7
2009	142 785	96,3	345,2
2010	142 849	31,9	271,5
2011	142 961	191,0	320,1

Ответ: _____ г.

12. Используя данные графика, определите, в каком году было зафиксировано **наименьшее** количество прибывших в Россию.

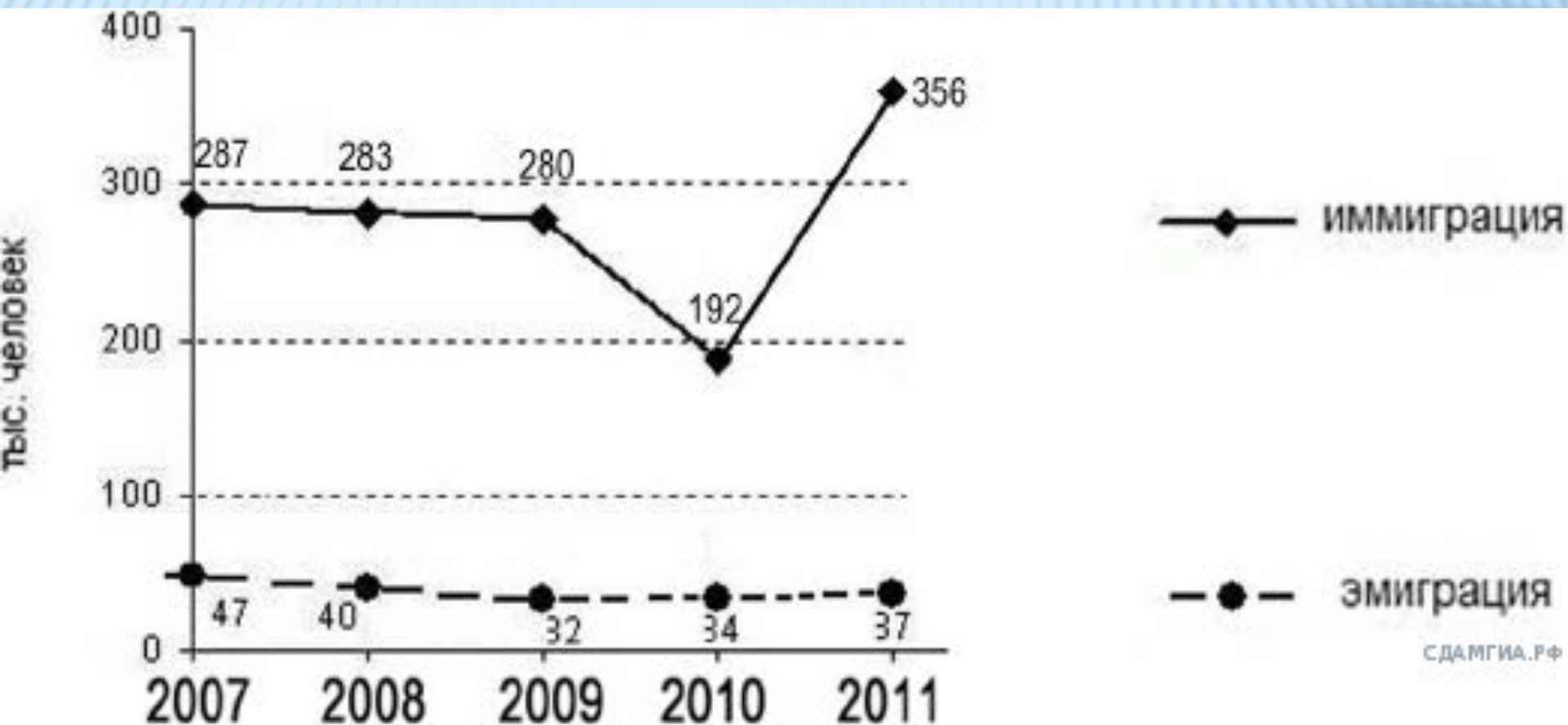
Международная миграция в России



Ответ: _____ г.

13. Используя данные графика, определите, в каком году было зафиксировано **наименьшее** количество выбывших из России.

Международная миграция в России



Ответ: _____ г.

14. Используя данные таблицы, определите, в каком регионе в 2011 г. наблюдалась миграционная **убыль** населения.

Изменение численности населения некоторых областей России

Области	Число прибывших на постоянное место жительства, чел.	Число ушедших на постоянное место жительства, чел.	Естественный прирост населения за год, чел.
Белгородская область	40 661	32 311	−4630
Курская область	27 903	18 469	−5975
Брянская область	37 072	41 362	−6648
Воронежская область	54 331	44 468	−13 166

Ответ: _____ область

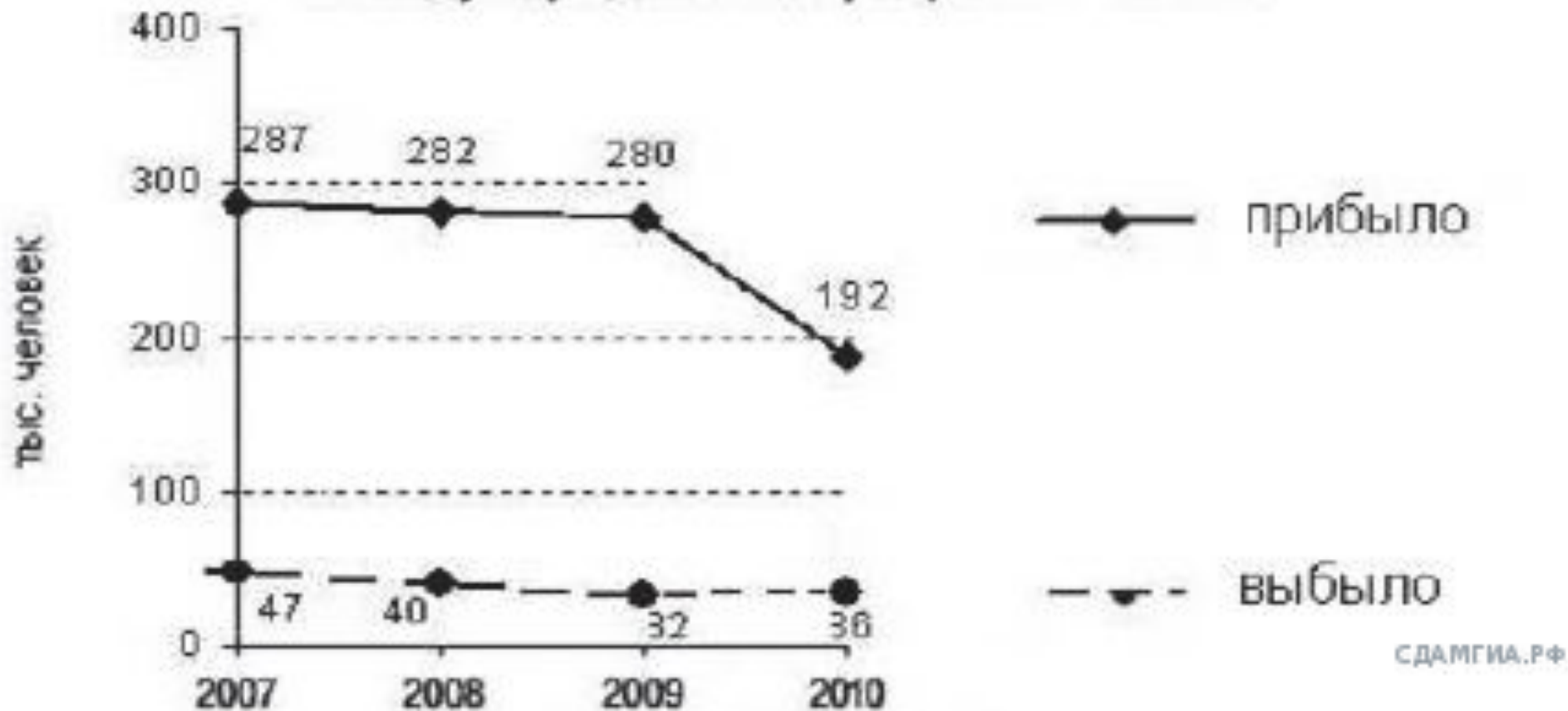
15. В каком году показатель рождаемости был наименьшим?



Ответ: _____ г.

16. В каком году в России наблюдалась **наибольшая** иммиграция?

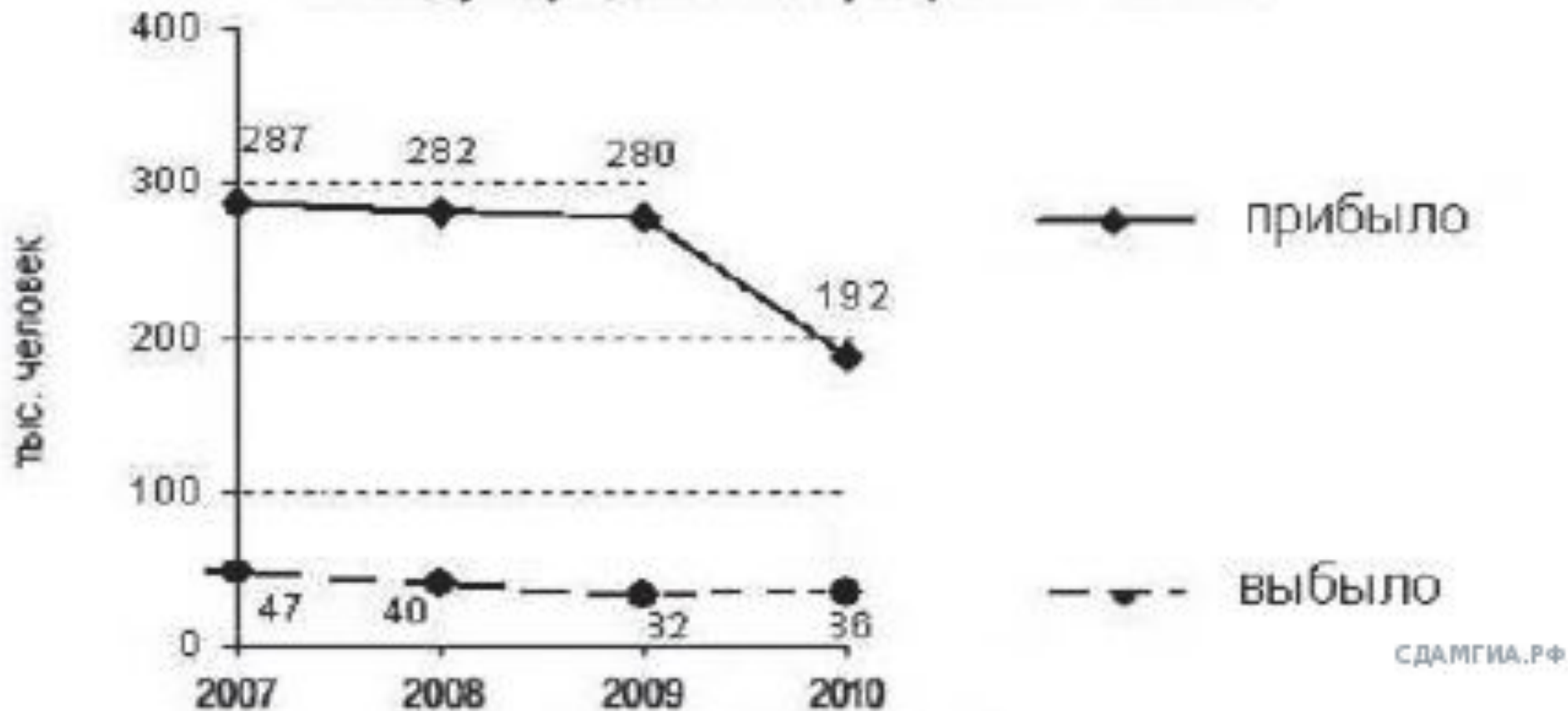
Международная миграция в России.



Ответ: _____ г.

17. В каком году наблюдалась наибольшая эмиграция?

Международная миграция в России.



Ответ: _____ г.

18. Используя данные таблицы, определите, в какой области в 2008 г. наблюдалось **наибольшее** превышение числа прибывших на постоянное жительство над числом

убывших.
Изменение численности населения регионов ЦФО в 2008 г.

	Число родившихся, человек	Число умерших, человек	Миграционный прирост населения за год, человек
Белгородская область	16 790	22 422	11 173
Брянская область	14 259	23 111	63
Владимирская область	15 569	27 119	1836
Воронежская область	22 361	40 316	5504

Ответ: _____ область

19. Используя данные таблицы, определите, в каком году в Московской области наблюдалось **наибольшее** превышение смертности над рождаемостью.

Изменение численности населения Московской области

Показатель	2007 г.	2008 г.	2009 г.	2010 г.
Общий прирост населения за год, человек	27 101	39 809	40 145	44 693
Естественный прирост населения за год, человек	-46 816	-40 859	-32 942	-32 076

Ответ: _____ г.

20. Используя данные таблицы, определите, в каком году в Курской области наблюдалось **наименьшее** превышение смертности над рождаемостью.

Изменение численности населения Курской области

Показатель	2007 г.	2008 г.	2009 г.	2010 г.
Общий прирост населения за год, человек	-8255	-7058	-6807	-6517
Естественный прирост населения за год, человек	-9285	-8805	-7774	-7265

Ответ: _____ г.

БЛОК ДВАДЦАТЬ ВТОРОЙ

Верные ответы:

1. 2010

2. Иркутская

3. 2014

4. 2014

5. Брянская

6. Ленинградская

7. 2010

8. 2015

9. Омская

10. Владимирская

11. 2008

12. 2010

13. 2009

14. Брянская

15. 1999

16. 2007

17. 2007

18. Белгородская

19. 2007

20. 2010