


1



Рассмотри рисунок.
Посчитай, сколько треугольников на рисунке.
Запиши ответ цифрой.



Ответ: _____.

2

У мамы стояли 6 чашек на полках и 5 чашек в шкафу.
Сколько всего было чашек?



Отметь верный ответ.

5

6

11

15

3

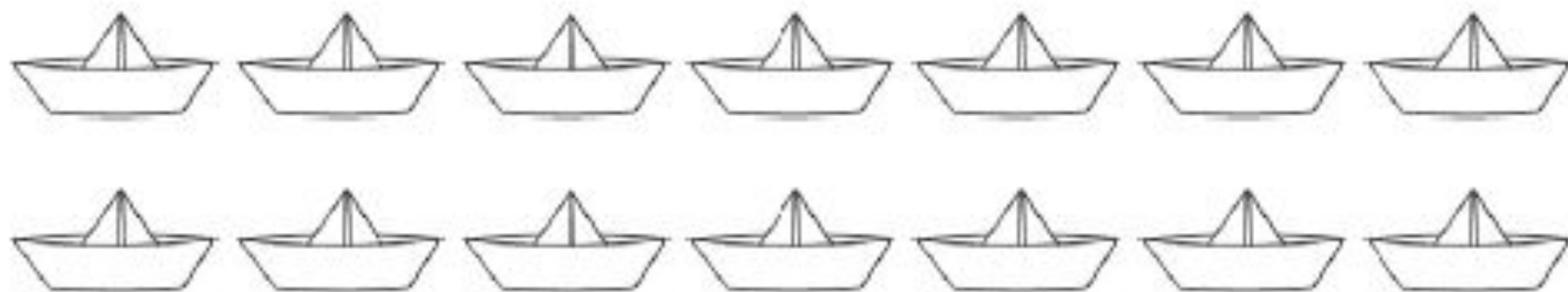
Рассмотри таблицу.

Заполни все пустые ячейки этой таблицы.

Слагаемое	7	3	
Слагаемое		6	2
Сумма	9		10

4

Ване надо сделать 14 бумажных корабликов. Он уже сделал 8 корабликов. Сколько корабликов осталось сделать Ване?



Ответ: осталось сделать _____ бумажных корабликов.

5

Серёжа и Миша собрали марки и значки. Их количество мальчики записали в таблицу.

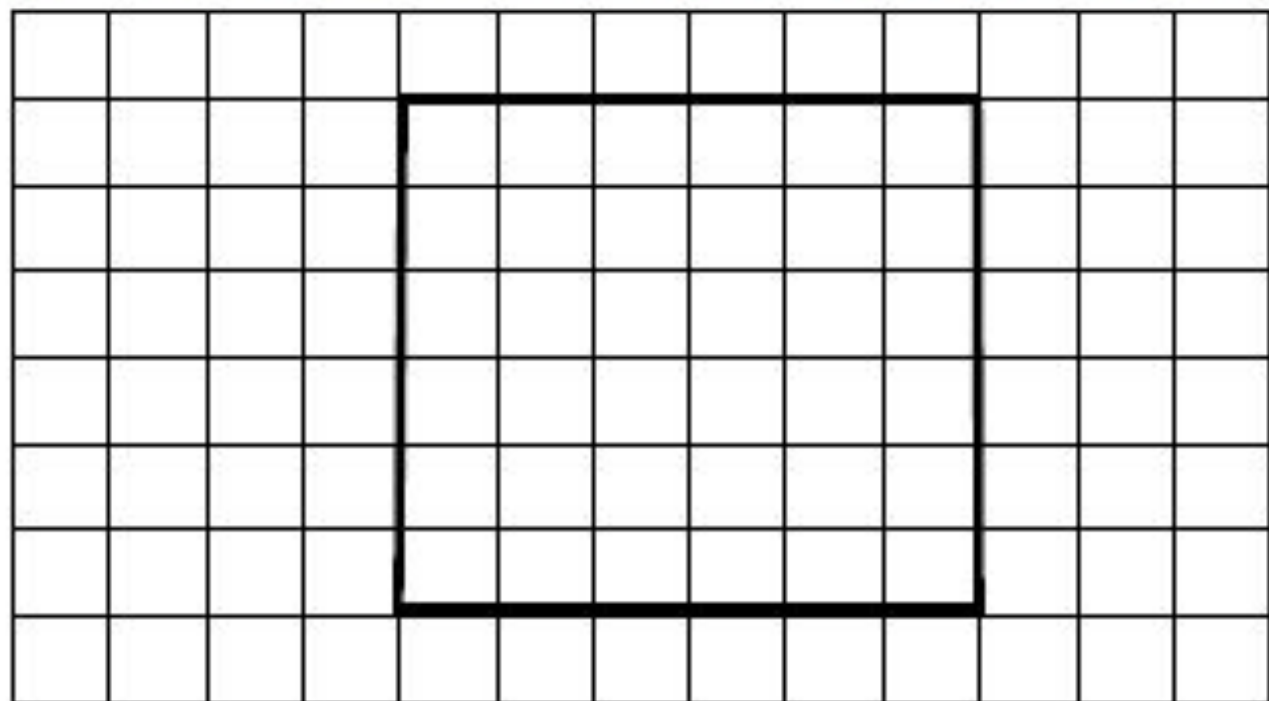
Мальчики	Марки	Значки
Серёжа	7	5
Миша	6	9

Сколько значков собрал Серёжа?

Ответ: _____ значков.

7

Используй линейку и карандаш. Раздели квадрат одной линией так, чтобы получилось два треугольника.



8

У Юли было 5 таких монет:



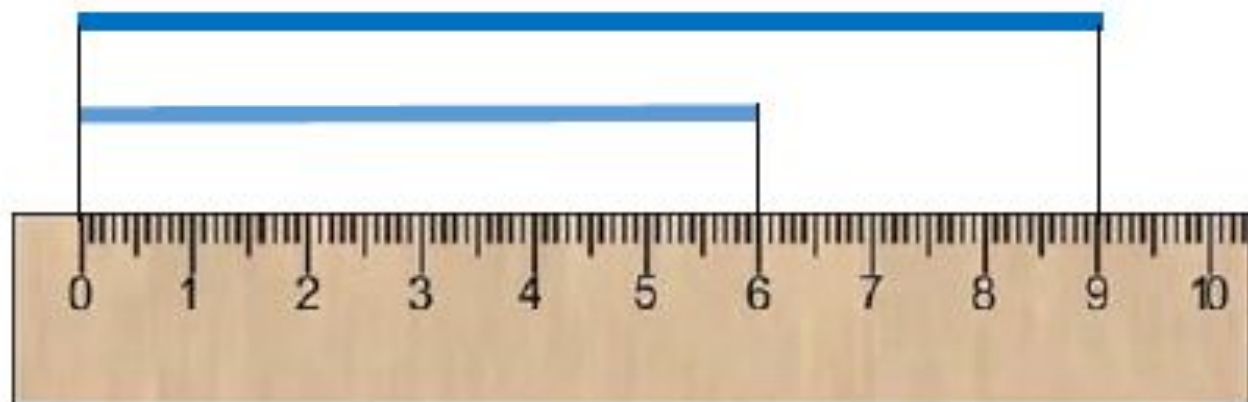
Юля купила тетрадь за 3 рубля и карандаш за 2 рубля.
Сколько денег осталось у Юли после покупки?
Запиши ответ цифрой.

Ответ: _____ р.

9

Рассмотри рисунок.

Для ответа на какой вопрос нужно выполнить действие вычитание?



Отметь верный ответ.

- Как найти длину каждого отрезка?
- Какова длина верхнего отрезка?
- На сколько сантиметров длина верхнего отрезка больше длины нижнего отрезка?
- Какова длина двух отрезков?