



НАСЕЛЕННЯ СВІТУ





НАСЕЛЕННЯ – беззаперечно суть і головне багатство будь- якої країни.

Чи потребує населення постійного
контролю, умов збереження та
розподілу



ЗАВДАННЯ УРОКУ

- Узагальнити та систематизувати знання про демографічні процеси у світосистемі;
- Проаналізувати демографічні показники;
- Сформуувати основні задачі демографічної політики;
- Удосконалити вміння та навички працювати зі статистичними та картографічними матеріалами;
- Розвивати науковий світогляд, інтерес до демографічних процесів.



«Асоціативний куц» понятъ про населення





- За час існування цивілізації на Землі змінилося 100 тисяч поколінь.
- В різні часи проживало на планеті 80 млрд чоловік.
- Нині у світі проживає більше ніж **7,8 млрд. чол.**

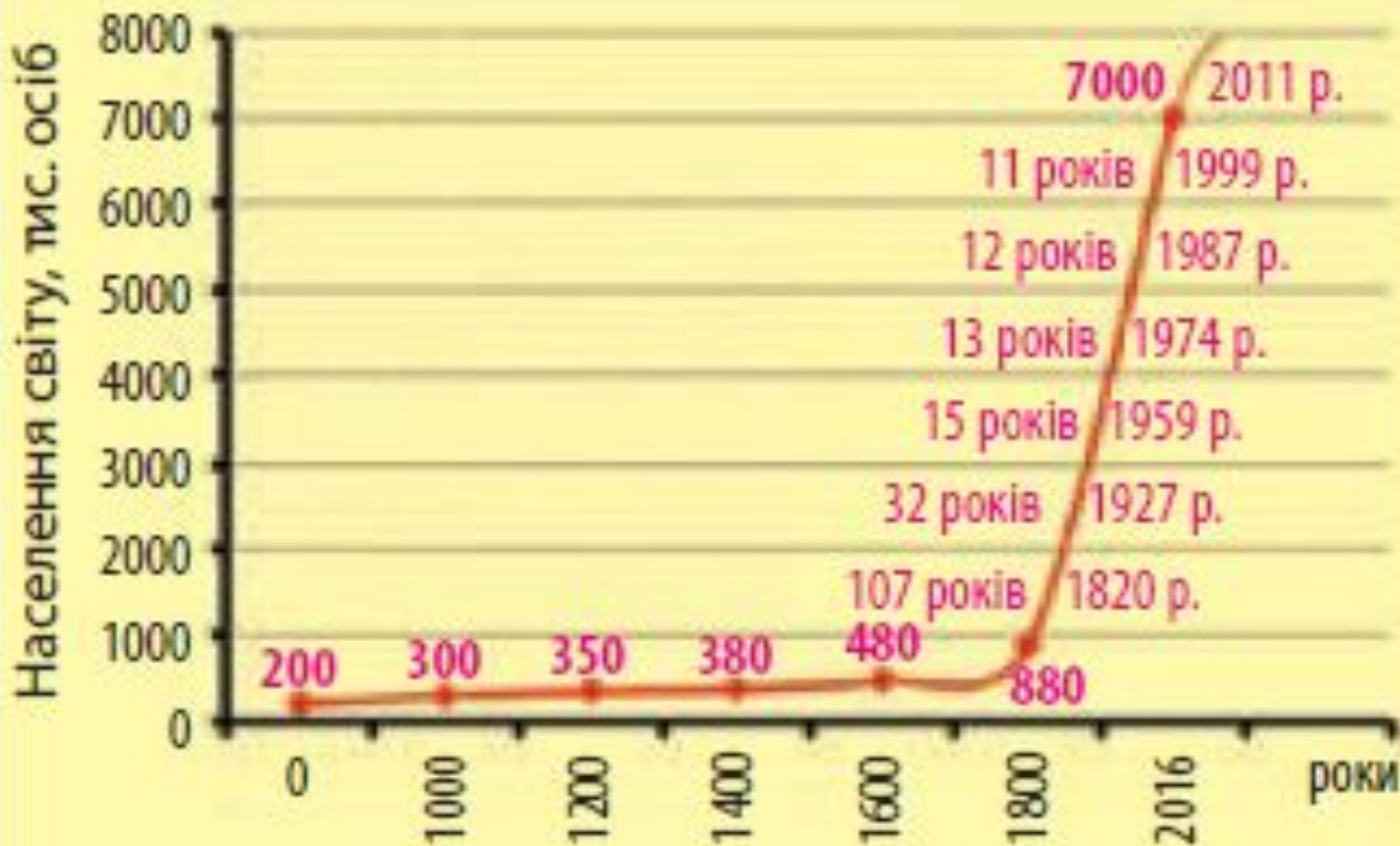


ЛІЧИЛЬНИК НАСЕЛЕННЯ ЗЕМЛІ

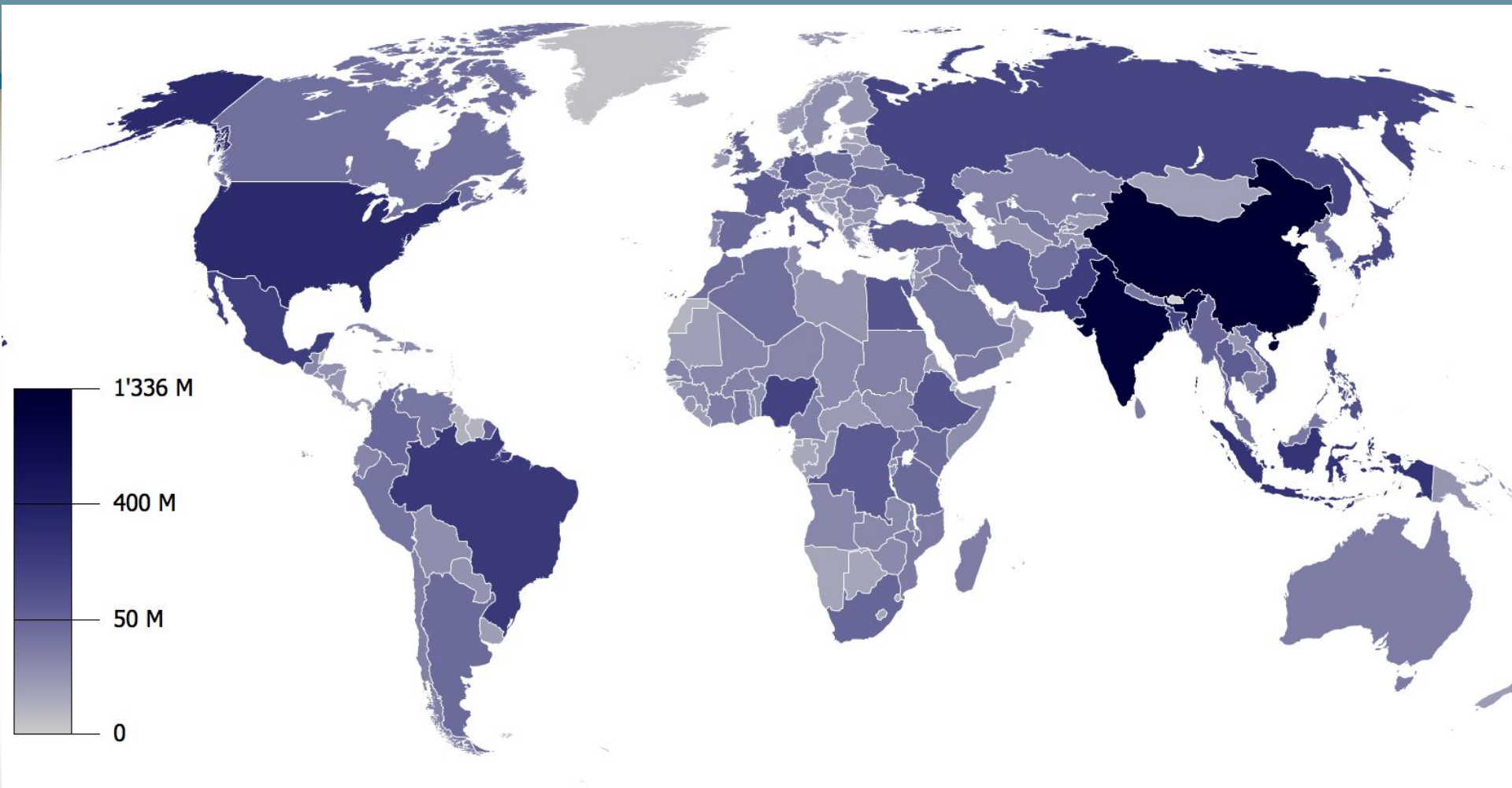
[https://countrymeters.info](https://countrymeters.info/ru/World)
[/ru/World](https://countrymeters.info/ru/World)



Динаміка зміни чисельності населення світу

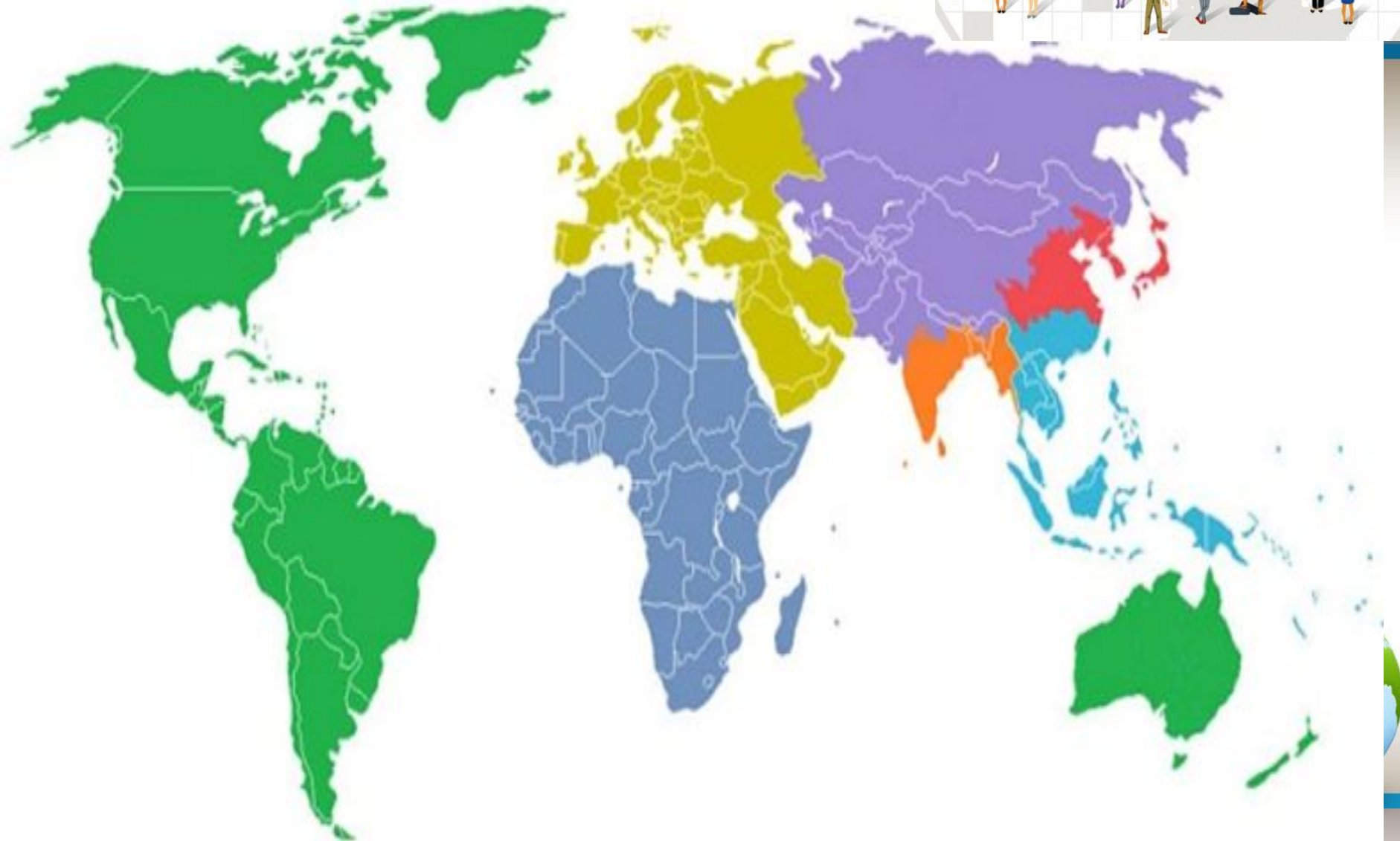


ТОП держав світу з найбільшою кількістю населення

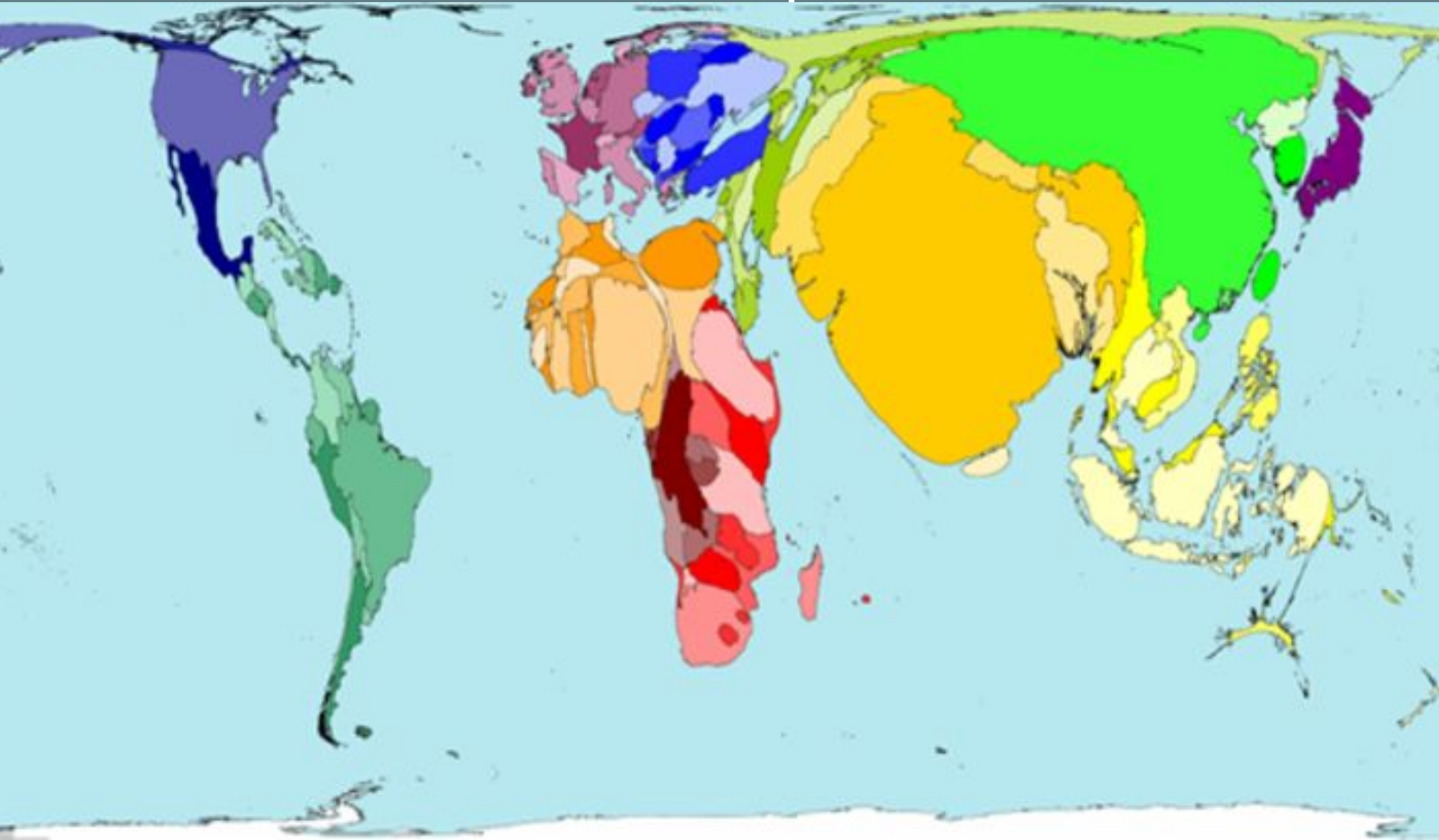


Китай, Індія, США, Індонезія, Пакистан, Бразилія, Нігерія, Бангладеш, Росія, Мексика

Регіони світу з мільярдом населенням



Карта світу, де площі країн відповідають прогнозованій чисельності населення на 2050 р



На показники природного руху населення впливають:

Біологічні чинники

Соціально-економічні чинники

Історичні чинники



Природні (біологічні) чинники

- були визначальними в характері відтворення населення з давніх-давен **до XVIII ст.**
- рівні народжуваності та смертності були дуже високими - низький природний приріст



Соціально-економічні ЧИННИКИ

- матеріальні умови життя: рівень розвитку медицини, умови праці, побуту та харчування, національні та релігійні традиції, рівень добробуту родини, зростання частки міського населення тощо.



Історичні чинники

війни,
голодомори,
революції,
екологічні негаразди



ТИПИ ВІДТВОРЕННЯ НАСЕЛЕННЯ

ПЕРШИЙ ТИП
(СУЧАСНИ)

ХАРАКТЕРИСТИКА: _____

ПОШИРЕННЯ: _____

ПРОБЛЕМИ _____

ДРУГИЙ ТИП
(ТРАДИЦІЙНИЙ)

ХАРАКТЕРИСТИКА: _____

ПОШИРЕННЯ: _____

ПРОБЛЕМИ _____



ТИПИ ВІДТВОРЕННЯ НАСЕЛЕННЯ

ПЕРШИЙ ТИП

13 н. – 10 с. = 3 п. п.

країни розвинені, європейські країни з перехідною економікою; поширення: Європа, Північна Америка, Австралія, Нова Зеландія, Японія

ПРОБЛЕМИ

- «старіння нації»
- депопуляція

Німеччина, Болгарія, Україна, Угорщина, Італія

ДРУГИЙ ТИП

36 н. – 12 с. = 24 п. п.

країни, що розвиваються; азіатські країни з перехідною економікою; поширення: Африка, Азія, Латинська Америка, Океанія

ПРОБЛЕМИ

- нестача продуктів харчування
- безробіття
- неписьемність



Практична роботи №7.

***«Обчислення показників
природного приросту
населення країн світу за
статистичними даними»***



Демографічна ситуація в Україні станом на 2020 рік

Народжуваність	9,6‰
Смертність	13,9‰
Природний приріст	– 4,3‰

Щотижня в Україні зникає одне село.

РЕЗУЛЬТАТИ

Соціологічного опитування

Опитано 58 учнів 38 - хлопці 20 - дівчат

Скільки у вашій сім'ї дітей у родині - переважно 1-2 дитини

Скільки дітей плануєте мати у майбутньому переважно 1 дитину,
чотири відповіді -3 дитини

У якому віці Ваші батьки стали вперше татом 25-27 р. та мамою 23 р.

У якому віці плануєте ви стати батьками після 30- відповідали хлопці та
після 25 років – дівчата

Ваше ставлення до народження дітей лише у офіційному шлюбі
для більшості офіційний шлюб не важливий

Чи обізнані ви, щодо розвитку медицини в питанні контролю
народжуваність- більшість «так»

Ваше ставлення до переривання вагітності – більшість «негативне»

Чи буде вирішальним для Вас у майбутньому при плануванні народження
дитини, її матеріальне забезпечення – обов'язкова умова



Чинники депопуляції

- ❖ Розвиток медицини, що дає можливість контролювати кількість народжень;
- ❖ Підвищення середнього віку наречених;
- ❖ Прагнення батьків дати все необхідне дитині, що призводить до збільшення витрат і намагання зменшити кількість дітей;
- ❖ Втрата значною частиною суспільства моральних та духовних орієнтирів, в тому числі пріоритету родини, материнства, цінності дітей;
- ❖ Погіршення якості здоров'я нації;
- ❖ Зміна ролі жінки в сім'ї та суспільстві;
- ❖ Старіння населення та збільшення смертності;

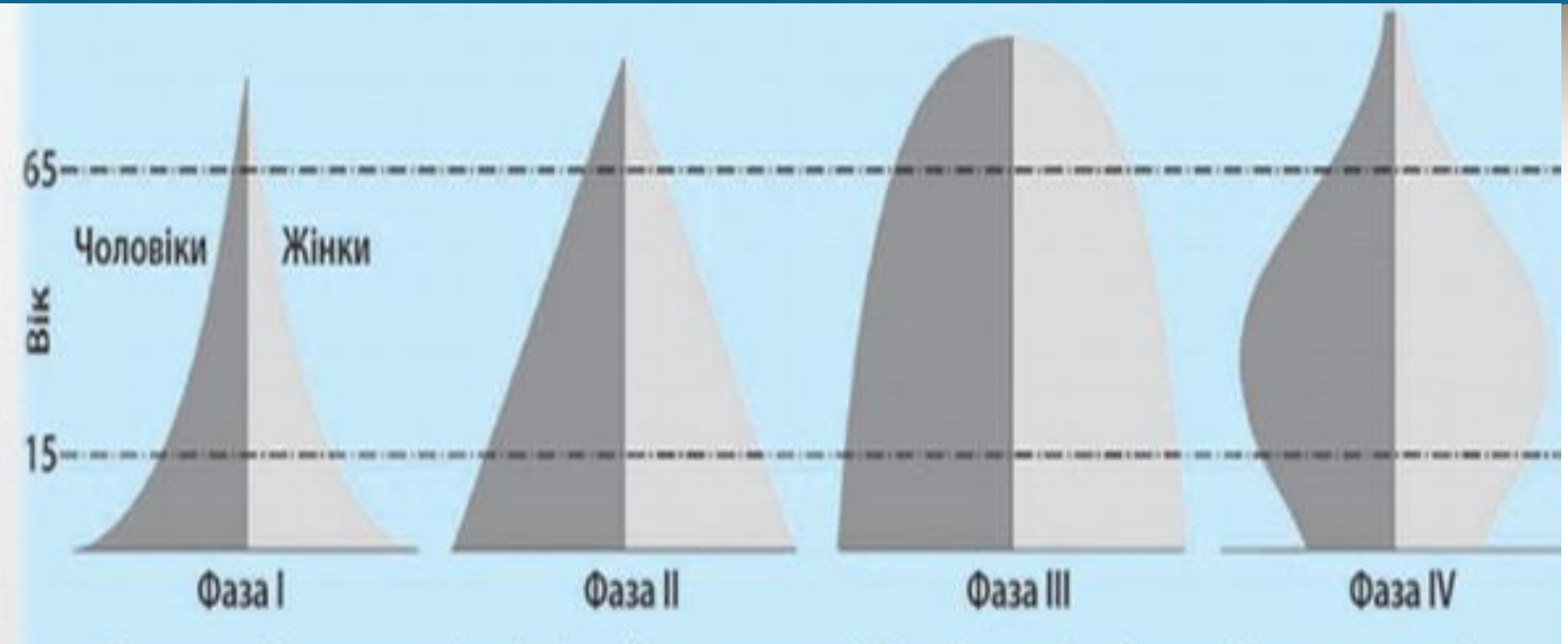




Демографічна політика УКРАЇНИ

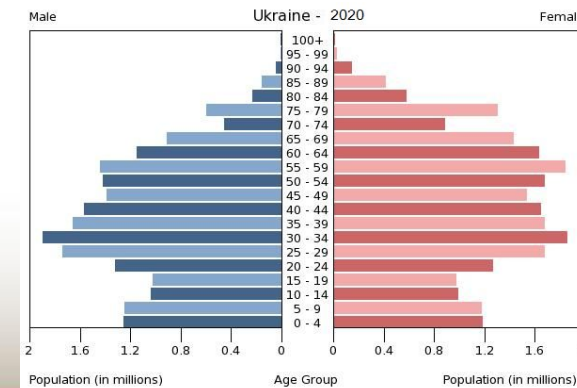
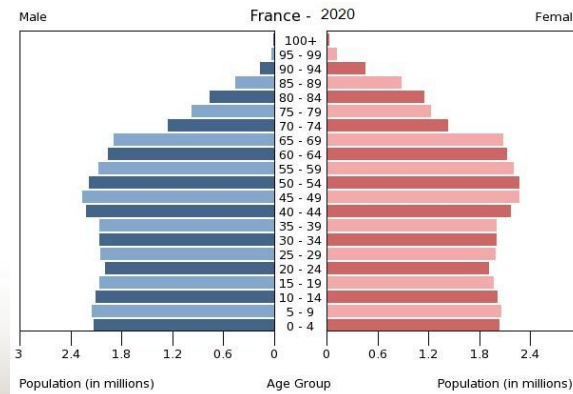
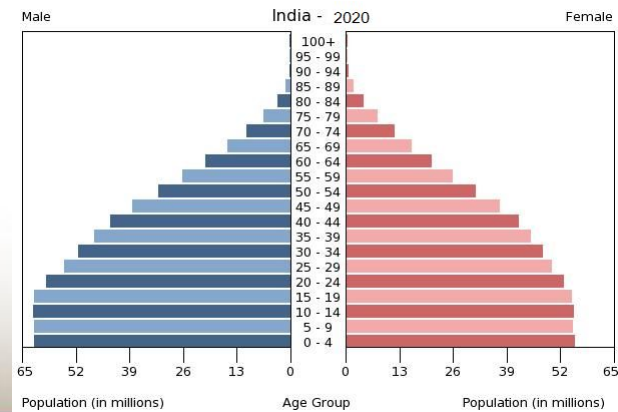
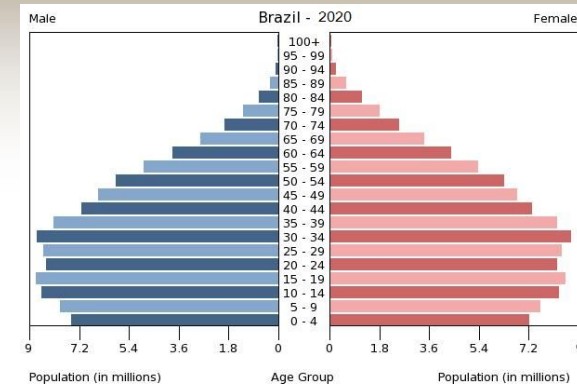
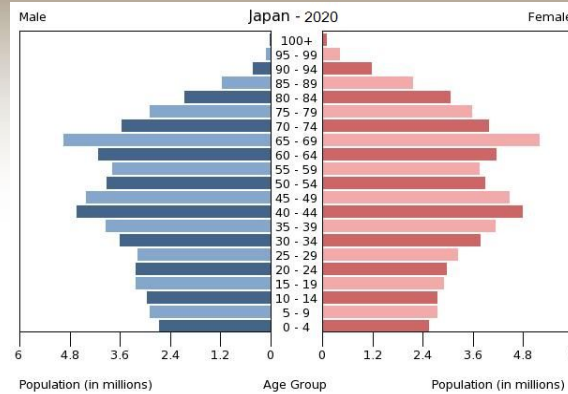
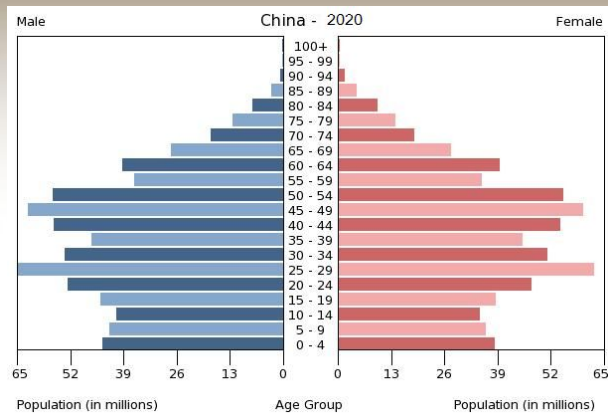


Статеві-вікові піраміди, характерні для різних фаз демографічного переходу



РОБОТА В МАЛИХ ГРУПАХ

аналіз статево-вікових пірамід різних держав світу



ВИКОНАННЯ ТЕСТОВИХ ЗАВДАННЯ

ЗНО з теми «Населення»

1. Який показник демографічної ситуації в Україні вищий за його середньосвітове значення?

- А** коефіцієнт народжуваності (‰)
- Б** коефіцієнт природного приросту (‰)
- В** частка жінок у статевій структурі населення (%)
- Г** частка дітей у віковій структурі населення (%)

2. Як визначити природний приріст населення країни?

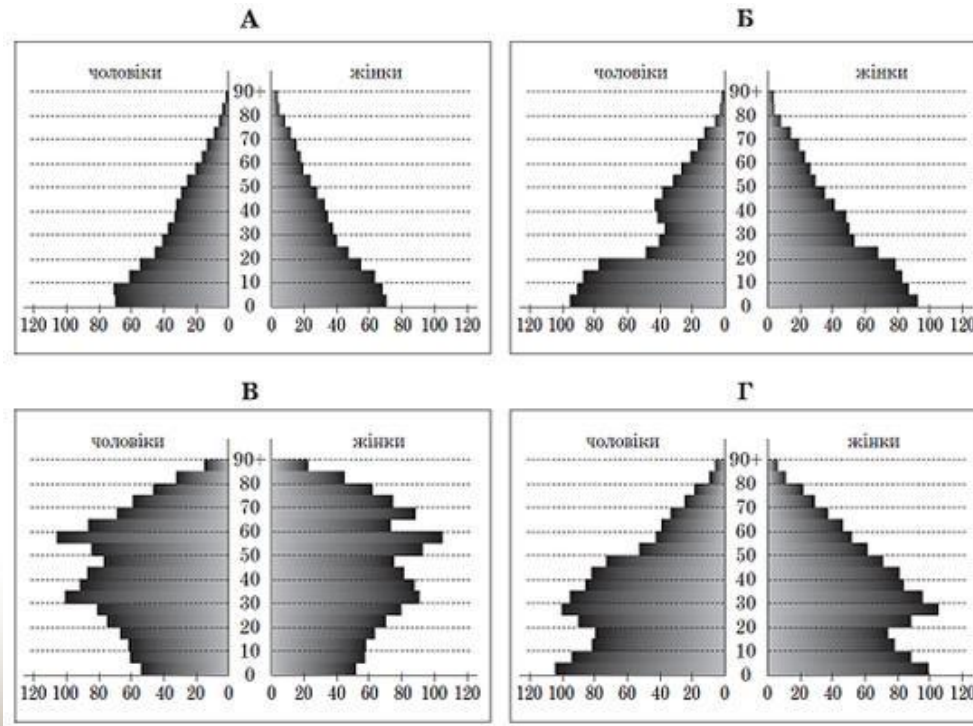
- А** частку народжених помножити на кількість населення
- Б** кількість населення поділити на площу країни
- В** до кількості народжених додати сальдо міграції
- Г** від кількості народжених відняти кількість померлих



ВИКОНАННЯ ТЕСТОВИХ ЗАВДАННЯ

ЗНО з теми «Населення»

3. Прочитайте демографічний прогноз для країни N: *«...низька народжуваність і висока тривалість життя можуть перетворити її на країну людей похилого віку. До 2025 року очікується зменшення населення на 7 млн осіб. Щоб забезпечити мінімальний приріст ВВП, уряду потрібно буде залучати щорічно до 100 тис. мігрантів»*. Визначте статеву-вікову піраміду, що характеризує сучасну демографічну ситуацію в цій країні та є підґрунтям для такого прогнозу.

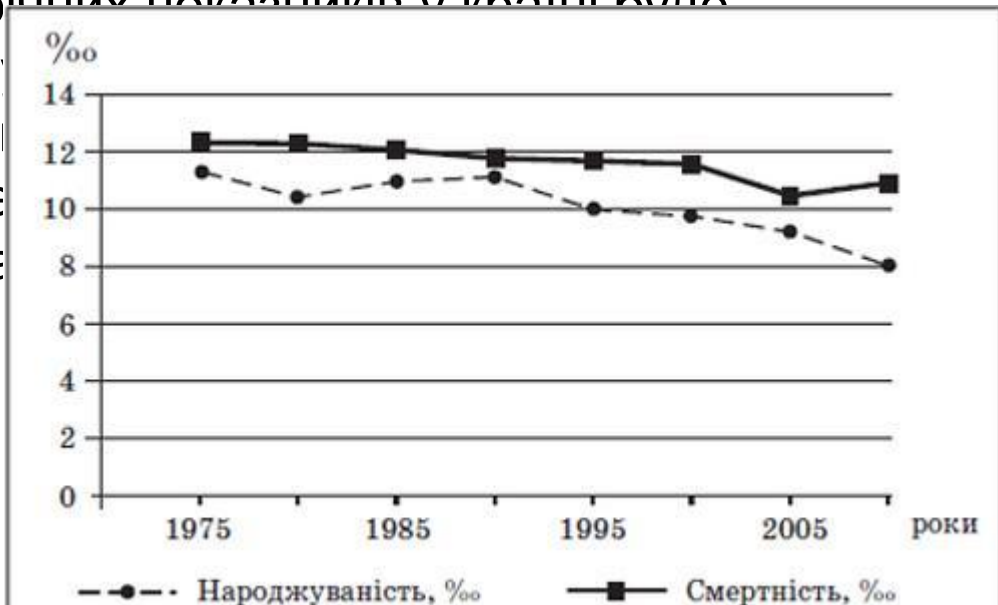


ВИКОНАННЯ ТЕСТОВИХ ЗАВДАННЯ

ЗНО з теми «Населення»

4. Проаналізуйте графіки, що відображають демографічну ситуацію в одній із країн світу. Наслідком такої динаміки демографічних показників у країні буде

- А депопуляція
- Б від'ємний приріст населення
- В майже незмінна чисельність населення
- Г зростаючий приріст населення



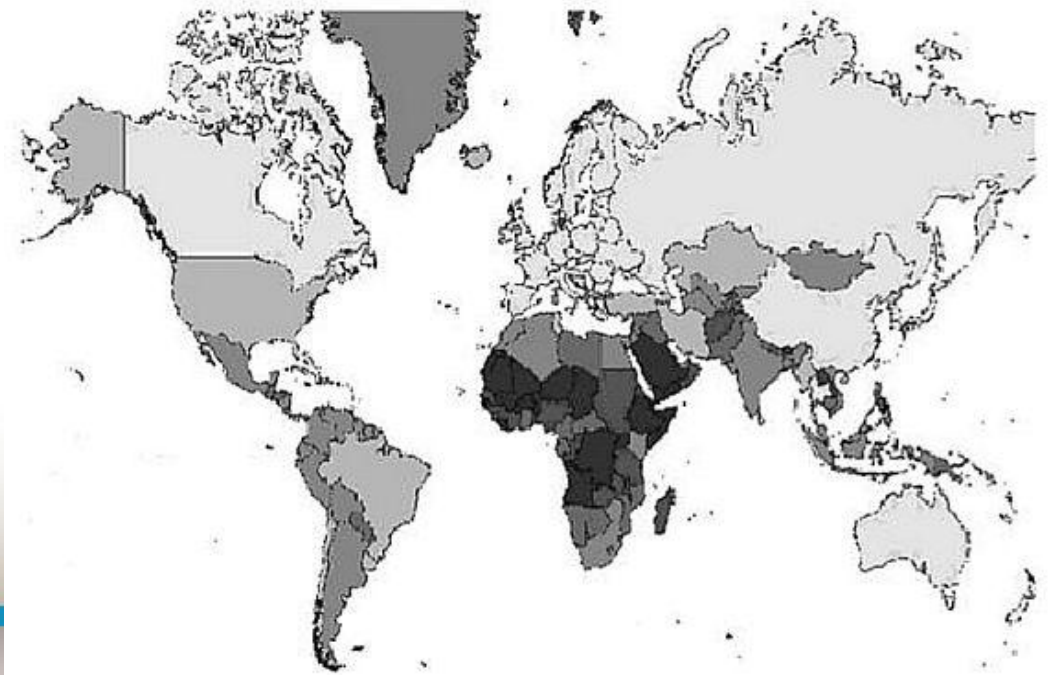
іків.

ВИКОНАННЯ ТЕСТОВИХ ЗАВДАННЯ

ЗНО з теми «Населення»

5. Який показник, що характеризує населення країн світу, відображено на картограмі?

- А** густоту населення (осіб на 1 км²)
- Б** коефіцієнт народжуваності (проміле)
- В** рівень урбанізації (%)
- Г** частку зайнятих у сфері послуг (%)



Відповіді для самоперевірки на ТЕСТОВІ ЗАВДАННЯ ЗНО з теми «Населення»

1. - В

2. - Г

3. - В

4. - А

5. - Б



ПІДСУМОК УРОКУ

- Сьогодні я дізнався...
- Було цікаво...
- Я зрозумів, що...
- Тепер я зможу...
- Я навчився...
- Тепер я можу дати для себе чітку відповідь на питання **«Чи потребує населення постійного контролю, умов збереження та розподілу»**

