

Геолото

Занимательная география



1	2	3	4	5
6	7	8	9	10

1	2	3	4	5
6	7	8	9	10

Иванова Ирина Николаевна
МКОУ СОШ №11

* Правила игры

**В игре участвуют 2 команды,
которые отвечают на вопросы
по очереди**

**Нажимаем на мешок и из него
появляется бочонок с
номером вопроса**

**При нажатии на бочонок
открывается
открывается слайд с вопросом**

**На этом слайде нажимаем на
вопрос появляется ответ**

Геолото

1 команда

1	2	3	4	5
6	7	8	9	10


2 команда

1	2	3	4	5
6	7	8	9	10

Закончить игру



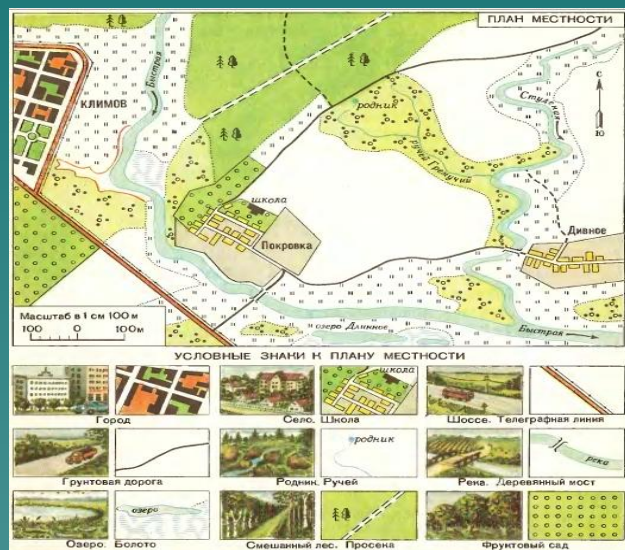
4



В
Ы
Х
О
Д

Вопрос №1

Как называют
уменьшенное
изображение
местности?



План местности



1 балл

Вопрос №2

**1 см- 5 км
Как называют
данный масштаб?**

Именованный



2 балла

Вопрос №3

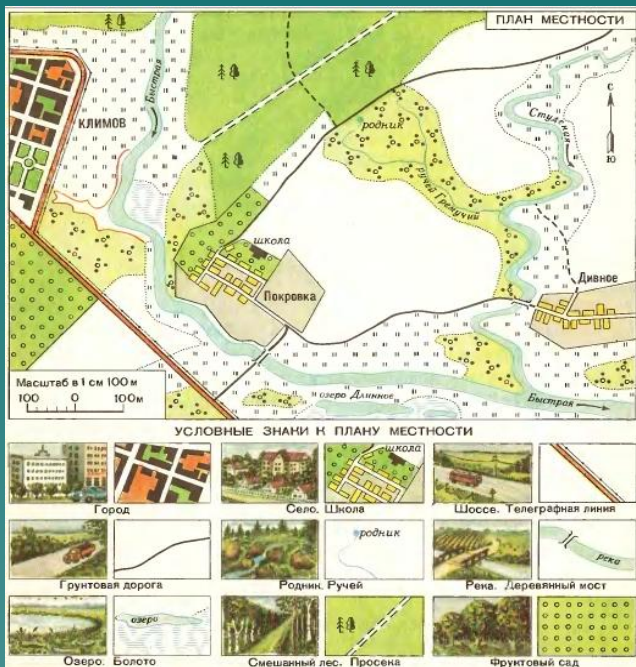
М 1:500
Как называют этот масштаб ?

Численный.



1 балл

Вопрос №4



Какой лес находится на севере?

Смешанный



3 балла

Вопрос №5

На плане местности между родником и домиком лесника 5 см. Масштаб плана 1: 1000. Сколько метров между домиком лесника и родником на местности?

Сколько метров между домиком лесника и родником на местности?

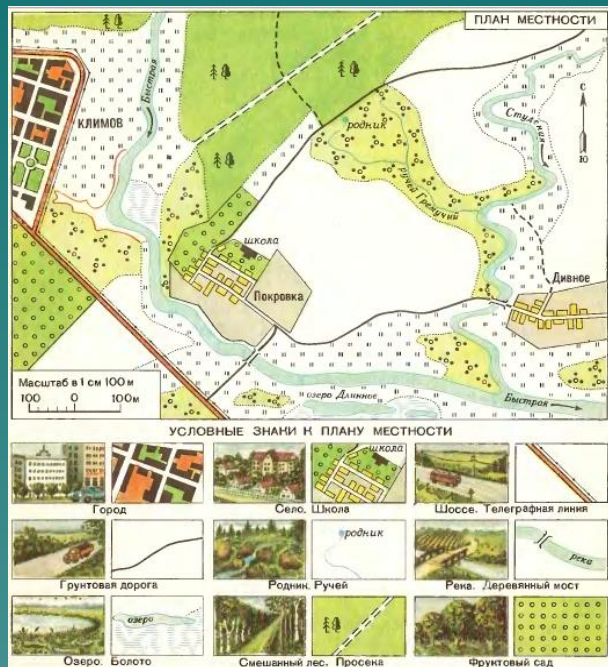
50 м



1 балл

Вопрос №6

Как называется поселок,
расположенный на
северо-западе?

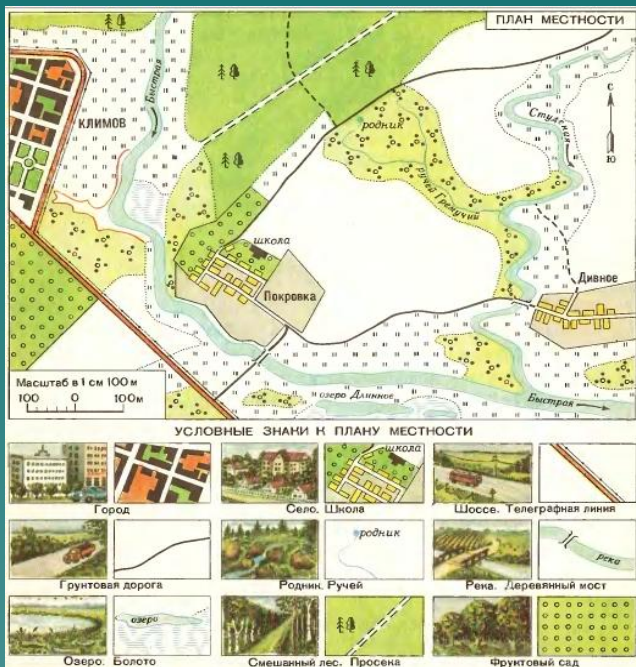


Климово



1 балл

Вопрос №4



Какой лес находится на севере?

Смешанный



4 балла

Вопрос №7

Какой масштаб
мельче ?

Какой
масштаб
мельче
1:5000 или
1: 50 000?

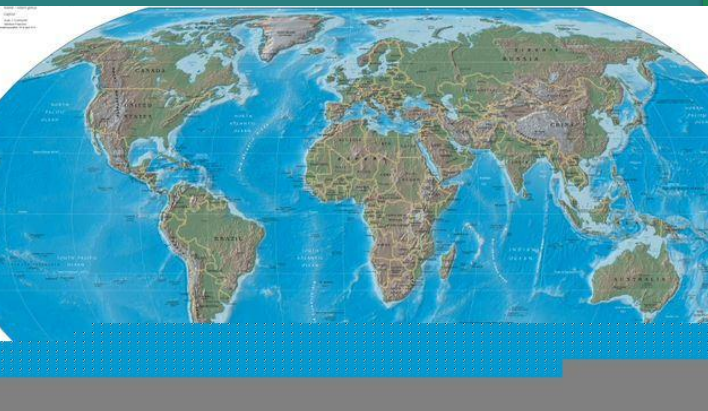
1 : 50 000.



1 балл

Вопрос №8

Какая карта по
масштабу
представлена?



Мелкомасштабная



1 балл

Вопрос №9

Назовите лишнее в
данном списке « М1:
500, М1: 25 000,
1см-50 м»

1 см-50 м



2 балла

Вопрос №10

Какой остров будет
больший по
протяженности?

Гренландия

- Мадагаскар
- Гренландия
- Сахалин
- Куба



Вопрос №1

3 балла

**9 см в масштабе
1:300
соответствует ...**

27 м



Вопрос №2

1 балл

Карту какого
масштаба нужно
использовать для
для изучения
планировки города
1:6 000 000,
1:500 000 ?

1:500 000



2 балла

Вопрос №3

**Какой объект не
будет нанесен на
мелкомасштабную
карту (мост, река,
канал, пустыня)**

Мост



1 балл

Вопрос №4

Назовите численный масштаб, если в 1см-100м

1: 10000



3 балла

Вопрос №5

Между городами на карте-8 см. Масштаб карты 1:1000 000. Какое расстояние между городами ?

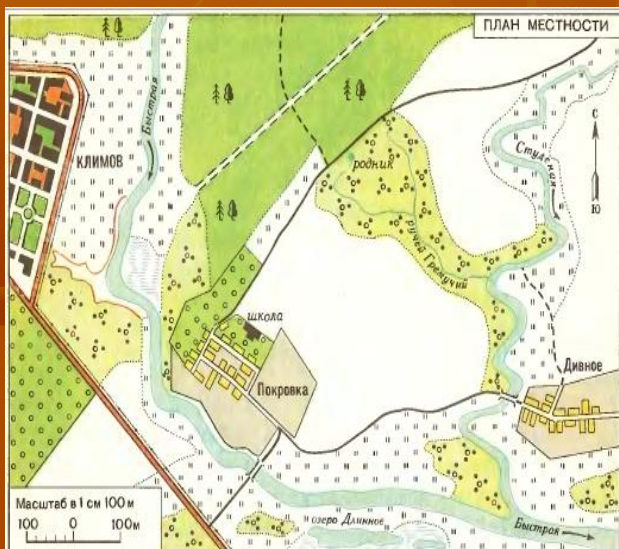
80 км



1 балл

Вопрос №6

Какая дорога
проходит через
смешанный лес ?



УСЛОВНЫЕ ЗНАКИ К ПЛАНУ МЕСТНОСТИ



просека



2 балла

Вопрос №7

1. Африка
2. Австралия

**Какой материк имеет
наибольшую
протяженность с севера
на юг ?**

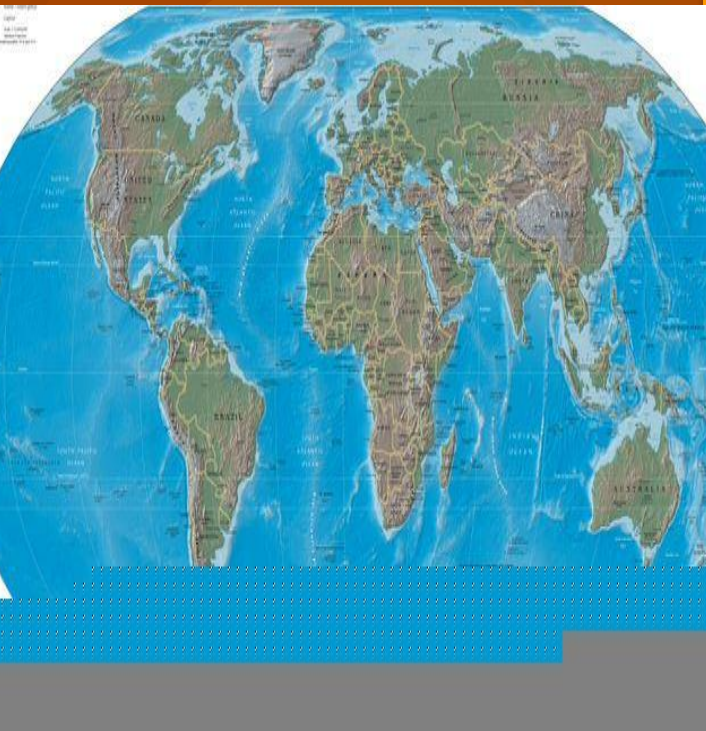
Африка



1 балл

Вопрос №8

Какой объект:
город, залив ,
пролив, родник
нельзя найти на
карте?



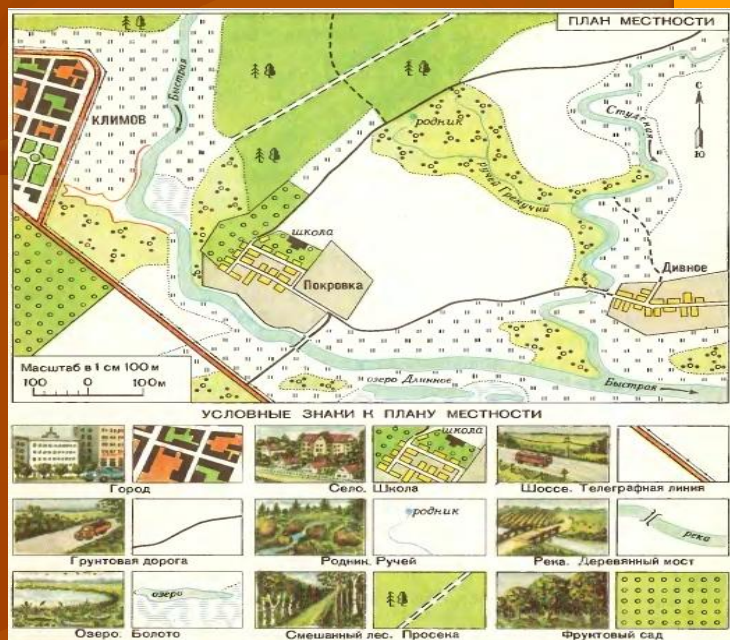
родник



1 балл

Вопрос №9

В какой части села
Покровка находится
школа?



Северо-восточная



2 балла

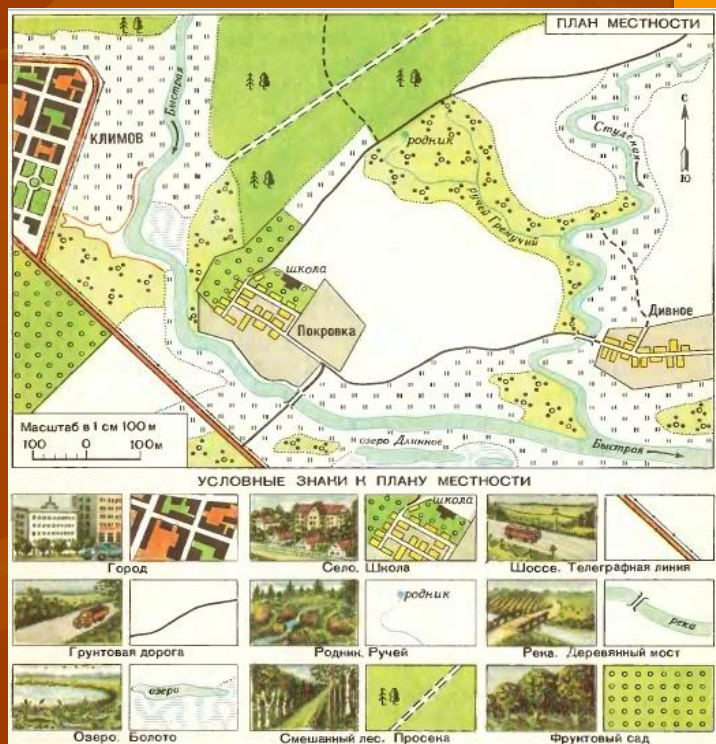
Вопрос №10

Найти ошибку

1: 10 000 -1см-100м

1 : 1000000 -1 см-10
КМ

1: 100000 - 1см- 100
КМ



1 : 100000 -1см-100
КМ



Мама! Мама!



ВЫХОД

