

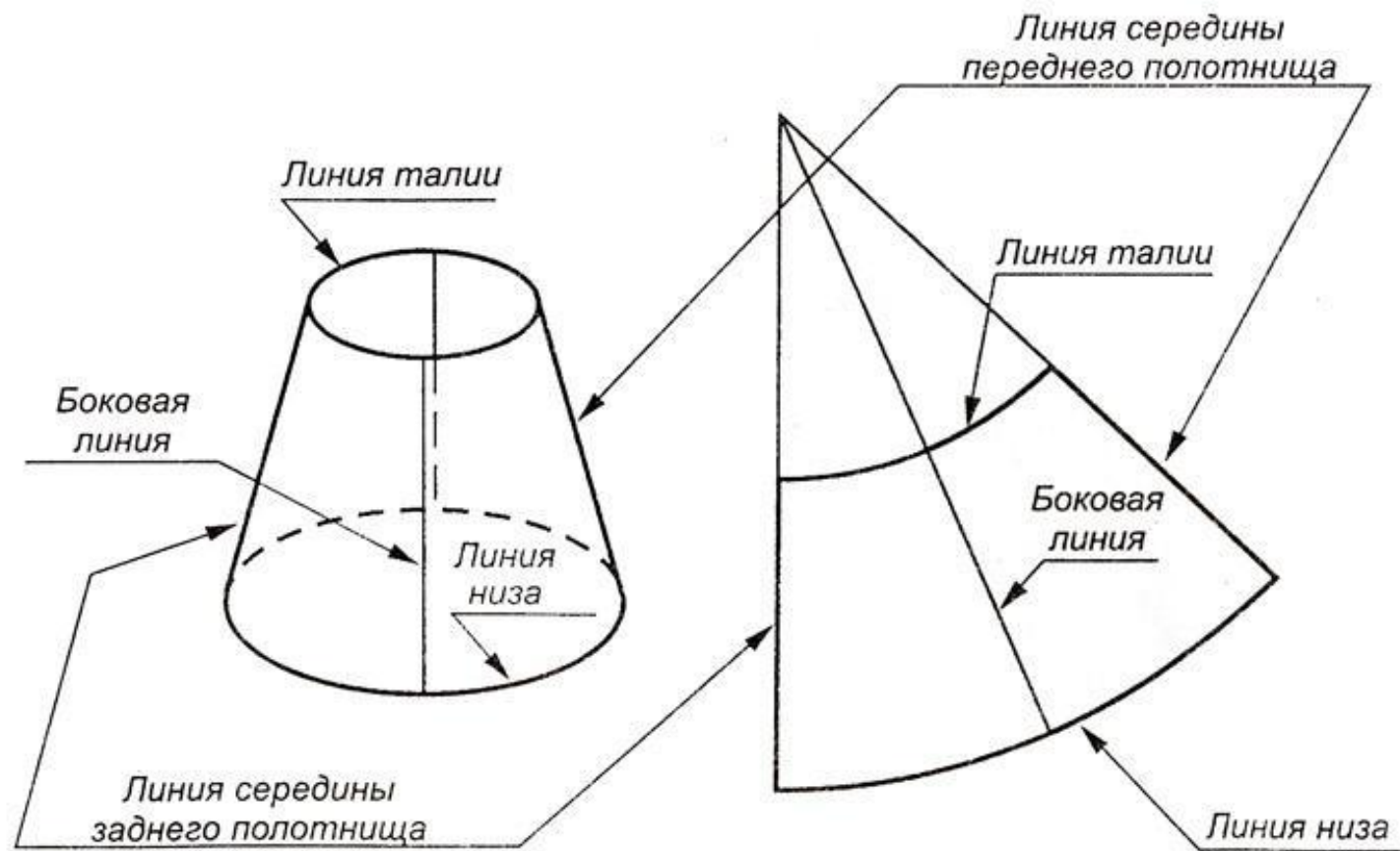
ПОСТРОЕНИЕ КОНИЧЕСКИХ ЮБОК

Солнце, полусолнце, колокол

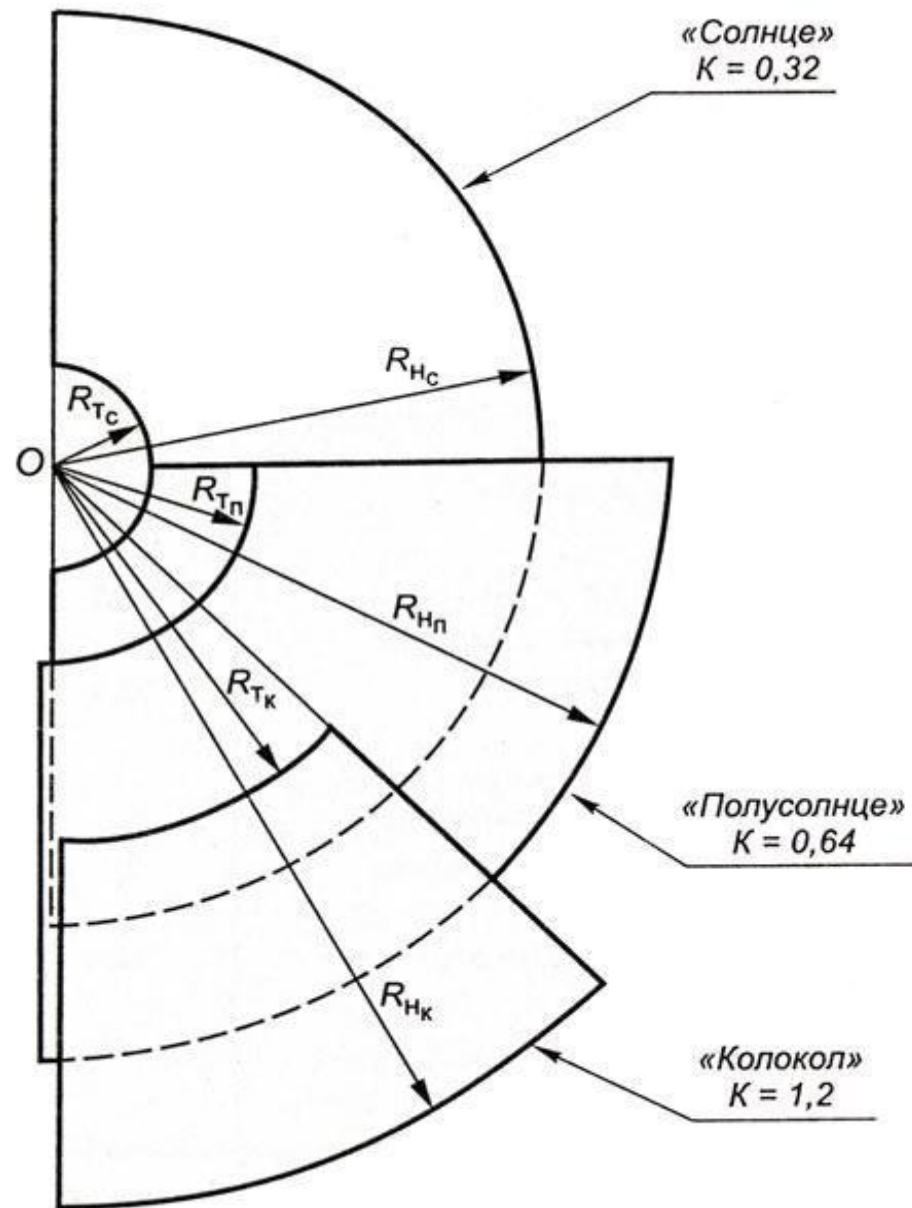
Внешний вид конической юбки



Конструктивные линии конической юбки



Чертежи
конических
юбок
«Солнце»,
«Полусолнце»,
«Колокол»

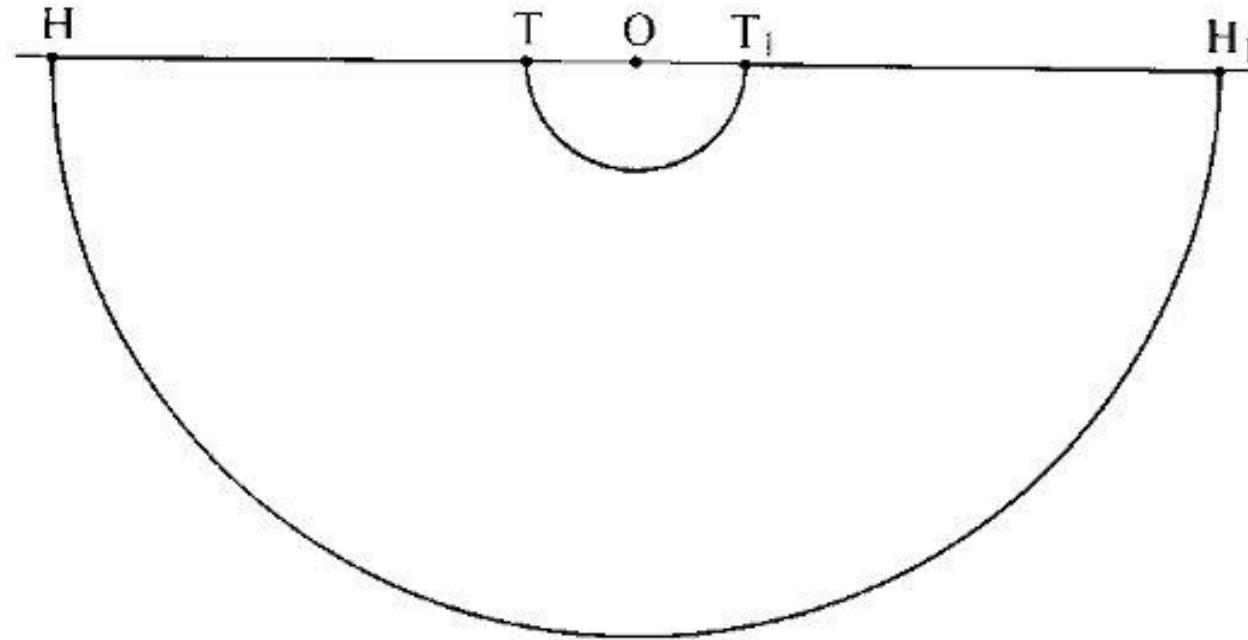


Построение юбки «Солнце» (Ст=34, Дю=50)

1. Поставить т.О

2. $OT=OT_1=0,32 \cdot Ст=0,32 \cdot 34=11$, отложить вправо и влево от т.О, провести дугу циркулем из т.О, соединяя точки Т и Т₁

3. $OH=OH_1=OT+Дю=11+50=61$, отложить вправ и влево от т.О, провести дугу циркулем из т. О, соединяя точки Н и Н₁

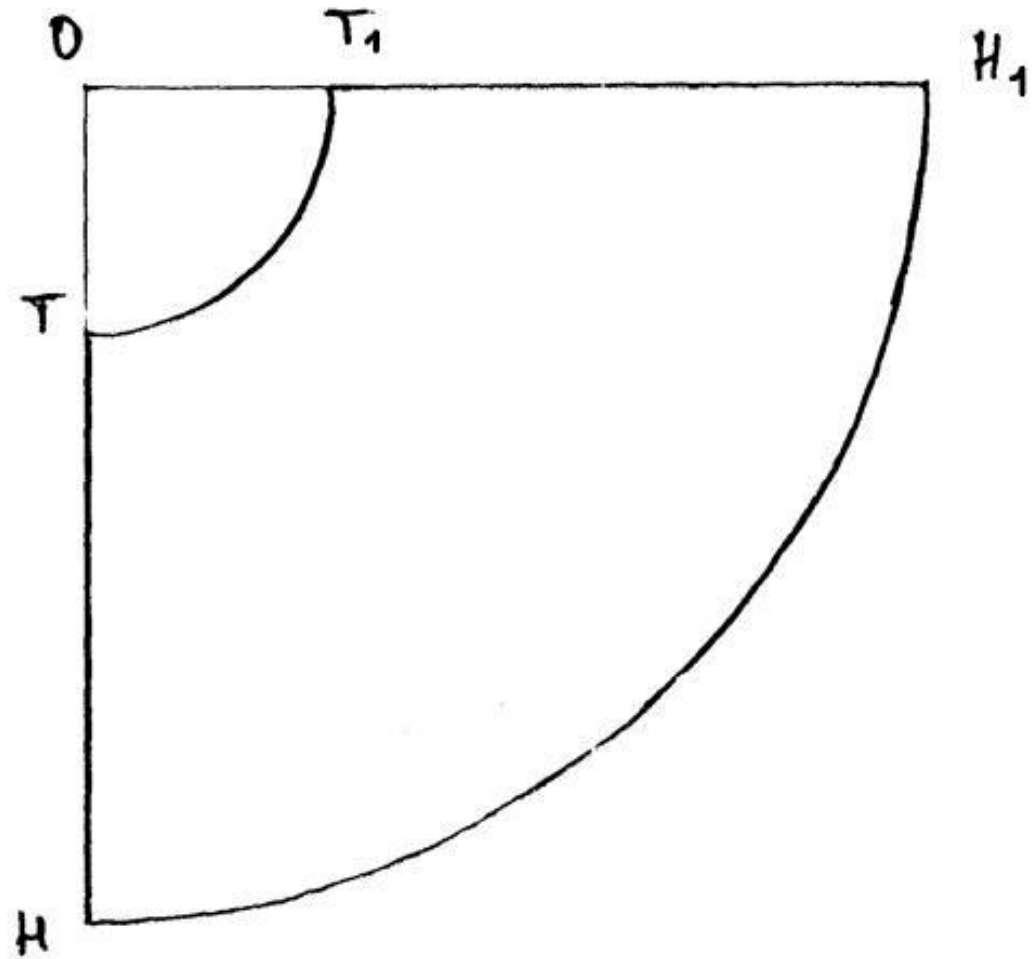


Построение юбки «Полусолнце» (Ст=34, Дю=50)

1. Поставить т.О

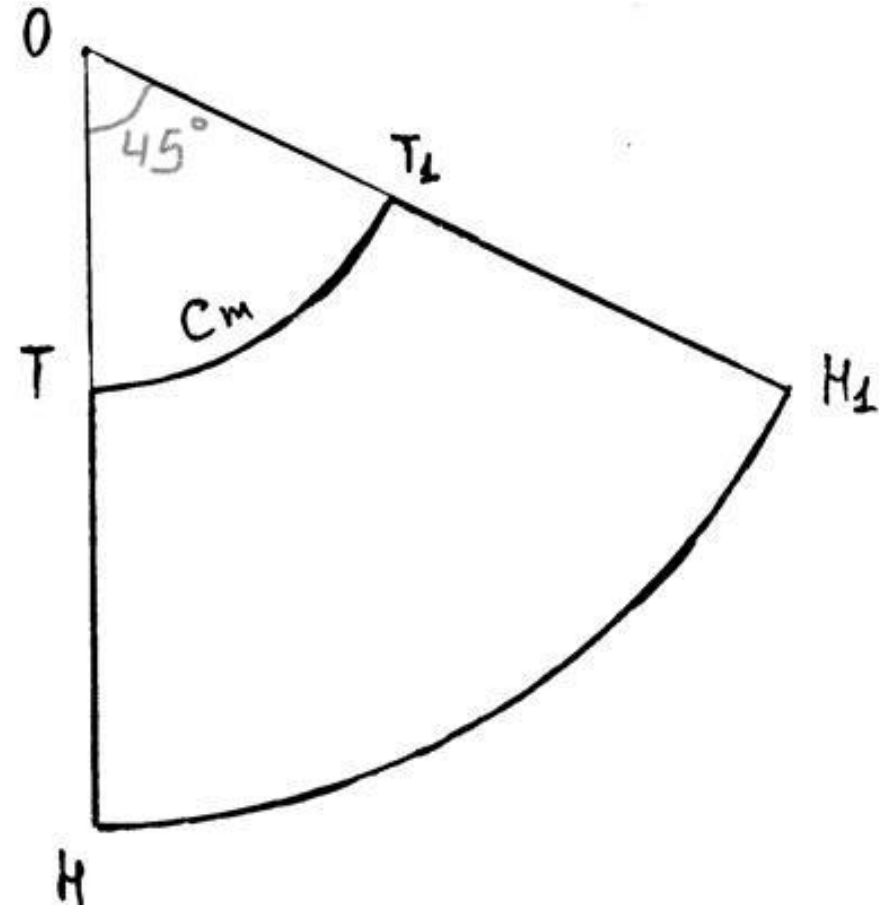
2. $OT=OT_1=0,64 \cdot Ст=0,64 \cdot 34=22$,
отложить вправо и вниз от т.О, провести
дугу циркулем из т.О, соединяя точки Т
и Т₁

3. $OH=OH_1=OT+Дю=22+50=72$, отложить
вправо и вниз от т.О, провести дугу
циркулем из т.О, соединяя точки Н и Н₁



Построение юбки «Колокол» (Ст=34, Дю=50)

1. Поставить т.О, построить угол 45° .
2. $OT=OT_1=1,2 \cdot Ст=1,2 \cdot 34=41$, отложить по сторонам угла от т.О, провести дугу циркулем из т.О, соединяя точки Т и T_1
3. $OH=OH_1=OT+Дю=41+50=91$, отложить по сторонам угла от т.О, провести дугу циркулем из т.О, соединяя точки Н и H_1



Задание № 1

Сделать расчет и построить чертеж юбки-солнце по заданным меркам.

Задание № 2

Сделать расчет и построить чертеж юбки-полусолнце по заданным меркам.

Задание № 3

Сделать расчет и построить чертеж юбки-колокол по заданным меркам.