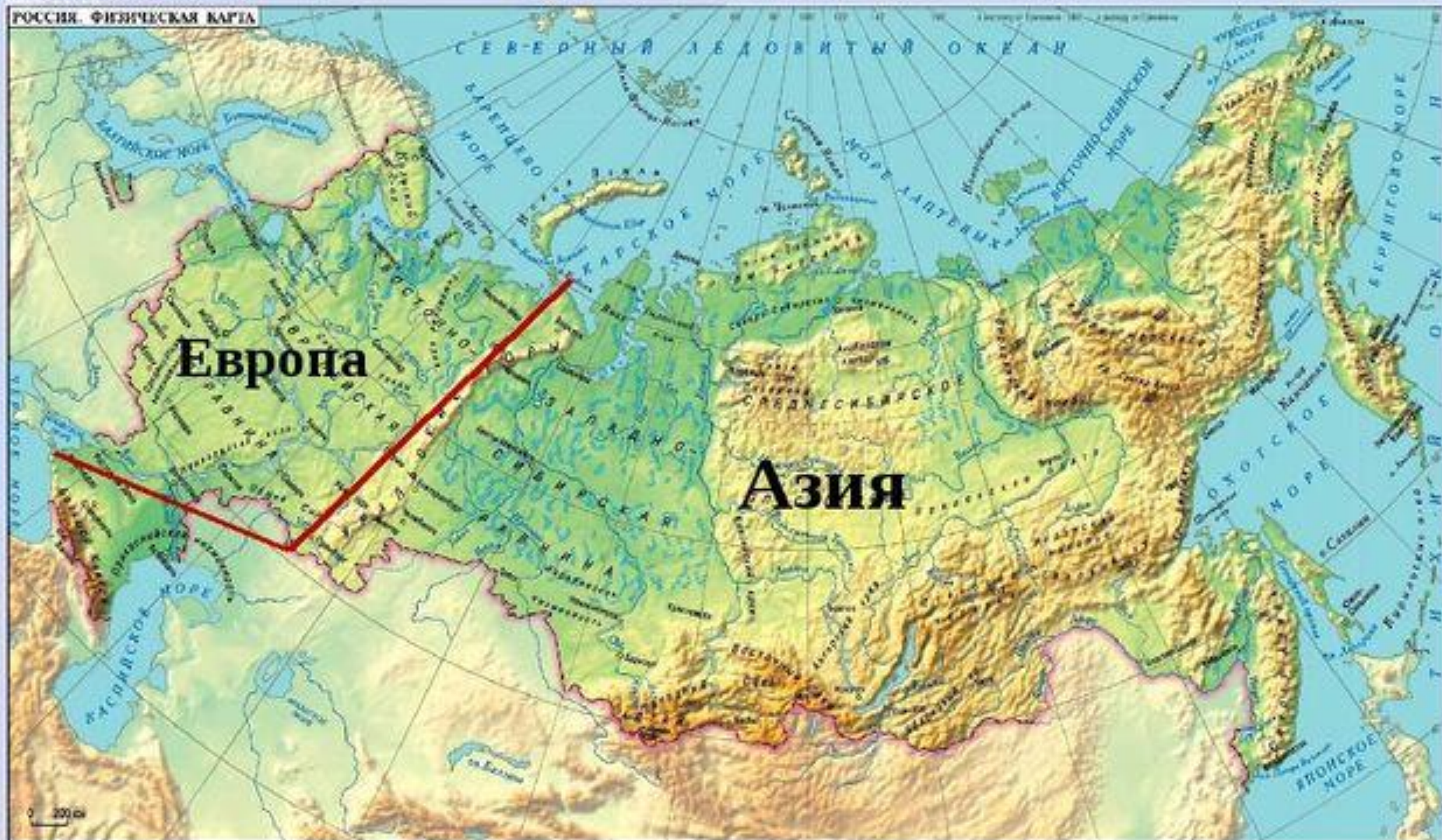


Тема
Географические
открытия 17-19 вв.
Исследование и открытие
территорий Евразии,
России.

Россия

Касаясь трех великих океанов,
Она лежит, раскинув города,
Покрыта сеткою меридианов,
Непобедима, широка, горда.

РОССИЯ. ФИЗИЧЕСКАЯ КАРТА




Ермак
Тимофеевич -
казачий атаман
(ок.1542-1585)



Хабаров-
Святитский
Ерофей Павлович
- исследователь,
путешественник и
предприниматель
(ок. 1603-1671)



Дежнёв Семен
Иванович - русский
мореход, землепроходец,
путешественник,
исследователь, казачий
атаман, торговец
пушниной. ок. 1605-1673




Беринг Витус Ионассен

- (Иван Иванович

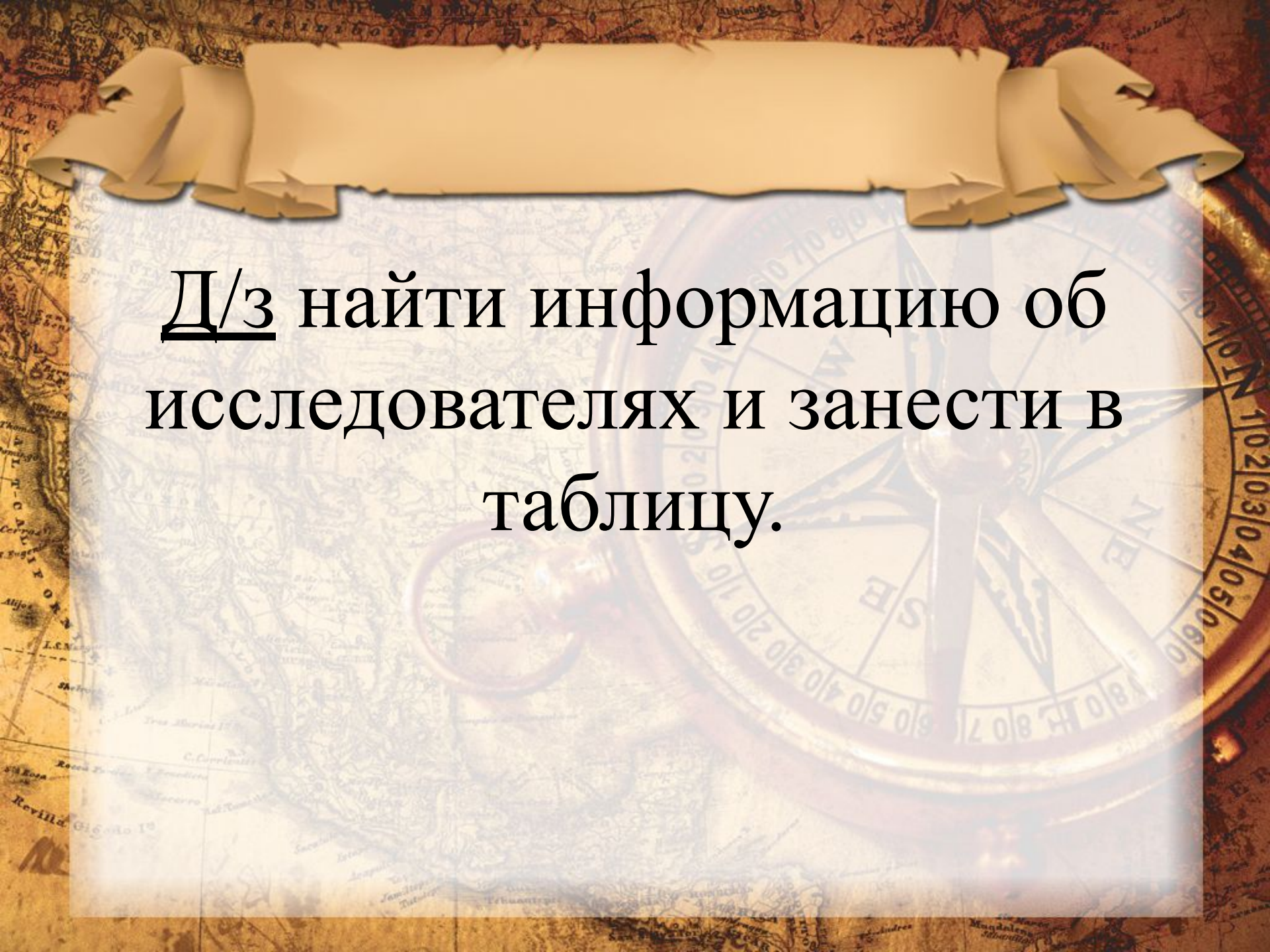
Беринг), мореплаватель,
офицер русского флота,
капитан-командор. По
происхождению
датчанин.

(1681-1741)



Лаптев Харитон
Прокофьевич -
полярный
исследователь
(1700-1763)





Д/з найти информацию об исследователях и занести в таблицу.



Тест

1. В каких частях света расположена современная территория России?

- а) в Европе
- б) в Африке
- в) в Азии
- г) в Америке



2. Территорию России омывают моря

а) Тихого океана

б) Атлантического океана

в) Индийского океана

г) Северного Ледовитого океана



3. Русские путешествовали в основном по своей стране, потому что

1) наша страна обладает большими природными богатствами

2) горы, реки, озёра нуждались в изучении и нанесении на карту

а) правильно только 1

б) правильно только 2



4. Завоеватель Сибири для Российского государства

- а) Ермак
- б) Ерофей Хабаров
- в) Семен Дежнев



5. Первым прошел пролив между Евразией и Северной Америкой

а) Семен Дежнев

б) Витус Беринг

в) Алексей Чириков



6. Выберите географические объекты, по территории которых проходила экспедиция Семёна Дежнёва.

- а) река Колыма
- б) река Анадырь
- в) полуостров Аляска
- г) Тихий океан
- д) Северный Ледовитый океан



7. «Коломбами Росскими» называют

а) Витуса Беринга и Афанасия Никитина

б) Афанасия Никитина и Семёна Дежнёва

в) Витуса Беринга и Алексея Чирикова



8. Как назывались корабли экспедиции Беринга и Чирикова?

- а) «Святой Илья»
- б) «Святой Павел»
- в) «Святой Николай»
- г) «Святой Петр»



11. Установите соответствие между географическим объектом и его названием.

**ГЕОГРАФИЧЕСКИЙ
ОБЪЕКТ**

- 1) остров
- 2) пролив
- 3) мыс
- 4) река
- 5) полуостров

**НАЗВАНИЕ
ГЕОГРАФИЧЕСКОГО
ОБЪЕКТА**

- а) Камчатка
- б) Беринга
- в) Берингов
- г) Анадырь
- д) Дежнёва