



Занятие № 10,11

Тема: *Решение тестовых заданий.*
Итоговое занятие.





Рекомендации:

Все вопросы имеют сквозную нумерацию.

Ответы заполняете в готовую таблицу в формате :

1	2	3	4	5
А	Б	А	В	Г

и так далее.

Если ответ в текстовом формате то: 1-А; 2-Б; 3-А; 4-В; 5-Г

И так далее.

Если у вас нет возможности заполнить таблицу в текстовом редакторе Word и отправить по электронной почте (адрес на последнем слайде), то можете сделать таблицу от руки . Заполнив её ответами сфотографировать и отправить как фото или рисунок на Viber. Если у вас другой мессенджер (Контакт, Вацап) отправляйте фото свои классным руководителям или ведущим наш проект «Азбука дорожной безопасности»





Блок № 1

Кто ты на дороге





Вопрос № 1

Ты вышел из дома. В каком месте ты становишься пешеходом?



А – В точке А.

Б – В точке Б.



Вопрос № 2

Рано утром ты один на дороге. Необходимо ли соблюдать Правила дорожного движения?



А – Да.

Б – Нет.





Вопрос № 3

Ты стоишь на тротуаре на автобусной остановке. Кем ты являешься?



- А – Участником дорожного движения.
- Б – Сторонним наблюдателем.



Вопрос № 4

Кем ты являешься, находясь в автобусе?



А – Пассажиром.

Б – Пешеходом.





Вопрос № 5

Ты вышел из автобуса. Кем ты стал?



А – Пассажиром.

Б – Пешеходом.





Вопрос № 6

Переходя на другую сторону дороги по подземному пешеходному переходу, являешься ли ты пешеходом?



А – Да.

Б – Нет.



Вопрос № 7

Кем ты являешься, двигаясь на велосипеде по тротуару?



- А – Велосипедистом.
- Б – Пешеходом.





Вопрос № 8

Человек, ведущий велосипед, является:



А – Велосипедистом.

Б – Пешеходом.





Вопрос № 9

Кем ты являешься, катаясь на роликовых коньках по тротуару?



- А – Велосипедистом.
- Б – Пешеходом.
- В –водителем.





Вопрос № 10

Садясь в легковой автомобиль, ты становишься:



- А – Велосипедистом.
- Б – Пешеходом.
- В –водителем.
- Г – Пассажиром.





Блок № 2

Ты - пешеход





Вопрос № 11

Разрешено ли ходить по проезжей части дороги во дворах?



А – Нет, запрещено.

Б – Да, разрешено, не препятствуя движению автомобилей.





Вопрос № 12

Кто имеет преимущество на проезжей части дороги во дворе?



А – Водители автомобилей.

Б – Пешеходы.

В – Все равноправны.





Вопрос № 13

Укажи место, где начинается дворовая территория:



А – в точке Б.

Б – в точке А.





Вопрос № 14

По пешеходной дорожке могут двигаться:



А – Велосипедисты,
при отсутствии
велосипедной дорожки,
не создавая
препятствий
пешеходам, и
пешеходы.

Б – Только пешеходы.





Вопрос № 15

Разрешается ли пешеходам двигаться по велосипедной дорожке?



А – Нет, запрещается.
Б – Да, разрешается, если нет пешеходной дорожки или тротуара, не создавая препятствий велосипедистам.



Вопрос № 16

Как ты здесь перейдешь на другую сторону дороги?



А – По проезжей части дороги по кратчайшей траектории, уступая дорогу автомобилям.

Б – По подземному пешеходному переходу.

В – Не имеет значения.





Вопрос № 17

Как здесь безопаснее перейти на другую сторону дороги?



А – По подземному пешеходному переходу.


Б – По нерегулируемому пешеходному переходу.





Вопрос № 18

Переходя проезжую часть дороги по «зебре», ты:



А – Будешь постоянно контролировать, уступают ли водители тебе дорогу и слева, и справа.

Б – Двигаясь до середины проезжей части дороги, будешь контролировать, уступают ли водители тебе дорогу слева, а затем, уступают ли тебе дорогу справа.





Вопрос № 19

Разрешено ли останавливаться при переходе через проезжую часть дороги?



А – Разрешено только на островке безопасности.

Б – Разрешено в любом месте.

В – Запрещено в любом месте.





Вопрос № 20

Как ты поступишь в показанной ситуации, если зелёный сигнал пешеходного светофора сменился красным?



А – Вернешься назад и станешь на тротуар.

Б – Дойдёшь до островка безопасности и остановишься на нём, ожидая разрешающего сигнала светофора.

В – Увеличишь скорость и перейдёшь проезжую часть дороги, не останавливаясь на островке безопасности.





Вопрос № 21

Как ты поступишь, если замигал зелёный сигнал светофора?



А – Перебежишь проезжую часть дороги по регулируемому пешеходному переходу, повысив внимание.


Б – Дойдешь до островка безопасности, повысив внимание и увеличив скорость, и остановишься на нём.





Вопрос № 22

Как ты поступишь в показанной ситуации, если загорелся красный сигнал пешеходного светофора?



А – Закончишь переход, увеличив скорость и повысив внимание.


Б – Вернёшься назад на островок безопасности.





Вопрос № 23

Как ты поступишь в показанной ситуации, если загорелся красный сигнал пешеходного светофора?



А – Перебежишь проезжую часть дороги по регулируемому пешеходному переходу, повысив внимание.

Б – Дойдешь до островка безопасности, повысив внимание и увеличив скорость, и остановишься на нём.





Вопрос № 24

По какой траектории разрешено перейти проезжую часть дороги?



- А – По траектории Б.
- Б – По траектории А.
- В – По траектории А и Б.





Вопрос № 25

Разрешено ли перейти проезжую часть дороги, как показано стрелкой?

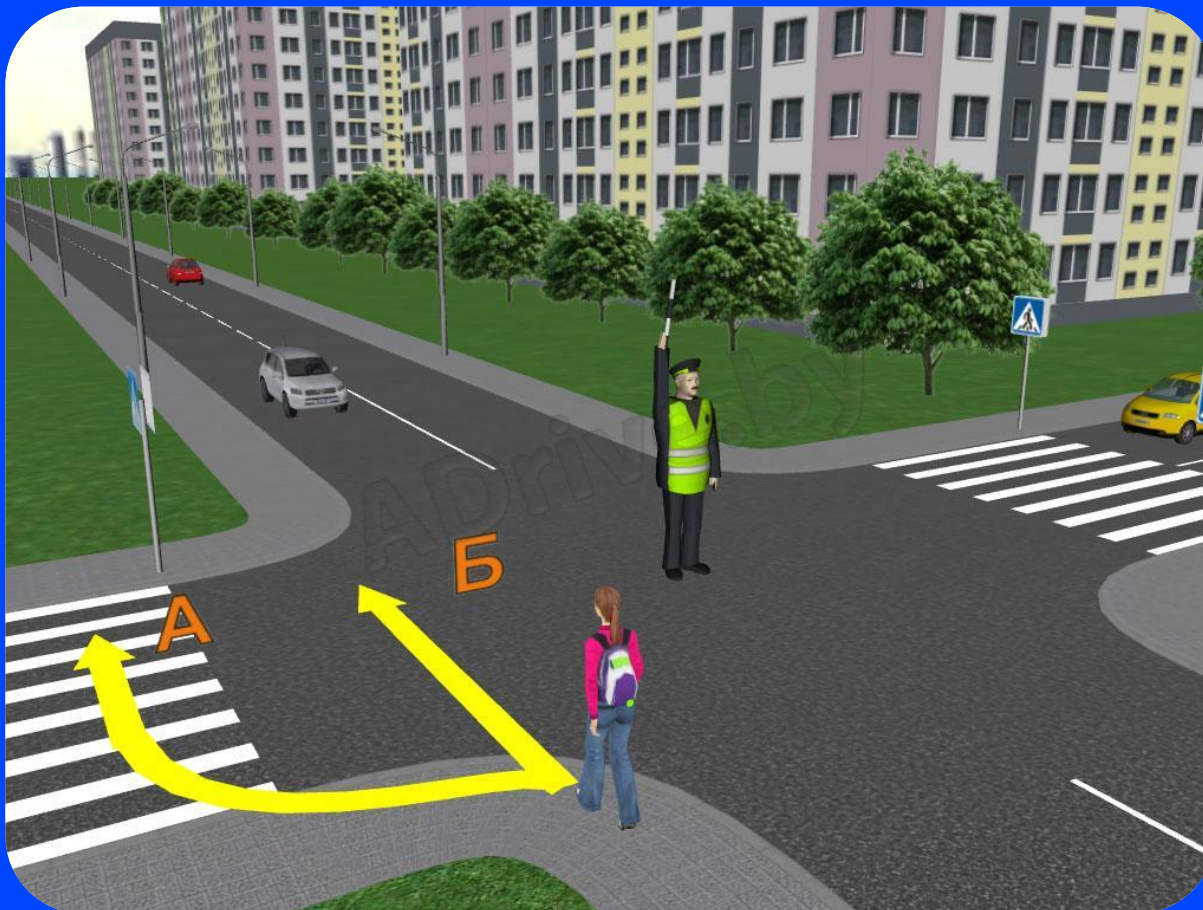


- А – Запрещено.
- Б – Разрешено.



Вопрос № 26

Как ты поступишь при таком сигнале регулировщика?



- А – Перейдешь проезжую часть дороги по траектории Б.
- Б – Перейдешь проезжую часть дороги по траектории А.
- В – Перейдешь проезжую часть дороги по траектории А или Б.
- Г – В этой ситуации запрещено переходить проезжую часть дороги по любой траектории.





Вопрос № 27

Разрешено ли перейти проезжую часть дороги в этой ситуации?



А – Запрещено.

Б – Разрешено.





Вопрос № 28

Как ты поступишь, если автомобиль ГАИ включил синие и красные маячки и специальный звуковой сигнал?



- А – Продолжишь переход через проезжую часть дороги, увеличив скорость и повысив внимание.
- Б – Быстро вернешься назад, соблюдая меры предосторожности.





Вопрос № 29

Разрешается ли перейти дорогу в месте, где установлены дорожные ограждения?



А – Разрешается, если поблизости нет автомобилей.

Б – Запрещается.

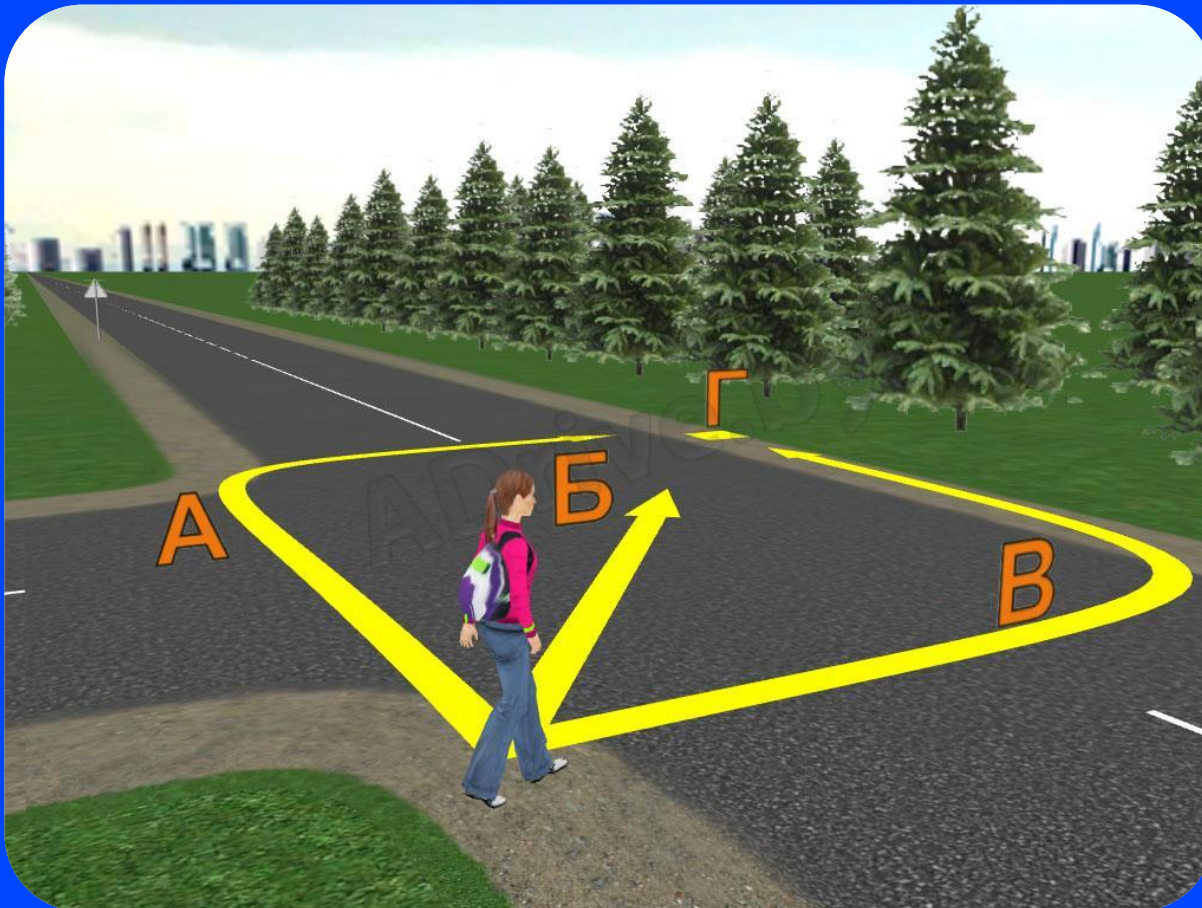
В – Разрешается.





Вопрос № 30

По какой траектории безопасней добраться до точки Г?



- А – По траектории А.
- Б – По траектории Б.
- В – По траектории В.



Вопрос № 31

В чём необходимо убедиться при переходе через проезжую часть дороги в сумерках?



А – В том, что ты прикрепил к себе фликер и заметен для всех участников дорожного движения.
Б – В том что поблизости нет транспортных средств и выход на проезжую часть дороги безопасен.





Вопрос № 32

Разрешено ли тебе кататься по пешеходной дорожке на роликовых коньках?



А – Нет, запрещено.

Б – Да, разрешено, не создавая препятствий для движения других пешеходов.





Вопрос № 33

Разрешено ли тебе кататься по тротуару на скейтборде?



А – Нет, запрещено.

Б – Да, разрешено, не создавая препятствий для движения других пешеходов.





Вопрос № 34

Разрешено ли тебе кататься по на роликовых коньках в направлении стрелки, как показано на рисунке?



А – Нет, необходимо переместиться с велосипедной дорожки на пешеходную.
Б – Да, разрешено.





Вопрос № 35

Является ли пересечение автомобильной дороги с велосипедной дорожкой перекрёстком?



А – Нет, не является.


Б – Да, является.





Вопрос № 36

По какой траектории разрешено перейти проезжую часть дороги при таком сигнале регулировщика?



- А – По траектории А.
- Б – По траектории Б.
- В – По траектории А и Б.



Вопрос № 37

Разрешено ли тебе здесь идти?



А – Нет, запрещено.

Б – Да, разрешено.





Вопрос № 38

Ты отстал от группы. В какое положение разрешено пристроиться?



А – А.

Б – Б.

В – А и Б.





Вопрос № 39

Разрешено ли тебе перейти на другую сторону дороги, как показано на рисунке?



А – Нет, запрещено.

Б – Да, разрешено, уступив дорогу автомобилю.

В – Да, разрешено.





Вопрос № 40

В чём из перечисленного необходимо убедиться при движении по проезжей части дороги в сумерках?



А – В том, что ты прикрепил к себе фликер.

Б – В отсутствии автомобилей на дороге.

В – Необходимо убедиться и в первом, и во втором.





Блок № 3

Ты - пассажир





Вопрос № 41

Когда ты можешь приобрести билет на проезд у водителя автобуса, трамвая, троллейбуса?



А – Во время движения автобуса, трамвая, троллейбуса.

Б – Во время остановки автобуса, трамвая, троллейбуса на остановочном пункте.





Вопрос № 42

Обязан ли ты держаться за поручни (ремни), стоя в движущемся автобусе, трамвае, троллейбусе?



А – Во время движения автобуса.

Б – Во время остановки автобуса на остановочном пункте.





Вопрос № 43

Как правильно перейти на другую сторону дороги, выйдя из автобуса?



- А – Сзади автобуса.
- Б – По пешеходному переходу.
- В – Спереди автобуса.



Вопрос № 44

Где здесь следует по Правилам дорожного движения ожидать трамвай?



А – На специальной посадочной площадке или на тротуаре.

Б – Только на тротуаре.

В – Только на специальной посадочной площадке.





Вопрос № 45

Где ты будешь ожидать трамвай в показанной ситуации?



А – На проезжей части дороги возле желтой линии разметки.

Б – На тротуаре.





Вопрос № 46

С какой стороны разрешено садиться в автомобиль?



А – С любой стороны.
Б – Только со стороны тротуара.





Вопрос № 47

С какой стороны разрешено садиться в автомобиль?



А – С любой стороны.
Б – Только со стороны тротуара или обочины.





Вопрос № 48

Вы старше 12 лет. Во время движения, находясь на заднем сидении легкового автомобиля, нужно ли пристегиваться ремнём безопасности?



- А – Нет, не обязательно.
- Б – По своему усмотрению.
- В – Да, обязательно.





Вопрос № 49

Разрешено ли заходить в автобус с велосипедом?



А – Разрешено только с велосипедом с сложенным виде.

Б – Да, разрешено.

В – Нет, запрещено.





Блок № 4

Ты – велосипедист





Вопрос № 50

С какого возраста разрешено выезжать на автомобильные дороги и улицы населённых пунктов на велосипеде без сопровождения взрослых?



А – С 14 лет.

Б – С 16 лет.

В – С 12 лет.



Вопрос № 51

Кто из велосипедистов движется по Правилам?



А – Велосипедист, который движется не далее одного метра от правого края проезжей части.

Б – Велосипедист, который движется строго по центру полосы.

В – Оба велосипедиста движутся по правилам.





Вопрос № 52

Какое максимальное количество велосипедистов может двигаться в одной группе по проезжей части дороги?



А – 10.

Б – 7.

В – 12.



Вопрос № 53

Что обозначает этот дорожный знак?



А – Велосипедную дорожку.

Б – Велодром.



Вопрос № 54

С какими неисправностями запрещается ездить на велосипеде?



- А – С неисправным звуковым сигналом.
- Б – С неисправным рулевым управлением.
- В – С неисправной тормозной системой.
- Г – Со всеми вышеперечисленными неисправностями.





Вопрос № 55

**Какого цвета должны быть
световозвращатели на велосипеде?**



А – Спереди –
красного, сзади –
белого, по бокам –
оранжевого.

Б – Спереди – белого,
сзади – красного, по
бокам – оранжевого.





Вопрос № 56

Когда велосипедист должен включать фары и фонари?



- А – При движении в условиях сильного тумана или дождя.
- Б – При движении в темное время суток.
- В – В обоих случаях.



Вопрос № 57

Как правильно пересечь проезжую часть дороги по пешеходному переходу с велосипедом?



А – Необходимо сойти с велосипеда и вести его рядом с собой, руководствуясь правилами перехода проезжей части дороги для пешеходов.
Б – Разрешено двигаться на велосипеде.





Вопрос № 58

Разрешено ли перевозить на велосипеде пассажиров?



- А – Запрещено.
- Б – Разрешено, если это предусмотрено конструкцией транспортного средства.
- В – Разрешено перевозить детей до 7 лет при наличии специально оборудованных для них мест.
- Г - Разрешено в Б и В.





Вопрос № 59

Разрешено ли тебе двигаться по пешеходной дорожке при отсутствии велосипедной дорожки, и отсутствии возможности двигаться по правому краю проезжей части, как показано на рисунке?



А – Разрешено, не создавая препятствия для безопасного движения пешеходов.

Б – Запрещено, за исключением случая, если ты будешь вести велосипед рядом с собой.

В – Запрещено в любом случае.





Вопрос № 60

Твой возраст от 7 до 14 лет. Разрешено ли тебе двигаться на велосипеде по тротуару, не создавая препятствий для безопасного движения пешеходов?



А – Запрещено.

Б – Разрешено.





Вопрос № 61

Твой возраст старше 14 лет. Разрешено ли тебе двигаться на велосипеде по тротуару, не создавая препятствий для безопасного движения пешеходов?



А – Запрещено.

Б – Разрешено если отсутствуют велосипедная и велопешеходная дорожки, полоса для велосипедистов либо отсутствует возможность двигаться по ним, а также по правому краю проезжей части или обочине;

В – Разрешено если велосипедист сопровождает велосипедиста в возрасте до 14 лет либо перевозит ребенка в возрасте до 7 лет на дополнительном сиденье, в велоколяске или в прицепе, предназначенном для эксплуатации с велосипедом.

Г – Разрешено в случаях Б и В.





Вопрос № 62

Твой возраст старше 14 лет. Нарушаешь ли ты Правила, двигаясь на велосипеде в показанной ситуации?



А – Нет, не нарушаешь.

Б – Да, нарушаешь.





Вопрос № 63

Где разрешено двигаться на велосипеде в показанной ситуации?



А – По велосипедной дорожке.

Б – По пешеходной дорожке.

В – По любой дорожке.





Вопрос № 64

Разрешается ли тебе двигаться на велосипеде, не держась за руль?



А – Нет, запрещается.

Б – Да, разрешается.





Вопрос № 65

Кто здесь пользуется преимуществом?



А – Водитель
автомобиля.

Б – Велосипедист.

В – Тот, кто
подъезжает первым.





Вопрос № 66

Разрешено ли тебе вести велосипед вне населенного пункта в светлое время суток, как показано на рисунке?




- А – Да, разрешено.
- Б – Нет, запрещено.





Вопрос № 67

Разрешено ли тебе повернуть на этом перекрёстке налево?

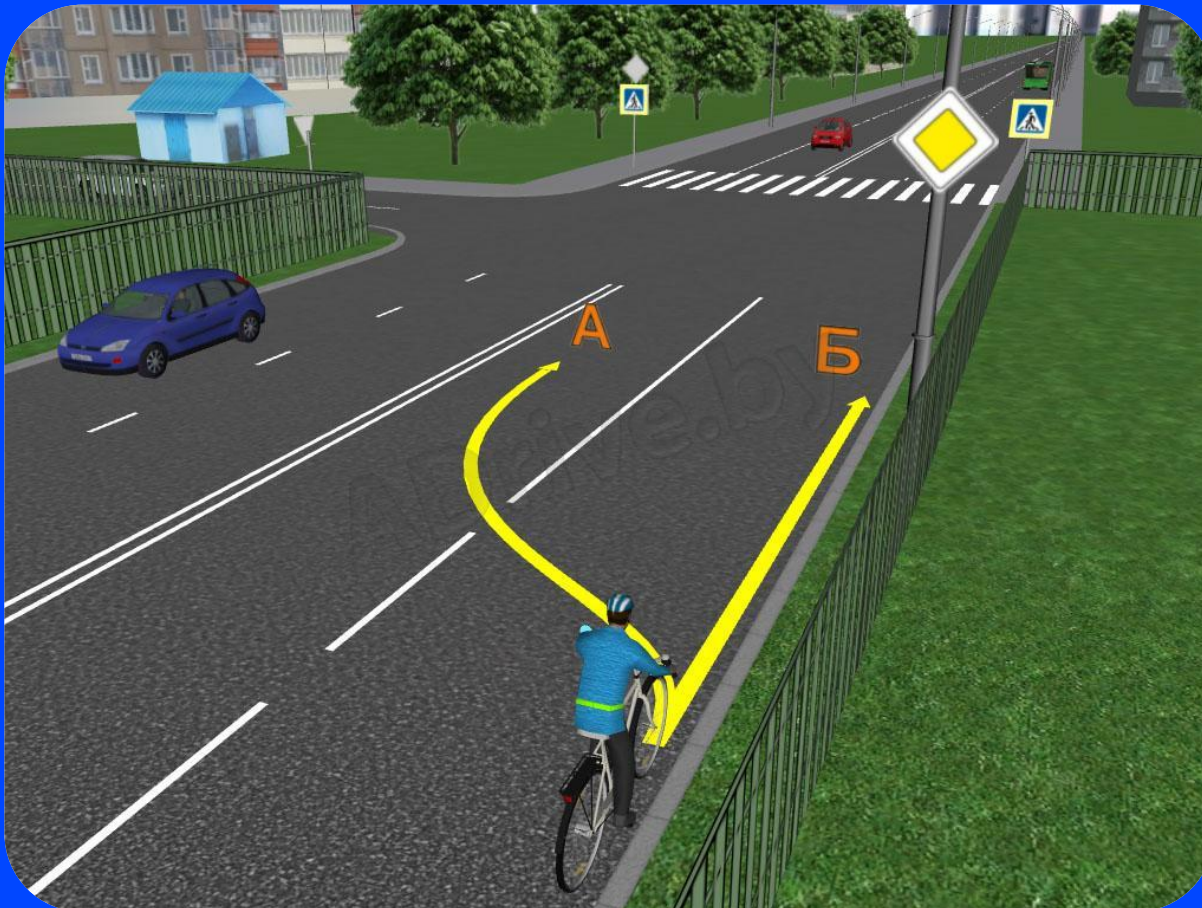


- А – Да, разрешено.
- Б – Нет, запрещено.



Вопрос № 68

Как ты доберёшься к синему домику?



А – Перестроишься по траектории А и повернёшь налево на перекрёстке.

Б – Проедешь прямо по траектории Б и перейдешь проезжую часть дороги по пешеходному переходу.


В – Любым из перечисленных способов.





Вопрос № 69

Как тебе безопаснее добраться к желтому домику?



А – Проехать перекрёсток прямо по траектории Б и перейти через проезжую часть дороги по пешеходному переходу.

Б – Повернуть налево на перекрёстке по траектории А.





Вопрос № 70

Разрешено ли буксировать велосипедом велосипед?




- А – Да, разрешено.
- Б – Нет, запрещено.



Вопрос № 71

Тебе необходимо развернуться. Как безопаснее это сделать?



А – Развернуться с обочины на обочину, как показано стрелкой.
Б – Сойти с велосипеда и перейти через проезжую часть дороги, ведя велосипед рядом с собой.





Блок № 5

Дорожные ситуации





Вопрос № 72

Кто меньше всех защищен на дороге?



- А – Пешеходы.
- Б – Пассажиры.
- В – Водители.



Вопрос № 73

Безопасно ли в показанной ситуации начать переход проезжей части дороги?



- А – Да, безопасно.
- Б – Нет, небезопасно.



Вопрос № 74

Грузовой автомобиль остановился перед пешеходным переходом. На что следует в первую очередь обратить внимание, переходя проезжую часть дороги?



- А – На водителя грузового автомобиля.
- Б – На отсутствие движущегося автомобиля по соседней с грузовым автомобилем полосе.





Вопрос № 75

Вы переходите проезжую часть дороги всей семьей. Как тебе безопаснее передвигаться на пешеходном переходе?



А – Идти в одной группе с родителями.

Б – Идти позади родителей.

Б – Идти впереди родителей.





Вопрос № 76

Ты выходишь из-за трамвая. В чем здесь для тебя наибольшая опасность?



А – Из-за трамвая на большой скорости может выехать автомобиль.

Б – Водитель трамвая может начать движение.





Вопрос № 77

Выходя на проезжую часть дороги из-за стоящего автомобиля:



А – Достаточно посмотреть только налево.

Б – Следует убедиться, что дорога хорошо просматривается в обе стороны и нет приближающихся автомобилей.





Вопрос № 78

В каких случаях опасно разговаривать по мобильному телефону?



А – Переходя проезжую часть дороги по пешеходному переходу.

Б – Двигаясь на велосипеде по проезжей части дороги.

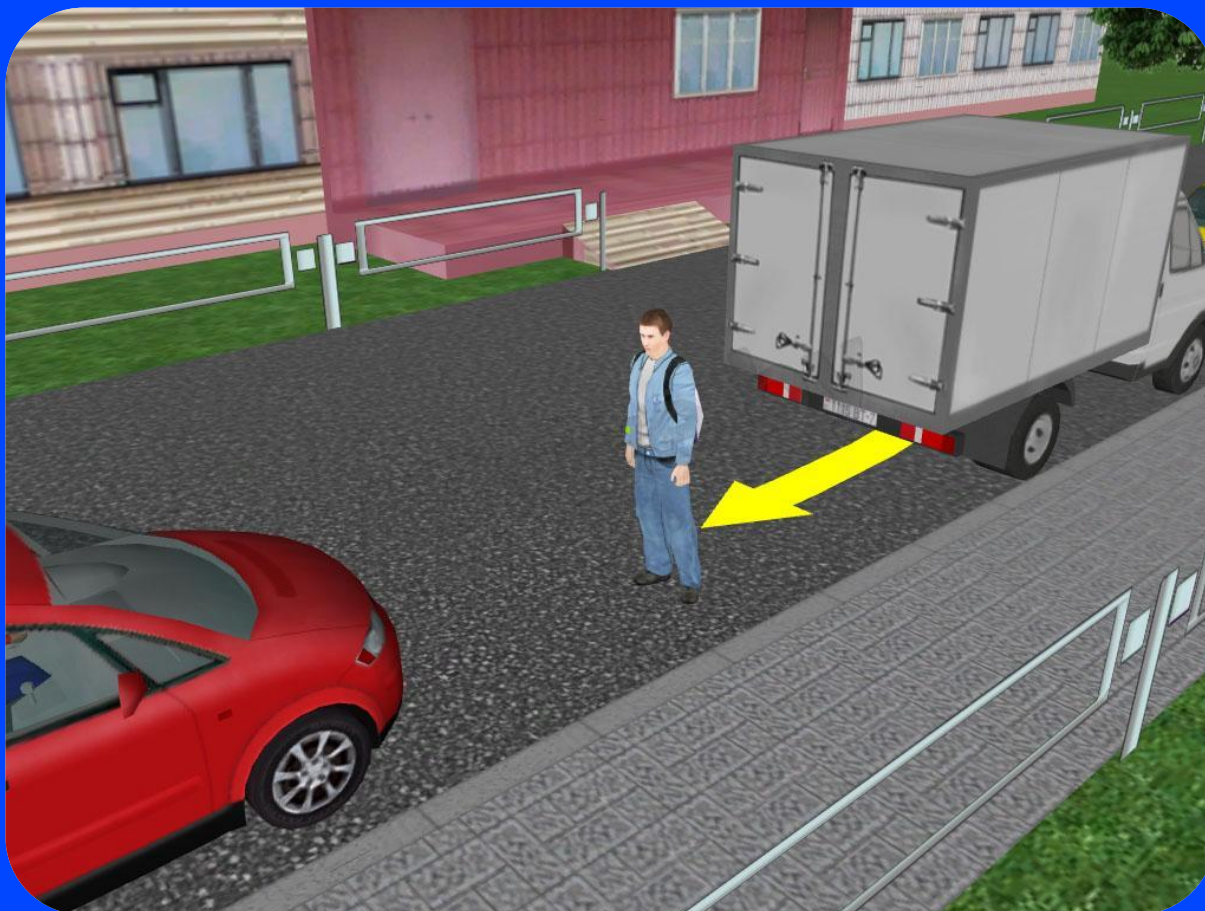
В – В обоих случаях.





Вопрос № 79

Какая наибольшая опасность подстерегает пешехода в этом дворе?



А – Водитель фургона, двигаясь задним ходом, не видит пешехода.

Б – Красный автомобиль может начать движение.



Вопрос № 80

Автомобили остановились в пробке. Разрешено ли тебе в этой ситуации перейти проезжую часть дороги, как показано стрелкой?



А – Да, разрешено.
Б – Нет, необходимо перейти проезжую часть дороги по ближайшему пешеходному переходу.



Вопрос № 81

Где здесь тебе более безопасно идти пешком?



А – Левее белой линии разметки.

Б – Правее белой линии разметки.

В – По белой линии разметки.





Вопрос № 82

Как здесь перейти через проезжую часть дороги?



А – Быстрым шагом, убедившись, что нет автомобилей.

Б – Перейти проезжую часть дороги в другом месте – там, где она хорошо просматривается в обе стороны.





Вопрос № 83

В чем опасность игры с мячом вблизи дороги?



А – Мяч может выскочить на проезжую часть дороги.

Б – Мяч может повредить автомобили.

В – Мяч отвлекает твое внимание.

Г – Во всём вышеперечисленном.





Вопрос № 84

**Мяч выкатился на проезжую часть дороги.
Как безопаснее его подобрать?**



А – Подобрать, дождавшись, когда мяч остановится.

Б – Незамедлительно направиться за мячом, не дожидаясь, пока он остановится.





Вопрос № 85

В чём опасность для тебя в этой ситуации?



А – Из-за автобуса тебя могут не видеть другие участники дорожного движения.

Б – Ты можешь находиться в «мертвой зоне» для водителя автобуса.

В – необходимо учитывать и первое, и второе.





Вопрос № 86

Ты поворачиваешь направо одновременно с автобусом. Более безопасно:



А – Проехать, пропустив автобус вперёд.

Б – Проехать одновременно с автобусом.





Вопрос № 87

Тебе необходимо проехать прямо через перекрёсток. Как ты поступишь?



А – Проедешь прямо, убедившись, что красный автомобиль не будет поворачивать направо.

Б – Проедешь прямо одновременно с красным автомобилем.





Вопрос № 88

Ты хочешь развернуться. Как ты поступишь?



А – Проедешь прямо, убедившись, что красный автомобиль не будет поворачивать направо.


Б – Проедешь прямо одновременно с красным автомобилем.





Вопрос № 89

Как безопаснее объехать припаркованный автомобиль?



А – Объехать, убедившись, что красный автомобиль уступает тебе дорогу.

Б – Вынудить красный автомобиль уступить тебе дорогу.

В – Объехать, уступив дорогу красному автомобилю.





Вопрос № 90

Наезд на пешехода – это:



А – Дорожно-транспортное происшествие.

Б – Ничего особенного.

В – Несчастный случай.





Вопрос № 91

В каком случае произошло дорожно-транспортное происшествие?



А – Столкнулись два пешехода.

Б – Столкнулись два автомобиля.

В – В обоих случаях.





Блок № 6

Дорога в школу





Вопрос № 92

Ты вышел из дома во двор. Стал ли ты участником дорожного движения?



А – Да.

Б – Нет.





Вопрос № 93

Как ты покажешь свое преимущество во дворе?



А – Будешь осторожно переходить проезжую часть дороги перед автомобилем.

Б – Смело будешь переходить проезжую часть дороги перед автомобилем.





Вопрос № 94

Как ты пойдешь к автобусной остановке?



А – По краю проезжей части дороги.

Б – По тротуару.





Вопрос № 95

Ты вышел из автобуса . Где ты перейдёшь проезжую часть?



А – По пешеходному переходу.

Б – Сразу за автобусом.

В – Сразу перед автобусом.





Вопрос № 96

На что необходимо обратить пристальное внимание при переходе через проезжую часть дороги?



А – На светофоры и автомобили.

Б – На пешеходов и водителей.

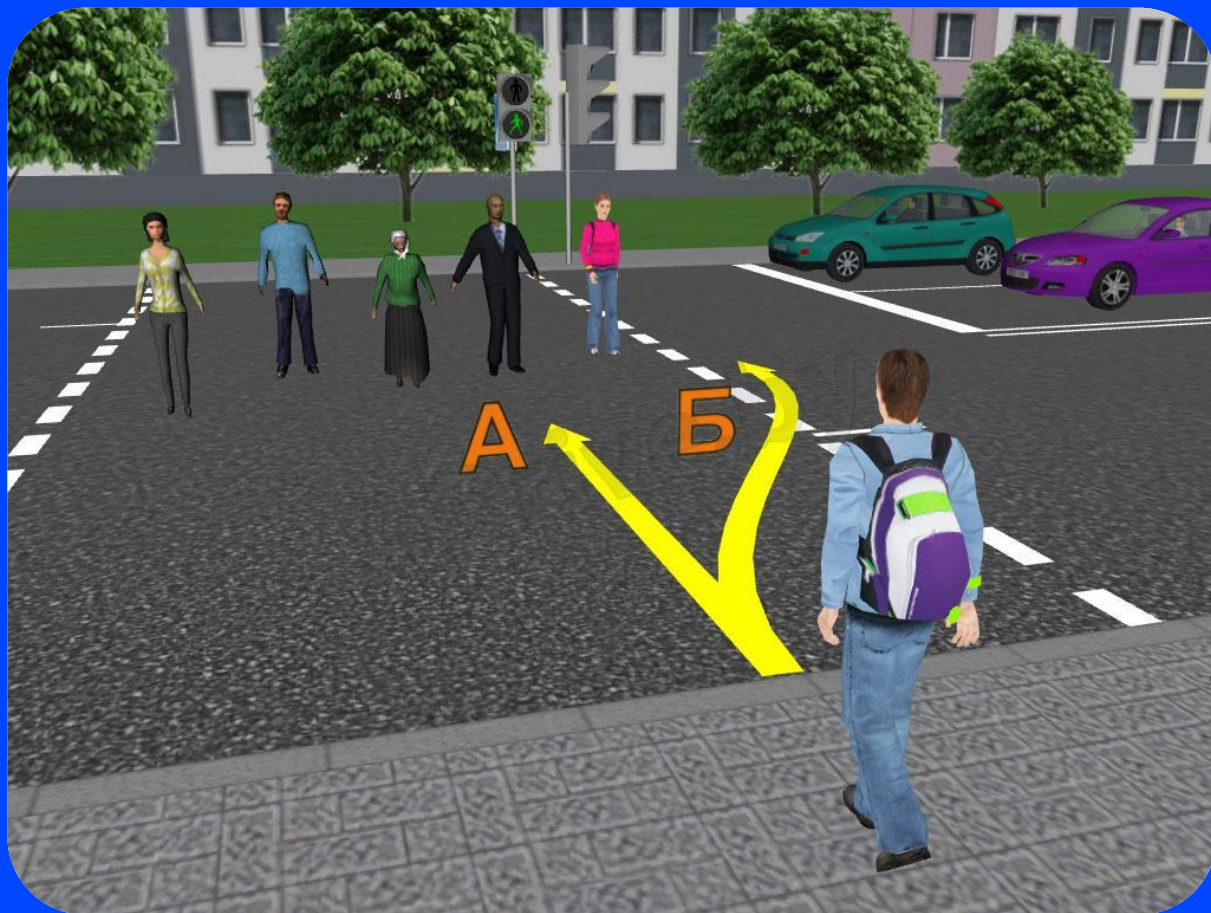
В – На всё вышеперечисленное одновременно.





Вопрос № 97

Навстречу тебе группа пешеходов переходит дорогу. По какой траектории тебе разрешено переходить проезжую часть дороги в этой ситуации?



- А – По траектории А.
- Б - По траектории Б.
- В – По траектории А и Б.



Вопрос № 98

Ты стал на скейтборд. По какой дорожке безопаснее двигаться в показанной ситуации?



- А – По пешеходной дорожке.
- Б - По велосипедной дорожке.
- В – По любой дорожке.

Вопрос № 99



Ты на скейтборде. Впереди «зебра». Как безопаснее переместиться на другую сторону дороги?



А – Быстрее и безопаснее переехать на скейтборде.

Б – Спрыгнуть со скейтборда и перейти пешком.





Вопрос № 100

Как ты пойдешь к автобусной остановке?



А – По обочине.

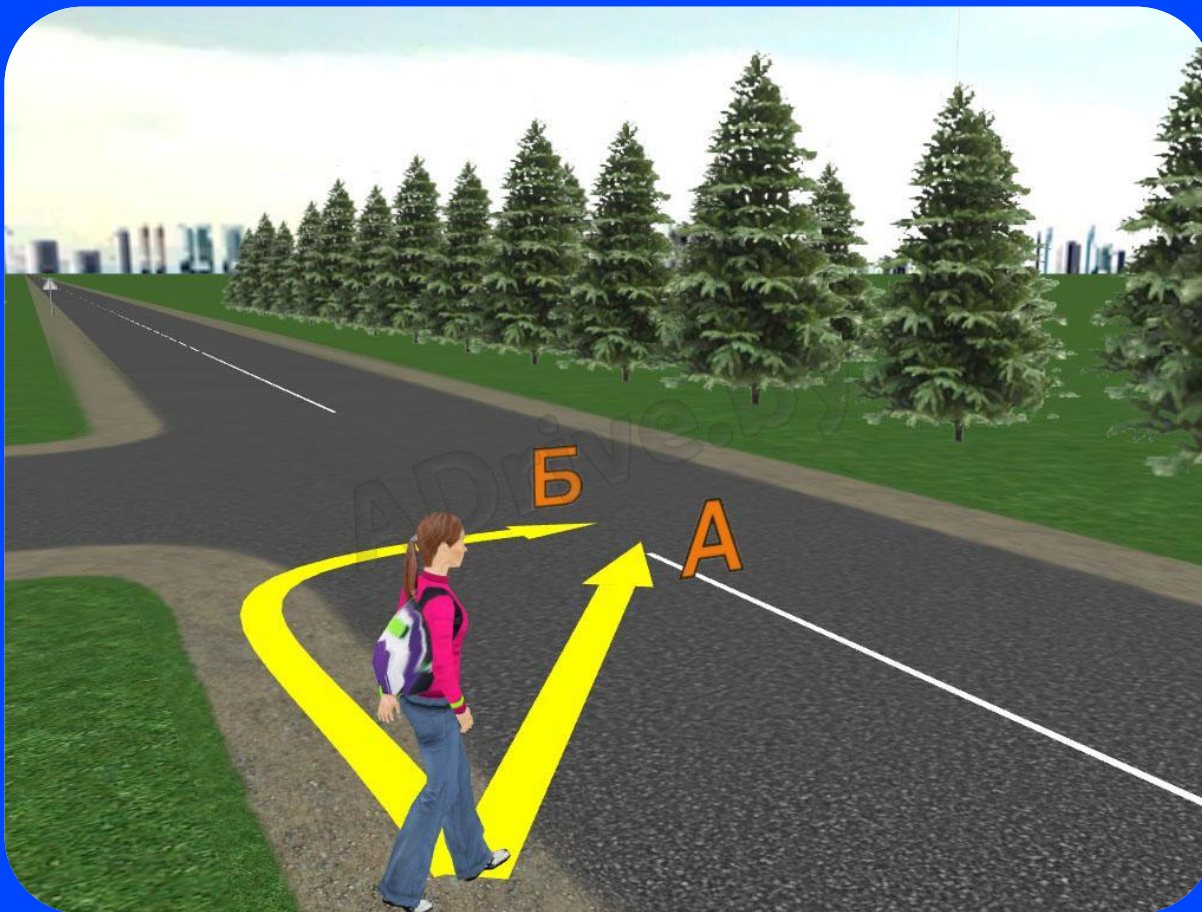
Б – По краю проезжей части дороги.





Вопрос № 101

По какой траектории тебе здесь разрешено перейти через проезжую часть дороги, если поблизости нет пешеходного перехода?



- А – По траектории Б.
- Б – По траектории А.
- В – По траектории А и Б.



Вопрос № 102

Разговаривать по мобильному телефону, ты подошел к «зебре». Как ты поступишь?



А – Продолжишь разговор, переходя через проезжую часть дороги.

Б – Остановишься на тротуаре, закончишь разговор, только потом перейдешь через проезжую часть дороги.





Вопрос № 103

Как ты поступишь в этой ситуации?



А – Осторожно продолжишь переходить проезжую часть дороги, убедившись, что автомобиль уступает тебе дорогу.

Б – Смело продолжишь переходить проезжую часть дороги, используя свое преимущество.


В – Вернешься на тротуар и дождешься момента, когда проезжая часть дороги будет полностью свободна.





Вопрос № 104

Ты дошел до середины дороги. Как ты поступишь?



А – Замедлишь шаг и убедишься, что автомобили справа уступают тебе дорогу, затем продолжишь переходить через проезжую часть дороги.
Б – Продолжишь переходить проезжую часть дороги, не замедляя шага, используя свое преимущество.





Вопрос № 105

Ты заканчиваешь переходить проезжую часть дороги по пешеходному переходу?




- А – Нельзя снижать внимание, даже оказавшись на тротуаре двумя ногами.
- Б – Уже можно снизить внимание, до тротуара осталось два шага.
- В – Можно снизить внимание, только закончив переходить проезжую часть дороги и ступив на тротуар.





Вопрос № 106

Ты опаздываешь на урок. Как ты перейдешь через проезжую часть дороги в этой ситуации?



А – Пропустишь автомобили, которые заехали на пешеходный переход, а затем осторожно перейдешь через проезжую часть дороги.
Б – Быстро перейдешь через проезжую часть дороги. Автомобили должны уступить тебе дорогу.





Вопрос № 107

Чем различается дорожное движение в городе и в деревне?



А – В городе другие правила дорожного движения.

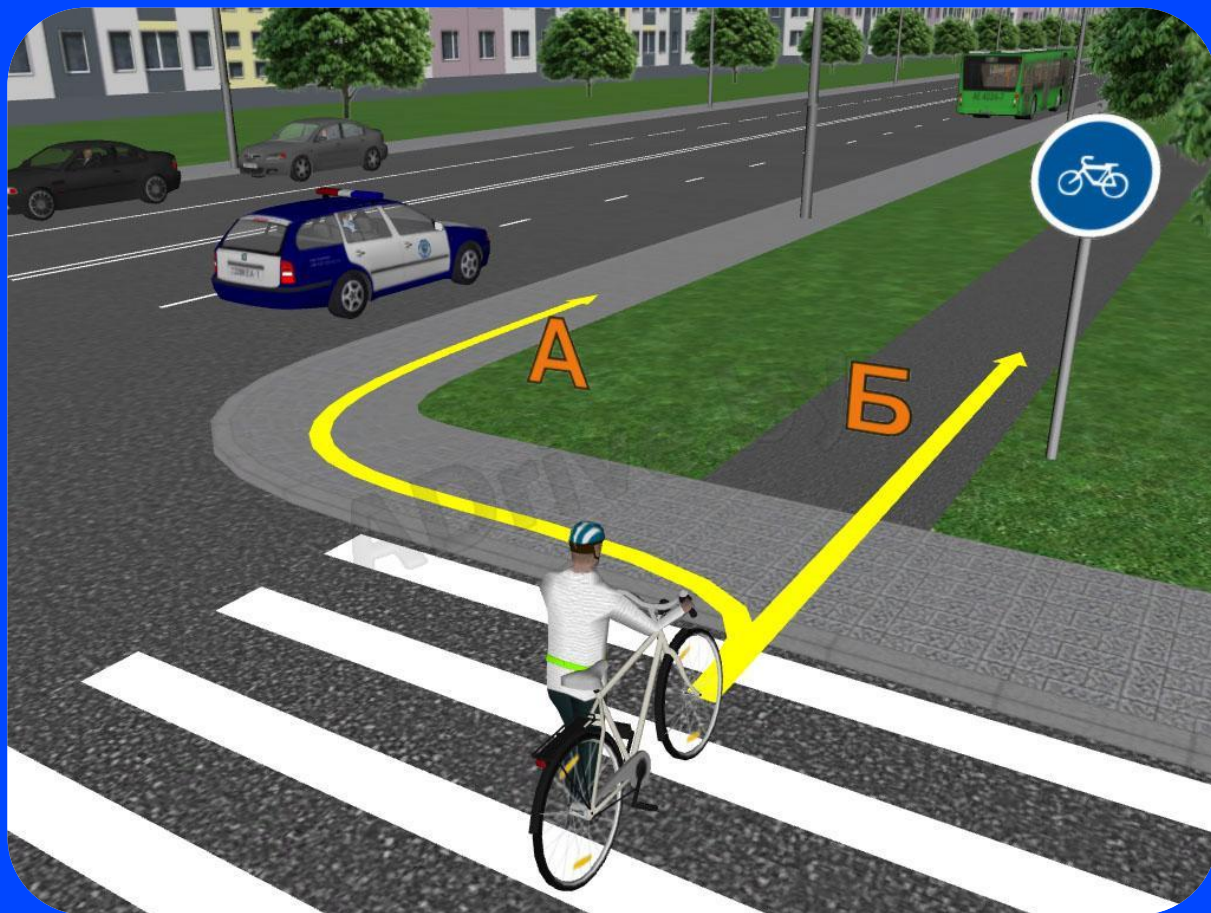
Б – В городе более интенсивное дорожное движение.





Вопрос № 107

Впереди начинается велосипедная дорожка. По какой траектории ты поедешь дальше?



А – По траектории А.
Б – По траектории Б.



Вопрос № 108

Ты намерен переместиться на другую сторону дороги по подземному пешеходному переходу. Как ты поступишь?



- А – Будешь вести велосипед по подземному пешеходному переходу рядом с собой.
- Б – Проедешь на велосипеде по подземному пешеходному переходу.



Вопрос № 109

Ты покидаешь город. Где здесь разрешено ехать на велосипеде?



А – По краю проезжей части, если невозможно двигаться по обочине.

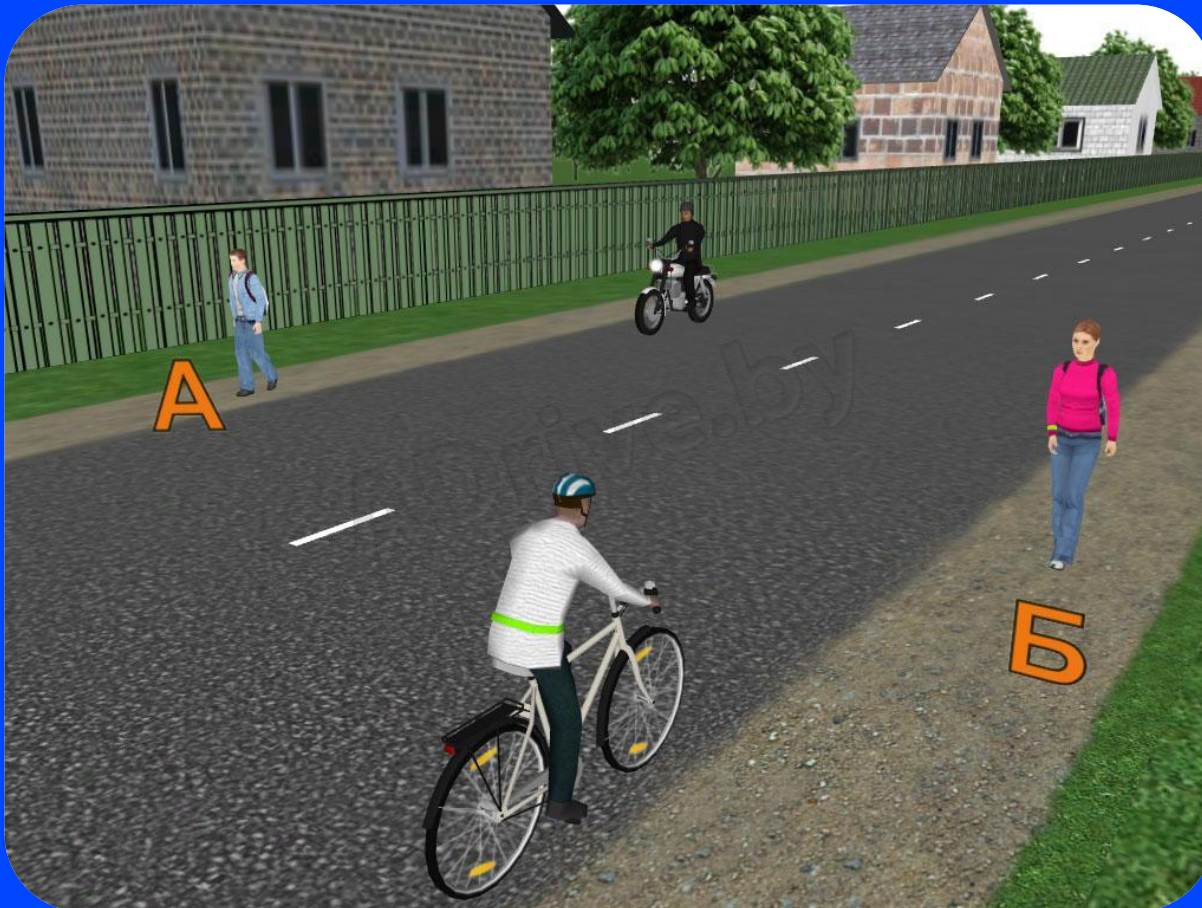
Б – Только по краю проезжей части.





Вопрос № 110

Вперед по дороге идут пешеходы. Кто идет, соблюдая Правила?



А – Пешеход А.

Б – Пешеход Б.


В – Оба соблюдают
Правила.





Вопрос № 111

В чем нужно убедиться и чем руководствоваться перед тем, как проехать через железнодорожный переезд?



- А – Шлагбаум открыт.
- Б – Выключена световая и звуковая сигнализация.
- В – Отсутствует приближающийся поезд.
- Г – Во всем вышеперечисленном.



Вопрос № 112

Шлагбаум открыт. Можешь ли ты ехать через железнодорожный переезд в показанной ситуации?



А – Нет.

Б – Да.



Вопрос № 113

Ты намерен проехать этот перекресток прямо. Как ты поступишь?



- А – Проедешь перекрёсток первым.
- Б – Проедешь перекрёсток вторым, уступив дорогу автомобилю.



Вопрос № 114

Ты хочешь передохнуть. Где ты оставишь велосипед?



А – Положишь на обочину.

Б – Прислонишь к берёзе.





Вопрос № 115

Ты двигаешься в темное время суток на велосипеде. В чем из перечисленного тебе необходимо убедиться?



А – В наличии на велосипеде световозвращателей: спереди – белого цвета, сзади – красного, по бокам - оранжевого.

Б – В том, что на велосипеде включены: спереди – фара (фонарь), излучающая белый свет, сзади – фонарь, излучающий красный свет.

В - Необходимо убедиться и в первом, и во втором.





Блок № 7

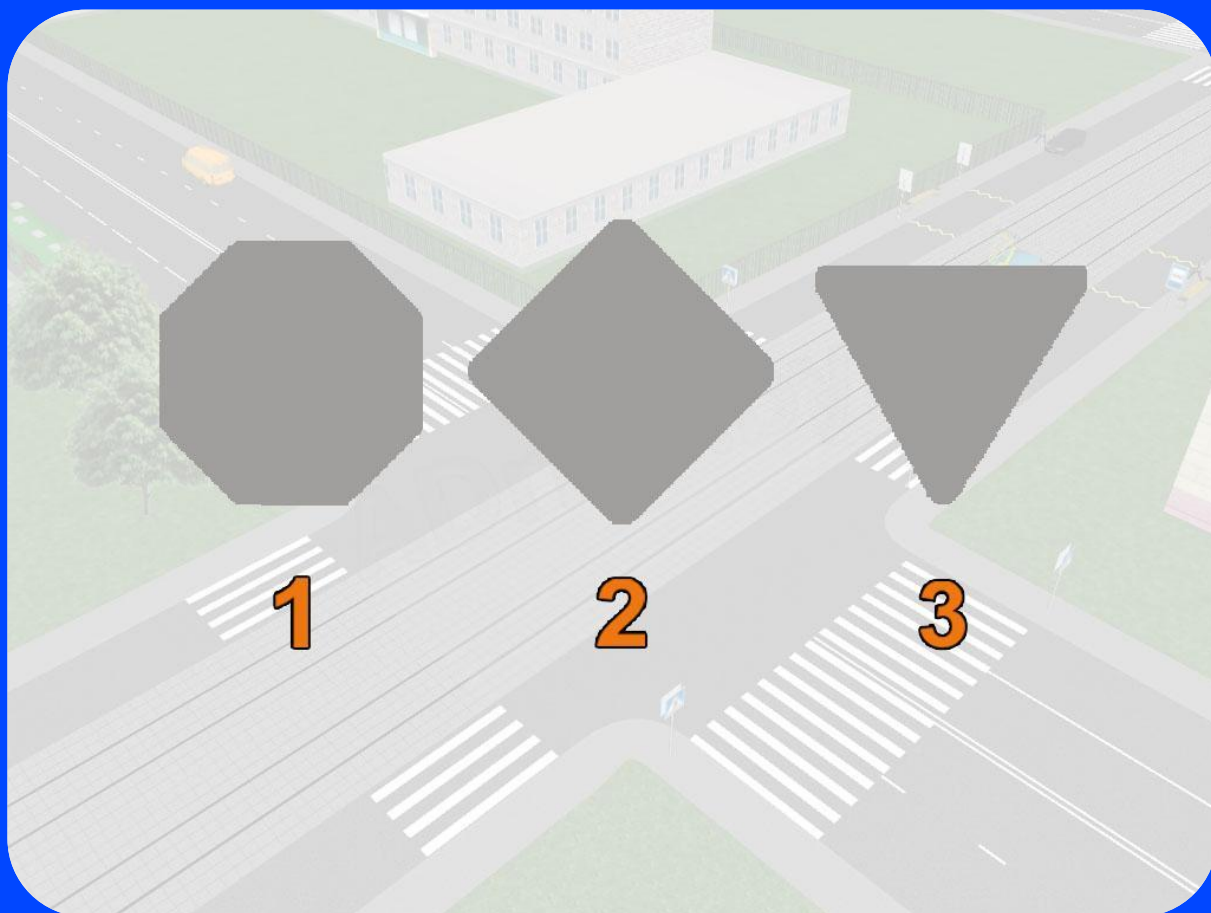
Знаки и разметка





Вопрос № 116

Укажите силуэт дорожного знака «Движение без остановки запрещено».



А – Силуэт 1.

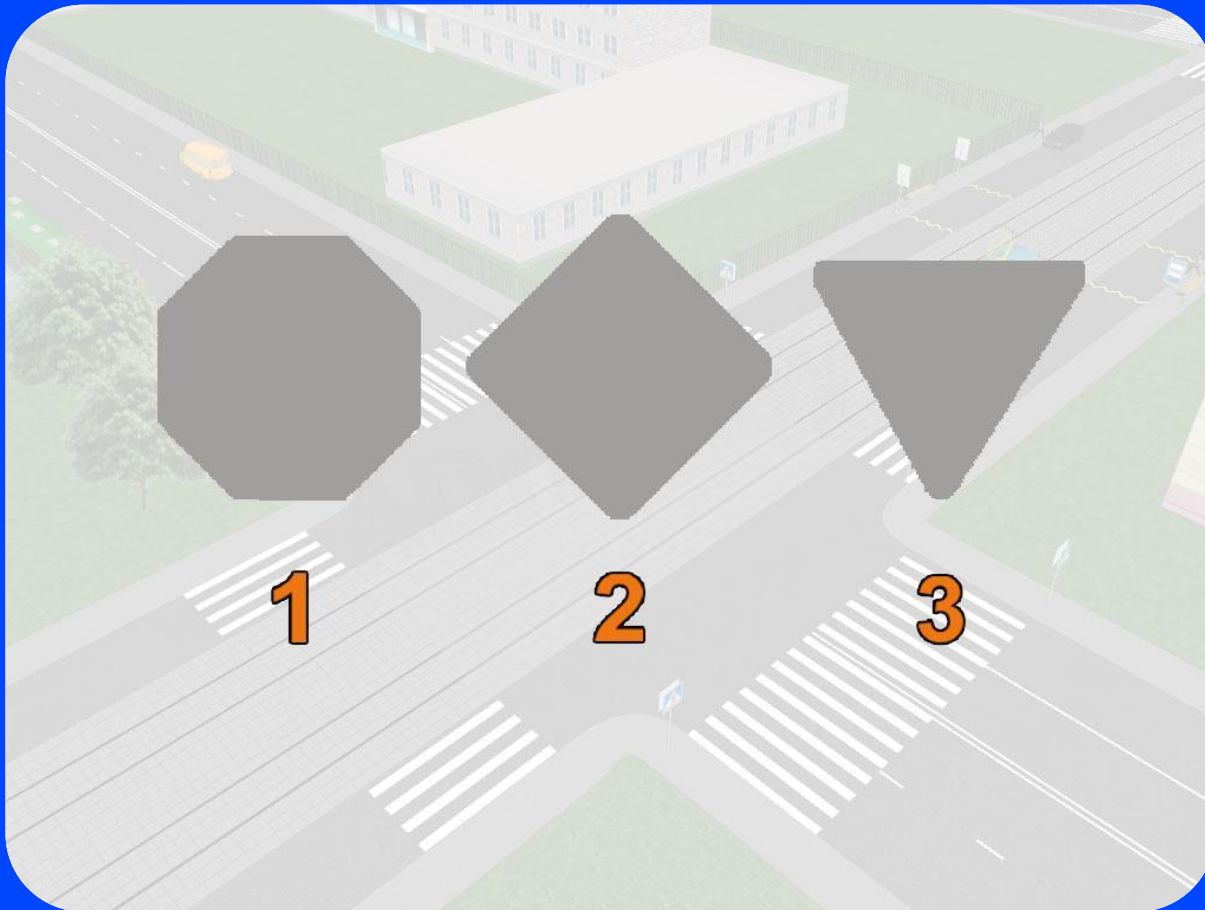
Б – Силуэт 2.

В – Силуэт 3.



Вопрос № 117

Укажите силуэт дорожного знака «Главная дорога».



А – Силуэт 1.

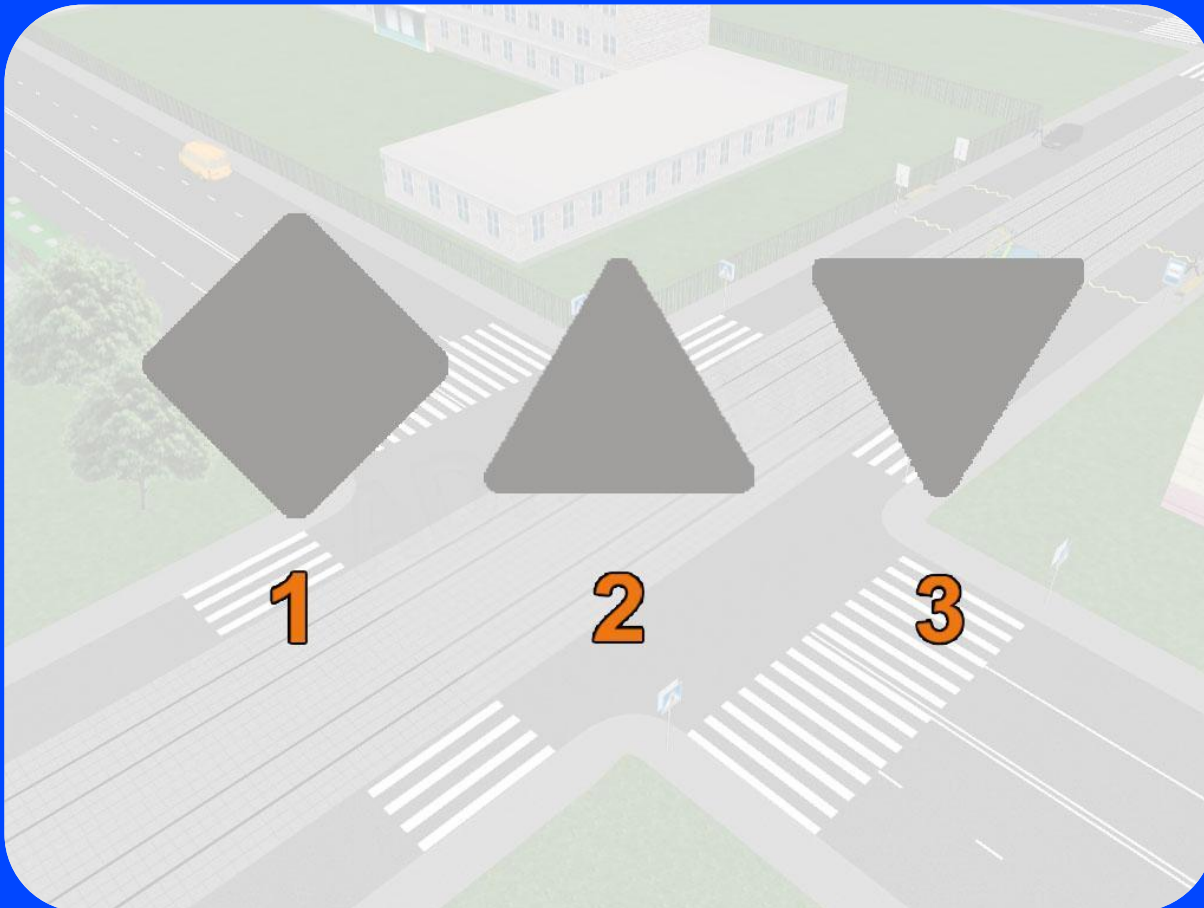
Б – Силуэт 2.

В – Силуэт 3.



Вопрос № 118

Укажите силуэт дорожного знака «Уступите дорогу».



А – Силуэт 1.

Б – Силуэт 2.

В – Силуэт 3.



Вопрос № 119

Какой дорожный знак называется «Пешеходная дорожка»?



1



2



3



4

А – Знак 1.

Б – Знак 2.

В – Знак 3.

Г – Знак 4.



Вопрос № 120

Какой дорожный знак называется «Пешеходная зона»?



А – Знак 1.

Б – Знак 2.

В – Знак 3.

Г – Знак 4.



Вопрос № 121

Какой дорожный знак запрещает движение пешеходов?



А – Знак 1.

Б – Знак 2.

В – Знак 3.



Вопрос № 122

Какой дорожный знак запрещает движение велосипедистов?



А – Знак 1.


Б – Знак 2.

В – Знак 3.



Вопрос № 123

Что это за дорожный знак?



А – Железнодорожный
переезд со
шлагбаумом.

Б – Железнодорожный
переезд без
шлагбаума.



Вопрос № 124

Что это за дорожный знак?



А – Железнодорожный
переезд без
шлагбаума.

Б – Железнодорожный
переезд со
шлагбаумом.





Вопрос № 125

Разрешено ли тебе на этом перекрёстке повернуть направо?



- А – Да, разрешено.
- Б – Нет, запрещено.



**Ответы на задание можно присылать до
15 мая 2020 года в любом виде
(заполненный бланк, фото контрольного
листа) на почту :**

vova_evpa_net@mail.ru

или

Viber: +7(978)8164506

**В тексте письма или сообщения обязательно указывать
название школы и фамилию.**

