

Задания:

- П.35, прочитать, стр.176 вопр.2-7 устно.
- Письменно составить описание одной из стран Центральной Азии (по плану на стр.319 + население, достопримечательности) или устный доклад о стране, опираясь на «визитную карточку» страны
- Учить номенклатуру

Номенклатура: (уметь показывать по физ. карте «Евразия» стр.50-51)

Океаны: Атлантический(Черное,Средиземное), Индийский (Красное, Аравийское море)

Заливы: Аденский, Персидский

Проливы:Босфор, Баб-эль-Мандебский

Острова: Кипр

Полуострова: Малая Азия, Аравийский

Озёра: Каспийское,Мёртвое, Севан(Армения), **Аральское море, Иссык-Куль, оз. Балхаш,**

Горы: Кавказ(г.Эльбрус) Армянское нагорье(г.Большой Арарат), Иранское Нагорье, Гиндукуш,

Казахский мелкосопочник, Памир(пик Исмоила Самони),Тянь-Шань (пик Победы)

Равнины: Колхидская низм., (Грузия) Кура-Араксинская низм.(Азербайджан), Месопотамская низм. Руб-Эль-Хали пуст. **Туранская низм. Каракумы пуст., Кызылкум пуст.**

Реки: Иордан, Ефрат, Тигр, **Сырдарья, Амударья.**

Города: столицы государств, Мекка, Стамбул.

Казахстан и государства Центральной Азии



План характеристики физико-географического положения страны

1. Назовите материк, где находится страна. В какой его части она расположена?

2. Определите, имеет ли страна прямой выход к Мировому океану. Если да, то какими океанами и морями она омывается и какие течения проходят у её берегов? Если страна не имеет выхода к океану, определите примерное расстояние от её границ до ближайшего океана.

3. Установите, как расположена страна по отношению к крупным формам рельефа и сейсмически опасным зонам.

4. Назовите климатические пояса, в пределах которых находится страна.


5. Определите, в бассейнах каких крупных рек расположена территория страны.

6. Перечислите государства, с которыми граничит данная страна. По каким природным объектам проходит государственная граница страны?


7. Население и хозяйственная деятельность.

8. Достопримечательности.

ПЕТР ПЕТРОВИЧ СЕМЁНОВ-ТЯН-ШАНСКИЙ
(1826-1914)



Казахстан и четыре государства Центральной Азии – **Туркменистан, Узбекистан, Кыргызстан** и **Таджикистан** – занимают обширные равнины и высокие горы в центре Евразии.



Кыргызстан и **Таджикистан** – небольшие по площади горные страны. На высокие горы и нагорья приходится более **90%** их территории. **Туркменистан** и **Узбекистан** – по площади почти вдвое крупнее, и на их территориях преобладают равнины. В **Казахстане** – самом северном государстве Центральной Азии и одном из крупнейших на материке – рельеф более разнообразен.



На западе располагаются обширные низменные равнины, восточная часть представлена среднегорьями, а южные и юго-восточные окраины составляют хребты высочайших горных систем



Работа с картой

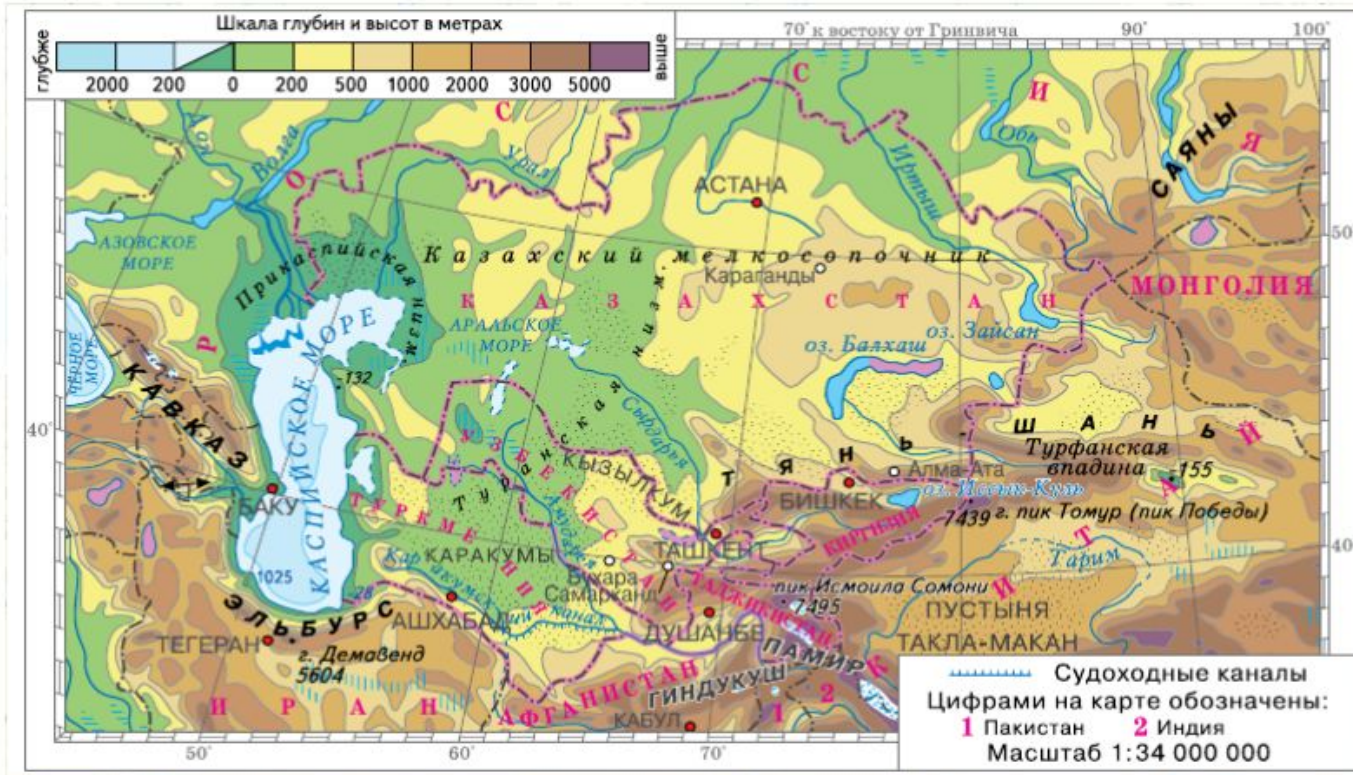


Рис. 127. Центральная Азия

1. Используя карты атласа, определите, в чём заключаются главные особенности физико-географического положения стран Центральной Азии.
2. Какое из государств Центральной Азии является самым большим по площади? Как называется его столица?
3. Какая страна Центральной Азии имеет границу с Россией?
4. Какие страны выходят к Каспийскому и Аральскому морям-озёрам?

Особенностями их экономико-географического положения являются удалённость от морских и океанических побережий, протяженных общих границ с **Россией и Китаем.**



Работа с картой

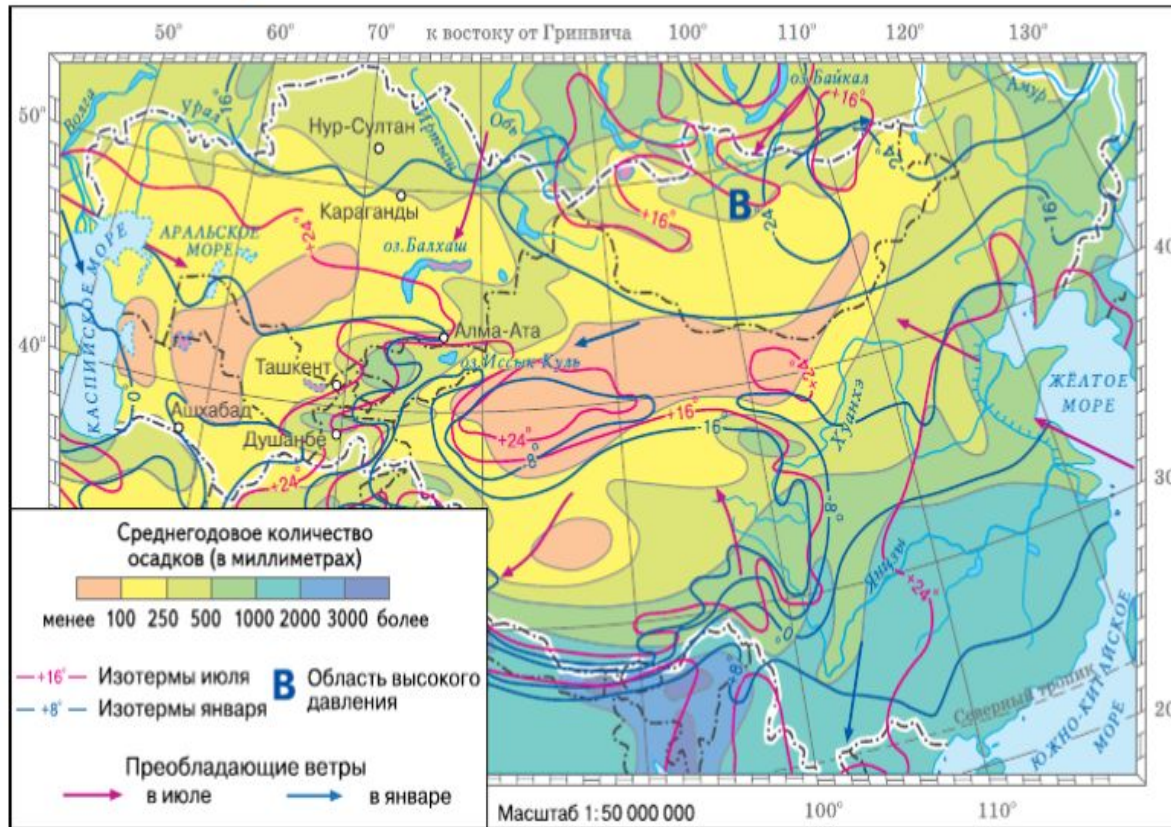



Рис. 129. Климатическая карта Центральной Азии

1. Проанализируйте карту и охарактеризуйте климат Центральной Азии, пользуясь планом в приложениях к учебнику.
2. Как на климат Центральной Азии повлияли такие климатообразующие факторы, как: 1) географическая широта; 2) удалённость от океанов; 3) рельеф; 4) особенности циркуляции атмосферы?




Для региона характерен континентальный климат с сухим жарким летом. Типичные ландшафты – **полупустыни** и **пустыни** (**Кара-кумы** и **Кызыл-кумы**). Только на севере, в Казахстане, распространены **степи**. **Леса** (хвойные и широколиственные) и **луга** встречаются только на северных и западных склонах высокогорий, задерживающих влагу западного переноса.



Внутренние воды распределены по территории крайне неравномерно. Большая часть региона относится к бассейну внутреннего стока. Крупнейшие реки региона - Амударья и Сырдарья.



Регион богат разнообразным минеральным сырьем. По запасам **природного газа, угля, бокситов, фосфоритов, золота, сурьмы, ртути, урановых руд** страны входят в число мировых лидеров.



Важной чертой географического положения Казахстана и Туркменистана является широкий выход к **Каспийскому морю**. На его шельфе ведется разработка месторождений **нефти** и **природного газа**. Активно используются **рыбные ресурсы** Каспия. Перспективным является развитие международного **морского туризма**.



Наибольшая численность населения в **Узбекистане** – **33 млн** чел. В **Казахстане** проживает около **18 млн**, в **Туркменистане**, **Киргизии** и **Таджикистане** численность населения не превышает **10 млн чел.**




Все государства многонациональны, но основную часть населения представляют титульные этносы. Преобладающей религией среди верующего населения



Уровень урбанизации в регионе невысокий. Лишь в **Казахстане** городское население численно преобладает над сельским, составляя **57%**. Наименее урбанизирован **Таджикистан** – в городах проживает всего **27 %** жителей. Большая часть горожан живет в крупных городах.



Самыми крупными во всех странах, за исключением Казахстана, являются столицы. В регионе два города-миллионера: **Ташкент** и **Алматы** (бывшая столица Казахстана). Самые древние города – **Самарканд** и **Бухара**.



Сельское хозяйство специализируется преимущественно на растениеводстве. Возможности его развития сильно ограничивает континентальный засушливый климат. На севере Казахстана и в предгорьях, где климат более мягкий, возделывают главную зерновую культуру – пшеницу. На значительных территориях земледелие возможно только при условии искусственного орошения – ирригации.



На поливных землях культивируют **рис** и технические культуры, главная среди которых – **хлопчатник**. По посевным площадям и валовому сбору **хлопка-сырца** Узбекистан входит в число мировых лидеров. В оазисах, межгорных долинах и предгорьях выращивают овощные (в том числе **бахчевые**) культуры, развито **садоводство** (**абрикосы, персики**) и **виноградарство**.



Производится первичная переработка хлопка-сырца, шерсти и шелка, поступающих на экспорт. Экспортное значение имеет **производство смушек** (шкурочек ягнят), в том числе каракульских. Традиционно **производство ковров** (в том числе ручное).



Молочное животноводство и птицеводство развивается в пригородных зонах крупных городов. Крупный рогатый скот разводят на севере Казахстана. В районах орошаемого земледелия развито **шелководство**.



В горных районах развито **пастбищное животноводство**. В пустынях разводят каракульские и мясо-шерстные породы **овец** и **коз**, одногорбых **верблюдов**. В горах преобладают мясо-шерстные породы овец, разводят **крупный рогатый скот** и **лошадей**, на Памире – **яков**.



Интенсивное орошение, которое долгое время проводилось с нарушением технических требований, – причина **серьезных экологических проблем** региона – **обмеления Аральского моря, засоления почв, опустынивания, снижения биологического**



Обмеление Аральского моря породило не только экологические, но и **социально-экономические проблемы**. Сократились рыбные ресурсы моря, свернулся рыбный промысел. Населенные пункты, находившиеся на берегах Арала, оказались среди безжизненной пустыни. Произошло **засоление** больших территорий. Без работы осталась значительная часть населения.



ЦЕНТРАЛЬНАЯ АЗИЯ: КАЗАХСТАН И ДРУГИЕ

ОБЩАЯ ХАРАКТЕРИСТИКА

- МНОГО РАВНИН И ГОР
- РЕЗКО КОНТИНЕНТАЛЬНЫЙ КЛИМАТ
- ВЫСОТНАЯ ПОЯСНОСТЬ
- СТЕПИ, ПОЛУПУСТЫНИ И ПУСТЫНИ
- МАЛО РЕК, ЕСТЬ ОАЗИСЫ
- ДРЕВНЕЙШЕЕ ЗАСЕЛЕНИЕ
- НАРОДЫ ПОХОЖИ
- ИСЛАМ, БУДДИЗМ
- НАСЕЛЕНИЕ - ЖИВЕТ В СЕЛАХ

Установи соответствие:

1.Казахстан

А. оз. Иссык-Куль

2.Кыргызстан

Б. Бухара

3.Туркмения

В. Памир

4.Узбекистан

Г. Граничит с
Россией

5.Таджикистан

Д. Каракумы (пуст.)