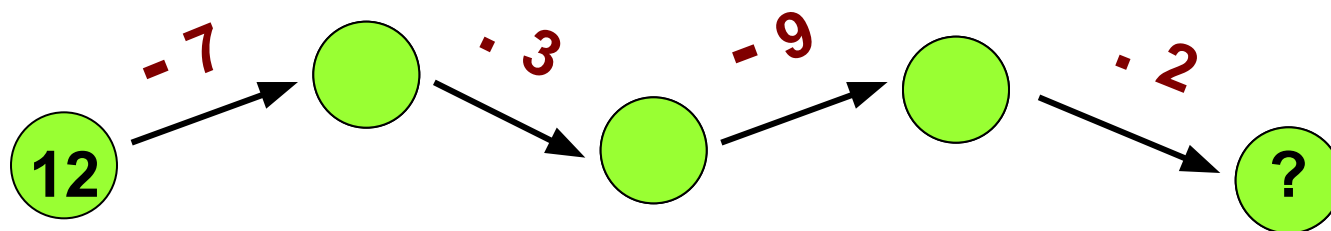
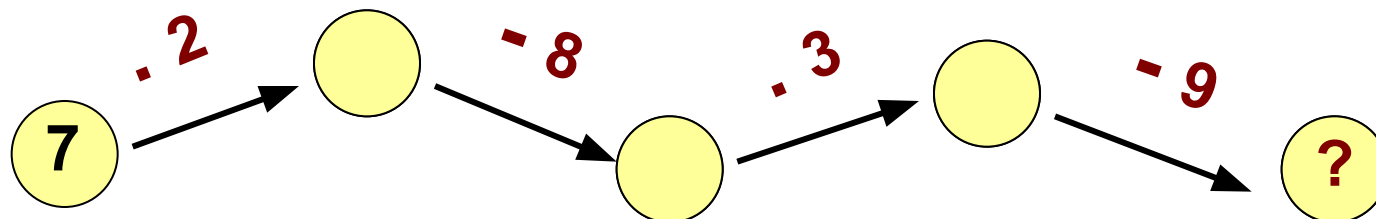




Умножение 7, 8, 9, 10

Устный счёт



Устно реши задачу

Света купила один стакан сока за 12 рублей, а второй на 7 рублей дороже. Сколько стоит второй стакан сока?



12 руб.



?, на 7 руб.
дороже

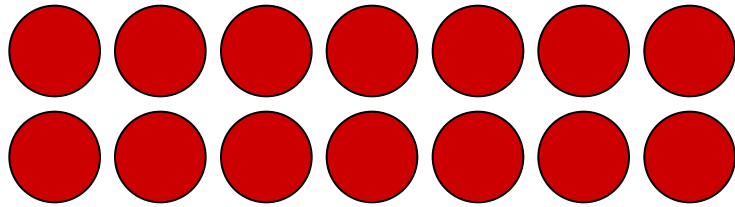


Устно реши задачу




В двух аквариумах плавали рыбки, по 9 рыбок в каждом. Сколько всего рыбок было в двух аквариумах?

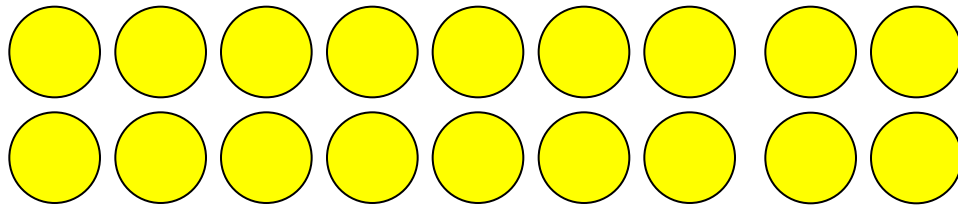
Вычисли



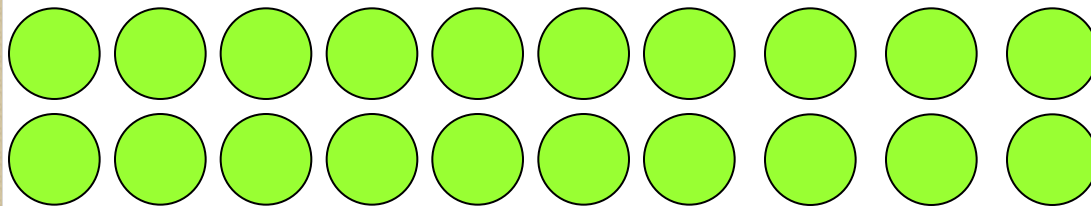
$$7 \cdot 2 = \square$$



$$8 \cdot 2 = \square$$



$$9 \cdot 2 = \square$$



$$10 \cdot 2 = \square$$

Устно реши задачу

В двух коробках было по 8 кг печенья в каждой, а в третьей коробке — 3 кг. Сколько всего килограммов печенья было в трёх коробках?



8 кг



8 кг



3 кг

Проверка

1) $8 \cdot 2 = 16$ (кг) – печенье в двух коробках

2) $16 + 3 = 19$ (кг)

Ответ: 19 кг печенья было в трёх коробках.

Домашнее задание

Выполнить в тетради - с. 67 № 3, № 6

Спасибо за внимание!

