

13 мая.

Домашняя работа.

Графический диктант.

Отступи 2 клетки слева, 9 клеток сверху, ставь точку и начинай рисовать:

1 →	2 →	2 →	1 ←	1 ←	2 ←	2 ←
1 ↑	2 ↑	1 ↑	2 ↓	1 ↑	1 ↓	1 ↑
1 →	9 →	2 →	1 →	1 ←	2 ←	2 ←
1 ↑	2 ↓	2 ↑	1 ↓	1 ↑	1 ↓	1 ↑
1 →	2 →	2 →	1 →	2 ←	8 ←	1 ←
1 ↑	1 ↓	3 ↓	2 ↓	1 ↓	1 ↑	2 ↑
2 →	2 →	1 ←	2 ←	1 ←	2 ←	
1 ↑	2 ↓	1 ↓	1 ↑	1 ↓	1 ↑	

Минутка чистописания

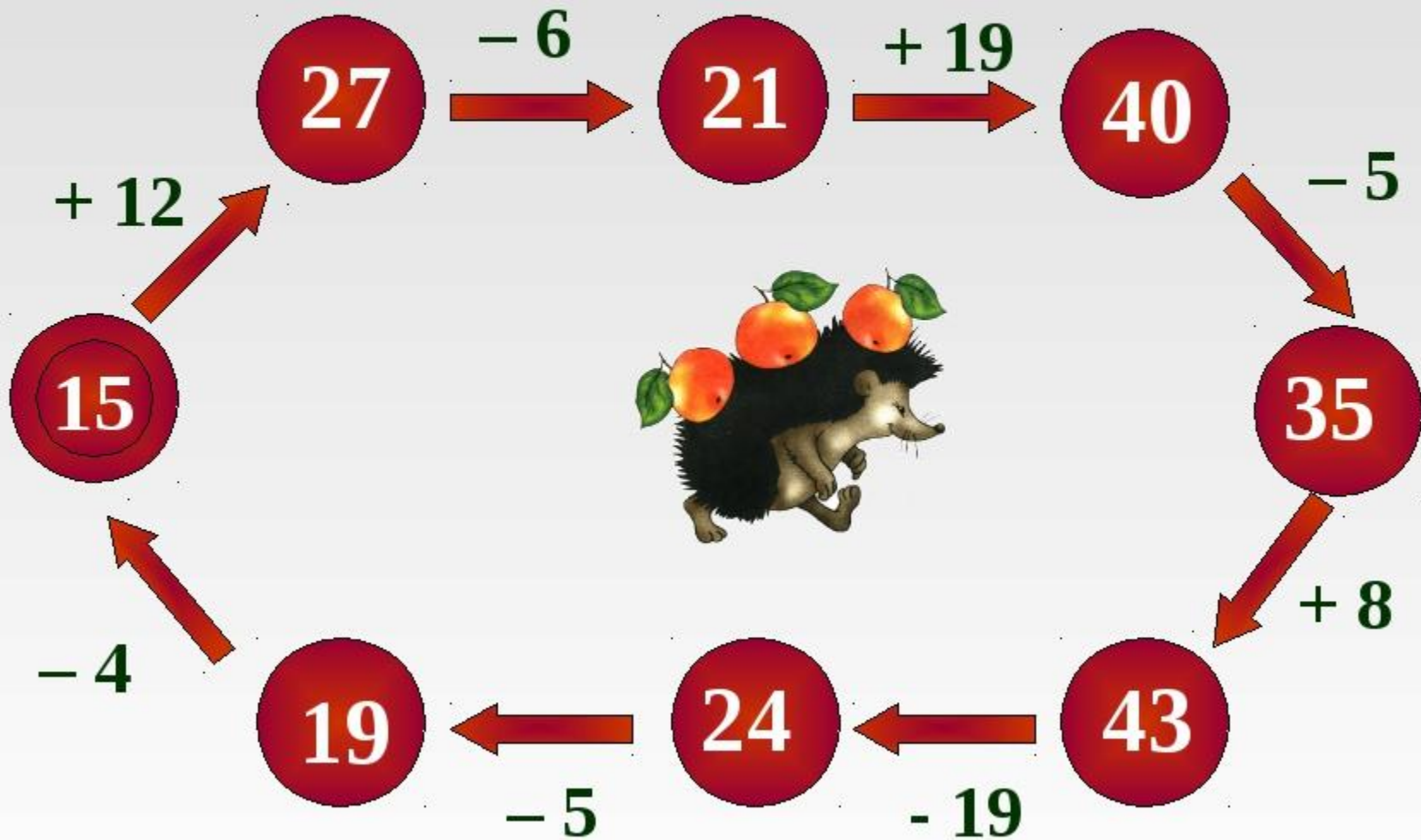
**Нужно выписать только те числа,
которые делятся на 2**

1 2 3 4 5 6 7 8 9 10 11 12 13 14 15 16 17 18 19 20

2 6 10 14 18
4 8 12 16 20

УСТНЫЙ СЧЁТ

Помоги ёжику!





3. Вставьте пропущенные знаки

16		2	= 8
2		7	= 14
8		2	= 4
10		5	= 2
9		2	= 18
14		7	= 2
4		2	= 8

12		2	= 6
5		2	= 10
2		8	= 16
2		2	= 4
18		3	= 6
4		2	= 2
2		6	= 12



ЦЛИ



Работа по учебнику стр.85

1. Заполни таблицу (устно)
№5.

2. Реши примеры №7
(письменно).

3. Найди периметр квадрата
№8.

4. Реши задачу №2.



Домашняя

Страница 85, №3,6.



- 2 - жёлтый
- 3 - малиновый
- 4 - салатный
- 5 - синий
- 6 - голубой
- 7 - красный
- 8 - розовый
- 9 - тёмно-коричневый
- 10 - зелёный

- 12 - оранжевый
- 16 - фиолетовый



Мне было всё понятно!



Были небольшие трудности!



Мне нужна была помощь.

