


Практическая работа

Солнечная радиация



Задание №1. В каком из перечисленных регионов России агроклиматические условия наиболее благоприятны для выращивания пшеницы?

- 1) Магаданская область
- 2) Пермский край
- 3) Псковская область
- 4) Ростовская область

Для того, что-бы выполнить это задание открой атлас страница **33** и сравни её с страницей **10-11**.

Задание №2. В каком из перечисленных регионов России многолетнее среднее значение высоты снежного покрова зимой наибольшее?

- 1.** Ставропольский край
- 2.** Камчатский край
- 3.** Калининградская область
- 4.** Ростовская область

Для того, что-бы выполнить это задание открой атлас страница **23** и сравни её с страницей **10-11.**

Задание №3. В каком из перечисленных регионов России агроклиматические условия наиболее благоприятны для производства сахарной свёклы?

- 1.** Республика Карелия
- 2.** Камчатский край
- 3.** Вологодская область
- 4.** Белгородская область

Для того, что-бы выполнить это задание открой атлас страница **33** и сравни её с страницей **10-11.**

Задание №4. В каком из перечисленных регионов России среднее значение высоты снежного покрова зимой **наименьшее?**

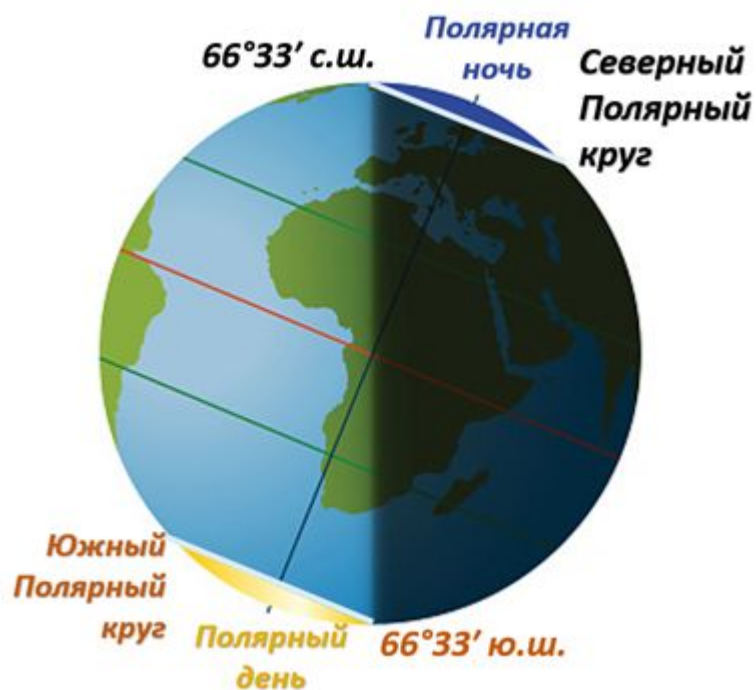
- 1.** Республика Калмыкия
- 2.** Камчатский край
- 3.** Мурманская область
- 4.** Новосибирская область

Для того, что-бы выполнить это задание открой атлас страница **23** и сравни её с страницей **10-11.**

Задание №5. На территории какого из перечисленных субъектов Российской Федерации наблюдаются полярные день и ночь?

1. Мурманская область
2. Пермский край
3. Ханты-Мансийский АО – Югра
4. Сахалинская область

Для того, что-бы выполнить это задание открой атлас страница **10-11.**



Задание №6. В каком из перечисленных регионов России многолетнее среднее значение высоты снежного покрова **наименьшее?**

- 1.** Астраханская область
- 2.** Республика Карелия
- 3.** Республика Коми
- 4.** Сахалинская область

Для того, что-бы выполнить это задание открой атлас страница **23** и сравни её с страницей **10-11.**

Задание № 7. В каком из перечисленных регионов России среднегодовая суммарная солнечная радиация на **1 м²** наибольшая?

- 1.** Астраханская область
- 2.** Псковская область
- 3.** Кировская область
- 4.** Магаданская область

Для того, что-бы выполнить это задание открой атлас страница **23** и сравни её с страницей **10-11.**

Задание № 8. В каком из перечисленных субъектов Российской Федерации многолетнее среднее значение высоты снежного покрова зимой наибольшее?

- 1.** Астраханская область
- 2.** Камчатский край
- 3.** Калининградская область
- 4.** Республика Калмыкия

Для того, что-бы выполнить это задание открой атлас страница **23** и сравни её с страницей **10-11.**

Задание № 9. В каком из перечисленных регионов России среднегодовая суммарная солнечная радиация на **1 м²** земной поверхности наибольшая?

- 1.** Краснодарский край
- 2.** Псковская область
- 3.** Камчатский край
- 4.** Калининградская область

Для того, что-бы выполнить это задание открой атлас страница **23** и сравни её с страницей **10-11**.

Задание № 10. В каком из перечисленных регионов России количество суммарной солнечной радиации за год наибольшее?

- 1.** Ставропольский край
- 2.** Кировская область
- 3.** Магаданская область
- 4.** Новгородская область

Для того, что-бы выполнить это задание открой атлас страница **23** и сравни её с страницей **10-11.**

Задание № 11. Главной причиной смены климатических поясов на территории России является изменение

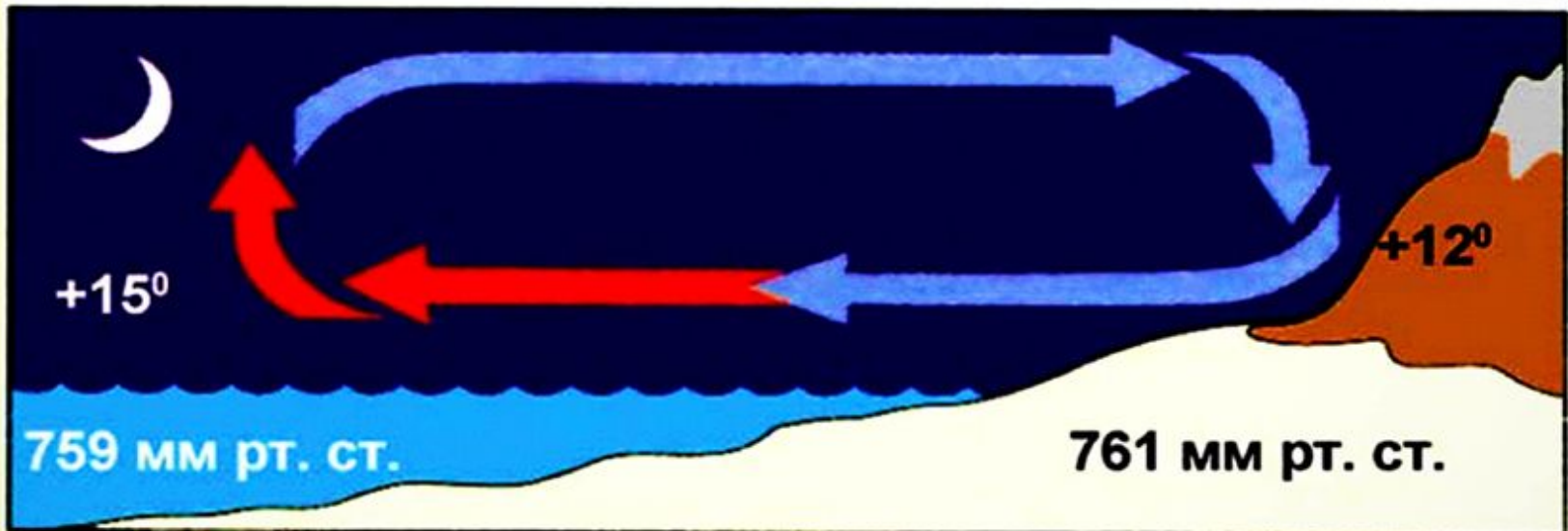
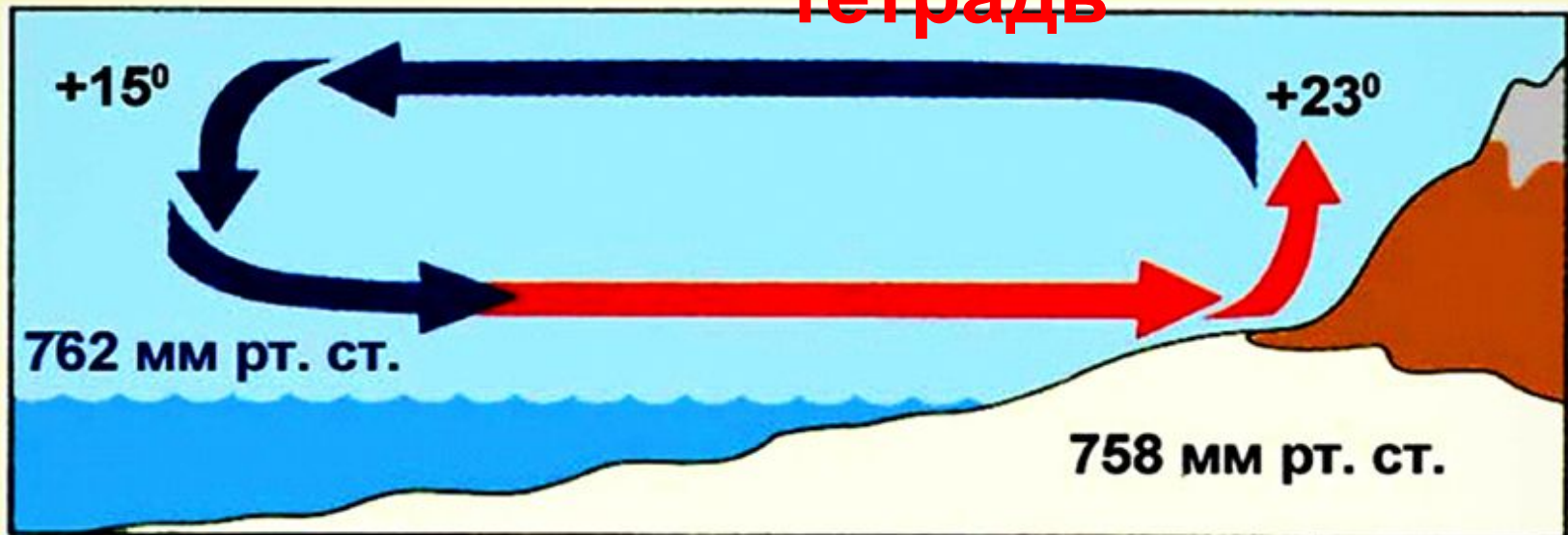
- 1.** типов почв
- 2.** характера рельефа
- 3.** соотношения тепла и влаги
- 4.** обеспеченности водными ресурсами

Задание № 12. Мы проехали от Средиземного моря до побережья Бискайского залива. И вот, наконец, конечный пункт нашего путешествия – город Ла-Рошель. В нём расположен порт прогулочных яхт. По узким улочкам мы проехали туда. Был тёплый летний день. Дул лёгкий бриз. Водное пространство залива было заполнено яхтами. В каком направлении дуют дневные бризы и почему они образуются на побережье океана?

Схемы образования бриза

Зарисуй картинку в тетрадь

Дневной бриз



Ночной бриз

Задание № 13. Для какого из перечисленных городов России характерны морские бризы?

- 1.** Чита
- 2.** Псков
- 3.** Новороссийск
- 4.** Челябинск